

Németh Sarolta

sokszínű
Matematika
KIDOLGOZOTT
TÉMAKÖRÖK

Emelt szint



ÉRETTISÉGI 2025

Tudnivalók a vizsgázók számára

A szóbeli vizsgán a tétel címében megjelölt téma kifejtését és a kitűzött feladat megoldását várják el a vizsgázóktól.

A tétel címében megjelölt témát logikusan, arányosan felépített, szabad előadásban, önállóan kell kifejtenie. A vizsgabizottság tagjai akkor kérdezhetnek közbe, ha teljesen helytelenül indult el, vagy nyilvánvaló, hogy elakadt.

Ehhez a felkészülési idő alatt célszerű vázlatot készítenie. Ebben tervezze meg a címben megjelölt témakör(ök)höz tartozó ismeretanyag rövid áttekintését, dolgozza ki azokat a részeket, amelyeket részletesen kifejt, oldja meg a feladatot! Vázlatát felelete közben használhatja.

A feleletben feltétlenül szerepelniük kell az alábbi részleteknek:

- egy, a témához tartozó, a vizsgázó választása szerinti definíció *pontos* kimondása;
- egy, a témához tartozó, a vizsgázó választása szerinti tétel *pontos* kimondása és bizonyítása;
- a kitűzött feladat megoldása;
- a téma matematikán belüli vagy azon kívüli alkalmazása, illetve matematikatörténeti vonatkozása (több *ismertetése* vagy egy *részletesebb bemutatása*).

Ha a tételhez tartozó kitűzött feladat bizonyítást igényel, akkor ennek a megoldása nem helyettesíti a témakörhöz tartozó tétel kimondását és bizonyítását.

Használható segédeszközök: a tételcímekekkel együtt nyilvánosságra hozott képlettár (a vizsgabizottság biztosítja), szöveges adatok tárolására és megjelenítésére nem alkalmas zsebszámológép, körző, vonalzó és szögmérő.

A tétellapra rajzolni és írni nem szabad!

Értékelés

A szóbeli vizsgán elérhető pontszám: 35. Az értékelés központi értékelési útmutató alapján történik.

Az értékelési szempontok:

A felelet tartalmi összetétele, felépítésének szerkezete	10 pont
Logikus felépítés, szerkesztettség, tartalmi gazdagság	6 pont
<i>Ebben a pontban kell értékelni a feleletben szereplő, a témához illő definícióknak, a kimondott tételnek és bizonyításának a nehézségét is.</i>	
A felelet matematikai tartalmi helyessége	4 pont
A feleletben szereplő, a témához illő definíció helyes kimondása	2 pont
<i>Ha több definíciót is elmond, akkor a definícióra adható 2 ponttal a legjobbat kell értékelni.</i>	
A feleletben szereplő, a témához illő tétel helyes kimondása és bizonyítása	6 pont
A tétel helyes kimondása	2 pont
A tétel helyes bizonyítása	4 pont
A kitűzött feladat helyes megoldása	8 pont
<i>Ha a felelő a feladatot csak a vizsgáztató segítségével tudja elkezdni, akkor maximum 5 pont adható.</i>	
Alkalmazások ismertetése	4 pont
<i>Egy, a tételhez illő alkalmazás vagy matematikatörténeti vonatkozás részletes kifejtése, vagy 3-4 lényegesen eltérő alkalmazás vagy matematikatörténeti vonatkozás rövid ismertetése.</i>	
Matematikai nyelvhasználat, kommunikációs készség	5 pont
Matematikai nyelvhasználat	2 pont
Önálló, folyamatos előadásmód	2 pont
Kommunikáció	1 pont
<i>Ez utóbbi 1 pont akkor is jár, ha a vizsgázó önálló felelete után nem volt szükség kérdésre.</i>	

Felhívjuk a figyelmet, hogy azoknál a témaköröknél, ahol a címben foglalt téma kifejtésének egyik legfontosabb része alkalmazások ismertetése, ott a matematikán kívüli alkalmazások felsorolását helyettesítheti egy matematikán belüli alkalmazás részletes ismertetése.

A matematika emelt szintű szóbeli vizsga témakörei (tételek) 2025.

1. Halmazok, halmazműveletek. Nevezetes ponthalmazok a síkban és a térben	4
2. Racionális és irracionális számok. Műveletek a racionális és irracionális számok halmazán. Közönséges és tizedes törtek. Halmazok számossága	12
3. Oszthatóság, oszthatósági szabályok és tételek. Prímszámok. Számrendszerek	18
4. A matematikai logika elemei. Logikai műveletek. Állítás és megfordítása, szükséges és elégséges feltételek, bemutatásuk tételek megfogalmazásában és bizonyításában	24
5. Hatványozás, a hatványfogalom kiterjesztése, a hatványozás azonosságai. Az n -edik gyök fogalma. A négyzetgyök azonosságai. Hatványfüggvények és a négyzetgyökfüggvény	29
6. A logaritmus fogalma és azonosságai. Az exponenciális és a logaritmusfüggvény. Az inverz függvény	36
7. Másodfokú egyenletek és egyenlőtlenségek. Másodfokúra visszavezethető egyenletek. Egyenletek ekvivalenciája, gyökvesztés, hamis gyök, ellenőrzés	42
8. A leíró statisztika jellemzői, diagramok. Nevezetes középértékek	47
9. Függvénytani alapismeretek, függvények tulajdonságai, határérték, folytonosság. Számsorozatok. A számtani sorozat, az első n tag összege	54
10. Mértani sorozat, az első n tag összege, végtelen mértani sor. Kamatszámítás, gyűjtőjára-dék, törlesztőrészlet. Exponenciális folyamatok a társadalomban és a természetben	60
11. A differenciálhányados fogalma, deriválási szabályok. A differenciálszámítás alkalmazásai (érintő, függvényvizsgálat, szélsőérték-feladatok)	65
12. Derékszögű háromszögekre vonatkozó tételek. A hegyesszögek szögfüggvényei. Össze-függések a hegyesszögek szögfüggvényei között. A szögfüggvények általánosítása	70
13. Háromszögek nevezetes vonalai, pontjai és körei	79
14. Összefüggések az általános háromszögek oldalai között, szögei között, oldalai és szögei között	84
15. Egybevágósági transzformációk, alakzatok egybevágósága. Szimmetria. Hasonlósági transzformációk. Hasonló síkidomok kerülete, területe, hasonló testek felszíne, térfogata. A hasonlóság alkalmazásai síkgeometriai tételek bizonyításában	88
16. Konvex sokszögek tulajdonságai. Szabályos sokszögek. Gráfok	95
17. A kör és részei. Kerületi szög, középponti szög, látószög. Húrnégyszögek, érintő-négyszögek	102
18. Vektorok, vektorműveletek. Vektorfelbontási tétel. Vektorok koordinátái. Skaláris szorzat	109
19. Szakaszok és egyenesek a koordinátasíkon. Párhuzamos és merőleges egyenesek. Elsőfokú egyenlőtlenségek, egyenletrendszerek grafikus megoldása	114
20. A kör és a parabola elemi úton és a koordinátasíkon. Kör és egyenes, parabola és egye-nes kölcsönös helyzete. Másodfokú egyenlőtlenségek grafikus megoldása	122
21. Tételek távolsága és szöge. Térbeli alakzatok. Felszín- és térfogatszámítás	129
22. Területszámítás elemi úton és az integrálszámítás felhasználásával	137
23. Kombinációk. Binomiális tétel, a Pascal-háromszög. A valószínűség kiszámításának kombinatorikus modellje. A hipergeometrikus eloszlás	143
24. Permutációk, variációk. A binomiális eloszlás. A valószínűség kiszámításának geometriai modellje	148
25. Bizonyítási módszerek és bemutatásuk tételek bizonyításában	153

Matematikatörténeti források:

Sain Márton: Matematikatörténeti ABC

Sain Márton: Nincs királyi út

1. Halmazok, halmazműveletek.

Nevezetes ponthalmazok a síkban és a térben

Vázlat:

- I. Halmazok, részhalmazok
 n elemű halmaz részhalmazainak száma
- II. Halmazműveletek (komplementer, unió, metszet, különbség), műveletek tulajdonságai
- III. Nevezetes ponthalmazok: kör (gömb), párhuzamos egyenespár (hengerfelület), szakaszfelező merőleges egyenes (sík), középpárhuzamos, szögfelező, parabola
- IV. Egyéb ponthalmazok: 3 ponttól, illetve 3 egyenestől egyenlő távolágra lévő pontok, látókörív
- V. Alkalmazások, matematikatörténeti vonatkozások

Kidolgozás:

I. Halmazok, részhalmazok

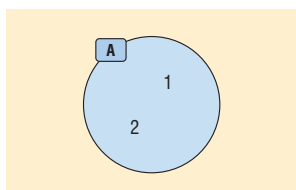
A **halmaz** és a **halmaz eleme** alapfogalom, ezeket a kifejezéseket nem definiáljuk. De a halmaz megadásának szigorú követelménye van: egy halmazt úgy kell megadnunk, hogy minden szóba jöhető dologról egyértelműen eldönthető legyen, hogy az adott halmazhoz tartozik, vagy sem.

A halmazokat nyomtatott nagybetűvel, a halmaz elemeit kisbetűvel jelöljük a következő módon:

$A = \{a; b; c\}$, ebben az esetben $a \in A$, $x \notin A$.

Halmaz megadási módjai:

- Elemeinek felsorolásával: $A = \{0; 2; 4; 6\}$
- Az elemeit egyértelműen meghatározó utasítással: $B = \{\text{egyjegyű páratlan számok}\}$
- Szimbólumokkal: $A = \{x \mid x^2 - x - 6 = 0\}$, $B = \{x \mid x^2 > 9\}$
- Venn-diagrammal:



DEFINÍCIÓ: **Két halmaz egyenlő**, ha ugyanazokat az elemeket tartalmazzák.

DEFINÍCIÓ: Az elem nélküli halmazt **üres halmaznak** nevezzük.

Jele: $\{ \}$ vagy \emptyset .

DEFINÍCIÓ: Az A halmaz **részhalmaza** a B halmaznak, ha A minden eleme a B halmaznak is eleme.

Jele: $A \subseteq B$.

DEFINÍCIÓ: Az A halmaz **valódi részhalmaza** a B halmaznak, ha A részhalmaza a B -nek, de nem egyenlő vele.

Jele: $A \subset B$.

Tulajdonságok:

- Az üres halmaz minden halmaznak részhalmaza: $\emptyset \subseteq A$.
- Minden halmaz önmaga részhalmaza: $A \subseteq A$.

- Ha $A \subseteq B$ és $B \subseteq A$, akkor $A = B$.
- Ha $A \subseteq B$ és $B \subseteq C$, akkor $A \subseteq C$.

TÉTEL: Az n elemű halmaz összes részhalmazainak száma: 2^n ($n \in \mathbb{N}$).

BIZONYÍTÁS I.: A bizonyítást teljes indukcióval végezzük, amelynek lényege, hogy először belátjuk egy konkrét n esetre az állítást, majd azt mutatjuk meg, ha az állítás igaz egy tetszőleges n -re, akkor igaz az őt követő $(n + 1)$ -re is, azaz bizonyítjuk az állítás öröklődését.

Az üres halmaznak egyetlen részhalmaza van: önmaga ($2^0 = 1$).

Egy egyelemű halmaznak 2 részhalmaza van: az üres halmaz és önmaga ($2^1 = 2$).

Egy kételemű halmaznak 4 részhalmaza van: az üres halmaz, 2 egyelemű halmaz és önmaga ($2^2 = 4$).

Tegyük fel, hogy egy k elemű halmaznak 2^k db részhalmaza van. Bizonyítani kell, hogy ez öröklődik, vagyis egy $(k + 1)$ elemű halmaznak 2^{k+1} db részhalmaza van.

Tekintsük az előbbi k elemű halmazt. Ekkor ha az eddigi elemek mellé egy $(k + 1)$ -edik elemet teszünk a halmazba, akkor ezzel megkétszerezzük a lehetséges részhalmazok számát, hiszen az új elemet vagy kiválasztjuk az eddigi részhalmazokba, vagy nem. Vagyis a $(k + 1)$ elemű halmaz részhalmazainak száma $2 \cdot 2^k = 2^{k+1}$, amit bizonyítani kívántunk.

BIZONYÍTÁS II.: Az n elemű halmaznak $\binom{n}{0}$ db 0 elemű, $\binom{n}{1}$ db 1 elemű, $\binom{n}{2}$ db 2 elemű, ...

$\binom{n}{n-1}$ db $n - 1$ elemű, $\binom{n}{n}$ db n elemű részhalmaza van, mert n elemből k db-ot kiválasztani $\binom{n}{k}$ -féleképpen lehet.

Így az összes részhalmazok száma: $\binom{n}{0} + \binom{n}{1} + \binom{n}{2} + \dots + \binom{n}{n-1} + \binom{n}{n}$.

Vizsgáljuk meg 2^n -t:

$2^n = (1+1)^n = \binom{n}{0} \cdot 1^0 \cdot 1^n + \binom{n}{1} \cdot 1^1 \cdot 1^{n-1} + \binom{n}{2} \cdot 1^2 \cdot 1^{n-2} + \dots + \binom{n}{n-1} \cdot 1^{n-1} \cdot 1^1 + \binom{n}{n} \cdot 1^n \cdot 1^0$, ami

egyenlő $\binom{n}{0} + \binom{n}{1} + \binom{n}{2} + \dots + \binom{n}{n-1} + \binom{n}{n}$ -nel a binomiális tétel miatt.

II. Halmazműveletek

DEFINÍCIÓ: Azt a halmazt, amelynek a vizsgált halmazok részhalmazai, **alaphalmaznak** vagy univerzumnak nevezzük. Jele: U vagy H .

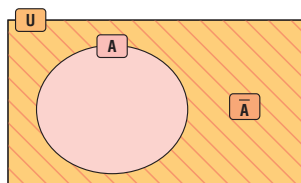
DEFINÍCIÓ: Egy A halmaz **komplementer halmazának** az alaphalmaz azon elemeinek halmazát nevezzük, amelyek az A halmaznak nem elemei. Jele: \bar{A} . (Fontos tulajdonság: $\bar{\bar{A}} = A$.)

DEFINÍCIÓ: Két vagy több halmaz **uniója** vagy egyesítése mindazon elemek halmaza, amelyek legalább az egyik halmaznak elemei. Jele: \cup .

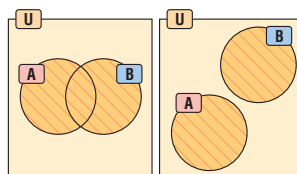
DEFINÍCIÓ: Két vagy több halmaz **metszete** vagy közös része pontosan azoknak az elemeknek a halmaza, amelyek mindegyik halmaznak elemei. Jele: \cap .

DEFINÍCIÓ: Két halmaz **diszjunkt**, ha nincs közös elemük, vagyis a metszetük üres halmaz. $A \cap B = \emptyset$.

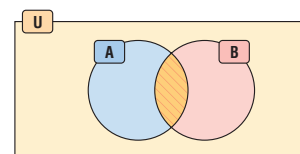
DEFINÍCIÓ: Az A és B halmaz **különbsége** az A halmaz mindazon elemeinek halmaza, amelyek a B halmaznak nem elemei. Jele: $A \setminus B$.



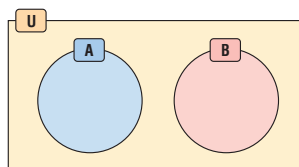
Komplementer halmaz



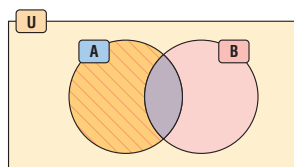
Két halmaz uniója



Két halmaz metszete



Diszjunkt halmazok



A és B halmaz $A \setminus B$ különbsége

Halmazműveletek tulajdonságai

Kommutatív (felcserélhető)	$A \cup B = B \cup A$	$A \cap B = B \cap A$
Asszociatív (csoportosítható)	$(A \cup B) \cup C = A \cup (B \cup C)$	$(A \cap B) \cap C = A \cap (B \cap C)$
Disztributív (széttagolható)	$A \cup (B \cap C) = (A \cup B) \cap (A \cup C)$	$A \cap (B \cup C) = (A \cap B) \cup (A \cap C)$
De Morgan-azonosságok	$\overline{A \cup B} = \bar{A} \cap \bar{B}$ és $\overline{A \cap B} = \bar{A} \cup \bar{B}$	
További azonosságok	$A \cup \emptyset = A$ $A \cup A = A$ $A \cup \bar{A} = U$ $A \cup U = U$ $\overline{\bar{A}} = A$	$A \cap \emptyset = \emptyset$ $A \cap A = A$ $A \cap \bar{A} = \emptyset$ $A \cap U = A$

III. Nevezetes ponthalmazok a síkban és a térben

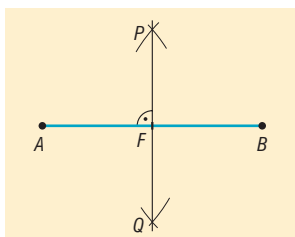
DEFINÍCIÓ: Azoknak a pontoknak a halmaza a síkon, amelyek a sík egy adott O pontjától adott r távolságra vannak, egy O középpontú, r sugarú **kör**.

DEFINÍCIÓ: Azoknak a pontoknak a halmaza a térben, amelyek a tér adott O pontjától adott r távolságra vannak, egy O középpontú, r sugarú **gömb**.

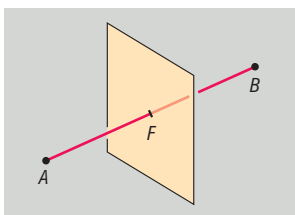
DEFINÍCIÓ: Adott egyenestől adott távolságra lévő pontok halmaza a síkon az egyenessel **párhuzamos egyenespár**.

DEFINÍCIÓ: Adott egyenestől adott távolságra lévő pontok halmaza a térben olyan **hengerfelület**, amelynek tengelye az adott egyenes.

DEFINÍCIÓ: Két ponttól egyenlő távolságra lévő pontok halmaza a síkban a **szakasz felezőmerőleges egyenese**.

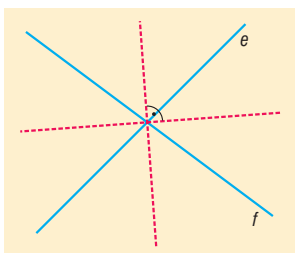


DEFINÍCIÓ: Két ponttól egyenlő távolságra lévő pontok halmaza a térben a **szakasz felezőmerőleges síkja**.



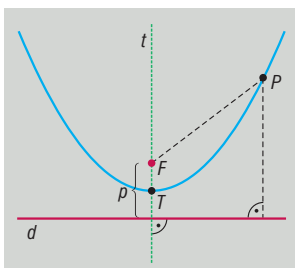
DEFINÍCIÓ: Két párhuzamos egyenestől egyenlő távolságra lévő pontok halmaza a síkban olyan egyenes, amely a két adott egyenessel párhuzamos és távolságukat felezi (**középpárhuzamos**).

DEFINÍCIÓ: Két metsző egyenestől egyenlő távolságra lévő pontok halmaza az általuk bezárt szögek **szögfelező egyenesei**. Két ilyen egyenes van, ezek merőlegesek egymásra.



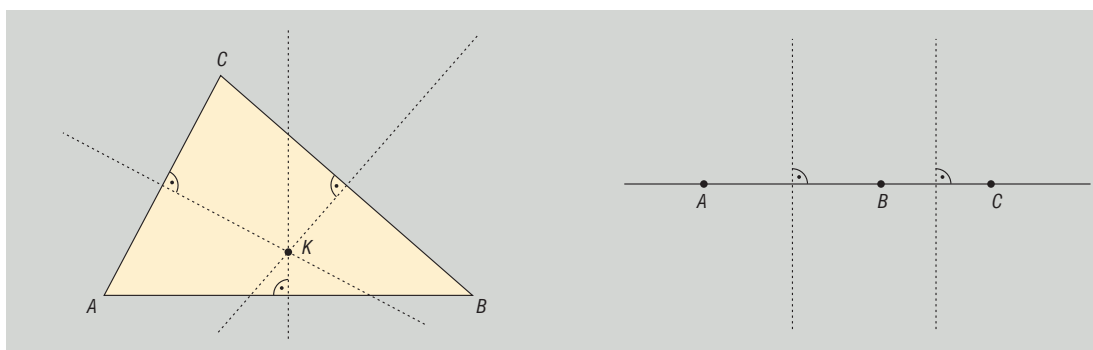
DEFINÍCIÓ: Egy egyenestől és egy rajta kívül lévő ponttól egyenlő távolságra lévő pontok halmaza a síkon: a **parabola**.

Az adott F pont a parabola fókuszpontja, az adott v egyenes a parabola vezéregyenes (direktrix), a pont és az egyenes távolsága a parabola paramétere.



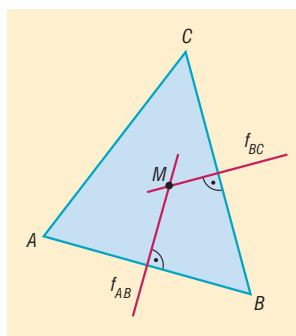
IV. Egyéb ponthalmazok

TÉTEL: Három adott ponttól egyenlő távolságra lévő pontok halmaza a síkon egy pont (ha a 3 pont nem esik egy egyenesre), vagy üres halmaz (ha a 3 pont egy egyenesre esik).



TÉTEL: A háromszög három oldalfelező merőlegese egy pontban metszi egymást.

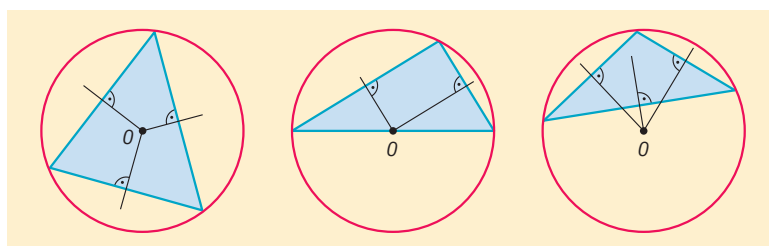
BIZONYÍTÁS: Tekintsük az ABC háromszög AB és BC oldalának oldalfelező merőlegesét. Ezek az egyenesek metszik egymást, mert a háromszög oldalai nem lehetnek párhuzamosak egymással. Jelöljük a két oldalfelező merőleges metszéspontját M -mel. Ekkor M pont egyenlő távolságra van A és B csúcsoktól (mert M illeszkedik AB szakaszfelező merőlegesére), illetve B és C csúcsoktól (mert M illeszkedik BC szakaszfelező merőlegesére). Ebből következik, hogy M egyenlő távolságra van A és C csúcsoktól, tehát M -en áthalad AC oldalfelező merőlegese. Tehát a három oldalfelező merőleges egy pontban metszi egymást.



TÉTEL: A háromszög oldalfelező merőlegeseinek metszéspontja a háromszög köré írt kör középpontja.

BIZONYÍTÁS: Az előbbi bizonyítás szerint M egyenlő távolságra van A -tól, B -től és C -től. Legyen ez a távolság $MA = MB = MC = r$. Ekkor A , B és C pontok r távolságra vannak M -től, azaz illeszkednek egy M középpontú, r sugarú körre.

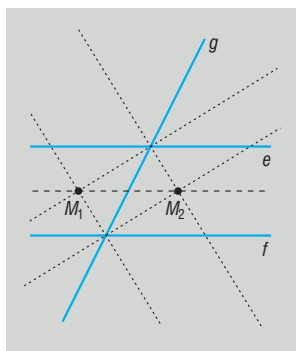
A háromszög köré írt kör középpontja hegyesszögű háromszög esetén a háromszögön belül, derékszögű háromszög esetén az átfogó felezőpontjába, tompaszögű háromszög esetén a háromszögön kívülre esik.



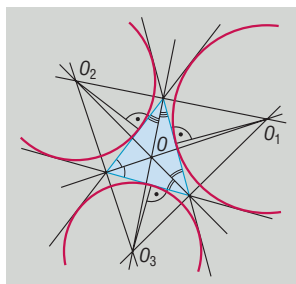
TÉTEL: Három adott ponttól egyenlő távolságra lévő pontok halmaza a térben egy olyan egyenes, amely áthalad a három pont mint háromszög köré írható kör középpontján, és merőleges a 3 pont síkjára (ha a 3 pont nem esik egy egyenesbe), vagy üres halmaz (ha a 3 pont egy egyenesbe esik).

TÉTEL: Három egyenestől egyenlő távolságra lévő pontok halmaza a síkon:

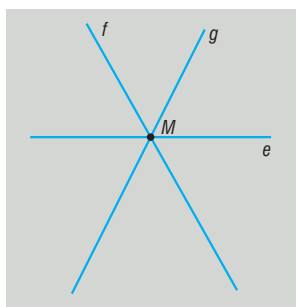
- Ha a 3 egyenes párhuzamos, akkor üres halmaz.
- Ha 2 egyenes párhuzamos ($e \parallel f$), egy pedig metszi őket (g), akkor a 2 párhuzamos egyenes középpárhuzamosán két olyan pont, amelyek illeszkednek két metsző egyenes (pl. e és g) szögfelezőire.



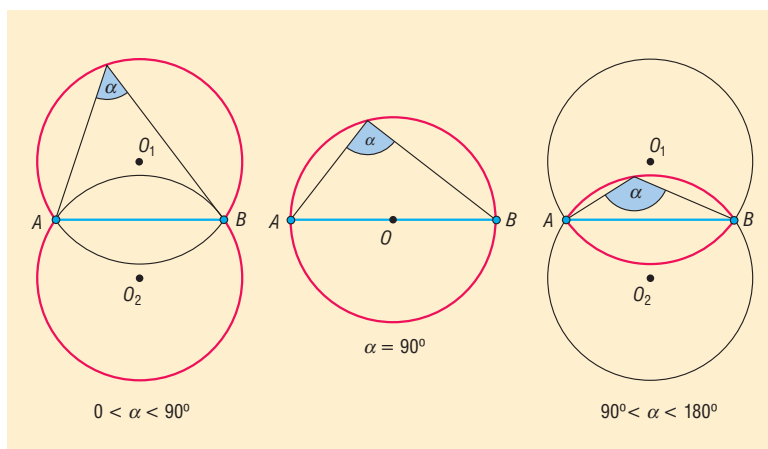
- Ha a 3 egyenes 3 különböző pontban metszi egymást, akkor szögfelező egyeneseik metszéspontjai. 4 ilyen pont van, az egyik **a háromszög beírt körének**, 3 pedig **a háromszög hozzáírt köreinek** középpontja.



- Ha a 3 egyenes egy pontban metszi egymást, akkor egyetlen pont, a 3 egyenes metszéspontja.

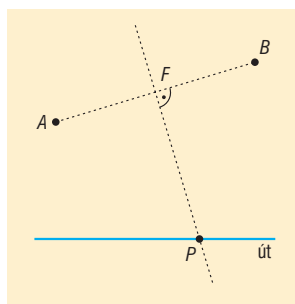


DEFINÍCIÓ: Azoknak a pontoknak a halmaza a síkon, amelyekből egy adott szakasz adott α szögben ($0^\circ < \alpha < 180^\circ$) látszik két, a szakasz egyenesére szimmetrikusan elhelyezkedő körív (látókörvék).



V. Alkalmazások

- Biológiában a rendszertan, kémiában a periódusos rendszerbeli csoportosítás is halmazelméleti fogalmak. Műveletek: melyik csoport melyiknek részhalmaza?
- Vércsoport szerint az emberek különböző halmazokba sorolhatók. Műveletek: ki kinek adhat vért?
- Európa országai hivatalos nyelvük alapján halmazokba sorolhatók. Műveletek: melyik országban hivatalos nyelv az angol vagy a német?
- Az érettségien a nem kötelező tárgyak választása szerint is halmazokba sorolhatók a vizsgázók. Műveletek: ki vizsgázik kémiából és biológiából is?
- A függvényekkel kapcsolatban is használjuk a halmazokat (értelmezési tartomány, értékészlet).
- Egyenletek értelmezési tartományának vizsgálatakor számhalmazok metszetét képezzük.
- A koordináta-geometriában a kör, a parabola egyenletének felírásakor az adott görbe definícióját használjuk fel.
- Látókörvék: egy téglalap egyik oldala a szomszédos oldal mely pontjából látszik a legnagyobb szögben (színház, sportpálya).
- Szerkesztési feladatokban: háromszög szerkesztése egy oldal, a vele szemkötti szög és az oldalhoz tartozó magasság ismeretében, vagy adott egy pont és egy egyenes, szerkesszük meg az egyenest érintő, a ponton áthaladó, adott sugarú köröket.
- Parabolaantennák.
- Két tanya közös postaládát kap az országút mentén. Hova helyezzék, hogy mindkét tanyától egyenlő távolságra legyen?



Matematikatörténeti vonatkozások:

- A halmazok szemléltetésére először **Euler** (1707–1783) német matematikus használt köröket. Az ő jelölésrendszerét finomította később **Venn** (1834–1923) angol matematikus, ez a jelölés terjedt el, amit Venn-diagramnak nevezünk.
- A halmazelmélet megteremtése **Cantor** (1845–1918) német matematikushoz fűződik. Kortársai többsége nem értette meg a végtelen halmazok számosságával kapcsolatos gondolatait: a természetes számok halmaza valódi részhalmaza a racionális számok halmazának, számosságuk mégis egyenlő. Meghatározása szerint két halmaz egyenlő számosságú, ha elemeik között kölcsönösen egyértelmű hozzárendelés létesíthető. Hozzá fűződik a megszámlálható halmazok fogalma. A róla elnevezett Cantor-féle átlós eljárással bizonyította, hogy a valós számok nem megszámlálhatóak.

2. Racionális és irracionális számok.

Műveletek a racionális és irracionális számok halmazán.

Közönséges és tizedes törtek. Halmazok számossága

Vázlat:

- I. Számhalmazok: természetes, egész, racionális, irracionális, valós számok, ezek zártága
- II. Műveletek a racionális számok halmazán
- III. Műveletek az irracionális számok halmazán
- IV. Műveleti tulajdonságok: kommutativitás, asszociativitás, disztributivitás
- V. Közönséges és tizedes törtek
- VI. Halmazok számossága: véges, végtelen (megszámlálhatóan, illetve nem megszámlálhatóan végtelen) halmazok
- VII. Alkalmazások, matematikatörténeti vonatkozások

Kidolgozás:

I. Számhalmazok

DEFINÍCIÓ: A **természetes számok** halmaza (\mathbb{N}) a pozitív egész számokból és a 0-ból áll.

A természetes számok halmaza zárt az összeadásra és a szorzásra nézve, azaz bármely két természetes szám összege és szorzata természetes szám. Ugyanakkor a kivonás és az osztás már nem végezhető el ezen a halmazon belül, ezek a műveletek „kimutatnak” a halmazból. Pl. $3 - x = 5$ egyenlet megoldása.

DEFINÍCIÓ: Az **egész számok** halmaza (\mathbb{Z}) a természetes számokból és azok ellentettjeiből áll.

Az egész számok halmaza az összeadáson és a szorzáson kívül a kivonásra nézve is zárt, ugyanakkor az osztás kimutathat a halmazból. Pl. $2x + 3 = 4$ egyenlet megoldása.

DEFINÍCIÓ: A **racionális számok** halmaza (\mathbb{Q}) azokból a számokból áll, amelyek felírhatók két egész szám hányadosaként, azaz $\frac{a}{b}$ alakban, ahol $a, b \in \mathbb{Z}$, $b \neq 0$.

A racionális számok halmaza mind a 4 alpműveletre zárt (osztásra, ha az osztó nem 0), de itt is találunk olyan egyenletet, amelynek nincs megoldása ezen a halmazon. Pl.: $2x^2 - 3 = 0$.

DEFINÍCIÓ: Azokat a számokat, amelyek nem írhatók fel két egész szám hányadosaként, **irracionális számoknak** (\mathbb{Q}^*) nevezzük.

TÉTEL: $\sqrt{2}$ irracionális szám.

BIZONYÍTÁS: A bizonyítást indirekt módon végezzük, lényege, hogy a bizonyítandó állítás tagadásáról bebizonyítjuk, hogy az hamis. Ez azt jelenti, hogy a bizonyítandó állítás igaz.

Tegyük fel, hogy $\sqrt{2}$ racionális szám, azaz felírható $\frac{a}{b}$ alakban, ahol $a, b \in \mathbb{Z}$, $b \neq 0$.

$$\text{Ekkor } \sqrt{2} = \frac{a}{b} \Rightarrow 2 = \frac{a^2}{b^2} \Rightarrow 2 \cdot b^2 = a^2.$$

Az egyenlet jobb oldalán szereplő (a^2) szám prímtényezői felbontásában a 2 mindenféleképpen páros kitevőn (akár a nulladikon) szerepel, míg a bal oldalon levő szám ($2 \cdot b^2$) prímtényezői felbontásában a 2 kitevője páratlan (legkevesebb 1).

Ez azonban lehetetlen, hiszen a számelmélet alaptétele szerint egy pozitív egész számnak nincs két lényegesen különböző felbontása.

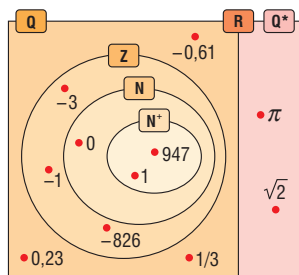
Tehát nem igaz az indirekt feltevésünk, vagyis igaz az eredeti állítás: $\sqrt{2}$ irracionális.

Tulajdonságok:

- Az irracionális számok halmaza nem zárt a 4 alpműveletre $(\sqrt{2} + (-\sqrt{2})) = 0 \notin \mathbb{Q}^*$, $\sqrt{2} - \sqrt{2} = 0 \notin \mathbb{Q}^*$, $\sqrt{2} \cdot \sqrt{2} = 2 \notin \mathbb{Q}^*$, $\sqrt{2} : \sqrt{2} = 1 \notin \mathbb{Q}^*$. Tehát két irracionális szám összege, különbsége, szorzata, hányadosa lehet racionális szám.
- Az irracionális számok tizedes tört alakja végtelen nem szakaszos tizedes tört.

DEFINÍCIÓ: A racionális és az irracionális számok halmaza diszjunkt halmazok ($\mathbb{Q} \cap \mathbb{Q}^* = \emptyset$), a két halmaz egyesítése a valós számok halmaza: $\mathbb{R} = \mathbb{Q} \cup \mathbb{Q}^*$.

A valós számok halmaza zárt a 4 alpműveletre. A valós számok és részhalmazai:



II. Műveletek a racionális számok halmazán

Egy közös nevezőre hozott tört értéke nem, csak az alakja változik, ha a számlálóját és a nevezőjét ugyanazzal a 0-tól különböző számmal szorozzuk (bővítés), vagy ugyanazzal a 0-tól különböző számmal osztjuk (egyszerűsítés).

Ha a racionális számok közös nevezőre hozott alakúak, akkor a következő szabályokkal lehet elvégezni az alpműveleteket:

• Összeadás és kivonás:

Csak azonos nevezőjű törtet lehet összeadni, kivonni, ezért közös nevezőre hozzuk a törtet, vagyis a törtet bővítjük egy közös többszörösű nevezőre (legjobb, ha a legkisebb közös többszörösű nevezőre, mert így tudunk a legkisebb számokkal számolni):

$$\frac{a}{b} \pm \frac{c}{d} = \frac{a \cdot d}{b \cdot d} \pm \frac{c \cdot b}{d \cdot b} = \frac{a \cdot d \pm c \cdot b}{b \cdot d}, \text{ ahol } b, d \neq 0.$$

Ha a nevezők (b és d) relatív prímek, akkor a legkisebb közös többszörösük a szorzatuk.

• Szorzás:

Törtet törttel úgy szorzunk, hogy a számlálót a számlálóval, a nevezőt a nevezővel szorozzuk:

$$\frac{a}{b} \cdot \frac{c}{d} = \frac{a \cdot c}{b \cdot d}, \text{ ahol } b, d \neq 0.$$

Egész számmal úgy szorzunk törtet, hogy törtként írjuk fel a szorzót $(c = \frac{c}{1})$, vagyis igazából a számlálót megszorozzuk, a nevezőt változatlanul hagyjuk.

• Osztás:

Törtet törttel úgy osztunk, hogy a változatlan osztandót szorozzuk az osztó reciprokával:

$$\frac{a}{b} : \frac{c}{d} = \frac{a}{b} \cdot \frac{d}{c} = \frac{a \cdot d}{b \cdot c}, \text{ ahol } b, c, d \neq 0.$$

Egész számmal úgy osztunk, hogy törtként írjuk fel az osztót $\left(c = \frac{c}{1}\right)$, vagyis igazából a nevezőt megszorozzuk, a számlálót változatlanul hagyjuk, vagy (egyszerűsíthető esetben) a számlálót osztjuk, a nevezőt változatlanul hagyjuk.

III. Műveletek az irracionális számok halmazán

Az alpműveletek definiálhatók az irracionális számok körében úgy, hogy az eddigi azonosságok életben maradjanak. Mivel tizedes tört alakjuk végtelen, nem periodikus, így azt csak közelítően tudjuk megadni. Ezért a pontos értékeket pl. hatvány, gyök, logaritmus alakban adjuk meg, ilyenkor viszont a megfelelő műveleti szabályokkal dolgozunk.

IV. Műveleti tulajdonságok: $a, b, c \in \mathbb{R}$ esetén

1. az összeadás és a szorzás kommutatív (felcserélhető)

$$a + b = b + a \quad \text{és} \quad a \cdot b = b \cdot a$$

2. az összeadás és a szorzás asszociatív (csoportosítható)

$$(a + b) + c = a + (b + c) \quad \text{és} \quad (a \cdot b) \cdot c = a \cdot (b \cdot c)$$

3. a szorzás az összeadásra nézve disztributív (széttagolható)

$$(a + b) \cdot c = a \cdot c + b \cdot c$$

V. Közöséges és tizedes törtek

A közöséges törtek formái lehetnek:

Az $\frac{a}{b}$ közöséges tört, vagyis az $\frac{a}{b}$ hányados a következő alakokban fordulhat elő ($a, b \in \mathbb{Z}$, $b \neq 0$, és a tört végsőkéig leegyszerűsített, azaz a és b legnagyobb közös osztója 1):

- egész szám, ha b osztója a -nak,
- véges tizedes tört, ha b prímtényezőss felbontásában a 2 és az 5 számokon kívül nincs más prímszám,
- végtelen szakaszos tizedes tört, ha b prímtényezőss felbontásában a 2 és az 5 számokon kívül más prímszám is van.

Összefoglalva:

A racionális számok a következő alakúak: közöséges törtek, egészek, véges vagy végtelen szakaszos tizedes törtek.

A tizedes törtek formái lehetnek:

- véges tizedes törtek, ezek felírhatók közöséges tört alakban. Pl. $2,3 = \frac{23}{10}$.
- végtelen tizedes törtek:
 - szakaszos tizedes törtek, ezek felírhatók közöséges tört alakban. Pl. végtelen mértani sor összegeként, vagy a következő módszerrel:

$$\begin{aligned} 2,354545\dots &= x \\ 235,454545\dots &= 100x. \end{aligned}$$

A két egyenletet kivonva egymásból

$$233,1 = 99x \Rightarrow x = \frac{233,1}{99} = \frac{2331}{990}$$

- nem szakaszos tizedes törtek **nem** írhatók át közöséges tört alakba.

Összefoglalva:

A közösleges törtek mind felírhatók tizedes tört alakban (egész, véges, végtelen szakaszos tört alakban).

A nem szakaszos tizedes törtek mind irracionális számok, tehát nem írhatók fel két egész szám hányadosaként, tehát nem közösleges törtek. Ebből következik, hogy nem minden tizedes tört közösleges tört.

VI. Halmazok számossága

DEFINÍCIÓ: Egy A **halmaz számossága** az A halmaz elemeinek számát jelenti. Jele: $|A|$. Egy halmaz számossága lehet véges vagy végtelen.

DEFINÍCIÓ: Egy halmaz **véges halmaz**, ha elemeinek számát egy természetes számmal megadhatjuk. Ellenkező esetben, azaz ha a halmaz elemeinek számát nem adhatjuk meg természetes számmal, akkor **végtelen halmazról** beszélünk.

DEFINÍCIÓ: A végtelen halmazok között találhatunk olyat, melynek elemei sorba rendezhetők, tehát megadható az 1., 2., 3., 4., ... eleme. A pozitív természetes számokkal megegyező számosságú halmazokat **megszámlálhatóan végtelen halmazoknak** nevezzük.

A megszámlálhatóság és a sorba rendezhetőség egy végtelen halmaznál ugyanazt jelenti.

Minden olyan halmaz megszámlálhatóan végtelen számosságú, amelynek elemei és a természetes számok között kölcsönösen egyértelmű megfeleltetés létesíthető.

Megszámlálhatóan végtelen számosságúak: Pl. egész számok, páros számok, négyzetszámok, racionális számok.

TÉTEL: Az egész számok halmaza megszámlálhatóan végtelen halmaz.

BIZONYÍTÁS: Írjuk fel az egész számokat rendezett sorrendben a következő módon: 0, +1, -1, +2, -2, +3, -3, Ezzel a rendezéssel minden egész számot felsoroltunk, egyértelműen meg tudjuk határozni a sorba rendezés n -edik elemét, így az egész számok halmazának számossága megegyezik a természetes számokéval, vagyis megszámlálhatóan végtelen halmaz.

TÉTEL: A racionális számok halmaza megszámlálhatóan végtelen halmaz.

BIZONYÍTÁS: A racionális számok $\frac{a}{b}$ alakúak, ahol $a, b \in \mathbb{Z}, b \neq 0$. Képezzük a következő táblázat szerint az a számlálóból és a b nevezőből álló racionális számokat:

$\frac{a}{b}$	0	+1	-1	+2	-2	+3	-3	+4	-4	...
+1	$\frac{0}{+1} = 0$	$\frac{+1}{+1} = +1$	$\frac{-1}{+1} = -1$	$\frac{+2}{+1} = +2$	$\frac{-2}{+1} = -2$	$\frac{+3}{+1} = +3$	$\frac{-3}{+1} = -3$	$\frac{+4}{+1} = +4$	$\frac{-4}{+1} = -4$...
-1	$\frac{0}{-1} = 0$	$\frac{+1}{-1} = -1$	$\frac{-1}{-1} = +1$	$\frac{+2}{-1} = -2$	$\frac{-2}{-1} = +2$	$\frac{+3}{-1} = -3$	$\frac{-3}{-1} = +3$	$\frac{+4}{-1} = -4$	$\frac{-4}{-1} = +4$...
+2	$\frac{0}{+2} = 0$	$\frac{+1}{+2} = \frac{+1}{+2}$	$\frac{-1}{+2} = -\frac{1}{+2}$	$\frac{+2}{+2} = +1$	$\frac{-2}{+2} = -1$	$\frac{+3}{+2} = \frac{+3}{+2}$	$\frac{-3}{+2} = -\frac{3}{+2}$	$\frac{+4}{+2} = +2$	$\frac{-4}{+2} = -2$...
-2	$\frac{0}{-2} = 0$	$\frac{+1}{-2} = -\frac{1}{+2}$	$\frac{-1}{-2} = \frac{+1}{+2}$	$\frac{+2}{-2} = -1$	$\frac{-2}{-2} = +1$	$\frac{+3}{-2} = -\frac{3}{+2}$	$\frac{-3}{-2} = \frac{+3}{+2}$	$\frac{+4}{-2} = -2$	$\frac{-4}{-2} = +2$...
+3	$\frac{0}{+3} = 0$	$\frac{+1}{+3} = \frac{+1}{+3}$	$\frac{-1}{+3} = -\frac{1}{+3}$	$\frac{+2}{+3} = \frac{+2}{+3}$	$\frac{-2}{+3} = -\frac{2}{+3}$	$\frac{+3}{+3} = +1$	$\frac{-3}{+3} = -1$	$\frac{+4}{+3} = \frac{+4}{+3}$	$\frac{-4}{+3} = -\frac{4}{+3}$...
-3	$\frac{0}{-3} = 0$	$\frac{+1}{-3} = -\frac{1}{+3}$	$\frac{-1}{-3} = \frac{+1}{+3}$	$\frac{+2}{-3} = -\frac{2}{+3}$	$\frac{-2}{-3} = \frac{+2}{+3}$	$\frac{+3}{-3} = -1$	$\frac{-3}{-3} = +1$	$\frac{+4}{-3} = -\frac{4}{+3}$	$\frac{-4}{-3} = \frac{+4}{+3}$...
+4	$\frac{0}{+4} = 0$	$\frac{+1}{+4} = \frac{+1}{+4}$	$\frac{-1}{+4} = -\frac{1}{+4}$	$\frac{+2}{+4} = \frac{+2}{+4}$	$\frac{-2}{+4} = -\frac{2}{+4}$	$\frac{+3}{+4} = \frac{+3}{+4}$	$\frac{-3}{+4} = -\frac{3}{+4}$	$\frac{+4}{+4} = +1$	$\frac{-4}{+4} = -1$...
-4	$\frac{0}{-4} = 0$	$\frac{+1}{-4} = -\frac{1}{+4}$	$\frac{-1}{-4} = \frac{+1}{+4}$	$\frac{+2}{-4} = -\frac{2}{+4}$	$\frac{-2}{-4} = \frac{+2}{+4}$	$\frac{+3}{-4} = -\frac{3}{+4}$	$\frac{-3}{-4} = \frac{+3}{+4}$	$\frac{+4}{-4} = -1$	$\frac{-4}{-4} = +1$...
		⋮	⋮	⋮	⋮	⋮	⋮	⋮	⋮	

A képzés módszere szerint minden racionális számot felsoroltunk, némelyeket többször is. A piros vonal mentén sorba rendezzük a kapott számokat. A képzés módszere és a felfűzés sorrendje miatt minden racionális számot figyelembe vettünk, és sorba tudtuk rendezni őket. Így a racionális számok halmazának számossága egyenlő a természetes számok halmazának számosságával, vagyis megszámlálhatóan végtelen halmaz.

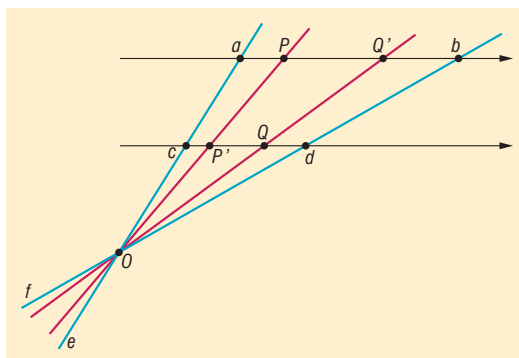
DEFINÍCIÓ: A valós számok számosságával megegyező számosságú halmazokat **nem megszámlálhatóan végtelen** vagy kontinuum számosságú halmazoknak nevezzük. Pl.: irracionális számok halmaza, számegyenes pontjainak halmaza, intervallum pontjainak halmaza.

TÉTEL: Az $[a; b]$ és a $[c; d]$ intervallumok számossága megegyezik.

BIZONYÍTÁS: Bizonyítás: Ha $b - a = d - c$, akkor a két intervallum „hossza” egyenlő, így számosságuk is.

Ha $b - a \neq d - c$, akkor vegyünk fel párhuzamosan két azonos beosztású számegyenest, ábrázoljuk az egyiket az egyik, a másikon a másik intervallumot. Húzzuk meg az a -t és c -t, valamint a b -t és d -t összekötő e és f egyeneseket. E két egyenes metszi egymást az O pontban. Az O pontból középpontos hasonlósági transzformációval $[a; b]$ intervallum képe $[c; d]$ intervallum.

Ha az $[a; b]$ intervallum egy pontja P , akkor P -t O -val összekötő egyenes P' pontban metszi a $[c; d]$ intervallumot. Ha a $[c; d]$ intervallum egy pontja Q , akkor Q -t O -val összekötő egyenes Q' pontban metszi az $[a; b]$ intervallumot. Így az $[a; b]$ és a $[c; d]$ intervallum minden pontja kölcsönösen megfeleltethető egymásnak, tehát ugyanannyi pontból állnak, azaz számosságuk egyenlő.



TÉTEL: Számosság és halmazműveletek kapcsolata (**logikai szita**): A, B és C véges halmazok számosságára érvényesek a következők:

$$|A \cup B| = |A| + |B| - |A \cap B|$$

$$|\overline{A \cup B}| = |U| - |A \cup B|$$

$$|A \cup B \cup C| = |A| + |B| + |C| - |A \cap B| - |A \cap C| - |B \cap C| + |A \cap B \cap C|$$

VII. Alkalmazások

- Racionális számok: arányok, arányosság, hasonlóság
- Irracionális számok: szabályos háromszög magassága $\left(\frac{a\sqrt{3}}{2}\right)$, négyzet átlója $(a\sqrt{2})$, kör kerülete $(2r\pi)$, területe $(r^2\pi)$
- Kifejezések legbővebb értelmezési tartományának meghatározása, pl. $\sqrt{x+2} + \frac{1}{\sqrt{2-x}}$
- Függvény értékészletének megállapítása

Matematikatörténeti vonatkozások:

- Az első **számírások** nem a mai írásjelekkel, hanem szimbólumokkal, jelekkel (pl. ékírás, római számok) történtek. A mai számírást a XI. században az arab **al-Hvárizmi** matematikus írta le először. Európába **Fibonacci** olasz matematikus a XII. században hozta be, de csak a XV–XVI. században terjedt el. Fibonacci nemcsak a 10 számjegyet, hanem a helyi értékes számírást is elhozta Európába. „*Van tíz hindu jel: 9, 8, 7, 6, 5, 4, 3, 2, 1, 0. Ezen jelek segítségével bármilyen számot fel lehet írni, amit csak akarunk.*”
- A zérust jelentő szó először 100 körül jelent meg a hinduknál.
- Az irracionális számokat már **Pitagorasz** (Kr. e. 450 körül) is ismerte, ekkor a hinduk már ismerték a négyzet oldalának és átlójának viszonyát.
- A negatív számok viszonylag későn jelentek meg: az egyenletek megoldásakor kaptak olyan számokat, amelyeket először nem tudtak értelmezni. **Cardano** (1501–1576) olasz matematikus fiktív számoknak nevezte őket, **Viète** (1540–1603) francia matematikus elvetette létezésüket.
- **Descartes** francia matematikus 1637-ben már minden előítélet nélkül használta az általa hamis számoknak nevezett negatív számokat.
- **Gauss** (1777–1855) német matematikus részletesen tárgyalta a komplex számok algebráját és aritmetikáját, ahol $\sqrt{-1} = i$.
- A halmazelmélet megteremtése **Cantor** (1845–1918) német matematikushoz fűződik. Kortársai többsége nem értette meg a végtelen halmazok számosságával kapcsolatos gondolatait: a természetes számok halmaza valódi részhalmaza a racionális számok halmazának, számosságuk mégis egyenlő. Meghatározása szerint két halmaz egyenlő számosságú, ha elemeik között kölcsönösen egyértelmű hozzárendelés létesíthető. Hozzá fűződik a megszámlálható halmazok fogalma. A róla elnevezett Cantor-féle átlós eljárással bizonyította, hogy a valós számok nem megszámlálhatóak.

3. Oszthatóság, oszthatósági szabályok és tételek. Prímszámok. Számrendszerek

Vázlat:

- I. Számelméleti alapfogalmak: osztó, többszörös, oszthatóság fogalma, tulajdonságai, oszthatósági szabályok
- II. Prímszám, összetett szám, a számelmélet alaptétele, osztók száma
- III. Legnagyobb közös osztó, legkisebb közös többszörös
- IV. Számrendszerek
- V. Alkalmazások, matematikatörténeti vonatkozások

Kidolgozás:

I. Oszthatóság

Az oszthatóság fogalma esetében alaphalmaznak az egész számok halmazát tekintjük. Két egész szám hányadosa nem mindig egész szám, az az oszthatóság esetén azt vizsgáljuk, hogy egész számok osztásakor mikor lesz a hányados is egész szám, vagyis a maradék 0.

DEFINÍCIÓ: Egy a egész szám **osztója** egy b egész számnak, ha található olyan c egész szám, amelyre $a \cdot c = b$. Jelölés: $a \mid b$. (Természetesen $c \mid b$ is igaz). Ebben az esetben az is igaz, hogy b **osztható** a -val és c -vel. Ekkor azt is mondhatjuk, hogy b **többszöröse** a -nak.

A 0 szerepe a számelméletben:

- a 0 minden nemnulla egész számnak többszöröse (0-szorosa), azaz 0 minden nemnulla egész számmal osztható, ugyanis $0 = 0 \cdot a$: $a \mid 0$, ha $a \neq 0$. Ez azt is jelenti, hogy a 0 páros szám. A 0-nak egyetlen többszöröse van, a 0, viszont a 0 bármely egész számnak a többszöröse.
- a 0 nem osztója egyetlen nemnulla egész számnak sem, ugyanis ha 0 osztója lenne egy b nemnulla egész számnak, akkor létezne egy olyan c egész szám, amelyikre $b = c \cdot 0 = 0$ lenne, ami ellentmond annak a feltételnek, hogy $b \neq 0$.

Oszthatósági tételek:

Ha $a, b, c \in \mathbb{Z}$, akkor

TÉTEL: $1 \mid a$, azaz az 1 minden egész számnak osztója.

BIZONYÍTÁS: $a = a \cdot 1$.

TÉTEL: $a \mid a$, azaz minden egész szám osztója önmagának.

BIZONYÍTÁS: $a = 1 \cdot a$.

TÉTEL: Ha $a \mid b$ és $b \mid c \Rightarrow a \mid c$.

BIZONYÍTÁS: Az $a \mid b$ feltétel azt jelenti, hogy van olyan d egész szám, amelyre $b = a \cdot d$; $a \mid c$ feltétel azt jelenti, hogy van olyan e egész szám, amelyre $c = b \cdot e$ teljesül.

Ekkor $c = b \cdot e = (a \cdot d) \cdot e = a \cdot (d \cdot e)$ a szorzás asszociativitása miatt, ahol a $d \cdot e$ szorzat egész szám.

Ez azt jelenti, hogy van olyan egész szám, amelynek a -szorosa a c szám, vagyis $a \mid c$.

TÉTEL: Ha $a \mid b \Rightarrow a \mid b \cdot c$, azaz ha egy egész szám osztója egy másik egész számnak, akkor a többszöröseinek is osztója.

BIZONYÍTÁS: Az $a \mid b$ feltétel azt jelenti, hogy van olyan d egész szám, hogy $b = a \cdot d$. Ekkor $b \cdot c = (a \cdot d) \cdot c = a \cdot (d \cdot c)$ a szorzás asszociativitása miatt. A $(d \cdot c)$ szorzat egész, tehát találtunk megfelelő egész számot, így $a \mid b \cdot c$.

TÉTEL: Ha $a \mid b$ és $a \mid c \Rightarrow a \mid b \pm c$, azaz ha egész egy szám osztója két egész számnak, akkor az összegüknek és a különbségüknek is osztója.

BIZONYÍTÁS: Az $a \mid b$ feltétel azt jelenti, hogy van olyan d egész szám, hogy $b = a \cdot d$. Az $a \mid c$ feltétel azt jelenti, hogy van olyan e egész szám, hogy $c = a \cdot e$. Ekkor $b \pm c = (a \cdot d) \pm (a \cdot e) = a \cdot (d \pm e)$ a disztributivitás miatt. A $(d \pm e)$ egész szám, tehát találtunk megfelelő egész számot, így $a \mid b$ és $a \mid c \Rightarrow a \mid b \pm c$.

TÉTEL: Ha $a \mid b$ és $a \mid b + c \Rightarrow a \mid c$, azaz ha egy egész szám osztója egy összegnek és az összeg egyik tagjának, akkor osztója a másik tagnak is.

BIZONYÍTÁS: Az $a \mid b$ feltétel azt jelenti, hogy van olyan d egész szám, hogy $b = a \cdot d$. Az $a \mid b + c$ feltétel azt jelenti, hogy van olyan e egész szám, amire $b + c = a \cdot e$. Ekkor $c = (b + c) - b = a \cdot e - a \cdot d = a \cdot (e - d)$. Mivel e és d egész számok, így különbségük is egész szám. Tehát találtunk megfelelő egész számot, amivel a -t szorozva c -t kapunk, így $a \mid c$.

Az oszthatóságot eddig az egész számokra értelmeztük, a továbbiakban leszűkítjük a természetes számokra, azaz a nemnegatív egész számokra. Egy adott problémánál tudjuk majd automatikusan alkalmazni az itt megfogalmazottakat az egész számokra.

TÉTEL: Ha $a, b \in \mathbb{Z}^+$, és $a \mid b$, valamint $b \mid a \Rightarrow a = b$, azaz ha két pozitív egész szám egymásnak osztója, akkor a két szám egyenlő.

BIZONYÍTÁS: Az $a \mid b$ feltétel azt jelenti, hogy van olyan d egész szám, amire $b = a \cdot d$, a $b \mid a$ feltétel azt jelenti, hogy van olyan e egész szám, amire $a = b \cdot e$.

Ekkor $b = a \cdot d = (b \cdot e) \cdot d = b \cdot (d \cdot e)$ a szorzás asszociativitása miatt.

Osztvá b -vel az egyenlet mindkét oldalát: $1 = d \cdot e$, aminek a pozitív egész számok halmazán csak a $d = e = 1$ a megoldása.

Ekkor viszont $a = b \cdot 1 = b$.

Oszthatósági szabályok:

Egy n egész szám osztható

- 2-vel, ha n páros, vagyis utolsó jegye $\in \{0; 2; 4; 6; 8\}$.
- 3-mal, ha a számjegyek összege osztható 3-mal.
- 4-gyel, ha a két utolsó jegyből képzett szám osztható 4-gyel.
- 5-tel, ha utolsó jegye $\in \{0; 5\}$.
- 6-tal, ha 2-vel és 3-mal osztható.
- 8-cal, ha a három utolsó jegyből képzett szám osztható 8-cal.
- 9-cel, ha számjegyek összege osztható 9-cel.
- 10-zel, ha utolsó jegye 0.

II. Prímszám, összetett szám, a számelmélet alaptétele, osztók száma

DEFINÍCIÓ: Azokat a pozitív egész számokat, amelyeknek pontosan két pozitív osztója van, **prímszámoknak** nevezzük. Pl.: 2; 3; 5; 7; ... Az 1 nem prímszám.

TÉTEL: Végtelen sok prímszám van.

BIZONYÍTÁS: Indirekt módon: Tegyük fel, hogy véges sok, azaz n db prímszám van. Legyenek ezek $p_1, p_2, p_3, \dots, p_n$. Képezzük a következő számot: $A = p_1 \cdot p_2 \cdot p_3 \cdot \dots \cdot p_n + 1$.

Az A számnak a felsorolt n db prím egyike sem osztója. Ebből két lehetőség következhet: vagy az A szám is prím (az $n + 1$ -edik), vagy létezik olyan prím, amit nem soroltunk fel (akkor ez a prím az $n + 1$ -edik). Tehát mindkét esetben találtunk a felsorolásban nem szereplő prímszámot, ezzel ellentmondásra jutottunk, azaz nem véges sok, hanem végtelen sok prímszám van.

DEFINÍCIÓ: Azokat az 1-nél nagyobb számokat, amelyek nem prímszámok, **összetett számok**nak nevezzük. Az összetett számoknak 2-nél több pozitív osztója van. Pl.: 4; 6; 8; 9; 10; ...

TÉTEL: A számelmélet alaptétele: bármely összetett szám felírható prímszámok szorzataként, és ez a felbontás a tényezők sorrendjétől eltekintve egyértelmű.

Kanonikus alak: $n = p_1^{\alpha_1} \cdot p_2^{\alpha_2} \cdot p_3^{\alpha_3} \cdot \dots \cdot p_k^{\alpha_k}$, ahol $p_1, p_2, p_3, \dots, p_k$ különböző prímekek, $\alpha_1, \alpha_2, \alpha_3, \dots, \alpha_k$ nemnegatív egész számok.

Ekkor az n szám prímosztói: $p_1, p_2, p_3, \dots, p_k$.

TÉTEL: Meghatározható az n szám **osztóinak száma** a következő módon: A fenti n számnak $(\alpha_1 + 1) \cdot (\alpha_2 + 1) \cdot (\alpha_3 + 1) \cdot \dots \cdot (\alpha_k + 1)$ darab pozitív osztója van.

DEFINÍCIÓ: Két vagy több pozitív egész szám **legnagyobb közös osztója** a közös osztók közül a legnagyobb. Jele: $(a; b)$.

Előállítás: felírjuk a számok prímtenyezős alakját, vesszük a közös prímtenyezőket (amelyek az összes felbontásban szerepelnek), ezeket a hozzájuk tartozó legkisebb kitevővel vesszük és összeszorozzuk.

DEFINÍCIÓ: Ha két pozitív egész szám legnagyobb közös osztója 1, akkor a két szám **relatív prím**.

DEFINÍCIÓ: Két vagy több pozitív egész szám **legkisebb közös többszöröse** a közös többszörösök közül a legkisebb. Jele: $[a; b]$.

Előállítás: felírjuk a számok prímtenyezős alakját, vesszük az összes prímtenyezőt, ezeket a hozzájuk tartozó legnagyobb kitevővel vesszük és összeszorozzuk.

Összefüggés két pozitív egész szám legnagyobb közös osztója és legkisebb közös többszöröse között: $(a; b) \cdot [a; b] = a \cdot b$.

III. Számrendszerek

DEFINÍCIÓ: Az a alapú számrendszer helyi értékei: $1, a^1, a^2, a^3, a^4, \dots$, az a alapú számrendszerben a -féle számjegy van: $0, 1, 2, \dots, a - 1$ (alaki érték), ha $a > 10$, akkor betűket használunk számjegyként.

A helyi értékes ábrázolás azt jelenti, hogy a számjegyek értékén kívül a leírásuk helye is értékkel bír. Egymás után írjuk a számjegyeket és az adott ponthoz viszonyítjuk az értéküket.

Általában 10-es számrendszerben dolgozunk. Ez azt jelenti, hogy a helyi értékek 10 természetes kitevőjű hatványai ($10^0, 10^1, 10^2, 10^3, \dots$, azaz egyesek, tízesek, százaskok, ezresek, ...). A számok leírására 10-féle számjegyre van szükség: $0, 1, 2, \dots, 9$.

A 10-es számrendszeren kívül az informatikában gyakran használják a 2-es, vagyis bináris számrendszert (Neumann-elv), napjainkban pedig inkább a 16-os, azaz hexadecimális számrendszert. Ez utóbbinál merült fel az a probléma, hogyan írjunk le 16-féle számjegyet. Erre az a megoldás született, hogy a 10-nél nagyobb alapú számrendszerekben a 10, vagy annál nagyobb értékű számjegyeket betűkkel jelöljük. Így 16-os számrendszerben 10 helyett A, 11 helyett B, ..., 15 helyett F a számjegy.

Áttérés 10-es számrendszerből más alapúba**1. módszer:**

A számot osztjuk az új számrendszer alapszámával, majd az így kapott hányadost újra mindaddig, míg 0 hányadost nem kapunk. Az osztásoknál kapott maradékok lesznek az új szám alakí értékei az egyesektől kezdve.

Pé. 948_{10} a 7-es számrendszerbe átírva:

$$948 = 135 \cdot 7 + 3$$

$$135 = 19 \cdot 7 + 2$$

$$19 = 2 \cdot 7 + 5$$

$$2 = 0 \cdot 7 + 2$$

2. módszer:

A tízes számrendszerbeli számot maradékosan elosztjuk az új számrendszer legnagyobb, de a számnál kisebb helyi értékével, a kapott maradékkal ezt addig folytatjuk, amíg a maradék 0 nem lesz.

$$948 : 343 = 2, \text{ maradék } 262,$$

$$262 : 49 = 5, \text{ maradék } 17,$$

$$17 : 7 = 2, \text{ maradék } 3,$$

$$3 : 1 = 3, \text{ maradék } 0,$$

Így $948_{10} = 2523_7$.

Áttérés más alapúból 10-es számrendszerbe

A megfelelő helyi értékeknek és a hozzájuk tartozó alakí értékeknek a szorzatösszege adja a 10-es számrendszerbeli értéket:

Pé.: 2523_7 a 10-es számrendszerbe átírva:

$$2523_7 = 2 \cdot 7^3 + 5 \cdot 7^2 + 2 \cdot 7^1 + 3 \cdot 1 = 948_{10}$$

A műveletek elvégezhetők az adott számrendszerben, vagy tízes számrendszerben és az eredmény adott számrendszerbe való visszaírásával.

Összeadás n alapú számrendszerben

Helyi érték szerint egymás alá írjuk a számokat, akár többet is. Az összeadást az $n^0 = 1$ -es helyi értéken kezdjük, majd folytatjuk az n^1, n^2, n^3, \dots helyi értékek felé. Mi 10-es számrendszerben tudunk összeadni, így az összegeket mindig 10-esben kapjuk meg, majd a kapott eredményt átváltjuk n -es számrendszerbe.

Ha az összeg n -nél kisebb, akkor leírjuk, mert n -nél kisebb számok minden számrendszerben azonos alakúak.

Ha az összeg nagyobb vagy egyenlő n -nél, akkor a kapott számot átírjuk 10-es számrendszerből n -es számrendszerbe. A kapott szám utolsó számjegyét leírjuk a megfelelő helyi értékre, az első számjegyét pedig az előző helyi érték fölé írjuk.

Ezt az eljárást addig folytatjuk, amíg a legelső számjegyig nem jutunk.

$$\begin{array}{r} 1 \ 1 \\ 5726_{(8)} \\ + 315_{(8)} \\ \hline 6243_{(8)} \end{array}$$

$$6 + 5 = 11_{(10)} = 13_{(8)}$$

$$1 + 2 + 1 = 4_{(10)} = 4_{(8)}$$

$$7 + 3 = 10_{(10)} = 12_{(8)}$$

$$1 + 5 = 6_{(10)} = 6_{(8)}$$

$$\begin{array}{r}
 211 \\
 2431_{(5)} \\
 10324_{(5)} \\
 + 430_{(5)} \\
 \hline
 14240_{(5)}
 \end{array}
 \qquad
 \begin{array}{l}
 1 + 4 + 0 = 5_{(10)} = 10_{(5)} \\
 1 + 3 + 2 + 3 = 9_{(10)} = 14_{(5)} \\
 1 + 4 + 3 + 4 = 12_{(10)} = 22_{(5)} \\
 2 + 2 + 0 = 4_{(10)} = 4_{(5)} \\
 1 = 1_{(10)} = 1_{(5)}
 \end{array}$$

Kivonás n alapú számrendszerben

Helyi érték szerint egymás alá írjuk a számokat. Az összeadást az $n^0 = 1$ -es helyi értéken kezdjük, majd folytatjuk az n^1, n^2, n^3, \dots helyi értékek felé.

Ha a kisebbítendő nagyobb vagy egyenlő a kivonandónál, akkor elvégezzük a kivonást, a különbséget leírjuk a megfelelő helyi értékre. Mivel n -nél kisebb értéket kapunk, nem kell átváltanunk, mert n -nél kisebb számok értéke minden számrendszerben egyenlő.

Ha a kisebbítendő (a) kisebb, mint a kivonandó (b), akkor $1a_n = (n + a)_{10}$ -ból vonjuk ki b -t, leírjuk a megfelelő helyi értékre az $(n + a - b)_{10}$ számot, az előző helyi értéken levő kivonandóhoz 1-et adunk, és így végezzük el a kivonást.

$$\begin{array}{r}
 6243_{(8)} \\
 -5726_{(8)} \\
 \hline
 315_{(8)}
 \end{array}
 \qquad
 \begin{array}{l}
 3 < 6 \Rightarrow 13_{(8)} = 11_{(10)} \Rightarrow 11 - 6 = 5_{(10)} = 5_{(8)} \\
 2 + 1 = 3 \Rightarrow 4 - 3 = 1_{(10)} = 1_{(8)} \\
 2 < 7 \Rightarrow 12_{(8)} = 10_{(10)} \Rightarrow 10 - 7 = 3_{(10)} = 3_{(8)} \\
 5 + 1 = 6 \Rightarrow 6 - 6 = 0_{(10)} = 0_{(8)}
 \end{array}$$

$$\begin{array}{r}
 6235_{(9)} \\
 -2478_{(9)} \\
 \hline
 3646_{(9)}
 \end{array}
 \qquad
 \begin{array}{l}
 5 < 8 \Rightarrow 15_{(9)} = 14_{(10)} \Rightarrow 14 - 8 = 6_{(10)} = 6_{(9)} \\
 7 + 1 = 8 \Rightarrow 3 < 8 \Rightarrow 13_{(9)} = 12_{(10)} \Rightarrow 12 - 8 = 4_{(10)} = 4_{(9)} \\
 4 + 1 = 5 \Rightarrow 5 < 2 \Rightarrow 12_{(9)} = 11_{(10)} \Rightarrow 11 - 5 = 6_{(10)} = 6_{(9)} \\
 2 + 1 = 3 \Rightarrow 6 - 3 = 3_{(10)} = 3_{(9)}
 \end{array}$$

IV. Alkalmazások:

- Legnagyobb közös osztó: törtek egyszerűsítése
- Legkisebb közös többszörös: törtek közös nevezőre hozása
- Kétismeretlenes egyenlet megoldása a természetes számok halmazán (oszthatóság felhasználásával) pl.:

$$\begin{array}{l}
 3x + 2y = xy \\
 3x = xy - 2y \\
 3x = y(x - 2) \\
 y = \frac{3x}{x - 2} = \frac{3x - 6}{x - 2} + \frac{6}{x - 2} = 3 + \frac{6}{x - 2} \in \mathbb{N} \Rightarrow x - 2 \mid 6
 \end{array}$$

Ez a következő esetekben lehetséges:

$x - 2$	1	2	3	6	-1	-2	-3	-6
x	3	4	5	8	1	0	-1	-4
y	9	6	5	4	-3	0	1	2

A táblázatban szerepel az összes megoldás, az 5 megjelölt számpár felel meg a feltételnek.

- Számítógépekben a 2-es számrendszer a két jegyével jól használható: folyik áram = 1, nem folyik áram = 0 (Neumann-elv). Ma már inkább a 16-os, hexadecimális számrendszert használják, ami felépíthető a kettesből.

Matematikatörténeti vonatkozások:

- Az egyiptomi **Rhind-papiruszon** (Kr. e. 2000–1700) a „törztörtek” felsorolásában csak a páratlan nevezőjű törtek szerepeltek, tehát az egyiptomiak különbséget tettek a páros és a páratlan számok között.
- Az öttel való oszthatóságot az **ókori hinduk** is ismerték.
- A hárommal való oszthatóság szabályát először a pizai **Leonardo** írta le (1200 körül).
- A tizeneggyel való oszthatóság szabályát a XI. századi **arab** matematikusok ismerték, viszont szabatosan csak **Lagrange** (1736–1813) francia matematikus fogalmazta meg: a páros helyi értéken álló számjegyeinek összege megegyezik a páratlan helyi értéken álló számjegyek összegével, vagy a kettő különbsége 11-nek a többszöröse.
- **Pascal** (1623–1662) francia matematikus teljes általánosságban vizsgálta az oszthatóságot a természetes számok körében.
- Prímszámok meghatározása az **eratoszthenészi** (Kr. e. III. század) szitával: Felírjuk 2-től kezdődően az egész számokat (ő 100-ig csinálta). A 2-t bekeretezzük, ez az első prímszám, majd kihúzzuk az összes olyan számot, ami 2 többszöröse (minden másodikat). Bekeretezzük az első át nem húzott számot, a 3-at, ez a következő prímszám. Innen kezdve áthúzzuk a 3 többszöröseit (minden harmadikat). Ezt az eljárást folytatva megkapjuk a prímszámokat (bekeretezett számok).
- A **sumérok** (Kr. e. 2000 előtt) a 10-es, 12-és és 60-as alapú számrendszer kombinációját használták az asztronómiai és egyéb számításaiknál. Ezt a rendszert átvették a **görögök**, a **rómaiak** és az **egyiptomiak**. A 60-as számrendszer maradványait felismerhetjük a mai idő- (órák, percek) és a szögmérésben (szögpercek).
- A **12-es számrendszer** nagyon népszerű volt, mert a 12 maradék nélkül osztható 2-vel (felezhető), 3-mal (harmadolható), 4-gyel (negyedelhető), 6-tal (hatodolható). A ma használt naptárban az év 12 hónapra oszlik, 12 óra a nappal és 12 óra az éjszaka az év mind a 365 napján. Csaknem minden nyelvben külön szó van a 12 dologból álló csoportra, például a magyar „tucat”, az angol „dozen”, a német „das Dutzend”, az orosz „djuzsina” stb.
- Nyelvészeti kutatások szerint az ősmagyarok a hetes számrendszert ismerték, használták: mesék hétfejű sárkánya, hetedhét ország, hétmérföldes csizma, hétpecsétes titok, hétszerte szebb lett stb.
- A 2-es alapú bináris számrendszert már a XVII. században **Leibniz** ismertette, aki Kínában hallott róla, de általános használata a XX. században, a számítógépek megjelenésével terjedt el.
- **Neumann János** (1903–1957) magyar származású matematikus a róla elnevezett elvben megfogalmazta a számítógépek működési elvét. Ebben a számítógépek használjanak kettes számrendszert, az összes művelet kettes számrendszerbeli logikai műveletre redukálható.

4. A matematikai logika elemei. Logikai műveletek. Állítás és megfordítása, szükséges és elégséges feltételek, bemutatásuk a tételek megfogalmazásában és bizonyításában

Vázlat:

- I. A matematikai logika fogalma
- II. Logikai műveletek: tagadás, „és” (konjunkció), „megengedő vagy” (diszjunkció), „kizáró vagy”, ha A , akkor B (implikáció), A akkor és csak akkor, ha B (ekvivalencia)
- III. Logikai műveletek (konjunkció és diszjunkció) tulajdonságai
- IV. Állítás és megfordítása
Szükséges és elégséges feltétel, bemutatásuk
- V. Alkalmazások, matematikatörténeti vonatkozások

Kidolgozás:

I. A matematikai logika fogalma

A matematikai logika a gondolkodás matematikai formában kifejezhető, matematikai eszközökkel vizsgálható összefüggéseinek, törvényeinek feltárásával foglalkozik. Fő feladata a következtetések helyességének vizsgálata.

II. Logikai műveletek

DEFINÍCIÓ: Az **állítás** (vagy kijelentés) olyan kijelentő mondat, amelyről egyértelműen el lehet dönteni, hogy igaz vagy hamis.

DEFINÍCIÓ: Az igaz és a hamis a kijelentés **logikai értéke**.

Ha az A állítás igaz, a B állítás hamis, akkor úgy is mondhatjuk, hogy az A logikai értéke igaz, B logikai értéke hamis. Jelelkel: $|A| = i$ és $|B| = h$.

Az igaz értéket szokták 1-gyel, a hamis értéket 0-val jelölni.

DEFINÍCIÓ: A kijelentéseket összekapcsolhatjuk. Azokat a kijelentéseket, amelyeket más kijelentésekből lehet előállítani, **összetett kijelentéseknek** nevezzük.

DEFINÍCIÓ: Ha az összetett kijelentések logikai értéke csak az őt alkotó állítások logikai értékétől és az előállítás módjától függ, akkor **logikai műveletekről** beszélünk.

A logikai műveleteket **igazságtábla** segítségével végezhetjük el.

DEFINÍCIÓ: Az állítás **tagadása** egyváltozós művelet. Egy A kijelentés negációja (tagadása) az a kijelentés, amely akkor igaz, ha A hamis, és akkor hamis, ha A igaz.

Jele: \bar{A} vagy $\neg A$.

TÉTEL: Egy állítás tagadásának tagadása maga az állítás (kettős tagadás törvénye). Jele: $\overline{\bar{A}} = A$.

TÉTEL: Egy állítás és tagadása nem lehet egyszerre igaz (az ellentmondás-mentesség elve).

TÉTEL: Egy állítás és tagadása nem lehet egyszerre hamis (a harmadik kizárásának elve).

DEFINÍCIÓ: Két, A -tól és B -től függő állítás akkor egyenlő, ha A és B minden lehetséges logikai értékére a két állítás igazságértéke egyenlő.

A logikai műveletek eredménye csak a tagok logikai értékétől függ.

Kétváltozós logikai műveletek:

DEFINÍCIÓ: Állítások **konjunkciója**: logikai „és”: Két kijelentés konjunkciója pontosan akkor igaz, ha mindkét kijelentés igaz, különben hamis.

Jele: $A \wedge B$.

DEFINÍCIÓ: Állítások **diszjunkciója**: logikai „megengedő vagy”: Két kijelentés diszjunkciója pontosan akkor igaz, ha legalább az egyik kijelentés igaz, különben hamis.

Jele: $A \vee B$.

DEFINÍCIÓ: Állítások **antivalenciája**: logikai „kizáró vagy” akkor igaz, ha pontosan az egyik állítás igaz, a másik hamis, akkor hamis, ha a két állítás logikai értéke megegyezik.

Jele: $A \oplus B$.

Igazságtáblával:

A	B	$A \wedge B$
i	i	i
i	h	h
h	i	h
h	h	h

A	B	$A \vee B$
i	i	i
i	h	i
h	i	i
h	h	h

A	B	$A \oplus B$
i	i	h
i	h	i
h	i	i
h	h	h

DEFINÍCIÓ: Állítások **implikációja**: A „ha A , akkor B ” kapcsolatnak megfelelő logikai műveletet implikációnak nevezünk. Az implikáció logikai értéke pontosan akkor hamis, ha A igaz és B hamis, különben az implikáció igaz. Az A állítást feltételnek, B -t következménynek nevezünk. A következtetés csak akkor hamis, ha a feltétel igaz, de a következmény hamis. Hamis állításból bármi következhet.

Jele: $A \rightarrow B$.

DEFINÍCIÓ: Állítások **ekvivalenciája**: Az „ A akkor és csak akkor B ” kapcsolatnak megfelelő logikai műveletet ekvivalenciának nevezünk. Az ekvivalencia logikai értéke pontosan akkor igaz, ha A és B logikai értéke azonos, különben hamis.

Ha az $A \leftrightarrow B$ igaz, akkor azt mondjuk, hogy A és B állítások ekvivalensek egymással.

Jele: $A \leftrightarrow B$.

Igazságtáblával:

A	B	$A \rightarrow B$
i	i	i
i	h	h
h	i	i
h	h	i

A	B	$A \leftrightarrow B$
i	i	i
i	h	h
h	i	h
h	h	i

TÉTEL: Tetszőleges A és B kijelentésekre $A \rightarrow B = \bar{A} \vee B$.

BIZONYÍTÁS: Igazságtáblával:

A	B	\bar{A}	$\bar{A} \vee B$	$A \rightarrow B$
i	i	h	i	i
i	h	h	h	h
h	i	i	i	i
h	h	i	i	i

A negyedik oszlop igazságértékei megegyeznek az implikáció igazságértékeivel, tehát az egyenlőség A és B minden lehetséges logikai értékére fennáll, azaz azonosság.

TÉTEL: Tetszőleges A és B kijelentésekre $A \leftrightarrow B = (A \rightarrow B) \wedge (B \rightarrow A)$

BIZONYÍTÁS: Igazságtáblával:

A	B	$A \rightarrow B$	$B \rightarrow A$	$(A \rightarrow B) \wedge (B \rightarrow A)$	$A \leftrightarrow B$
i	i	i	i	i	i
i	h	h	i	h	h
h	i	i	h	h	h
h	h	i	i	i	i

Az ötödik oszlop igazságértékei megegyeznek az ekvivalencia igazságértékeivel, tehát az egyenlőség A és B minden lehetséges logikai értékére fennáll, azaz azonosság.

III. Logikai műveletek (konjunkció és diszjunkció) tulajdonságai

Tulajdonság	Diszjunkció	Konjunkció
Kommutatív (felcserélhető)	$A \vee B = B \vee A$	$A \wedge B = B \wedge A$
Asszociatív (csoportosítható)	$(A \vee B) \vee C = A \vee (B \vee C)$	$(A \wedge B) \wedge C = A \wedge (B \wedge C)$
Disztributív (széttagolható)	$A \vee (B \wedge C) = (A \vee B) \wedge (A \vee C)$	$A \wedge (B \vee C) = (A \wedge B) \vee (A \wedge C)$
De Morgan-azonosságok	$\overline{A \vee B} = \overline{A} \wedge \overline{B}$ és $\overline{A \wedge B} = \overline{A} \vee \overline{B}$	
További azonosságok	$A \vee A = A$ $A \vee \overline{A} = i$ $\overline{\overline{A}} = A$	$A \wedge A = A$ $A \wedge \overline{A} = h$

III. Állítás és megfordítása, szükséges és elégséges feltétel

Az állításokat gyakran „Ha A igaz, akkor B igaz” ($A \Rightarrow B$) formában fogalmazzuk meg. Tehát egy A állítás igazságából következik egy B állítás igazsága (vagyis, ha az $A \rightarrow B$ implikáció igaz), azt mondjuk, hogy az A állításból következik B állítás, vagy azt, hogy A állítás a B állításnak **elégséges feltétele** (hiszen a B állítás igazságának bizonyításához elég az A állítás igazságát bizonyítani).

Ilyenkor a B állítás az A állításnak **szükséges feltétele** (hiszen az A állítás nem lehet igaz, ha a B állítás nem igaz). Ha ilyen esetben az A állítás igazságából a B állítás igazságára következtetünk, az **helyes következtetés**.

Ha azt akarjuk kimutatni, hogy az A állításból **nem** következik a B állítás, elég egyetlen példát mutatni olyan esetre, amikor A igaz és B hamis. Ha ilyen esetben A állításból a B állításra következtetünk, az nem helyes, vagyis **helytelen következtetés**.

Ha az A állításból következik B állítás, és fordítva is: a B állításból következik az A állítás, akkor azt mondjuk, hogy az A állításnak a B állítás **szükséges és elégséges feltétele**. Jele: $A \Leftrightarrow B$ (A akkor és csak akkor igaz, amikor B).

Ez azt jelenti, hogy A és B egyszerre igaz, vagyis **ekvivalensek** (egyenértékűek).

Példák feltételekre:

- Állítás: Ha egy szám osztható 4-gyel, akkor osztható 2-vel. Ez igaz állítás.
Ekkor a 4-gyel való oszthatóság elégséges feltétele a 2-vel való oszthatóságnak, a 2-vel való oszthatóság szükséges feltétele a 4-gyel való oszthatóságnak. Vagyis a 4-gyel való osztható-

ság elégséges, de nem szükséges feltétele a 2-vel való oszthatóságnak, valamint a 2-vel való oszthatóság szükséges, de nem elégséges feltétele a 4-gyel való oszthatóságnak.

- **Állítás:** Ha egy szám osztható 2-vel, akkor osztható 4-gyel. Ez hamis állítás.
Ekkor a 2-vel való oszthatóság nem elégséges feltétele a 4-gyel való oszthatóságnak, a 4-gyel való oszthatóság elégséges feltétele a 2-vel való oszthatóságnak. Vagyis a 2-vel való oszthatóság nem elégséges, de szükséges feltétele a 4-gyel való oszthatóságnak, valamint a 4-gyel való oszthatóság elégséges, de nem szükséges feltétele a 2-vel való oszthatóságnak.

Egy tétel feltételeinek és feltételei következményeinek a felcserélésével kapjuk a **tétel megfordítását**.

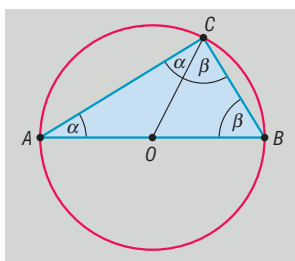
Így a fenti tétel megfordítása: „Ha B igaz, akkor A igaz.” ($B \Rightarrow A$)

Ha a tétel és a megfordítása is igaz, akkor a két tétel ekvivalens. ($A \Leftrightarrow B$)

Erre példa a Thalész-tétel, valamint a Pitagorasz-tétel:

TÉTEL: Thalész-tétel: Ha egy kör átmérőjének két végpontját összekötjük a kör bármely más pontjával, akkor derékszögű háromszöget kapunk.

BIZONYÍTÁS: O középpontú kör, AB átmérő, C tetszőleges pont a körvonalon.



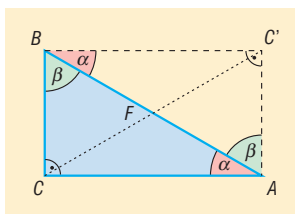
$$OA = OC = r \Rightarrow OAC \text{ háromszög egyenlő szárú} \Rightarrow \sphericalangle OAC = \sphericalangle OCA = \alpha$$

$$OC = OB = r \Rightarrow OBC \text{ háromszög egyenlő szárú} \Rightarrow \sphericalangle OBC = \sphericalangle BCO = \beta$$

$$\text{Az } ABC \text{ háromszög belső szögeinek összege } 180^\circ \Rightarrow 2\alpha + 2\beta = 180^\circ \Rightarrow \alpha + \beta = 90^\circ \Rightarrow \sphericalangle ACB = 90^\circ.$$

TÉTEL: A Thalész-tétel megfordítása: Ha egy háromszög derékszögű, akkor köré írható körének középpontja az átfogó felezőpontja.

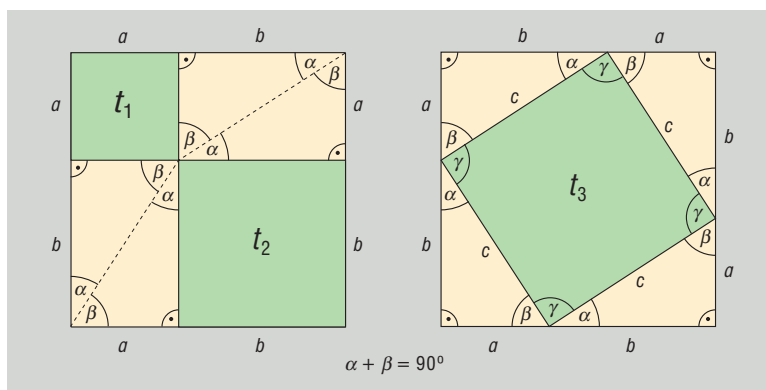
BIZONYÍTÁS: ABC derékszögű háromszöget tükrözzük az átfogó F felezőpontjára. A tükrözés tulajdonságai miatt $BC = AC'$ és $CA = BC'$ és $AC'BC$ négyszög szögei 90° -osak. Az olyan négyszög, amelynek két-két szemközti oldala egyenlő hosszú és mind a négy szöge derékszög, az téglalap. A téglalap átlói egyenlők és felezik egymást $\Rightarrow FA = FB = FC \Rightarrow F$ az ABC háromszög köré írt kör középpontjával egyenlő.



TÉTEL: A Thalész-tétel és megfordítása összefoglalva: A sík azon pontjainak halmaza, amelyekből egy megadott szakasz derékszögben látszik, a szakaszhoz mint átmérőhöz tartozó kör, elhagyva belőle a szakasz végpontjait.

TÉTEL: Pitagorasz-tétel: Ha egy háromszög derékszögű, akkor a befogók négyzetének összege egyenlő az átfogó négyzetével.

BIZONYÍTÁS: (14. tétel)



$$a^2 + b^2 + 4t = c^2 + 4t$$

$$a^2 + b^2 = c^2$$

TÉTEL: A Pitagorasz-tétel megfordítása: Ha egy háromszög két oldalhosszának négyzetének összege egyenlő a harmadik oldal négyzetével, akkor a háromszög derékszögű.

BIZONYÍTÁS: (14. tétel)

Tudjuk, hogy $a^2 + b^2 = c^2$.

Tegyük fel, hogy a háromszög nem derékszögű. Ekkor tudunk szerkeszteni olyan derékszögű háromszöget, amelynek a befogói a és b , átfogója legyen c' . Mivel ez derékszögű háromszög, a Pitagorasz-tétel miatt: $a^2 + b^2 = (c')^2$. Az eredeti feltétellel összevetve $c^2 = (c')^2$, amiből pozitív mennyiségekről lévén szó, következik, hogy $c = c'$.

Ez ellentmond a kiinduló feltételnek, így a háromszög derékszögű.

IV. Alkalmazások:

- Matematikai definíciók, tételek pontos kimondása, tételek bizonyítása
- Tétel megfordításának kimondása
- Bizonyítási módszerek kidolgozása (direkt, indirekt, skatulyaelv, teljes indukció)
- A kombinatorika és a valószínűségszámítás használja a logikai műveleteket és azok tulajdonságait
- Automaták tervezése problémák részekre bontásával
- A logikai műveletek és halmazműveletek párhuzamba állíthatók
- Egyenletek, egyenlőtlenségek megoldása során sokszor végzünk logikai műveleteket (ekvivalens átalakítások).

Matematikatörténeti vonatkozások:

- Az ókori filozófia vetette fel azokat a kérdéseket, amelyek vizsgálata a logika kialakulásához vezetett. A görög „logosz” szó jelentése gondolat, igazság, a görög „logiké” szó érvelést, következtetést jelent. A logika segíti a definíciók, állítások pontos megfogalmazását, fontos szerepe van a problémák megfogalmazásában, a tudományos, alkotó kommunikációban.
- **Boole** (1815–1864) angol matematikus vezette be a kijelentések szerkezetének szimbólumokkal és műveletekkel való leírását. Az általa létrehozott algebra célja az volt, hogy összekösse a logikát a matematikával, ez a Boole-algebra. Az 1930-as években **Shannon** (1916–2001) amerikai matematikus a Boole-algebrát felhasználva az elektromos kapcsolók tulajdonságait használta a logikai műveletekhez, ez lett az elméleti alapja a digitális korszaknak, az információelméletnek.
- **de Morgan** (1806–1871) angol matematikus bevezette a ma De Morgan-azonosságként ismert szabályokat. Ezzel nagyban hozzájárult a matematikai logika megreformálásához, jelölésrendszerének egyszerűbbé tételéhez.

5. Hatványozás, a hatványfogalom kiterjesztése, a hatványozás azonosságai. Az n -edik gyök fogalma.

A négyzetgyök azonosságai.

Hatványfüggvények és a négyzetgyökfüggvény

Vázlat:

- I. Pozitív egész kitevőjű hatványok, a hatványozás azonosságai
- II. Permanenciaelv
- III. Negatív egész, törtekitevős, irracionális kitevőjű hatvány
- IV. Az n -edik gyök fogalma ($n \in \mathbb{N}^+$, $n \neq 1$)
- V. A négyzetgyök azonosságai
- VI. Hatványfüggvények és azok tulajdonságai
- VII. Négyzetgyökfüggvény és tulajdonságai
- VIII. Alkalmazások, matematikatörténeti vonatkozások

Kidolgozás:

I. Pozitív egész kitevőjű hatványok

A hatványozást ugyanaz az igény hívta létre, mint a szorzást. A szorzás az ismételt összeadást jelenti, a hatványozást azonos számok szorzására vezették be, később kiterjesztették az értelmezését.

DEFINÍCIÓ: Ha a tetszőleges valós szám és n 1-nél nagyobb természetes szám, akkor a^n **hatvány** azt az n tényezősszorzatot jelenti, amelynek minden tényezője a .

Ha $n = 1$, akkor $a^1 = a$.

Az a számot a hatvány alapjának, az n számot a hatvány kitevőjének nevezzük, ez utóbbi megmutatja, hogy a hatványalapot hányszor kell szorozótényezőül venni.

A hatványozás azonosságai pozitív egész kitevő esetén: ($a, b \in \mathbb{R}$, $m, n \in \mathbb{N}^+$)

TÉTEL: Azonos alapú hatványok szorzása: Azonos alapú hatványokat úgy is szorozhatunk, hogy a közös alapot a kitevők összegére emeljük:

$$a^m \cdot a^n = a^{m+n}$$

BIZONYÍTÁS:

$$a^m \cdot a^n = \underbrace{(a \cdot a \cdot \dots \cdot a)}_{m \text{ db}} \cdot \underbrace{(a \cdot a \cdot \dots \cdot a)}_{n \text{ db}} \stackrel{\text{szorzás asszoc.}}{=} \underbrace{a \cdot a \cdot \dots \cdot a}_{m+n \text{ db}} \stackrel{\text{hatv. def.}}{=} a^{m+n}.$$

TÉTEL: Azonos alapú hatványok osztása: Azonos alapú hatványokat úgy is oszthatunk, hogy a közös alapot a kitevők különbségére emeljük:

$$\frac{a^m}{a^n} = a^{m-n}, \text{ ha } a \neq 0, m > n.$$

BIZONYÍTÁS:

$$\frac{a^m}{a^n} = \frac{\underbrace{a \cdot a \cdot \dots \cdot a}_{m \text{ db}}}{\underbrace{a \cdot a \cdot \dots \cdot a}_{n \text{ db}}} \stackrel{\text{egyszerűsítés}}{=} \frac{\underbrace{a \cdot a \cdot \dots \cdot a}_{m-n \text{ db}}}{1} \stackrel{\text{hatv. def.}}{=} a^{m-n}.$$

TÉTEL: Szorzat hatványozása: Szorzatot tényezőként is hatványozhatunk:

$$(a \cdot b)^n = a^n \cdot b^n$$

Tétel „visszafele” olvasva: Azonos kitevőjű hatványokat úgy is szorozhatunk, hogy az alapok szorzatát a közös kitevőre emeljük.

BIZONYÍTÁS:

$$\begin{aligned} (a \cdot b)^n &= \underbrace{(a \cdot b) \cdot (a \cdot b) \cdot \dots \cdot (a \cdot b)}_{n \text{ db}} \underset{\text{szorzás asszoc.}}{=} a \cdot b \cdot a \cdot b \cdot \dots \cdot a \cdot b \underset{\text{szorzás kommut.}}{=} \\ &= \underbrace{a \cdot a \cdot \dots \cdot a}_{n \text{ db}} \cdot \underbrace{b \cdot b \cdot \dots \cdot b}_{n \text{ db}} \underset{\text{hatv. def.}}{=} a^n \cdot b^n. \end{aligned}$$

TÉTEL: Tört hatványozása: Törtet úgy is hatványozhatunk, hogy a számlálót és a nevezőt külön-külön hatványozzuk és a kapott hatványoknak a kívánt sorrendben a hányadosát vesszük.

$$\left(\frac{a}{b}\right)^n = \frac{a^n}{b^n}, \text{ ha } b \neq 0.$$

Tétel „visszafele” olvasva: Azonos kitevőjű hatványokat úgy is oszthatunk, hogy az alapok hányadosát a közös kitevőre emeljük.

BIZONYÍTÁS:

$$\left(\frac{a}{b}\right)^n \underset{\text{hatv. def.}}{=} \underbrace{\left(\frac{a}{b}\right) \cdot \left(\frac{a}{b}\right) \cdot \dots \cdot \left(\frac{a}{b}\right)}_{n \text{ db}} \underset{\text{szorzása}}{=} \frac{\overbrace{a \cdot a \cdot \dots \cdot a}^{n \text{ db}}}{\underbrace{b \cdot b \cdot \dots \cdot b}_{n \text{ db}}} \underset{\text{hatv. def.}}{=} \frac{a^n}{b^n}.$$

TÉTEL: Hatvány hatványozása: Hatványt úgy is hatványozhatunk, hogy az alapot a kitevők szorzatára emeljük:

$$(a^n)^m = a^{n \cdot m}.$$

BIZONYÍTÁS:

$$\begin{aligned} (a^n)^m &= \underbrace{(a^n) \cdot (a^n) \cdot \dots \cdot (a^n)}_{m \text{ db}} \underset{n. \text{ hatv. def.}}{=} \underbrace{\left(\underbrace{a \cdot a \cdot \dots \cdot a}_{n \text{ db}}\right) \cdot \left(\underbrace{a \cdot a \cdot \dots \cdot a}_{n \text{ db}}\right) \cdot \dots \cdot \left(\underbrace{a \cdot a \cdot \dots \cdot a}_{n \text{ db}}\right)}_{m \text{ db}} \underset{\text{szorzás asszoc.}}{=} \\ &= \underbrace{a \cdot a \cdot \dots \cdot a \cdot a \cdot a \cdot \dots \cdot a}_{m \cdot n \text{ db}} \underset{\text{hatv. def.}}{=} a^{m \cdot n}. \end{aligned}$$

II. Permanenciaelv

A hatványozás fogalmát kiterjesztjük minden egész kitevőre, majd egész kitevőről racionális kitevőre, majd racionálisról irracionális kitevőre úgy, hogy az előbbi, pozitív egész kitevőre teljesülő azonosságok továbbra is teljesüljenek. A fogalom értelmezésének kiterjesztése esetén ezt az igényt nevezzük **permanenciaelvnek**.

III. A hatványozás kiterjesztése

A 2. azonosság segítségével a hatványozás fogalma kibővíthető az **egész számokra** a következő módon:

DEFINÍCIÓ: Tetszőleges $a \neq 0$ valós számra $a^0 = 1$. Minden nullától különböző valós számnak a **nulladik hatványa** 1.

0^0 -t nem értelmezzük (nem lehet úgy értelmezni, hogy összhangban legyen a hatványozás értelmezéseivel:

- $0^0 = 0$ kellene, hogy legyen, mert 0 minden pozitív egész kitevő hatványa 0.
- $0^0 = 1$ kellene, hogy legyen, mert minden egyéb szám nulladik hatványa 1.)

Bizonyítható, hogy ezzel az értelmezéssel a hatványozás azonosságai érvényben maradnak.

Pl.

$$\left. \begin{aligned} a^0 \cdot a^n &= a^{0+n} = a^n \\ a^0 \cdot a^n &= 1 \cdot a^n = a^n \end{aligned} \right\}$$

DEFINÍCIÓ: Tetszőleges $a \neq 0$ valós szám és n pozitív egész szám esetén $a^{-n} = \frac{1}{a^n}$. Minden 0-tól

különböző valós szám **negatív egész kitevőjű hatványa** a szám megfelelő pozitív kitevőjű hatványának a reciproka (vagy a szám reciprokának a megfelelő pozitív kitevőjű hatványa).

Bizonyítható, hogy ezzel az értelmezéssel a hatványozás azonosságai érvényben maradnak.

Pl.

$$\left. \begin{aligned} a^{-n} \cdot a^n &= a^{-n+n} = a^0 = 1 \\ a^{-n} \cdot a^n &= \frac{1}{a^n} \cdot a^n = \frac{a^n}{a^n} = 1 \end{aligned} \right\}$$

Ezzel a két definícióval a 2. azonosság igaz minden $n, m \in \mathbb{Z}$ -re:

Ha $n = m$, akkor $\frac{a^m}{a^n} = \frac{a^m}{a^m} = 1$.

Ha $m < n$, akkor m darab a -val egyszerűsítünk, a számlálóban 1, a nevezőben pedig $n - m$ darab a szorzótényező marad, ami a hatvány definíciója miatt $\frac{1}{a^{n-m}}$. Alkalmazva a negatív egész kite-

vőjű hatvány definícióját $\frac{1}{a^{n-m}} = \frac{1}{a^{-(m-n)}} = a^{m-n}$.

A hatványozás fogalmát ezután **racionális kitevőre** terjesztjük ki:

DEFINÍCIÓ: Az a pozitív valós szám $\frac{p}{q}$ -adik hatványa az a pozitív valós szám, amelynek q -adik

hatványa a^p , azaz $\left(\frac{p}{a^q}\right)^q = a^p$.

A definícióból következik: $a^{\frac{p}{q}} = \sqrt[q]{a^p}$.

Az alap csak pozitív szám lehet, mert például

$$(-2)^{\frac{2}{4}} = \left[(-2)^2\right]^{\frac{1}{4}} = 4^{\frac{1}{4}} = 2^{\frac{1}{2}} = \sqrt{2} \text{ értelmes,}$$

$(-2)^{\frac{2}{4}} = (-2)^{\frac{1}{2}} = \sqrt{-2}$ nem értelmezhető, pedig a két hatvány értékének (azonos alap, azonos kitevő) meg kell egyeznie.

Bizonyítható, hogy ezzel az értelmezéssel a hatványozás azonosságai érvényben maradnak.

Pl.

$$\left. \begin{aligned} \left(\frac{k}{a^n}\right)^n &= \frac{k^n}{a^{n \cdot n}} = a^k \\ \left(\frac{k}{a^n}\right)^n &= \left(\sqrt[n]{a^k}\right)^n = a^k \end{aligned} \right\}$$

A hatványozást kiterjeszthetjük tetszőleges **valós kitevőre**. Ehhez az **irracionális kitevőt** kell értelmeznünk.

Az értelmezés azon alapul, hogy bármely irracionális szám tetszőlegesen közelíthető két oldalról racionális számokkal. Így ha pl.: $2^{\sqrt{2}}$ hatványt szeretnénk meghatározni, akkor ehhez a $\sqrt{2}$ értékét közelítjük nála kisebb, illetve nála nagyobb racionális számokkal, majd a közelítő értékekre mint kitevőre emeljük a 2-t. Bizonyítható, hogy $2^{\sqrt{2}}$ értéke létezik, és ily módon tetszőlegesen közelíthető (rendőrelv).

DEFINÍCIÓ: Az a pozitív valós szám α irracionális kitevőjű hatványa, azaz a^α jelentse az a^r sorozat határértékét, ahol r egy racionális számsorozat tagjait jelöli és $r \rightarrow \alpha$. Képlettel:

$$\lim_{r \rightarrow \alpha} a^r = a^\alpha.$$

IV. Az n -edik gyök fogalma

A gyökvonás művelete a hatványkitevő és a hatvány ismeretében az alap kiszámolását teszi lehetővé. A gyökvonás a hatványozás egyik fordított művelete: az a valós szám n -edik gyöke ($n \in \mathbb{Z}^+$, $n \neq 1$) az $x^n = a$ egyenlet megoldása.

Az a szám n -edik gyökének jelölése: $\sqrt[n]{a}$, ha $n \in \mathbb{N}^+$.

A gyökvonás értelmezésénél különbséget kell tenni a páros és páratlan gyökkitevő között (hiszen páros n -re és negatív a -ra az $x^n = a$ egyenletnek nincs megoldása, mivel a valós számok páros kitevőjű hatványa nem lehet negatív. Tehát páros n -re és negatív a -ra az a szám n -edik gyöke nem értelmezhető.)

DEFINÍCIÓ: Egy a valós szám $(2k+1)$ -edik ($k \in \mathbb{N}^+$) gyökén azt a valós számot értjük, amelynek $(2k+1)$ -edik hatványa a .

Képlettel: $(\sqrt[2k+1]{a})^{2k+1} = a$, ahol $k \in \mathbb{Z}^+$.

DEFINÍCIÓ: Egy nemnegatív valós a szám $2k$ -adik ($k \in \mathbb{N}^+$) gyökén azt a nemnegatív valós számot értjük, amelynek $2k$ -adik hatványa a .

Képlettel: $(\sqrt[2k]{a})^{2k} = a$, ahol $a \geq 0$, $\sqrt[2k]{a} \geq 0$, $k \in \mathbb{Z}^+$.

DEFINÍCIÓ: Egy nemnegatív valós a szám négyzetgyökén azt a nemnegatív valós számot értjük, amelynek négyzete a .

Képlettel: $(\sqrt{a})^2 = a$, ahol $a \geq 0$, $\sqrt{a} \geq 0$.

A páros és páratlan gyökkitevőre vonatkozó definíciók közötti különbségből adódóan: $(\sqrt[2k]{a^{2k}}) = |a|$ és $(\sqrt[2k+1]{a^{2k+1}}) = a$, pl. $\sqrt[6]{(-5)^6} = 5$, de $\sqrt[5]{(-5)^5} = -5$.

V. A négyzetgyök azonosságai

TÉTEL: $\sqrt{a \cdot b} = \sqrt{a} \cdot \sqrt{b}$, ha a, b nemnegatív valós számok.

Szorzat négyzetgyöke egyenlő a tényezők négyzetgyökének szorzatával. Tehát szorzatból tényezőnként vonhatunk gyököt.

BIZONYÍTÁS: Vizsgáljuk mindkét oldal négyzetét:

$$(\sqrt{a \cdot b})^2 = a \cdot b,$$

a négyzetgyök definíciója miatt.

$$(\sqrt{a} \cdot \sqrt{b})^2 = (\sqrt{a})^2 \cdot (\sqrt{b})^2 = a \cdot b,$$

a szorzat hatványának azonossága és a négyzetgyök definíciója miatt.

A két oldal négyzete egyenlő.

Ha mindkét oldal értelmes, vagyis nemnegatív, akkor a hatványozás azonosságából következik a két oldal egyenlősége.

TÉTEL: $\sqrt{\frac{a}{b}} = \frac{\sqrt{a}}{\sqrt{b}}$, ha a, b nemnegatív valós számok, $b \neq 0$.

Tört négyzetgyöke egyenlő a számláló és a nevező négyzetgyökének hányadosával.

TÉTEL: $\sqrt{a^k} = (\sqrt{a})^k$, ha k egész, $a > 0$ valós szám.

A hatványozás és a gyökvonás sorrendje felcserélhető egymással pozitív alap esetén.

Figyelnünk kell arra, hogy a négyzetre emelés és a négyzetgyökvonás sorrendje nem cserélhető fel, ha az alap negatív. Így általánosan: $\sqrt{a^2} = |a|$.

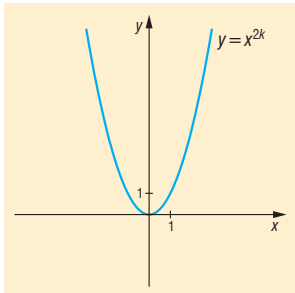
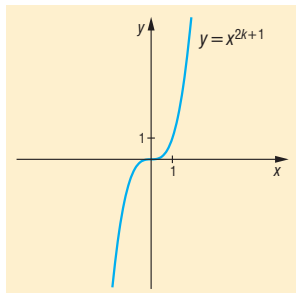
VI. Hatványfüggvények és azok tulajdonságai

DEFINIÍCIÓ: Az $f: \mathbb{R} \rightarrow \mathbb{R}, f(x) = x^n$ függvényt, ahol $n \in \mathbb{N}^+$, hatványfüggvénynek nevezzük.

A hatványfüggvények értelmezhetőek $n = 0$ esetre is, de ettől most eltekintünk.

A hatványfüggvény vizsgálatát két részre kell bontanunk aszerint, hogy n páros-e vagy páratlan.

Jellemzés:

A függvény	$f: \mathbb{R} \rightarrow \mathbb{R}, f(x) = x^{2k}$	$g: \mathbb{R} \rightarrow \mathbb{R}, g(x) = x^{2k+1}$
ábrázolása:		
értelmezési tartománya:	valós számok halmaza: \mathbb{R}	valós számok halmaza: \mathbb{R}
értékkészlete:	nemnegatív valós számok halmaza: \mathbb{R}_0^+	valós számok halmaza: \mathbb{R}
monotonitása:	ha $x < 0$, akkor szigorúan monoton csökken, ha $x > 0$, akkor szigorúan monoton nő	szigorúan monoton nő
szélsőértéke:	abszolút minimuma van az $x = 0$ helyen, a minimum értéke $f(x) = 0$.	nincs
görbülete:	alulról konvex	ha $x < 0$, akkor alulról konkáv, ha $x > 0$, akkor alulról konvex
zérushelye:	$x = 0$	$x = 0$
paritása:	páros: $f(-x) = f(x)$	páratlan, vagyis $g(-x) = -g(x)$
korlátosság:	alulról korlátos, felülről nem korlátos	nem korlátos
invertálhatóság:	invertálható, ha $x \geq 0$: inverze az $f^{-1}: \mathbb{R}_0^+ \rightarrow \mathbb{R}, f^{-1}(x) = \sqrt[2k]{x}$ függvény	invertálható: inverze az $g^{-1}: \mathbb{R} \rightarrow \mathbb{R}, g^{-1}(x) = \sqrt[2k+1]{x}$ függvény

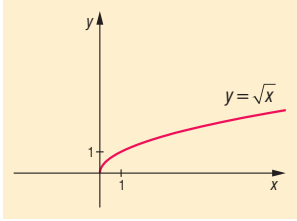
Görbület szempontjából külön kell venni az $n = 1$ esetet: ekkor a függvény se nem konvex, se nem konkáv.

A hatványfüggvények folytonosak, minden pontban deriválhatóak, minden korlátos intervallumon integrálhatóak.

VII. Négyzetgyökfüggvény és tulajdonságai

DEFINÍCIÓ: Az $f: \mathbb{R}_0^+ \rightarrow \mathbb{R}, f(x) = \sqrt{x}$ függvényeket négyzetgyökfüggvényeknek nevezzük.

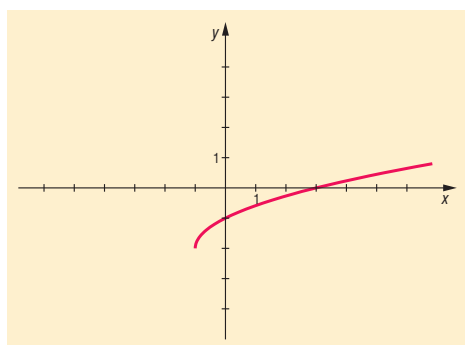
Jellemzés:

A függvény	$f: \mathbb{R}_0^+ \rightarrow \mathbb{R}, f(x) = \sqrt{x}$
ábrázolása:	
értelmezési tartománya:	nemnegatív valós számok halmaza: \mathbb{R}_0^+
értékkészlete:	nemnegatív valós számok halmaza: \mathbb{R}_0^+
monotonitása:	szigorúan monoton nő
szélsőértéke:	abszolút minimuma van az $x = 0$ helyen, a minimum értéke $f(x) = 0$
görbülete:	alulról konkáv
zérushelye:	$x = 0$
paritása:	nincs: nem páros, nem páratlan
korlátosság:	alulról korlátos, felülről nem korlátos
invertálhatóság:	invertálható: inverze az $f^{-1}: \mathbb{R}_0^+ \rightarrow \mathbb{R}, f^{-1}(x) = x^2$ függvény

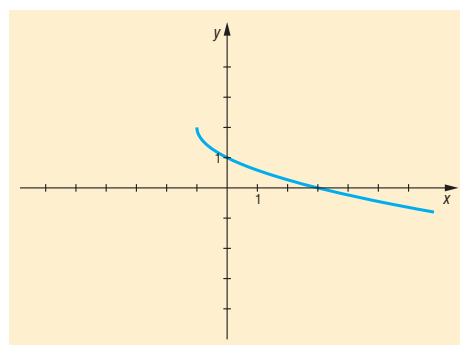
A gyökfüggvények folytonosak, differenciálhatóak, integrálhatóak.

Példák négyzetgyökfüggvényre:

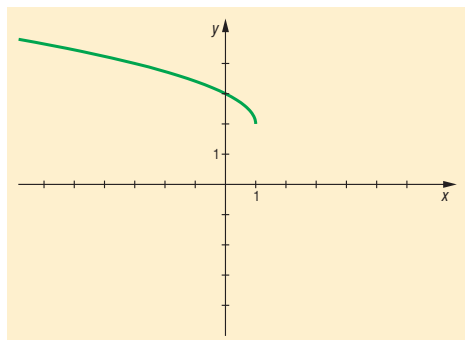
$$f(x) = \sqrt{x+1} - 2$$



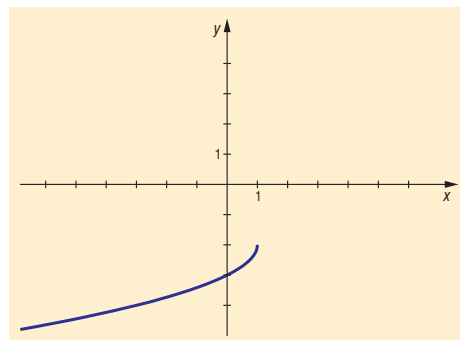
$$f(x) = -\sqrt{x+1} + 2$$



$$f(x) = \sqrt{1-x} + 2 = \sqrt{-(x-1)} + 2$$



$$f(x) = -\sqrt{1-x} - 2 = -\sqrt{-(x-1)} - 2$$



VIII. Alkalmazások:

Hatványozás:

- Prímtényezősbontásban pozitív egész kitevőjű hatványok, legnagyobb közös osztó, legkisebb közös többszörös, osztók száma
- Normálalakban: egyszerűbb a kicsi és a nagy számokkal való műveletek elvégzése
- A számrendszerek felépítése a hatványozáson alapul
- Mértani sorozat: a_n, S_n kiszámolása
- Ismétléses variációk száma: n^k
- Hasonló testek felszínének aránya λ^2 , térfogatának aránya λ^3
- Kamatos kamat számítása
- Négyzetes úttörvény: $s = \frac{a}{2} \cdot t^2$
- Radioaktív bomlás
- Mértékegységváltás
- Binomiális eloszlás
- Nevezetes azonosságok

Gyökvonás:

- Magasabb fokú egyenletek megoldása
- Pitagorasz-tétel (négyzetre emelés, gyökvonás)
- Mértani közép (gyökvonás)
- Magasság-, illetve befogótétel (négyzetre emelés, gyökvonás)
- Kocka élének vagy gömb sugarának kiszámolása a térfogatból
- l hosszúságú fonálinga lengésideje: $T = 2\pi \sqrt{\frac{l}{g}}$
- h magasságból szabadon eső test sebessége: $v = \sqrt{2gh}$
- Kamatos kamatnál a kamattényező kiszámítása
- Harmonikus rezgőmozgás körfrekvenciájának kiszámítása

Matematikatörténeti vonatkozások:

- Már időszámításunk kezdetén ismerték kínai matematikusok a négyzetgyök és köbgyök fogalmát, a mai jelölésrendszere a XVI. században alakult ki.
- A XIII. századi kínai matematikusok az egyenletet meg tudták oldani, azaz tetszőleges pozitív számból tudtak gyököt vonni.
- **Oresmicus** (1323–1382) francia matematikus foglalkozott először a törtekitevős hatványokkal.
- **Stifel** (1487–1567) német matematikus írta le a nulladik és a negatív egész kitevőjű hatványokat.

6. A logaritmus fogalma és azonosságai. Az exponenciális és a logaritmusfüggvény. Az inverz függvény

Vázlat:

- I. A logaritmus definíciója
- II. A logaritmus azonosságai
- III. Exponenciális függvény, tulajdonságai
- IV. Logaritmusfüggvény, tulajdonságai
- V. Inverz függvény
- VI. Alkalmazások, matematikatörténeti vonatkozások

Kidolgozás:

I. A logaritmus definíciója

Az $a^x = b$ ($a > 0$, $b > 0$, $a \neq 1$) egyenlet megoldásakor az x kitevőt keressük. Ennek az egyenletnek az egyetlen megoldása $x = \log_a b$.

DEFINÍCIÓ: A logaritmus a hatványozás egyik fordított művelete: $\log_a b$ (**a alapú logaritmus b**) az egyetlen valós kitevő, melyre a -t emelve b -t kapunk: $a^{\log_a b} = b$, ($a > 0$, $b > 0$, $a \neq 1$), vagyis $\log_a b = c$ egyenértékű azzal, hogy $a^c = b$. (A kitevőt fejezzük ki a hatványalap és a hatványérték ismeretében.)

Elnevezések: $a = \mathbf{a}$ logaritmus alapja, $b = \mathbf{hatványérték}$.

A logaritmus alapját azért választjuk pozitív számnak, mert

- negatív alap esetén a törtekitevős hatvány nem értelmezhető.
- ha az alap 0 lenne, akkor a hatványérték bármilyen (0-tól különböző) kitevőre 0, így a kitevőkeresés nem egyértelmű.
- ha az alap 1 lenne, a hatványérték a kitevő bármely értékére 1, így sem egyértelmű a kitevőkeresés.

Ha a logaritmus alapja 10, akkor a jelölés: $\log_{10} x = \lg x$. Ha a logaritmus alapja e , akkor természetes alapú logaritmusról beszélünk, így a jelölés: $\log_e x = \ln x$.

II. A logaritmus azonosságai

TÉTEL: Szorzat logaritmusa egyenlő a tényezők logaritmusának összegével:

$$\log_a(x \cdot y) = \log_a x + \log_a y, \text{ ahol } x, y > 0, a > 0, a \neq 1.$$

BIZONYÍTÁS: A logaritmus definíciója alapján:

$$x = a^{\log_a x} \text{ és } y = a^{\log_a y}, \text{ illetve } x \cdot y = a^{\log_a(x \cdot y)}$$

Nézzük az állítás bal oldalát:

$$\log_a(x \cdot y) = \log_a(a^{\log_a x} \cdot a^{\log_a y}) = \log_a a^{\log_a x + \log_a y} = \log_a x + \log_a y,$$

az azonos alapú hatványok szorzása és a logaritmus definíciója miatt.

Így a bizonyítandó állítás igaz.

TÉTEL: Tört logaritmusa megegyezik a számláló és a nevező logaritmusának különbségével:

$$\log_a\left(\frac{x}{y}\right) = \log_a x - \log_a y, \text{ ahol } x, y > 0, a > 0, a \neq 1.$$

BIZONYÍTÁS: A logaritmus definíciója alapján:

$$x = a^{\log_a x} \text{ és } y = a^{\log_a y}, \text{ illetve } \frac{x}{y} = a^{\log_a \left(\frac{x}{y}\right)}.$$

Nézzük az állítás bal oldalát:

$$\log_a \left(\frac{x}{y}\right) = \log_a \frac{a^{\log_a x}}{a^{\log_a y}} = \log_a a^{\log_a x - \log_a y} = \log_a x - \log_a y,$$

az azonos alapú hatványok osztása és a logaritmus definíciója miatt.
Így a bizonyítandó állítás igaz.

TÉTEL: Hatvány logaritmusa az alap logaritmusának és a kitevőnek a szorzata:

$$\log_a x^k = k \cdot \log_a x, \text{ ahol } x > 0, a > 0, a \neq 1, k \in \mathbb{R}.$$

BIZONYÍTÁS: A logaritmus definíciója alapján:

$$x = a^{\log_a x}, \text{ illetve } x^k = a^{\log_a x^k}.$$

Nézzük az állítás bal oldalát:

$$\log_a x^k = \log_a (a^{\log_a x})^k = \log_a a^{k \cdot \log_a x} = k \cdot \log_a x,$$

a hatvány hatványozása és a logaritmus definíciója miatt.
Így a bizonyítandó állítás igaz.

TÉTEL: Áttérés más alapú logaritmusra:

$$\log_a b = \frac{\log_c b}{\log_c a}, \text{ ahol } a, b, c > 0, a, c \neq 1.$$

BIZONYÍTÁS: A logaritmus definíciója alapján: $b = a^{\log_a b}$.

Írjuk fel: $\log_c b = \log_c a^{\log_a b} = \log_a b \cdot \log_c a$,

a logaritmus definíciója és a hatvány logaritmusa miatt.

Kaptuk: $\log_c b = \log_a b \cdot \log_c a \quad /: \log_c a \neq 0$ a feltételek miatt.

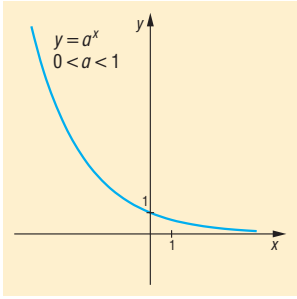
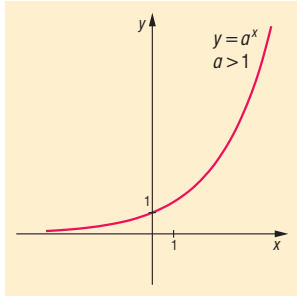
Így: $\log_a b = \frac{\log_c b}{\log_c a}$. Ez a bizonyítandó állítás.

III. Exponenciális függvény

DEFINÍCIÓ: Az $f: \mathbb{R} \rightarrow \mathbb{R}, f(x) = a^x$ ($a > 0$) függvényt exponenciális függvénynek nevezzük.

Az $a = 1$ esetén az exponenciális függvény konstans: $f(x) = 1^x = 1$.

Jellemzés:

A függvény	$f: \mathbb{R} \rightarrow \mathbb{R}, f(x) = a^x,$ $0 < a < 1$ esetben	$g: \mathbb{R} \rightarrow \mathbb{R}, g(x) = a^x,$ $1 < a$ esetben
ábrázolása:		

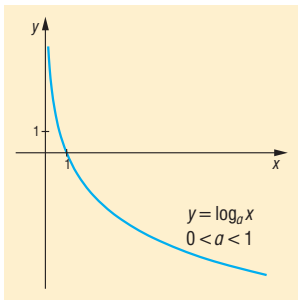
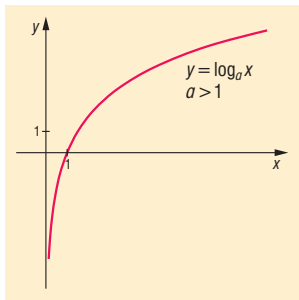
értelmezési tartománya:	valós számok halmaza: \mathbb{R}	valós számok halmaza: \mathbb{R}
értékkészlete:	pozitív valós számok halmaza: \mathbb{R}^+	pozitív valós számok halmaza: \mathbb{R}^+
monotonitása:	szigorúan monoton csökken	szigorúan monoton nő
szélsőértéke:	nincs	nincs
görbülete:	alulról konvex	alulról konvex
zérushelye:	nincs	nincs
paritása:	nincs: nem páros, nem páratlan	nincs: nem páros, nem páratlan
korlátosság:	alulról korlátos, felülről nem korlátos	alulról korlátos, felülről nem korlátos
invertálhatóság:	invertálható: inverze az $f^{-1}: \mathbb{R}^+ \rightarrow \mathbb{R}, f^{-1}(x) = \log_a x$ ($0 < a < 1$) függvény	invertálható: inverze az $g^{-1}: \mathbb{R}^+ \rightarrow \mathbb{R}, g^{-1}(x) = \log_a x$ ($1 < a$) függvény

Az exponenciális függvény folytonos, differenciálható, integrálható.

IV. Logaritmusfüggvény

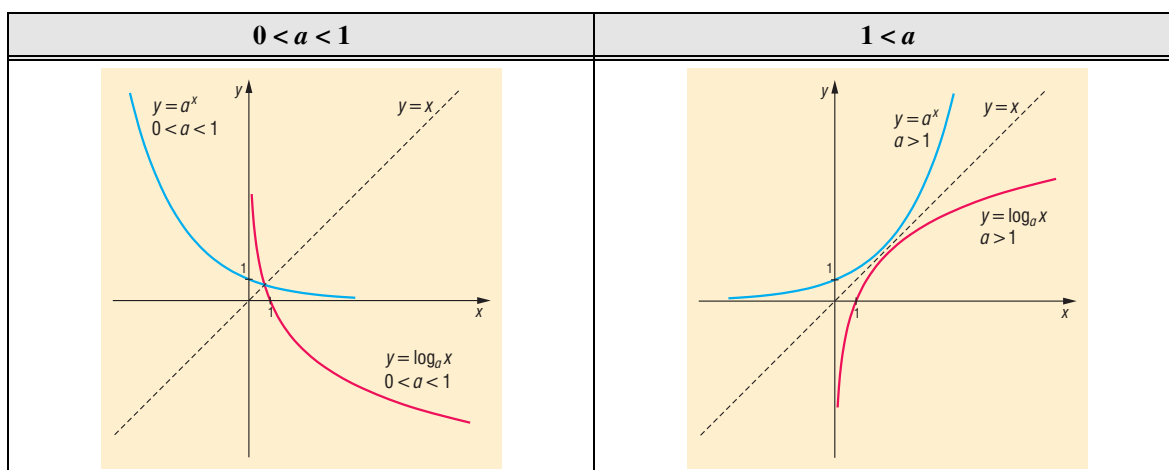
DEFINÍCIÓ: Az $f: \mathbb{R}^+ \rightarrow \mathbb{R}, f(x) = \log_a x$, ($a > 0, a \neq 1$) függvényt logaritmusfüggvénynek nevezzük.

Jellemzés:

A függvény	$f: \mathbb{R}^+ \rightarrow \mathbb{R}, f(x) = \log_a x$, $0 < a < 1$ esetben	$g: \mathbb{R}^+ \rightarrow \mathbb{R}, g(x) = \log_a x$, $1 < a$ esetben
ábrázolása:		
értelmezési tartománya:	pozitív valós számok halmaza: \mathbb{R}^+	pozitív valós számok halmaza: \mathbb{R}^+
értékkészlete:	valós számok halmaza: \mathbb{R}	valós számok halmaza: \mathbb{R}
monotonitása:	szigorúan monoton csökken	szigorúan monoton nő
szélsőértéke:	nincs	nincs
görbülete:	alulról konvex	alulról konkáv
zérushelye:	$x = 1$	$x = 1$
paritása:	nincs: nem páros, nem páratlan	nincs: nem páros, nem páratlan
korlátosság:	nem korlátos	nem korlátos
invertálhatóság:	invertálható: inverze az $f^{-1}: \mathbb{R} \rightarrow \mathbb{R}, f^{-1}(x) = a^x$ ($0 < a < 1$) függvény	invertálható: inverze az $g^{-1}: \mathbb{R} \rightarrow \mathbb{R}, g^{-1}(x) = a^x$ ($1 < a$) függvény

A logaritmusfüggvény folytonos, differenciálható, integrálható.

Kapcsolat az exponenciális és a logaritmusfüggvények között:



Az exponenciális függvény $a \neq 1$ esetén invertálható, inverze az $f^{-1}: \mathbb{R}^+ \rightarrow \mathbb{R}, f^{-1}(x) = \log_a x; a > 0, a \neq 1$ logaritmusfüggvény.

A logaritmusfüggvény invertálható, inverze az $f^{-1}: \mathbb{R} \rightarrow \mathbb{R}, f^{-1}(x) = a^x; a > 0, a \neq 1$ exponenciális függvény.

V. Inverz függvény

DEFINÍCIÓ: Az f függvény **inverze** a g függvény, ha az f értelmezési tartományának minden x elemére igaz, hogy $f(x)$ eleme a g értelmezési tartományának és $g(f(x)) = x$. Az inverz függvény jelölése: $g = f^{-1}$.

Ha az f és a g függvények egymásnak inverzei, akkor az f értelmezési tartománya a g érték-készlete, az f érték-készlete a g értelmezési tartománya.

Ha két függvény egymásnak inverzei, akkor grafikonjaik egymásnak tükörképei az $y = x$ egyenletű egyenesre.

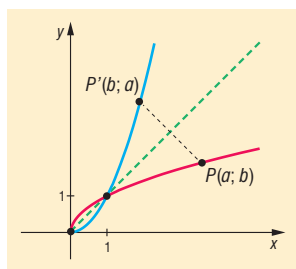
A definícióból következik, hogy csak a kölcsönösen egyértelmű függvényeknek van inverze, azaz egy függvény pontosan akkor invertálható, ha az érték-készlet minden eleme az értelmezési tartomány pontosan egy eleméhez van hozzárendelve.

Például: $f: \mathbb{R} \rightarrow \mathbb{R}^+, f(x) = 2^x$ függvény és a $g: \mathbb{R}^+ \rightarrow \mathbb{R}, g(x) = \log_2 x$ függvény egymás inverzei, ugyanis $g(f(x)) = \log_2 2^x = x$, illetve $f(g(x)) = 2^{\log_2 x} = x$, valamint az egyik függvény értelmezési tartománya a másik függvény érték-készlete és viszont.

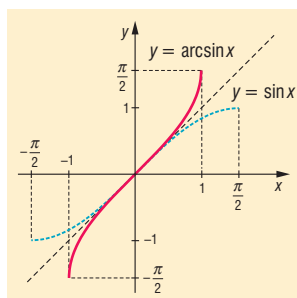
A nem kölcsönösen egyértelmű függvényeknek nincs inverze. Ezek a függvények gyakran az értelmezési tartomány szűkítésével invertálhatóvá tehető.

Például:

1. A másodfokú függvény értelmezési tartományának szűkítésével invertálható, ha $f: \mathbb{R}_0^+ \rightarrow \mathbb{R}_0^+, f(x) = x^2$, akkor inverze a $g: \mathbb{R}_0^+ \rightarrow \mathbb{R}_0^+, g(x) = \sqrt{x}$.



2. A szinuszfüggvény inverze az értelmezési tartományának $\left[-\frac{\pi}{2}; \frac{\pi}{2}\right]$ intervallumra való szűkítésén az arkuszszinuszfüggvény.



Inverz függvény előállítása:

Egy kölcsönösen egyértelmű függvény inverze algebrai úton előállítható a változók felcserélésével a következő módon:

1. Az $f(x) = 2x - 3$ függvény inverzének előállítása: az $y = 2x - 3$ kifejezésben a változókat felcseréljük: $x = 2y - 3$, majd ebből az egyenletből az y változót kifejezzük: $y = \frac{x+3}{2}$, ebből $f^{-1}(x) = \frac{x+3}{2}$, ahol mindkét függvény értelmezési tartománya és értékészlete a valós számok halmaza.
2. Az $f(x) = \sqrt{x-2} - 4$ függvény (ahol $x \geq 2, y \geq -4$) inverzének előállítása:
 az $y = \sqrt{x-2} - 4$ kifejezésben a változókat felcseréljük: $x = \sqrt{y-2} - 4$, majd ebből az egyenletből az y változót kifejezzük: $y = (x+4)^2 + 2$, ebből $f^{-1}(x) = (x+4)^2 + 2$, (ahol $x \geq -4, y \geq 2$).

VI. Alkalmazások:

- A $2^x = 3$ egyenlet megoldása logaritmussal
- Matematikai műveletek visszavezetése egyszerűbb műveletek elvégzésére (szorzás helyett összeadás, hatványozás helyett szorzás)
- Kamatos kamat számításakor az alaptőke, az n -edik év végi tőke, valamint kamattényező ismeretében az n meghatározása:

$$t_n = t_0 \cdot q^n \Rightarrow \frac{t_n}{t_0} = q^n \Rightarrow \lg \frac{t_n}{t_0} = \lg q^n \Rightarrow \lg \frac{t_n}{t_0} = n \cdot \lg q \Rightarrow n = \frac{\lg t_n - \lg t_0}{\lg q}$$

- Számolás gépbe nem férő nagy számokkal, pl.:

$$x = \frac{85^{200}}{130^{120}} \Rightarrow \lg x = 200 \cdot \lg 85 - 120 \cdot \lg 130 = 132,21$$

$$x = 10^{132,21} = 10^{132} \cdot 10^{0,21} = 1,6218 \cdot 10^{132}$$

- Gravitációs erőterben a barometrikus magasságformulában a levegő sűrűsége a magassággal exponenciálisan csökken.
- A Richter-skála (a földrengés erősségének műszeres megfigyelésen alapuló mérőszáma a magnitúdó, amely a földrengéskor a fészekben felszabaduló energia logaritmusával arányos).
- pH-érték: az oldatok szabad oxóniumion-koncentrációjának negatív 10-es alapú logaritmusa: $\text{pH} = -\lg[\text{H}_3\text{O}^+]$
- Exponenciális függvény írja le: a radioaktív izotópok bomlását, az oldódás folyamatát, a kondenzátor feltöltődésének és kisülésének folyamatát.

Matematikatörténeti vonatkozások:

- A logaritmust **Napier** (1550–1617) skót matematikus találta ki, a logaritmus szót a logosz (viszony) és az aritmosz (szám) görög szavakból alkotta. Elsősorban matematikai számítások megkönnyítését segítő módszereket talált ki, így a logaritmust, amely a csillagászati számításokban bizonyult hasznosnak. **Kepler** használta csillagászati táblázatai elkészítésekor. Napier feltalálta a róla elnevezett számológépeket, melyek segítségével a szorzás és az osztás gyorsabban volt elvégezhető. A trigonometrikus függvények logaritmusának táblázatát is elkészítette, táblázatában a logaritmus alapja $\frac{1}{e}$ volt.
- **Bürgi** (1552–1632) svájci órásmester és matematikus csillagászati eszközökkel is foglalkozott Kepler munkatársaként. Segített Keplernek a csillagászati számításokban, ehhez megalakította az első logaritmustáblázatot.
- Az Oxfordi Egyetem tanára, **Briggs** (1561–1630) angol matematikus és Napier közösen kidolgozták az első 10-es alapú, 8 jegyű logaritmustáblázatot.
- Napier számológépéből az 1600-as években kifejlesztették a logarléceket, amelyet az 1970-es évekig használtak. A **logarléc** és a logaritmustáblázatok több száz évig nélkülözhetetlen eszközei voltak a bonyolultabb számításokkal foglalkozó embereknek. Szerepük csak az elektromos számológépek és a számítógépek megjelenésével szűnt meg fokozatosan.

7. Másodfokú egyenletek és egyenlőtlenségek. Másodfokúra visszavezethető egyenletek. Egyenletek ekvivalenciája, gyökvesztés, hamis gyök, ellenőrzés

Vázlat:

- I. Egyenlet, egyenlet gyökének fogalma
- II. Másodfokú egyenletek, megoldásuk
- III. Másodfokú egyenlőtlenségek megoldása
- IV. Új ismeretlen bevezetésével másodfokúra visszavezető egyenletek
- V. Egyenletek ekvivalenciája
- VI. Gyökvesztés
- VII. Hamis gyök
- VIII. Ellenőrzés
- IX. Alkalmazások, matematikatörténeti vonatkozások

Kidolgozás:

I. Egyenlet

DEFINÍCIÓ: Az **egyenlet** bármely két egyenlőségjellel összekötött kifejezés. A kifejezésben szereplő változók az **ismeretlenek**.

Az egyenlet olyan változótól függő állítás (nyitott mondat), amelynek az alaphalmaza számhalmaz.

DEFINÍCIÓ: Az **alaphalmaz** az ismeretlenek azon értékeinek halmaza, ahol az egyenletet vizsgáljuk, ahol a megoldásokat keressük.

DEFINÍCIÓ: Az egyenlet **értelmezési tartománya** az alaphalmaznak az a legbővebb részhalmaza, ahol az egyenletben szereplő kifejezések értelmezhetőek.

DEFINÍCIÓ: Az egyenletet igazgá tevő értékek az **egyenlet megoldásai** vagy **gyökei**.

DEFINÍCIÓ: Az alaphalmaz azon elemeinek halmaza, amelyekre az egyenlet igaz, vagyis az egyenlet megoldásainak (vagy gyökeinek) halmaza az **egyenlet megoldáshalmaza** (vagy igazsághalmaza).

DEFINÍCIÓ: Az **azonosság** olyan egyenlet, amelynek a megoldáshalmaza megegyezik az egyenlet értelmezési tartományával.

II. Másodfokú egyismeretlenes egyenlet

DEFINÍCIÓ: Másodfokú egyismeretlenes egyenlet $ax^2 + bx + c = 0$ alakra hozható, ahol $a, b, c \in \mathbb{R}$, $a \neq 0$.

Megoldása lehetséges a megoldóképlettel, szorzattá alakítással, teljes négyzetté alakítással, Viète-formulával.

Pl. $x^2 + 3x = 0$ vagy $x^2 + 6x + 9 = 0$

TÉTEL: Az $ax^2 + bx + c = 0$ ($a \neq 0$) egyenlet **megoldóképlete:** $x_{1,2} = \frac{-b \pm \sqrt{b^2 - 4ac}}{2a}$, ahol $b^2 - 4ac \geq 0$.

BIZONYÍTÁS:

$$\begin{aligned} ax^2 + bx + c &= 0 \quad | \cdot 4a \\ 4a^2x^2 + 4abx + 4ac &= 0 \end{aligned}$$

teljes négyzetté alakítással:

$$\begin{aligned} (2ax + b)^2 - b^2 + 4ac &= 0 \quad | + b^2 - 4ac \\ (2ax + b)^2 &= b^2 - 4ac \end{aligned}$$

Mivel a bal oldalon négyzetszám van, amely nem lehet negatív, így $b^2 - 4ac$ sem lehet az. (Ha $b^2 - 4ac < 0$, akkor nincs megoldás). Ha $b^2 - 4ac \geq 0$, akkor vonjunk mindkét oldalból gyököt, figyelve, hogy elkerüljük a gyökvesztést:

$$\begin{aligned} |2ax + b| &= \sqrt{b^2 - 4ac} \\ 2ax + b &= \pm \sqrt{b^2 - 4ac} \\ 2ax &= -b \pm \sqrt{b^2 - 4ac} \\ x_{1,2} &= \frac{-b \pm \sqrt{b^2 - 4ac}}{2a} \end{aligned}$$

DEFINÍCIÓ: Az $ax^2 + bx + c = 0$ ($a \neq 0$) **másodfokú egyenlet diszkriminánsa** $D = b^2 - 4ac$.

- Ha $D > 0$, akkor az egyenletnek két különböző valós gyöke van: $x_{1,2} = \frac{-b \pm \sqrt{b^2 - 4ac}}{2a}$.
- Ha $D = 0$, akkor az egyenletnek két egymással egyenlő gyöke, vagyis 1 valódi gyöke van: $x = -\frac{b}{2a}$, ezt kétszeres gyöknek is nevezzük, mert $x_1 = x_2$.
- Ha $D < 0$, akkor az egyenletnek nincs valós gyöke.

TÉTEL: A másodfokú egyenlet **gyöktényezőző alakja:**

Ha egy $ax^2 + bx + c = 0$ ($a \neq 0$) egyenlet megoldható (azaz $D \geq 0$) és két gyöke van: x_1 és x_2 , akkor az $ax^2 + bx + c = a(x - x_1)(x - x_2)$ minden valós x -re igaz.

TÉTEL: Viète-formulák: másodfokú egyenlet gyökei és együtthatói közti összefüggések:

Az $ax^2 + bx + c = 0$ ($a \neq 0$) alakban felírt ($D \geq 0$) másodfokú egyenlet gyökeire:

$$x_1 + x_2 = -\frac{b}{a} \quad \text{és} \quad x_1 \cdot x_2 = \frac{c}{a}.$$

BIZONYÍTÁS:

$$x_1 + x_2 = \frac{-b + \sqrt{b^2 - 4ac}}{2a} + \frac{-b - \sqrt{b^2 - 4ac}}{2a} = \frac{-b - b}{2a} = \frac{-2b}{2a} = -\frac{b}{a}.$$

$$x_1 \cdot x_2 = \frac{-b + \sqrt{b^2 - 4ac}}{2a} \cdot \frac{-b - \sqrt{b^2 - 4ac}}{2a} = \frac{(-b)^2 - (\sqrt{b^2 - 4ac})^2}{(2a)^2} = \frac{b^2 - (b^2 - 4ac)}{4a^2} = \frac{4ac}{4a^2} = \frac{c}{a}.$$

Grafikus megoldás: az $x \mapsto ax^2 + bx + c$ ($a \neq 0$) függvény zérushelyei adják a megoldást. (Sőt $a > 0$ esetre törekszem!)

$$x \mapsto ax^2 + bx + c = a\left(x^2 + \frac{b}{a}x\right) + c = a\left[\left(x + \frac{b}{2a}\right)^2 - \frac{b^2}{4a^2}\right] + c = a\left(x + \frac{b}{2a}\right)^2 + \frac{4ac - b^2}{4a}.$$

Olyan parabola a kép, amelynek tengelypontja $T\left(-\frac{b}{2a}, \frac{4ac - b^2}{4a}\right)$.

III. Másodfokú egyenlőtlenségek megoldása

DEFINÍCIÓ: Egyenlőtlenségről beszélünk, ha algebrai kifejezéseket a $<$, $>$, \leq , \geq jelek valamelyikével kapcsolunk össze. Ha ezek a kifejezések másodfokúak, akkor **másodfokú egyenlőtlenségről** beszélünk. A másodfokú egyenlet megoldásához hasonlóan 0-ra rendezünk úgy, hogy a főegyüttható pozitív legyen, tehát $a > 0$. Ekkor $ax^2 + bx + c \geq 0$, $ax^2 + bx + c > 0$, $ax^2 + bx + c \leq 0$, $ax^2 + bx + c < 0$ alakúra rendezhető minden másodfokú egyenlőtlenség.

Az egyenlőtlenségek megoldási módszerei hasonlóak az egyenletek megoldási módszereihez:

1. A **mérlegelv**, alkalmazása nehézkes másodfokú egyenlőtlenségek esetében.
2. **Grafikus megoldás:** A másodfokú egyenlőtlenségek megoldásakor fontos szerepet játszik, hogy az egyenlőtlenségekben szereplő másodfokú kifejezések grafikonja a koordináta-rendszerben az y tengellyel párhuzamos tengelyű parabola. Az egyenlőtlenségben szereplő másodfokú kifejezés zérushelyének megállapítása után vázlatosan ábrázoljuk a kifejezést leíró másodfokú függvényt. Majd a zérushelyek számának függvényében meghatározzuk a megoldáshalmazt. (lásd 20. tétel)

IV. Új ismeretlen bevezetésével másodfokúra visszavezethető egyenletek

Magasabb fokú, illetve bizonyos exponenciális, logaritmikus, abszolút értékes, gyökös, trigonometrikus egyenletek új ismeretlen bevezetésével másodfokú egyenletre vezethetők vissza.

$$\left. \begin{aligned} x^6 - 3x^3 - 4 &= 0 \\ 2^{2x} - 3 \cdot 2^x - 4 &= 0 \\ \lg^2 x - 3 \lg x - 4 &= 0 \\ (x-2)^2 - 3|x-2| - 4 &= 0 \\ x+1 - 3\sqrt{x+1} - 4 &= 0 \\ \sin^2 x - 3\sin x - 4 &= 0 \end{aligned} \right\}$$

Ezek az egyenletek mind az $a^2 - 3a - 4 = 0$ másodfokú egyenletre vezethetők vissza új ismeretlen bevezetésével: ahol az új ismeretlen rendre $a = x^3$, $a = 2^x$, $a = \lg x$, $a = |x-2|$, $a = \sqrt{x+1}$, $a = \sin x$. Az a -ra nézve másodfokú egyenlet megoldásai: $a_1 = 4$, $a_2 = -1$. Visszahelyettesítve az eredeti ismeretlent, rendre a következőket kapjuk:

$$\begin{aligned} x^3 = 4 &\Rightarrow x = \sqrt[3]{4}, \text{ illetve } x^3 = -1 \Rightarrow x = -1; \\ 2^x = 4 &\Rightarrow x = 2, \text{ illetve } 2^x = -1 \Rightarrow \text{nincs megoldás;} \\ \lg x = 4 &\Rightarrow x = 10000, \text{ illetve } \lg x = -1 \Rightarrow x = 0,1; \\ |x-2| = 4 &\Rightarrow x-2 = \pm 4 \Rightarrow x_1 = 6, x_2 = -2, \text{ illetve } |x-2| = -1 \Rightarrow \text{nincs megoldás;} \\ \sqrt{x+1} = 4 &\Rightarrow x = 15 \text{ és } \sqrt{x+1} = -1 \Rightarrow \text{nincs megoldás;} \\ \sin x = 4 &\Rightarrow \text{nincs megoldás, illetve } \sin x = -1 \Rightarrow x = \frac{3\pi}{2} + k \cdot 2\pi, \text{ ahol } k \in \mathbb{Z}. \end{aligned}$$

V. Egyenletek ekvivalenciája (egyenértékűsége)

DEFINÍCIÓ: Két egyenlet **ekvivalens**, ha alaphalmazuk és megoldáshalmazuk is azonos.

DEFINÍCIÓ: **Ekvivalens átalakítás** az olyan átalakítás, amit egyenletek megoldása közben végzünk és ezzel az átalakítással az eredetivel ekvivalens egyenletet kapunk.

Ekvivalens átalakítás például az egyenlet mérlegelvvel történő megoldása. Nem ekvivalens átalakítás például változót tartalmazó kifejezéssel osztani az egyenlet mindkét oldalát, vagy négyzetre emelni az egyenlet mindkét oldalát.

Az egyenletek megoldása során nem mindig van lehetőségünk ekvivalens átalakításokat végezni. Ha lehet, ilyen esetekben vagy az értelmezési tartomány, vagy az értékészlet vizsgálatával próbálunk feltételeket felállítani.

De még így is előfordulhat, hogy olyan átalakítást végzünk, amely során

- az új egyenletnek szűkebb az értelmezési tartománya, mint az eredetinek, ekkor gyökvesztés állhat fenn;
- az új egyenletnek bővebb az értelmezési tartománya, mint az eredetinek, ekkor gyöknyerés állhat fenn.

VI. Gyökvesztés

Gyökvesztés következhet be, ha a változót tartalmazó kifejezéssel osztjuk az egyenlet mindkét oldalát, vagy olyan átalakítást végzünk, amely szűkíti az értelmezési tartományt.

Pl. hibás megoldás:

$$\begin{aligned} x^3 + 2x^2 + x &= 0 \\ \Downarrow \leftarrow :x \\ x^2 + 2x + 1 &= 0 \\ x &= -1 \end{aligned}$$

helyes megoldás:

$$\begin{aligned} x^3 + 2x^2 + x &= 0 \\ x(x^2 + 2x + 1) &= 0 \\ x &= 0 \\ \text{vagy} \\ x^2 + 2x + 1 &= 0 \Leftrightarrow x = -1 \end{aligned}$$

Pl. hibás megoldás:

$$\begin{aligned} \lg(x+2)^2 &= 2\lg 5 \leftarrow D_f = \mathbb{R} - \{-2\} \\ 2\lg(x+2) &= 2\lg 5 \leftarrow D_f =]-2, \infty[\\ \lg(x+2) &= \lg 5 \\ x+2 &= 5 \\ x &= 3 \end{aligned}$$

helyes megoldás:

$$\begin{aligned} \lg(x+2)^2 &= 2\lg 5 \leftarrow D_f = \mathbb{R} - \{-2\} \\ \lg(x+2)^2 &= \lg 25 \\ (x+2)^2 &= 25 \\ x+2 = 5 &\Rightarrow x = 3 \\ \text{vagy} \\ x+2 = -5 &\Rightarrow x = -7 \end{aligned}$$

VII. Hamis gyök

Hamis gyököt kaphatunk, ha az egyenlet mindkét oldalát négyzetre emeljük, vagy mindkét oldalt az ismeretlent tartalmazó kifejezéssel szorozzuk, vagy olyan átalakítást végzünk, ami bővíti az értelmezési tartományt.

1. példa: $\sqrt{7-x} = 1-x \quad |(\)^2$.

Eredeti feltétel: $7-x \geq 0 \Rightarrow x \leq 7 \Rightarrow D_f =]-\infty, 7]$.

A gyöknyerés kiküszöbölhető közbülső feltétellel: $1-x \geq 0 \Rightarrow x \leq 1 \Rightarrow D_{f_{\text{új}}} =]-\infty, 1]$.

$7-x = (1-x)^2 \Rightarrow x^2 - x - 6 = 0 \Rightarrow x_1 = 3 \notin D_{f_{\text{új}}}, x_2 = -2 \in D_{f_{\text{új}}}$

2. példa: $2x + \frac{1}{x-1} = 2 + \frac{1}{x-1} \quad | -\frac{1}{x-1} \Rightarrow 2x = 2 \Rightarrow x = 1$.

A gyöknyerés ekkor is kiküszöbölhető, ha az eredeti egyenletre írunk D_f -et.

3. példa: $\sqrt{x+6} - \sqrt{x+2} = \sqrt{2x+8}$.

Eredeti feltételek: $x+6 \geq 0 \Rightarrow x \geq -6$; $x+2 \geq 0 \Rightarrow x \geq -2$; $2x+8 \geq 0 \Rightarrow x \geq -4$; $\Rightarrow D_f = [-2; \infty[$.

Ha az egyenletet először rendezzük úgy, hogy mindkét oldal nemnegatív legyen, négyzetre emeljük mindkét oldalt, rendezzük úgy, hogy a gyökös kifejezés az egyik oldalra kerüljön, a többi tag a má-

sik oldalra, majd a négyzetre emelés előtt közbülső feltételt írunk, hogy a gyöknyerést kiküszöböljük:

$$\sqrt{x+6} = \sqrt{x+2} + \sqrt{2x+8} \rightarrow / \text{négyzetre emelés}$$

$$x+6 = x+2 + 2 \cdot \sqrt{x+2} \cdot \sqrt{2x+8} + 2x+8 \rightarrow / \text{rendezés}$$

$-2x-4 = 2 \cdot \sqrt{x+2} \cdot \sqrt{2x+8} \rightarrow$ közbülső feltétel írása: a jobb oldal nemnegatív, a bal oldalnak is annak kell lennie, mivel egyenlők, azaz $-2x-4 \geq 0 \Rightarrow x \leq -2 \Rightarrow D_{f_{\text{új}}} = \{-2\}$. Ebben az esetben nem is kell elvégezni a négyzetre emelést, hiszen csak egy szám felel meg az értelmezésnek, ha van megoldás, akkor csak ez az egy szám lehet. Ennek ellenőrzésével eldönthető, hogy ez valóban megoldás-e.

Akár a gyökvesztés, akár a hamis gyök elkerülhető, ha az egyenlet megoldása során mindig figyelünk az értelmezési tartomány változására, ha lehet, az értékészletet is vizsgáljuk, mert így szűkíteni lehet az alaphalmazt.

VIII. Ellenőrzés

Egyenletek megoldásánál két szempontból is fontos szerepe van az ellenőrzésnek: ki tudjuk szűrni a megoldás során esetleg elkövetett hibáinkat, illetve ki tudjuk zárni a hamis gyököket. Ez utóbbiak elkerülhetők, ha a megoldás során nem bővítjük az értelmezési tartományt.

A kapott megoldásokat behelyettesítéssel ellenőrizni kell, így el lehet dönteni, hogy az eredeti egyenletnek is megoldásai-e, vagy csak az átalakítottak.

IX. Alkalmazások:

- Egyenes, kör, parabola adott abszcisszájú vagy ordinátájú pontjának meghatározása
- Magasabb fokú egyenletek megoldása
- Pitagorasz-tétel
- Koszinusztételből oldal kiszámítása
- Mély szakadék mélységének meghatározása: egy ledobott kő dobásától a szakadék alján történő koppanás hangjának meghallásáig eltelt idő mérésével

Matematikatörténeti vonatkozások:

- Az ókori Mezopotámiából, a Kr. e. 2000-ből származó **ékírástól** található jelek alapján tudjuk, hogy az akkori írástudók már meg tudták oldani első- és másodfokú egyenleteket és egyenletrendszeret.
- A legrégebbi írásos emléken, a **Rhind-papiruszon** (~Kr. e. 1750) láthatjuk a nyomait a gyakorlatból eredő algebrai ismereteknek: 85, a hétköznapi élettel összefüggő számolási és geometriai feladatot tartalmaz. Ezek között megtalálhatóak az egyszerű elsőfokú egyismeretlenes egyenletek megoldási módszerei.
- Időszámításuk kezdete körül keletkezett Kínában a **Matematika kilenc fejezetben** című mű. Ennek utolsó fejezetében már megtalálható a másodfokú egyenlet megoldásának szabálya, amely azonos a ma használt megoldóképlettel.
- **Euklidesz**, a Kr. e. 300 körül élt görög matematikus *Elemek* című művében geometrikus tárgyalásban vizsgálta a másodfokú egyenlet megoldásait, szakaszok arányával szerkesztette meg az ismeretlen szakaszt.
- **Viète** (1540–1603) francia matematikus használt először betűket az együtthatók jelölésére, ő írta fel először a gyökök és együtthatók közti összefüggéseket.
- **Cardano** (1501–1576) olasz matematikus megalkotta a harmadfokú egyenlet megoldóképletét, a negyedfokú egyenlet megoldását visszavezette harmadfokú egyenlet megoldására.
- **Abel** (1802–1829) norvég matematikus bebizonyította, hogy az általános ötödfokú vagy magasabb fokú egyenletekre nem létezik univerzális megoldóképlet (róla nevezték el a matematikai Nobel-díjnak megfelelő Abel-díjat).
- **Galois** (1811–1832) francia matematikus megmutatta, melyek azok az egyenlettípusok, amelyek a négy alapművelettel és gyökvonással megoldhatók.

8. A leíró statisztika jellemzői, diagramok. Nevezetes középértékek

Vázlat:

- I. Adatsokaságok jellemzői (diagram, táblázat, osztályokba sorolás)
- II. A leíró statisztika jellemzői: mintavétel, gyakoriság, relatív gyakoriság, táblázat, osztályba sorolás
- III. Statisztikai mutatók: középértékek (módusz, átlag, medián, kvartilisek), terjedelem, szórás, átlagtól való abszolút eltérés
- IV. Diagramok: kör-, oszlop-, vonal-, sodrófa (boxplot) diagram, gyakorisági diagram
- V. Nevezetes középértékek (számtani, mértani, harmonikus, négyzetes)
Középek közti összefüggések
- VI. Nevezetes középértékek alkalmazása szélsőérték-feladatokban
 - összeg állandósága esetén szorzat maximalizálása
 - szorzat állandósága esetén összeg minimalizálása
- VII. Alkalmazások, matematikatörténeti vonatkozások

Kidolgozás:

I. Adatsokaságok jellemzői

DEFINÍCIÓ: A statisztika feladatai közé tartozik, hogy bizonyos egyedek meghatározott tulajdonságairól tájékozódjék, majd a szerzett (általában számszerű) adatokat feldolgozza, elemzi. Az elemzéshez összegyűjtött adatok halmazát adatsokaságnak, mintának, a meghatározott tulajdonságot ismérvnek, változónak nevezzük. A sokaság elemeinek az ismerv szerinti tulajdonságát statisztikai adatnak, az adatsokaság elemeinek számát a sokaság méretének nevezzük.

II. A leíró statisztika jellemzői

A leíró statisztika a tömegesen előforduló jelenségekkel, a jelenségekből nyert adatok vizsgálatával, elemzésével (leírásával) foglalkozik.

A statisztika egyik fontos feladata az adatok összegyűjtése. Ha a vizsgálandó egyedek száma nagyon nagy, akkor nem minden egyedet vizsgálunk meg a tulajdonság alapján, hanem az adatsokaságnak vesszük egy részhalmazát, vagyis az egyedek közül **mintát veszünk**. A megfelelően kiválasztott minta elemzéséből következtethetünk a sokaság adataira.

A **reprezentatív mintavétel**nél törekedni kell arra, hogy a vizsgált tulajdonság előfordulása a mintában közelítse a sokaságban való előfordulását. Pl. közvélemény-kutatás.

Véletlenszerű mintavétel esetén a sokaság elemei egyenlő valószínűséggel kerülnek a mintába. Pl. urnából húzás.

DEFINÍCIÓ: Az egyes adatok előfordulásának a száma a **gyakoriság**. Az adatok összehasonlíthatósága miatt sokszor a gyakoriságnak a teljes adatsokasághoz viszonyított arányával, a **relatív gyakorisággal** dolgozunk, azaz a gyakoriságot osztjuk az adatok számával.

Az adatokat megadhatjuk **táblázatos** formában, így az adatok áttekinthetően láthatók. Táblázat használatának előnye, hogy nagyobb adathalmazokat tömören, helytakarékosan ábrázolhatunk.

Leggyakrabban a gyakorisági táblázatot használjuk, ez a lehetséges adatokat és a hozzájuk tartozó gyakoriságokat tartalmazza.

Osztályokba soroljuk az adatokat, ha nagy méretű (sok adatból álló) adatsokasággal dolgozunk, vagy ha sok különböző érték van közel azonos gyakorisággal a sokaságban, akkor az egymáshoz

közeli értékek összevonásával az adatokat osztályokba rendezzük. Az osztályba soroláskor fontos szempont, hogy az osztályoknak diszjunktaknak (különállóknak), de hézagmentesnek kell lenniük. Egy **osztályköz hossza** az osztály felső és alsó határának különbsége. Gyakran azonos hosszúságú osztályokkal dolgozunk. Az **osztályközép** az osztály alsó és felső határának számtani közepe. Ekkor minden, az osztályba tartozó adatot úgy tekintünk, mintha értéke az osztályközép lenne. Az egyes osztályokba tartozó adatok száma a **kumulált gyakoriság**. Ha osztályközepekkel számolunk statisztikai mutatókat, akkor gyakoriságként mindig a kumulált gyakoriságot használjuk.

III. Statisztikai mutatók

A középértékek

Az adatsokaság egészét csak leegyszerűsítéseket alkalmazva tudjuk jellemezni. Ezt a célt szolgálják a **középértékek**, amelyek egyetlen számmal írják le egy adathalmazt.

Ezek előnye, hogy megfelelően alkalmazva jól jelenítik meg az egész adatsokaság valamilyen tulajdonságát, ugyanakkor hátrányuk, hogy nem nyújtanak képet az egyes adatokról.

DEFINÍCIÓ: Egy adatsokaságban a leggyakrabban előforduló adat a minta **módusza**.

Ha a legnagyobb gyakoriság csak egyszer fordul elő az adatsokaságban, akkor az egymódusú, ha többször is előfordul, akkor többmódusú, tehát a módusz több elem is lehet, ha ugyanakkora a gyakoriságuk.

A módusz előnye:

– könnyen meghatározható.

A módusz hátránya:

– semmitmondó, ha az adatok közel azonos gyakorisággal fordulnak elő;

– csak akkor ad használható jellemzést a mintáról, ha a többi adat gyakoriságához képest sokszor fordul elő egy adat, de ekkor sem mond semmit a többről.

DEFINÍCIÓ: Az adatok összegének és az adatok számának hányadosa a **minta átlaga (számtani közepe)**.

Súlyozott számtani középről beszélünk, ha az egyes adatok többször is előfordulnak, vagy különböző súlyokkal szerepelnek. Ekkor a súlyozott számtani közép kiszámítása: az adatokat szorozzuk a gyakoriságukkal, illetve a súlyukkal, majd ezek összegét vesszük, az összeget pedig elosztjuk a gyakoriságok, illetve a súlyok összegével.

Az átlag előnye:

– a nála nagyobb adatoktól vett eltéréseinek összege egyenlő a nála kisebb adatoktól vett eltéréseinek összegével.

Az átlag hátránya:

– egyetlen, a többitől jelentősen eltérő adat eltorzíthatja, így ekkor már nem jól jellemzi a mintát.

DEFINÍCIÓ: Az adatok **mediánja** a nagyság szerinti sorrendjükben a középső adat. Páratlan ($2n + 1$ darab) adat esetében a medián a középső (az $n + 1$ -edik) adat, páros ($2n$ darab) adat esetén a két középső (az n -edik és az $n + 1$ -edik) adat átlaga.

A definícióból adódik, hogy az összes előforduló ismérvérték (adat) fele kisebb vagy egyenlő, fele nagyobb vagy egyenlő, mint a medián.

A medián előnye:

– az adatoktól mért távolságainak összege minimális;

– valóban középérték, hiszen ugyanannyi adat nagyobb nála, mint ahány kisebb.

DEFINÍCIÓ: Kvartilisek azok a helyzetmutatók, amelyek a nagyság szerint növekvő sorrendbe rendezett adatokat négy, lehetőleg egyenlő mennyiségű részre osztják.

Alsó kvartilis (Q_1) az a szám, amelynél az adatok kb. negyede kisebb. Meghatározása: a mediánnal kettéosztott adatok alsó részének a mediánja.

Felső kvartilis: (Q_3) az a szám, amelynél az adatok kb. negyede nagyobb. Meghatározása: a mediánnal kettéosztott adatok felső részének a mediánja.

A szóródás jellemzői

DEFINÍCIÓ: Az adatok legnagyobb és legkisebb elemének a különbségét a **minta terjedelmének** nevezzük.

Minél kisebb a minta terjedelme, annál jobban jellemzi a mintát.

A terjedelem előnye:

– szemléletes, egyszerűen számolható.

A terjedelem hátránya:

– egy-két szélsőséges adat elronthatja.

DEFINÍCIÓ: A **félterjedelem** (interkvartilis terjedelem) a felső és alsó kvartilis különbsége. Az adatok felének elhelyezkedését mutatja meg.

Sokszor tapasztalunk **kiugró adatokat** az adatsokaságban, ezek jelentősen eltérnek a többi adattól. A jelentős eltérés szubjektív, nincs rá meghatározás, általában kiugró adatnak tekintjük a felső kvartilistól a félterjedelem 1,5-szeresével „felfelé”, vagy az alsó kvartilistól a félterjedelem 1,5-szeresével „lefelé” eltérő adatot. A kiugró adatok torzítják a mintát jellemző mutatókat, ezért sokszor kihagyjuk őket a minimum és maximum számolásakor.

A **mintát jellemző számötös:** minimum, alsó kvartilis, medián, felső kvartilis, maximum.

DEFINÍCIÓ: Az adatok átlagtól való eltérések négyzetének átlaga a **minta szórásnégyzete**, ennek

$$\text{négyzetgyöke a minta szórása: } S = \sqrt{\frac{\sum_{i=1}^n (x_i - \bar{x})^2}{n}}.$$

A szóráss megmutatja, hogy a minta adatai mennyire térnek el az átlagtól. Minél kisebb a szóráss, annál jobban jellemzi az átlag az adatsokaságot.

DEFINÍCIÓ: Az **átlagtól való abszolút eltérés:**

$$\frac{\sum_{i=1}^n |x_i - \bar{x}|}{n}.$$

Előnye: az abszolút érték miatt nem egyenlítődnek ki a pozitív és negatív eltérések.

IV. Diagramok

Az adatok grafikus megjelenítése diagramon történik, amelynek típusát a feladat határozza meg.

Oszlopdiagram: az adatok egymáshoz való viszonyát ábrázolja. Nem célszerű használni, ha az adatok közt van 1-2 kiugró érték (túl nagy: nem fér rá a diagramra, túl kicsi: eltörpül a többi oszlop közt), vagy ha az adatok közötti eltérés nagyon kicsi (közel azonosnak látszanak az értékek). A vízszintes tengelyen az adatfajtáknak megfelelő intervallumokat jelöljük, ezek fölé olyan téglalapokat rajzolunk, amelyeknek területe arányos az adatfajta gyakoriságával.

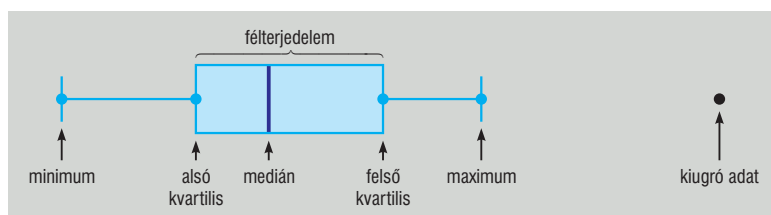
Hisztogram (gyakorisági diagram): az adatok gyakorisági eloszlását oszlopdiagramon ábrázolja úgy, hogy az oszlopok hézagmentesen helyezkednek el.

Sávdiaagram: fordított oszlopdiagram, amelyben a két tengely helyet cserél, az oszlopok vízszintesen, azaz sávok.

Kördiagram: a részadatoknak az egészhez való viszonyát ábrázolja. Alkalmass %-os formában megadott adatok ábrázolására. A teljes szög (360°) 100%-nak felel meg, a megfelelő százalékkérték egyenesen arányos a körcikk középponti szögével. Nem célszerű használni, ha nagyon sok az adat (túl kicsik a középponti szögek, nem összehasonlíthatók)

Vonaldiagram: koordináta-rendszerben pontként ábrázolja az összetartozó számpárokat, és ezeket töröttvonallal köti össze. Különböző adatok (pl. időbeli) változását ábrázolja. A gyakoriságok vonaldiagramját gyakorisági poligonnak nevezzük.

Sodrófa diagram (dobozdiagram, boxplot): a mintát jellemző számötös (minimum, alsó kvartilis, medián, felső kvartilis, maximum) segítségével ábrázolunk. Képe a minimum és az alsó kvartilis között egy szakasz, az alsó kvartilis és a felső kvartilis között egy téglalap (doboz), benne behúzva a medián, a felső kvartilis és a maximum között szintén egy szakasz. Ha egy-két nagyon kiugró adat van az adatsokaságban, akkor azokat kiugró adatként ábrázoljuk és nélkülük határozzuk meg a minimumot, illetve a maximumot. A sodrófa diagram lehet álló, illetve fekvő helyzetű is.



V. Pozitív számok nevezetes középértékei

DEFINÍCIÓ: Az $a_1, a_2, a_3, \dots, a_n$ pozitív számok

számtani (aritmetikai) közepe:

$$A = \frac{a_1 + a_2 + a_3 + \dots + a_n}{n};$$

mértani (geometriai) közepe:

$$G = \sqrt[n]{a_1 \cdot a_2 \cdot a_3 \cdot \dots \cdot a_n};$$

négyzetes (kvadratus) közepe:

$$Q = \sqrt{\frac{a_1^2 + a_2^2 + a_3^2 + \dots + a_n^2}{n}};$$

harmonikus közepe:

$$H = \frac{n}{\frac{1}{a_1} + \frac{1}{a_2} + \frac{1}{a_3} + \dots + \frac{1}{a_n}}, \text{ ha } a_1, a_2, a_3, \dots, a_n > 0.$$

TÉTEL: A középértékek közti összefüggés: $H \leq G \leq A \leq Q$.

Egyenlőség akkor és csak akkor, ha $a_1 = a_2 = a_3 = \dots = a_n$.

TÉTEL: Két pozitív valós szám esetén $\sqrt{a \cdot b} \leq \frac{a+b}{2}$.

BIZONYÍTÁS I.: Mivel az egyenlőtlenség mindkét oldala pozitív, ezért a négyzetre emelés az eredetivel ekvivalens állítást fogalmaz meg. Tehát

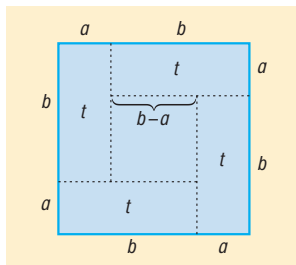
$$\begin{aligned} ab &\leq \frac{a^2 + 2ab + b^2}{4} \quad / \cdot 4 \\ 4ab &\leq a^2 + 2ab + b^2 \quad / - 4ab \\ 0 &\leq a^2 - 2ab + b^2 \quad / \text{nevezetes szorzattá alakítjuk} \\ 0 &\leq (a-b)^2 \end{aligned}$$

Az utolsó egyenlőtlenség igaz, így az eredeti is az.

Az eredmény alapján megállapítható, hogy a két közép akkor és csak akkor lesz egymással egyenlő, ha $a = b$. Ekkor $a = \sqrt{ab} = \frac{a+b}{2} = b$.

BIZONYÍTÁS II.: Legyen $0 < a \leq b$.

Vegyünk fel egy $a + b$ oldalú négyzetet, és az oldalait osszuk fel az ábrán látható módon.



A nagy négyzet területe egyenlő a keletkező részek területének összegével:

$$(a + b)^2 = 4t + (b - a)^2$$

A kis téglalap területe: $t = ab$.

Mivel $(b - a)^2 \geq 0$, ezért ezt a tagot elhagyva az $(a + b)^2 \geq 4t$ egyenlőtlenséghez jutunk.

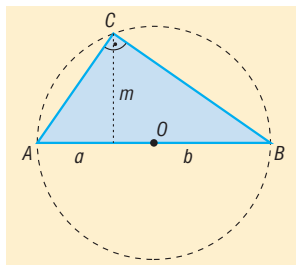
Behelyettesítve t helyére: $(a + b)^2 \geq 4ab$.

Mivel a feltétel miatt mindkét oldal pozitív, ezért gyököt vonhatunk: $a + b \geq 2\sqrt{ab}$.

Amiből $\frac{a+b}{2} \geq \sqrt{ab}$.

BIZONYÍTÁS III.: Legyen $a, b > 0$, $2r = a + b$.

Vegyünk fel egy r sugarú kört, benne egy AB átmérőt, a körvonalon egy A, B -től különböző C pontot.



A Thalész-tétel miatt $\angle ACB = 90^\circ$.

ABC háromszögre alkalmazva a magasságtételt: $m = \sqrt{ab}$.

De a körben $m \leq r$, azaz $\sqrt{a \cdot b} \leq \frac{a+b}{2}$.

VI. Nevezetes középértékek alkalmazása szélsőérték-feladatokban

1. Összeg állandósága esetén a szorzatot tudjuk maximalizálni.

Pl.: Azon téglalatestek közül, amelyek élleinek összege 60 cm, melyiknek a térfogata maximális?

Legyenek a téglalatest élei: a, b és c .

Ekkor a téglalatest térfogata $V = abc$, az élek összege: $4(a + b + c) = 60$.

Ebből $a + b + c = 15$.

A számtani és mértani közép közti egyenlőtlenséget kihasználva:

$$\frac{a+b+c}{3} \geq \sqrt[3]{abc} \Rightarrow \left(\frac{a+b+c}{3}\right)^3 \geq abc \Rightarrow \left(\frac{15}{3}\right)^3 \geq abc \Rightarrow 5^3 \geq abc \Rightarrow 125 \geq V.$$

Mivel egyenlőség csak $a = b = c$ esetén teljesül, így a térfogat az 5 cm élű kocka esetén maximális.

2. Szorzat állandósága esetén az összeget tudjuk minimalizálni.

Pl.: Azon téglalapok közül, amelyeknek a területe 100 cm^2 , melyiknek a kerülete a minimális?
Legyenek a téglalap oldalai a és b .

Ekkor a téglalap területe $t = ab = 100$, kerülete $k = 2(a + b)$, amiből $\frac{k}{4} = \frac{a+b}{2}$.

A számtani és mértani közép közti egyenlőtlenséget kihasználva:

$$\frac{a+b}{2} \geq \sqrt{ab} \Rightarrow \frac{k}{4} \geq \sqrt{100} \Rightarrow \frac{k}{4} \geq 10 \Rightarrow k \geq 40.$$

Mivel egyenlőség csak $a = b$ esetén teljesül, így a kerület a 10 cm oldalú négyzet esetén minimális.

Pl.: $f: \mathbb{R}^+ \rightarrow \mathbb{R}$, $f(x) = x + \frac{1}{x}$. Határozzuk meg az $f(x)$ függvény minimumát!

A számtani és mértani közép közti egyenlőtlenséget kihasználva:

$$\frac{x + \frac{1}{x}}{2} \geq \sqrt{x \cdot \frac{1}{x}} \Leftrightarrow x + \frac{1}{x} \geq 2 \cdot \sqrt{1} \Leftrightarrow x + \frac{1}{x} \geq 2 \Leftrightarrow f(x) \geq 2.$$

Ekkor az f minimumának értéke $f(x) = 2$, minimum helye: $x = \frac{1}{x} = 1$.

VII. Alkalmazások:

- Statisztika:
 - közvélemény-kutatások,
 - szavazások,
 - gazdasági mutatók,
 - osztályátlagok, hiányzási statisztikák,
 - felvételi átlagpontok
- Nevezetes középértékek:
 - számtani közép: statisztikai átlag kiszámítása,
 - mértani közép: átlagos növekedési ütem kiszámítása, magasságtétel, befogótétel,
 - négyzetes közép: statisztikai szórás kiszámítása,
 - harmonikus közép: átlagsebesség meghatározása

Matematikatörténeti vonatkozások:

- A különféle középértékeket a görög **Pitagorasz** és tanítványai vezették be a Kr. e. VI–V. században. Ők foglalkoztak az $a : b = b : c$ aránypár vizsgálatával. Így jutottak el a „mértani közeparányos” fogalmához. Valószínűleg az 1 és a 2 mértani közepének keresésekor találták meg az első irracionális számot, a $\sqrt{2}$ -t.
- A statisztika eredetileg „államszámtan” volt. A statisztika kifejezés a latin status (állam, állapot) és az olasz statista (köztisztviselő, politikus) szavakból származtatható. A statisztika már az ókortól kezdve arról tájékoztatta az államok vezetőit, hogy mekkora adókat vehetnek ki az alattvalóikra, azokból mennyi bevételük van, mekkora katonasággal számolhatnak egy eljövendő háborúban. **Kínában** már 4000 évvel ezelőtt összeírták a lakosságot, az ingatlanokat, az ingóságokat. **Angliában** a XI. században összeírták a földbirtokokat.
- **Magyarországon** a középkorban a dézsmajegyzekek (kilenced, tized), majd az újkorban (1530-tól) az urbáriumok (tartalmazta a jobbágyok állatállományát, eszközeit, szerszámain, telkének nagyságát és milyenségét is), a jobbágyösszeírások az 1700-as években, a népszámlálások az 1800-as évektől jelentették a statisztika alapjait.
- A statisztika a polgári forradalmak után vált igazi tudománnyá. A kapitalizmusban az államok vezetőin kívül a tőkéseket is érdekelni kezdték a statisztikai felmérések, egyre komolyabb eszközöket használtak fel adataik feldolgozására hasznuk növelése érdekében.

- A XVII. század óta a matematikai statisztika a matematika önálló ágává fejlődött, amelynek fő célja minél megbízhatóbb hasznosítható információt nyerni a felmérési, megfigyelési, mérési adatokból.
- Az 1890-es egyesült államokbeli népszámlálásra **Hollerith** feltalálta azt a gépet, amely a statisztikai adatokat lyukkártyák elektromos leolvasásával és rendszerezésével dolgozta fel. A gépgyártására Hollerith céget alapított, amelyből később az IBM jött létre.

9. Függvénytani alapismeretek, függvények tulajdonságai, határérték, folytonosság. Számsorozatok.

A számtani sorozat, az első n tag összege

Vázlat:

- I. Függvény fogalma, értelmezési tartomány, értékkészlet
- II. Függvénytulajdonságok:
 - Lokális függvénytulajdonságok: zérushely, monotonitás, lokális (helyi) szélsőérték, görbület, inflexió, folytonosság
 - Globális függvénytulajdonságok: értelmezési tartomány, értékkészlet, globális (abszolút) szélsőérték, paritás, periodikusság, folytonosság, korlátosság
- III. Számsorozat definíciója, megadási módjai
- IV. Tulajdonságai: monotonitás, korlátosság, konvergencia; kapcsolatok
- V. Számtani sorozat
- VI. Alkalmazások, matematikatörténeti vonatkozások

Kidolgozás:

I. Függvény fogalma, értelmezési tartomány, értékkészlet

DEFINÍCIÓ: Legyen A és B két nem üres halmaz. Azt mondjuk, hogy megadunk egy A halmazon értelmezett B -beli értéket felvevő **függvényt**, ha A minden eleméhez hozzárendeljük a B egy és csakis egy elemét. Jele: $f: A \rightarrow B$.

DEFINÍCIÓ: **Értelmezési tartomány**nak nevezzük az A halmazt. Jele D_f .

Ha az értelmezési tartomány egy valódi részhalmazán vizsgáljuk a függvényt, akkor a függvény **leszűkítéséről** beszélünk.

Ha olyan halmazon vizsgáljuk a függvényt, amelynek valódi részhalmaza az A halmaz, de a hozzárendelés képezhető, akkor a függvény **kiterjesztéséről** beszélünk.

DEFINÍCIÓ: **Értékkészlet** a B halmaz azon elemeiből álló halmaz, amelyek a hozzárendelésnél fellépnek (vagyis az $f(x)$ értékek). Jele az R_f .

DEFINÍCIÓ: Ha $c \in D_f$, akkor a c helyen felvett függvényértéket $f(c)$ -vel jelöljük, ez a helyettesítési érték vagy **függvényérték**.

DEFINÍCIÓ: Ha az értelmezési tartomány és az értékkészlet is számhalmaz, akkor a függvényt grafikonon tudjuk szemléltetni. A **grafikon** az $(x; f(x))$ pontok halmaza.

II. Függvénytulajdonságok

Lokális függvénytulajdonságok: zérushely, monotonitás, lokális (helyi) szélsőérték, görbület, inflexió, pontbeli folytonosság.

DEFINÍCIÓ: **zérushely:** Az értelmezési tartomány azon x_0 eleme, ahol a függvény értéke 0, azaz $f(x_0) = 0$.

DEFINÍCIÓ: **monotonitás:** Az f függvény az értelmezési tartományának egy intervallumában monoton **nő**, ha az intervallum minden olyan x_1, x_2 helyén, amelyre $x_1 < x_2$, akkor $f(x_1) \leq f(x_2)$ teljesül.

Az f függvény az értelmezési tartományának egy intervallumában monoton **csökken**, ha az intervallum minden olyan x_1, x_2 helyén, amelyre $x_1 < x_2$, akkor $f(x_1) \geq f(x_2)$ teljesül.

Ha az egyenlőtlenségben az egyenlőség nincs megengedve, akkor **szigorú monotonitásról** beszélünk.

DEFINÍCIÓ: lokális (helyi) szélsőérték: Az f függvénynek az $x_0 \in D_f$ helyen **lokális maximuma** van, ha az x_0 -nak van olyan I környezete, amelynek minden $x \in D_f$ pontjában $f(x) \leq f(x_0)$. Az x_0 helyet lokális (helyi) maximumhelynek nevezzük.

Az f függvénynek az $x_0 \in D_f$ helyen **lokális minimuma** van, ha az x_0 -nak van olyan I környezete, amelynek minden $x \in D_f$ pontjában $f(x) \geq f(x_0)$. Az x_0 helyet lokális (helyi) minimumhelynek nevezzük.

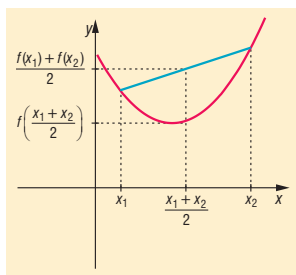
A monotonitás és a szélsőérték definíciójából következik, hogy ahol a függvény monotonitást vált, ott lokális szélsőértéke van.

DEFINÍCIÓ: görbület: A függvényt egy intervallumban **konvexnek** nevezzük, ha az intervallum

bármely két x_1, x_2 pontjára teljesül az $f\left(\frac{x_1 + x_2}{2}\right) \leq \frac{f(x_1) + f(x_2)}{2}$ egyenlőtlenség.

Ha az egyenlőtlenség fordított irányú, akkor a függvény **konkáv** az adott intervallumon.

Szemléletesen a konvex (illetve konkáv) görbékre jellemző, hogy a görbe bármely két pontját összekötő szakasz a görbe felett (illetve alatt) halad.



DEFINÍCIÓ: inflexió: A függvénygörbének azt a pontját, ahol a görbe konvexből konkávba, vagy konkávból konvexbe megy át, **inflexióspontnak** nevezzük.

DEFINÍCIÓ: pontbeli folytonosság: Az f függvény az értelmezési tartományának egy x_0 pontjában **folytonos**, ha létezik az x_0 pontban határértéke és az megegyezik a helyettesítési értékkel, vagyis $f(x_0) = \lim_{x \rightarrow x_0} f(x)$.

Globális függvénytulajdonságok: értelmezési tartomány, értékészlet, globális (abszolút) szélsőérték, paritás, periodikusság, intervallumbeli folytonosság, korlátosság.

DEFINÍCIÓ: globális (abszolút) szélsőérték: Az f függvénynek az $x_0 \in D_f$ helyen **globális maximuma** van, ha minden $x \in D_f$ pontjában $f(x) \leq f(x_0)$. Az x_0 helyet globális maximumhelynek nevezzük.

Az f függvénynek az $x_0 \in D_f$ helyen **globális minimuma** van, ha minden $x \in D_f$ pontjában $f(x) \geq f(x_0)$. Az x_0 helyet globális minimumhelynek nevezzük.

Tehát a szélsőérték abszolút (globális) szélsőérték x_0 -ban, ha az értelmezési tartomány minden pontjára igazak az egyenlőtlenségek.

DEFINÍCIÓ: paritás: Az f függvény **páros**, ha értelmezési tartományának minden x elemére $-x$ is eleme az értelmezési tartománynak, továbbá az értelmezési tartomány minden x elemére $f(x) = f(-x)$.

Az f függvény **páratlan**, ha értelmezési tartományának minden x elemére $-x$ is eleme az értelmezési tartománynak, továbbá az értelmezési tartomány minden x elemére $f(x) = -f(-x)$.

A páros függvénynek a grafikonja tengelyesen szimmetrikus az y tengelyre (pl. $x \mapsto x^{2n}$, $x \mapsto |x|$, $x \mapsto \cos x$).

A páratlan függvények grafikonja középpontosan szimmetrikus az origóra (pl. $x \mapsto x^{2n+1}$, $x \mapsto \frac{1}{x}$, $x \mapsto \sin x$, $x \mapsto \operatorname{tg} x$).

DEFINÍCIÓ: periodikusság: Az f függvény **periodikus**, ha létezik olyan $p \neq 0$ valós szám, hogy a függvény értelmezési tartományának minden x elemére $x + p$ is eleme az értelmezési tartománynak, továbbá az értelmezési tartomány minden x elemére $f(x + p) = f(x)$, a legkisebb ilyen p a függvény periódusa (pl. trigonometrikus függvények, törtrészfüggvény).

DEFINÍCIÓ: intervallumbeli folytonosság: Az f függvény egy nyílt intervallumban **folytonos**, ha az intervallum minden pontjában folytonos

(pl.: folytonos: $x \mapsto x^n$, $x \mapsto \log_a x$, $x \mapsto a^x$, $x \mapsto \sin x$, $x \mapsto \cos x$; nem folytonos: egészrész, $x \mapsto \frac{1}{x}$, $x \mapsto \operatorname{tg} x$, $x \mapsto \operatorname{ctg} x$).

DEFINÍCIÓ: korlátosság: Az f függvény **felülről korlátos** az értelmezési tartományának egy intervallumában, ha létezik olyan K szám, hogy az intervallum minden x pontjában $f(x) \leq K$. Egy függvény felső korlátai közül a legkisebbet a függvény **felső határának** (szuprémumának) nevezzük.

Az f függvény **alulról korlátos** az értelmezési tartományának egy intervallumában, ha létezik olyan k szám, hogy az intervallum minden x pontjában $f(x) \geq k$. Egy függvény alsó korlátai közül a legnagyobbat a függvény **alsó határának** (infimumának) nevezzük.

Korlátos egy függvény, ha alulról és felülről is korlátos.

III. Számsorozat

DEFINÍCIÓ: A **számsorozat** olyan függvény, amelynek értelmezési tartománya a pozitív egész számok halmaza, értékkészlete pedig valamilyen számhalmaz.

Az a_1, a_2, \dots, a_n tagokból álló sortozatot $\{a_n\}$ -nel vagy (a_n) -nel jelöljük. A sorozat n -edik tagja: a_n .

Sorozatok megadása történhet:

- Függvényszerűen: $f: \mathbb{N}^+ \rightarrow \mathbb{R}$, $x \mapsto x^2$, tagjai 1, 4, 9, 16, ...
- Az n -edik általános tagot előállító formulával: $a_n = 3 \cdot 2^n$.
- Az elemeit egyértelműen meghatározó utasítással: $\{a_n\} = \{2^n \text{ utolsó számjegye}\}$.
- A sorozat tagjaival: 3, 6, 9, 12, 15, 18, ...
- Rekurzív módon: megadjuk a sorozat első néhány tagját, valamint a képzési szabályt, amellyel a sorozat következő tagjai a megelőzőkből megkaphatók.
Pl.: *Fibonacci-sorozat*: $a_1 = 1$, $a_2 = 1$, $a_n = a_{n-1} + a_{n-2}$, ha $n \geq 3$. A tagok: 1, 1, 2, 3, 5, 8, 13, 21, ...

IV. Sorozatok tulajdonságai

DEFINÍCIÓ: Az $\{a_n\}$ sorozat **szigorúan monoton** növekvő, ha minden pozitív egész n -re teljesül:
 $a_n < a_{n+1}$.

DEFINÍCIÓ: Az $\{a_n\}$ sorozat **szigorúan monoton** csökkenő, ha minden pozitív egész n -re teljesül:
 $a_n > a_{n+1}$.

Ha nem a szigorú monotonitást, csak a monotonitást kérjük, akkor megengedett az egyenlőség is.

Ha egy sorozat monotonitását keressük, akkor általában nem az $a_n \lesseqgtr a_{n+1}$ kapcsolatot vizsgáljuk, hanem vagy $a_{n+1} - a_n \lesseqgtr 0$, vagy $\frac{a_{n+1}}{a_n} \lesseqgtr 1$. Ha a sorozat szigorúan monoton növekvő, akkor $a_{n+1} - a_n > 0$, illetve $\frac{a_{n+1}}{a_n} > 1$, ha a sorozat szigorúan monoton csökkenő, akkor $a_{n+1} - a_n < 0$, illetve $\frac{a_{n+1}}{a_n} < 1$. Ha bármelyik esetben a reláció mellett az egyenlőség is teljesül, akkor a sorozat csak monoton. Többnyire a feladat típusa dönti el, hogy melyik módszerrel vizsgáljuk a sorozat monotonitását. Magasabb kitevőjű vagy faktoriális tartalmú összefüggések esetén célszerű a hányadossal való vizsgálat, gyakrabban használjuk a különbséggel való számolást.

DEFINÍCIÓ: Egy $\{a_n\}$ sorozatnak K felső korlátja, ha $a_n \leq K$ minden pozitív egész n -re teljesül. Ilyenkor a sorozatot **felülről korlátosnak** nevezzük.

DEFINÍCIÓ: Egy $\{a_n\}$ sorozatnak k alsó korlátja, ha $a_n \geq k$ minden pozitív egész n -re teljesül. Ilyenkor a sorozatot **alulról korlátosnak** nevezzük.

DEFINÍCIÓ: Egy sorozat **korlátos**, ha alulról és felülről is korlátos.

DEFINÍCIÓ: A felülről korlátos sorozat legkisebb felső korlátját a sorozat **felső határának**, alulról korlátos sorozat legnagyobb alsó korlátját a sorozat **alsó határának** nevezzük.

TÉTEL: Felülről korlátos sorozatnak van felső határa, alulról korlátos sorozatnak van alsó határa.

TÉTEL: Végtelen sok egymásba skatulyázott, zárt intervallumnak van közös pontja. Ha az intervallumok hossza minden pozitív számnál kisebbé válik, akkor pontosan egy közös pont van.

DEFINÍCIÓ: Az $\{a_n\}$ sorozat **konvergens** és **határértéke** az A szám, ha minden pozitív ε számhoz létezik olyan N pozitív egész, hogy a sorozat a_N utáni tagjai mind az A szám ε sugarú környezetébe esnek, vagyis minden pozitív ε számhoz létezik olyan N pozitív egész, hogy minden $n > N$ esetén $|a_n - A| < \varepsilon$. Jelölése: $\lim_{n \rightarrow \infty} a_n = A$, vagy $a_n \rightarrow A$.

Ez szemléletesen azt jelenti, hogy bármilyen kis pozitív ε -ra a sorozatnak csak véges sok tagja esik az $]A - \varepsilon, A + \varepsilon[$ intervallumon kívülre.

DEFINÍCIÓ: Az olyan sorozatokat, amelyeknek nincs határértékük, **divergens** sorozatoknak nevezzük.

TÉTEL: A konvergens sorozatok tulajdonságai:

- Konvergens sorozatnak csak egy határértéke van.
- Ha egy sorozat konvergens, akkor korlátos.
- Ha egy sorozat monoton és korlátos, akkor konvergens. A sorozat határértéke monoton növekedés esetében a sorozat felső, monoton csökkenés esetében a sorozat alsó határa.
- Konvergens sorozat bármely részsorozata is konvergens.
- Ha minden $n \in \mathbb{N}^+$ -ra $a_n \leq b_n \leq c_n$ és $a_n \rightarrow A$, $c_n \rightarrow A$, akkor $b_n \rightarrow A$. Ez a rendőrelv.

V. Számítási sorozat

DEFINÍCIÓ: Azt a számsorozatot, amelyben a második tagtól kezdve bármely tag és a közvetlenül előtte álló tag különbsége állandó, **számítási sorozatnak** nevezzük. Ez a különbség a **différenca**, jele d .

Ha egy számítási sorozat esetén

- $d > 0$, akkor a sorozat szigorúan monoton növekvő, és alulról korlátos.
- $d = 0$, akkor a sorozat konstans.
- $d < 0$, akkor a sorozat szigorúan monoton csökkenő, és felülről korlátos.

TÉTEL: Ha egy **számtani sorozat** első tagja a_1 , differenciája d , akkor **n -edik tagja** $a_n = a_1 + (n - 1)d$.

BIZONYÍTÁS: teljes indukcióval.

Definíció szerint $a_2 - a_1 = d \Leftrightarrow a_2 = a_1 + d$.

Tegyük fel, hogy a k -adik elemre igaz az állítás, azaz $a_k = a_1 + (k - 1)d$.

Bizonyítani kell, hogy a $(k + 1)$ -edik elemre öröklődik, azaz $a_{k+1} = a_1 + ((k + 1) - 1)d = a_1 + kd$.

A definíció szerint $a_{k+1} - a_k = d \Leftrightarrow a_{k+1} = a_k + d = a_1 + (k - 1)d + d = a_1 + kd$. Így bebizonyítottuk az öröklődést, tehát igaz az állítás.

TÉTEL: A **számtani sorozat első n tagjának összege** (S_n) az első és az n -edik tag számtani közepe

pének n -szeresével egyenlő: $S_n = \frac{a_1 + a_n}{2} \cdot n$.

BIZONYÍTÁS: az összeget felírjuk az 1., aztán az n -edik tagtól kiindulva:

$$S_n = a_1 + a_2 + a_3 + \dots + a_{n-2} + a_{n-1} + a_n$$

$$S_n = a_n + a_{n-1} + a_{n-2} + \dots + a_3 + a_2 + a_1$$

$$S_n = a_1 + (a_1 + d) + (a_1 + 2d) + \dots + (a_1 + (n - 3)d) + (a_1 + (n - 2)d) + (a_1 + (n - 1)d)$$

$$S_n = a_n + (a_n - d) + (a_n - 2d) + \dots + (a_n - (n - 3)d) + (a_n - (n - 2)d) + (a_n - (n - 1)d)$$

$$\text{Összeadva: } 2S_n = \underbrace{(a_1 + a_n) + (a_1 + a_n) + \dots + (a_1 + a_n)}_n.$$

$$2S_n = (a_1 + a_n) \cdot n$$

$$S_n = \frac{a_1 + a_n}{2} \cdot n$$

Ezzel a tételt bizonyítottuk.

TÉTEL: S_n másik alakja: $S_n = \frac{2a_1 + (n - 1)d}{2} \cdot n$.

TÉTEL: Tetszőleges elem a tőle szimmetrikusan elhelyezkedőknek a számtani közepe:

$$a_n = \frac{a_{n-k} + a_{n+k}}{2}.$$

Számtani sorozat konvergenciája: Csak $d = 0$ esetén konvergens a számtani sorozat.

VI. Alkalmazások:

- A Fibonacci-sorozat elemeivel sok helyen találkozhatunk a természetben. Például a fenyőto-boz, az ananász pikkelyei, a napraforgó magjai Fibonacci-spirálban helyezkednek el.
- Speciális sorozatok határértéke:

$$- \lim_{n \rightarrow \infty} \frac{1}{n} = 0$$

$$- \lim_{n \rightarrow \infty} \left(1 + \frac{1}{n}\right)^n = e, \text{ ami a természetes alapú logaritmus alapszáma (Euler-típusú sorozat).}$$

$$- \text{Következmény: } \lim_{n \rightarrow \infty} \left(1 + \frac{\alpha}{n}\right)^n = e^\alpha$$

$$- \lim_{n \rightarrow \infty} q^n = \begin{cases} 0, & \text{ha } |q| < 1 \\ \infty, & \text{ha } q > 1 \\ \text{nem létezik,} & \text{ha } q \leq -1 \\ 1, & \text{ha } q = 1 \end{cases}. \text{ Ez a mértani sorozat.}$$

- Analízis: függvény határértékénél, folytonosságánál
- Irracionális kitevőjű hatvány fogalma sorozat határértékével

Matematikatörténeti vonatkozások:

- **Babilóniában** a Kr. e. VI–III. század között már ismerték a számtani haladvány összegképletének megfelelő eljárást. Utasítást adtak az első n négyzetszám összegének a kiszámítására.
- A **pitagoreusok** (Pitagorasz tanítványai) Kr. e. 5–600 körül tudták a számtani sorozat tagjait összegezni, ismerték az első n páratlan szám összegét (24. tétel).
- A számtani sorozat összegképletére a hinduk az V–XII., a kínaiak pedig a VI–IX. század között jöttek rá.
- **Euler** (1717–1783) német matematikus vezette be a róla elnevezett sorozat határértékét e -nek.
- **Cauchy** (1789–1837) francia matematikus fektette szilárd alapokra a matematika alapvető fogalmait (mint például konvergencia, sorozat, határérték), ő definiálta ezeket a matematikában megkövetelt szabatossággal.
- A XVII. században **Descartes** (1596–1650) francia matematikus foglalkozott először a függvényekkel: bevezette a változó fogalmát, a függvény megfeleltetésnek tekintette.

10. Mértani sorozat, az első n tag összege, végtelen mértani sor. Kamatszámítás, gyűjtőjáradék, törlesztőrészlet. Exponenciális folyamatok a társadalomban és a természetben

Vázlat:

- I. Mértani sorozat, a sorozat általános tagja, az első n tag összege
- II. Végtelen mértani sor
- III. Kamatszámítás
- IV. Gyűjtőjáradék
- V. Törlesztőjáradék
- VI. Exponenciális folyamatok a társadalomban és a természetben
- VII. Alkalmazások, matematikatörténeti vonatkozások

Kidolgozás:

I. Mértani sorozat, a sorozat általános tagja, az első n tag összege

DEFINÍCIÓ: A **számsorozat** olyan függvény, amelynek értelmezési tartománya a pozitív egész számok halmaza, értékkészlete pedig valamilyen számhalmaz.

Az a_1, a_2, \dots, a_n tagokból álló sorozatot $\{a_n\}$ -nel vagy (a_n) -nel jelöljük. A sorozat n -edik tagja: a_n .

DEFINÍCIÓ: Azt a számsorozatot, amelyben a második tagtól kezdve bármely tag és a közvetlenül előtte álló tag hányadosa állandó, **mértani sorozat**nak nevezzük. Ez a hányados a **kvóciens**, jele q .

A definíció kizárja, hogy a sorozat bármely eleme 0 legyen, továbbá a hányados sem lehet 0.

TÉTEL: Ha egy **mértani sorozat** első tagja a_1 , hányadosa q , akkor **n -edik tagja** $a_n = a_1 \cdot q^{n-1}$.

BIZONYÍTÁS: teljes indukcióval a számtani sorozat n -edik tagjához hasonlóan.

TÉTEL: A mértani sorozat első n tagjának összege:

- ha $q = 1$, akkor $S_n = n \cdot a_1$;
- ha $q \neq 1$, akkor $S_n = a_1 \cdot \frac{q^n - 1}{q - 1}$.

BIZONYÍTÁS:

- Ha $q = 1$, akkor a sorozat minden tagja a_1 , így $S_n = \overbrace{a_1 + a_1 + \dots + a_1}^n = n \cdot a_1$;
- ha $q \neq 1$, akkor az összeget írjuk fel a_1 -gyel, és q -val:

$$S_n = a_1 + a_1q + a_1q^2 + \dots + a_1q^{n-2} + a_1q^{n-1}.$$

Szorozzuk meg mindkét oldalt q -val:

$$S_n q = a_1 q + a_1 q^2 + a_1 q^3 + \dots + a_1 q^{n-1} + a_1 q^n.$$

Vonjuk ki a két egyenletet egymásból:

$$S_n q - S_n = a_1 q^n - a_1.$$

$$S_n (q - 1) = a_1 (q^n - 1).$$

Osszuk mindkét oldalt $(q - 1) \neq 0$ -val:

$$S_n = a_1 \cdot \frac{q^n - 1}{q - 1},$$

így állításunkat beláttuk.

TÉTEL: Bármely elem négyzete egyenlő a tőle szimmetrikusan elhelyezkedő tagok szorzatával:

$$a_n^2 = a_{n-k} \cdot a_{n+k}.$$

TÉTEL: Pozitív tagú sorozatnál bármely elem a tőle szimmetrikusan elhelyezkedő elemek mértani közepe: $a_n = \sqrt{a_{n-k} \cdot a_{n+k}}$.

Mértani sorozat konvergenciája:

- $a_n \rightarrow a_1$, ha $q = 1$.
- $a_n \rightarrow 0$, ha $|q| < 1$.
- $\{a_n\}$ divergens, ha $q = -1$, vagy $|q| > 1$.

II. Végtelen mértani sor

DEFINÍCIÓ: Legyen adott egy $\{a_n\}$ számsorozat. Az $a_1 + a_2 + a_3 + \dots + a_{n-2} + a_{n-1} + a_n + \dots$ végtelen sok tagú összeget **végtelen sornak** (vagy röviden sornak) nevezzük.

$$\text{Jelölés: } a_1 + a_2 + a_3 + \dots + a_{n-2} + a_{n-1} + a_n + \dots = \sum_{i=1}^{\infty} a_i.$$

DEFINÍCIÓ: Ha az $a_1 + a_2 + a_3 + \dots + a_{n-2} + a_{n-1} + a_n + \dots$ végtelen sorban az $a_1, a_2, a_3, \dots, a_{n-2}, a_{n-1}, a_n, \dots$ tagok egy mértani sorozat tagjai, akkor a sort **mértani sornak** nevezzük.

Felmerül a kérdés, hogy mit értsünk végtelen sok szám összegén, hiszen a véges sok szám esetén megszokott módszerek nem alkalmazhatók.

DEFINÍCIÓ: A **sor összegén** az

$$\begin{aligned} S_1 &= a_1 \\ S_2 &= a_1 + a_2 \\ &\vdots \\ S_n &= a_1 + a_2 + a_3 + \dots + a_n \end{aligned}$$

úgynevezett részletösszegek sorozatának határértékét értjük, amennyiben ez a határérték létezik. Tehát a sor összegét egy olyan sorozat határértékével definiáljuk, amely sorozat első tagja a_1 , n -edik tagja az eredeti sorozat első n tagjának összege.

TÉTEL: Ha egy mértani sorban $|q| < 1$, akkor a mértani sor konvergens, és összege $S = \frac{a_1}{1-q}$, ha $|q| \geq 1$, akkor nem konvergens.

III. Kamatszámítás

Pénzügyi folyamatokban a **kamat** a kölcsönadott, illetve a letétbe helyezett pénzösszeg, vagyis a **tőke** használatáért járó díj egy adott időszakra. A kamat nagyságát a tőke százalékában fejezzük ki, ez a kamatláb ($p\%$). De számolhatunk kamattényezővel (q) is, ami a kamatláb 100-ad részével tér el az 1-től: értéknövekedés esetén $q = 1 + \frac{p}{100}$, értékcsökkenés esetén $q = 1 - \frac{p}{100}$.

Kamatos kamatról akkor beszélünk, ha a kamatozási időszak végén a kamatot hozzáadják a tőkéhez, és utána ez a megnövekedett érték kamatozik.

A kamatos kamatszámítása a mértani sorozat alkalmazásának olyan speciális esete, amikor a sorozatnak van nulladik tagja, amit a pénzügyi számításokban a -val (annuitás rövidítése) jelölünk.

Kamatoskamatszámítás: ha egy a összeg $p\%$ -kal kamatozik évente, akkor az n -edik év végére az összeg $a_n = a \cdot \left(1 + \frac{p}{100}\right)^n$. Ha $q = 1 + \frac{p}{100}$ kamattényező, akkor $a_n = a \cdot q^n$. Ez olyan mértani sorozat n -edik eleme, amelynek első eleme aq , hányadosa q .

Az a_n összefüggésében négy mennyiség szerepel, közülük bármely hármat ismerve a negyedik kiszámolható.

A kamatozás üteme nemcsak éves, hanem havi, napi stb. is lehet. Ekkor figyelni kell arra, hogy a kamattényező és az időszak hossza azonos nagyságú időszakra vonatkozzon.

Ha az éves kamatláb $p\%$, az éves kamattényező q , akkor a havi és a napi kamattényező kétféleképpen számolható: vagy havi, illetve napi kamatozású kamatos kamattal, vagy egyszerű kamatozással.

Havi jóváírású kamatos kamattal a havi kamattényező $\sqrt[12]{1 + \frac{p}{100}} = \sqrt[12]{q}$, napi jóváírású

kamatos kamattal a napi kamattényező $\sqrt[365]{1 + \frac{p}{100}} = \sqrt[365]{q}$.

Egyszerű kamatozással a havi kamattényező $\frac{1 + \frac{p}{100}}{12}$, a napi kamattényező $\frac{1 + \frac{p}{100}}{365}$.

Mindig a feladat szövege határozza meg azt, hogy melyik kamatozással kell számolni.

IV. Gyűjtőjárdék

Gyűjtőjárdékról akkor beszélünk, ha egy alapösszeget egyenlő időközönként ugyanakkora összeggel növelünk, vagyis egyenlő időközönként azonos összeget elhelyezünk a bankban ugyanazon a számlán, vagyis gyűjtjük a pénzt, és minden betett összegünk kamatos kamattal kamatozik.

Gyűjtőjárdék számítása: minden év elején egy a összeget teszünk a bankba, és ez $p\%$ -kal kamatozik évente úgy, hogy a következő év elején a megnövekedett összeghez tesszük hozzá az újabbat.

Ha a kamattényező $q = 1 + \frac{p}{100}$, akkor az n -edik év végén a rendelkezésre álló összeg egy olyan

mértani sorozat első n elemének összege, ahol $a_1 = aq$. Ekkor az n -edik év végére $S_n = aq \cdot \frac{q^n - 1}{q - 1}$ összeget gyűjtünk.

V. Törlesztőrészlet

Törlesztőrészletről akkor beszélünk, ha egy hitelt egyenlő időközönként ugyanakkora összeggel fizetünk vissza, azaz egyenlő időközönként azonos összeggel csökkentjük a tartozásunkat, vagyis törlesztjük a hitelt, minden befizetett összeg után csak a fennálló tartozásra fizetünk kamatos kamatot.

Törlesztőrészlet számítása: felvesszünk n évre S_n nagyságú hitelt évi $p\%$ -os kamatra, és minden évben a összeget törlesztünk. Az n -edik év végére a befizetéseknek kamatokkal megnövelt értéké-

nek egyenlőnek kell lennie a kölcsön n év alatt $p\%$ -os kamatozással megnőtt értékével. Ha a kamattényező $q = 1 + \frac{p}{100}$, akkor a hitelre fennálló összefüggés: $S_n \cdot q^n = a \cdot \frac{q^n - 1}{q - 1}$.

VI. Exponenciális folyamatok a társadalomban és a természetben

A társadalomban és a természetben lejátszódó exponenciális folyamatok fő típusai az időben, illetve a térben lejátszódó exponenciálisan növekedő, illetve csökkenő folyamatok.

Az időben lezajló exponenciális növekedést a $N_t = N_0 \cdot e^{\lambda t}$, a csökkenést a $N_t = N_0 \cdot e^{-\lambda t}$ képlet írja le, ahol N_0 a kezdeti mennyiség és N_t a t időpontbeli mennyiség. Az exponenciális folyamatra jellemző a λ paraméter, amit rendszerint pozitívnak választanak csökkenés esetén is.

Az exponenciálisan növekedő mennyiségek minél nagyobbak, annál gyorsabban növekszenek. A növekedés mértéke arányos a mennyiség nagyságával. Az exponenciálisan növekvő mennyiségek változását exponenciális függvény írja le.

Az exponenciális változás lehet folytonos (pl. populáció növekedése), illetve diszkrét (pl. kamatos kamat).

Az egyik legjellemzőbb probléma a Föld túlnépesedése. Egy matematikai modell szerint a népesség 1837 óta (akkor a lakosság kb 1 milliárd volt) az előző évének $1,1\%$ -ával növekedett. Ez azt jelenti, hogy 1837 óta a Föld lakosságát leíró képlet: $N_t = 1 \cdot 1,011^t$. A modell szerint a Föld lakossága kb. 63 évente megduplázódik ($1,011^{63} \approx 2$). Mai ismereteink szerint a 2026-ra adott 8 milliárd lakos becslés közel áll a valósághoz. Az exponenciális népességnövekedés ezek szerint azt is jelenti, hogy ugyanannyi időközönként egyre nagyobb számmal növekszik a népesség. A rendelkezésre álló erőforrások – például energia, nyersanyag, élelem – azonban nem tudnak lépést tartani ezzel a növekedéssel. Így vagy az életfeltételek romlanak drámaian, vagy a népesség növekedési ütemének kell drasztikusan csökkennie.

A természetben a populációk növekedési folyamata kezdetben exponenciális függvénnyel írható le (ideális körülmények között: táplálékhiány, ragadozók hiánya). Előbb-utóbb azonban eljön a telítődés ideje, amikor is a növekedés különböző okok miatt erősen lelassul; a természetben ilyen okok a terület eltarthatósága és a fajtársak vetélkedése.

A diszkrét exponenciális növekedés leggyakoribb felhasználási területe a kamatos kamat számítása, ekkor a kamatot évente egyszer és nem a kamat keletkezésének időpontjában tőkésítik, vagyis veszik hozzá a tőkéhez.

A diszkrét exponenciális csökkenés elsősorban a tárgyak (pl. autó, számítógép) értékcsökkenésének számolása, ekkor a csökkenés mértéke az előző időszak százalékában adott. Évi $p\%$ -os értékcsökkenés esetén n év múlva a tárgy értéke: $a_n = a \cdot \left(1 - \frac{p}{100}\right)^n$. Pl. ha évente 11% -kal csökken a tárgy értéke, akkor kb. 6 év alatt a tárgy értéke a felére csökken, a 6 év ebben az esetben a tárgy értékének felezési ideje.

Térben exponenciális folyamat pl. az egyes sugárzások elnyelődése homogén közegben. Ezek hasonló képletekkel írhatók fel, mint az időben exponenciális folyamatok, de idő helyett a távolság a változó.

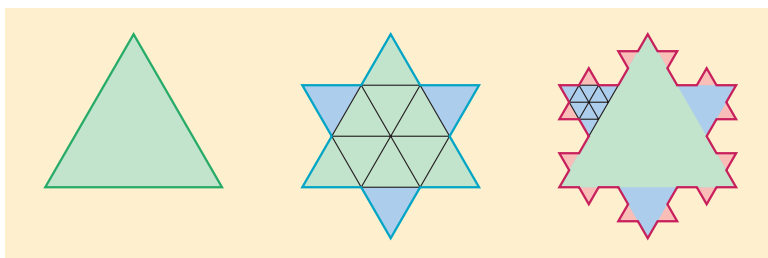
Az exponenciális folyamatok lényege tehát az, hogy egyenlő időközök alatt mindig ugyanannyiszorosára változik a vizsgált mennyiség.

VII. Alkalmazások:

- Végtelen szakaszos tizedes törtek közöséges tört alakra hozásakor a konvergens mértani sor tulajdonságait használjuk
- $\lim_{n \rightarrow \infty} q^n = \begin{cases} 0, & \text{ha } |q| < 1 \\ \infty, & \text{ha } q > 1 \\ \text{nem létezik,} & \text{ha } q \leq -1 \\ 1, & \text{ha } q = 1 \end{cases}$. Ez a mértani sorozat
- Az $N = N_0 \cdot e^{-\lambda(t-t_0)}$ bomlási törvényben, ahol N a még el nem bontott részecskék száma, N_0 a kezdeti részecskeszám, λ az anyagra jellemző bomlási állandó. A felezési idő alatt a radioaktív atomok száma a kezdeti érték felére csökken, akármelyik pillanat az idő mérésének kezdete
- Exponenciális függvényvel írható le, azaz mértani sorozat szerint változó folyamatok pl. a radioaktív izotópok bomlási egyenletei, vagy az oldódás folyamata, a kondenzátor feltöltődésének és kisülésének folyamata, a baktériumok számának változása.

Matematikatörténeti vonatkozások:

- A legrégebbi írásos emléken, a **Rhind-papiruszon** (~Kr. e. 1750 körül) található egy mértani sorozatos feladat: 7 ház mindegyikében 7 macska él, mindegyik macska 7 egeret őriz. Hány egér volt összesen? Valószínűleg az egyiptomiak ismerték a mértani sorozat összegképletének kiszámítási módját (nem magát a képletet, hanem a módszert).
- A mértani sorozat összegképletét az 1300-as években **Beldomandi** olasz matematikus találta ki.
- Koch** (1870–1924) svéd matematikus megalkotta a **Koch-görbét**: egy szabályos háromszög oldalait harmadoljuk, a középső harmad fölé írjunk kifelé egy újabb szabályos háromszöget, majd ezen a háromszögön hajtuk végre az oldal harmadolását, a középső harmad fölé írjunk kifelé egy újabb szabályos háromszöget, majd ezt az eljárást folytassuk a végtelenségig. Mekkora a kialakult alakzat kerülete, területe? Megoldás végtelen mértani sorral.



11. A differenciálhányados fogalma, deriválási szabályok. A differenciálszámítás alkalmazásai (érintő, függvényvizsgálat, szélsőérték-feladatok)

Vázlat:

- I. Függvény fogalma, értelmezési tartomány, értékkészlet
- II. Differenciálhányados
- III. Deriválási szabályok
- IV. A differenciálszámítás alkalmazásai:
 - Függvény érintője
 - Függvényvizsgálat
 - Szélsőérték-feladatok
- V. Alkalmazások, matematikatörténeti vonatkozások

Kidolgozás:

I. Függvény fogalma, értelmezési tartomány, értékkészlet

DEFINÍCIÓ: Legyen A és B két nem üres halmaz. Azt mondjuk, hogy megadunk egy A halmazon értelmezett B -beli értéket felvevő **függvényt**, ha A minden eleméhez hozzárendeljük a B egy és csakis egy elemét. Jele: $f: A \rightarrow B$.

DEFINÍCIÓ: **Értelmezési tartomány**nak nevezzük az A halmazt. Jele D_f .

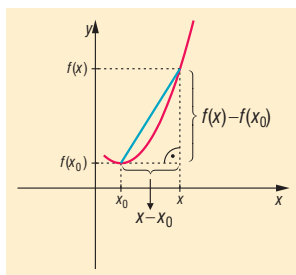
DEFINÍCIÓ: **Értékkészlet** a B halmaz azon elemeiből álló halmaz, amelyek a hozzárendelésnél fellépnek (vagyis az $f(x)$ értékek). Jele az R_f .

DEFINÍCIÓ: Ha $c \in D_f$, akkor a c helyen felvett függvényértéket $f(c)$ -vel jelöljük, ez a helyettesítési vagy **függvényérték**.

DEFINÍCIÓ: Ha az értelmezési tartomány és az értékkészlet is számhalmaz, akkor a függvényt grafikonon tudjuk szemléltetni. A **grafikon** az $(x; f(x))$ pontok halmaza.

II. Differenciálhányados

DEFINÍCIÓ: Legyen f egy $]a, b[$ intervallumon értelmezett függvény és x_0 az értelmezési tartomány egy pontja. Ekkor a $g(x) = \frac{f(x) - f(x_0)}{x - x_0}$ függvényt az f függvény x_0 ponthoz tartozó különbségi hányados (**differenciahányados**) függvényének nevezzük.



DEFINÍCIÓ: Az f függvény x_0 ponthoz tartozó különbségi hányadosának az x_0 helyen vett határértékét (ha ez a határérték létezik és véges) az f függvény x_0 pontbeli **differenciálhányados**-nak vagy deriváltjának nevezzük.

$$\text{Jel: } f'(x_0) = \lim_{x \rightarrow x_0} \frac{f(x) - f(x_0)}{x - x_0}.$$

DEFINÍCIÓ: Ha egy függvénynek egy pontban van deriváltja, akkor azt mondjuk, hogy a függvény ebben a pontban **differenciálható** (deriválható).

Az x_0 pontbeli differenciálhányados egy ábrázolható függvény esetében a függvény grafikonjának $(x_0, f(x_0))$ pontjához húzott érintő meredeksége.

$$\text{Pl.: } f: \mathbb{R} \rightarrow \mathbb{R}, f(x) = x^2 - 4x + 5.$$

Differenciálhányados $x_0 = 1$ pontban:

$$g(x) = \frac{(x^2 - 4x + 5) - (1^2 - 4 \cdot 1 + 5)}{x - 1} = \frac{x^2 - 4x + 3}{x - 1} = \frac{(x - 3)(x - 1)}{x - 1} = x - 3, \text{ ha } x \neq 1.$$

g nincs értelmezve az $x = 1$ helyen, de $\lim_{x \rightarrow 1} (x - 3) = -2$ létezik és véges $\Rightarrow f'(x) = -2$. Tehát

a parabola érintőjének meredeksége $x = 1$ helyen -2 .

Differenciálhányados x_0 -ban:

$$\left. \begin{aligned} g(x) &= \frac{(x^2 - 4x + 5) - (x_0^2 - 4x_0 + 5)}{x - x_0} = \frac{x^2 - x_0^2 - 4x + 4x_0}{x - x_0} = \\ &= \frac{(x + x_0)(x - x_0) - 4(x - x_0)}{x - x_0} = \frac{(x - x_0)(x + x_0 - 4)}{x - x_0} = x + x_0 - 4 \end{aligned} \right\} \text{ ha } x \neq x_0$$

$$f'(x_0) = \lim_{x \rightarrow x_0} (x + x_0 - 4) = 2x_0 - 4 \Rightarrow \text{tetszőleges } x \text{ pontban: } f'(x) = 2x - 4.$$

DEFINÍCIÓ: Ha f függvénynél az értelmezési tartomány minden olyan pontjához, ahol f differenciálható hozzárendeljük a differenciálhányados értékét, akkor az f függvény **differenciálhányados (derivált) függvényét** kapjuk. Jelölés: $f'(x)$.

III. Deriválási szabályok

TÉTEL: Az f és g függvények deriválhatók az x helyen, és deriváltjuk itt $f'(x)$, illetve $g'(x)$:

1. $f(x) = c$, $c = \text{állandó} \Rightarrow f'(x) = 0$
2. $(c \cdot f(x))' = c \cdot f'(x)$, $c \in \mathbb{R}$
3. $(f(x) \pm g(x))' = f'(x) \pm g'(x)$
4. $(f(x) \cdot g(x))' = f'(x) \cdot g(x) + f(x) \cdot g'(x)$
5. $\left(\frac{f(x)}{g(x)}\right)' = \frac{f'(x) \cdot g(x) - f(x) \cdot g'(x)}{g^2(x)}$
6. $(f(g(x)))' = f'(g(x)) \cdot g'(x)$

TÉTEL: Elemi függvények deriváltjai:

1. $(x^n)' = n \cdot x^{n-1}$, ha $x > 0$, $n \in \mathbb{N}^+$.
2. $(a^x)' = a^x \cdot \ln a$, ha $a > 0$, $a \neq 1$.
 $(e^x)' = e^x$.
3. $(\log_a x)' = \frac{1}{x \cdot \ln a}$, ha $a > 0$, $a \neq 1$, $x > 0$.
4. $(\ln x)' = \frac{1}{x}$, ha $x > 0$.

5. $(\sin x)' = \cos x$.

6. $(\cos x)' = -\sin x$.

TÉTEL: Hatványfüggvény deriváltfüggvénye: $(x^n)' = n \cdot x^{n-1}$, ha $x > 0$, $n \in \mathbb{N}^+$.

BIZONYÍTÁS: teljes indukcióval

$n = 1$ -re igaz: $f(x) = x^1$ esetében

$$\left. \begin{array}{l} \text{bal oldal: } f'(x_0) = \lim_{x \rightarrow x_0} \frac{f(x) - f(x_0)}{x - x_0} = \lim_{x \rightarrow x_0} \frac{x - x_0}{x - x_0} = \lim_{x \rightarrow x_0} 1 = 1 \Rightarrow (x^1)' = 1 \\ \text{jobb oldal: } 1 \cdot x^{1-1} = 1 \cdot x^0 = 1 \cdot 1 \end{array} \right\} \Rightarrow \text{igaz.}$$

Tegyük fel, hogy $n = k$ -ra igaz: $(x^k)' = k \cdot x^{k-1}$.

Bizonyítjuk az öröklődést: $(x^{k+1})' = (k+1) \cdot x^k$.

Bal oldal:

$$(x^{k+1})' \underset{\text{hatványozás}}{=} (x \cdot x^k)' \underset{\substack{\text{szorzat} \\ \text{deriváltja}}}{=} x' \cdot x^k + x \cdot (x^k)' = 1 \cdot x^k + x \cdot k \cdot x^{k-1} = x^k + k \cdot x^k = (k+1) \cdot x^k$$

Ez pedig pontosan a jobb oldal, ezzel állításunkat bebizonyítottuk.

IV. A differenciálszámítás alkalmazásai

Függvény adott pontbeli érintője:

Ha az $f(x)$ függvény az x_0 pontban differenciálható, akkor grafikonjának az $(x_0; f(x_0))$ pontban van érintője és $f'(x_0)$ ebben a pontban az érintő meredeksége. Ekkor a függvény x_0 -beli érintőjének egyenlete: $y = f'(x_0) \cdot (x - x_0) + f(x_0)$.

Függvényvizsgálat:

TÉTEL: Az f függvény az $]a, b[$ intervallum minden pontjában differenciálható. Ha az intervallum minden x pontjában

- $f'(x) > 0$, akkor f az $]a, b[$ -n **szigorúan monoton nő**.
- $f'(x) < 0$, akkor f az $]a, b[$ -n **szigorúan monoton csökken**.
- $f'(x) \geq 0$, akkor f az $]a, b[$ -n **monoton nő**.
- $f'(x) \leq 0$, akkor f az $]a, b[$ -n **monoton csökken**.

TÉTEL: Legyen az f függvény az $]a, b[$ minden pontjában differenciálható. Ha az intervallum egy x_0 pontjában a deriváltja 0 és ott a derivált függvény előjelet vált, akkor x_0 -ban az f függvénynek lokális szélsőértéke van. Ha negatívból pozitívba vált a deriváltfüggvény előjele (az f szigorúan monoton csökkenőből vált szigorúan monoton növére), akkor **lokális minimuma**, ha pozitívból negatívba vált, akkor **lokális maximuma** van.

TÉTEL: Legyen az f függvény az $]a, b[$ minden pontjában kétszer differenciálható. Ha az intervallum egy x_0 pontjában az első derivált 0 és a második derivált nem nulla, akkor x_0 -ban az f függvénynek lokális szélsőértéke van. Ha $f''(x_0) > 0$, akkor **lokális minimuma**, ha $f''(x_0) < 0$, akkor **lokális maximuma** van.

TÉTEL: Legyen az f függvény egy $[a, b]$ -n deriválható és legyen az f' függvény is deriválható $[a, b]$ -n. Ha az $[a, b]$ minden pontjában $f''(x) \geq 0$, akkor f az $[a, b]$ -n **konvex**, ha $f''(x) \leq 0$, akkor **konkáv**.

TÉTEL: Legyen az f függvény egy $[a, b]$ -n deriválható és legyen az f' függvény is deriválható $[a, b]$ -n. Ha az intervallum egy x_0 pontjában $f''(x_0) = 0$ és itt az f'' függvény előjelet vált, akkor x_0 pontban az f függvénynek **inflexiós pontja** van.

Szélsőérték-problémák vizsgálata differenciálszámítással

A **szélsőérték-feladat** szövegének értelmezése után felírjuk a változók közti összefüggéseket. Ha több változó van, akkor az egyik segítségével kifejezzük a többit és beírjuk abba a kifejezésbe, amelynek szélsőértékét vizsgáljuk. Így kapunk egy **egyváltozós függvényt**, amelynek a szélsőértékét kell meghatározni. Ezt a nevezetes közepek közti összefüggésekkel, a függvénytulajdonságok (transzformáció) alapján, valamint deriválással lehet megállapítani:

Lokális szélsőértéke van a differenciálható függvénynek x_0 -ban, ha ott az első derivált 0, és a derivált ebben a pontban előjelet vált, azaz a második derivált nem nulla. A derivált zérushelye szükséges, de nem elégséges feltétele a helyi szélsőérték létezésének.

Minimuma van, ha az első derivált negatívból pozitívba vált, illetve ha a második derivált ezen a helyen pozitív; maximuma van, ha az első derivált pozitívból negatívba vált, illetve ha a második derivált negatív ezen a helyen,

Szélsőérték-vizsgálat $f'(x)$ segítségével: az $f(x)$ differenciálható függvényt deriváljuk, kiszámoljuk a deriváltfüggvény zérushelyét, majd a zérushely segítségével megállapítjuk deriváltjának előjelét. Ehhez vagy az alapfüggvények tulajdonságait használjuk, vagy a szorzat, illetve hányados előjelét vizsgáljuk. Utóbbira akkor van szükség, ha az első derivált nem az alapfüggvények közül kerül ki, ekkor a deriváltat a lehető legjobban szorzattá, illetve hányadossá alakítjuk. Az első derivált előjeléből következtetni tudunk a függvény monotonitási viszonyaira is: azon az intervallumon, ahol a függvény első deriváltja pozitív, a függvény nő, ahol negatív, ott a függvény csökken.

Pl.: $f: \mathbb{R}^+ \rightarrow \mathbb{R}, f(x) = x^3 - 3x \Rightarrow f'(x) = 3x^2 - 3$.

$f'(x)$ zérushelye: $x = \pm 1$

$f'(x)$ előjele:

$f'(x) > 0$, ha $x < -1$, $f'(x) < 0$ ha $-1 < x < 1$, tehát lokális maximuma van az $x = -1$ helyen, értéke $f(-1) = 2$.

$f'(x) < 0$ ha $-1 < x < 1$, $f'(x) > 0$, ha $x > 1$, tehát lokális minimuma van az $x = +1$ helyen, értéke $f(1) = -2$

A függvény szigorúan monoton nő, ahol $f'(x) > 0$, azaz $x \in]-\infty; -1[\cup]1; \infty[$, szigorúan monoton csökken, ahol $f'(x) < 0$, azaz $x \in]-1; 1[$.

Szélsőérték-vizsgálat $f''(x)$ segítségével: az $f(x)$ kétszer differenciálható függvényt kétszer deriváljuk, kiszámoljuk az első derivált zérushelyét, majd a zérushelyeket behelyettesítjük a második deriváltba, megállapítjuk második deriváltjának előjelét. A második derivált előjeléből következtetni tudunk a függvény görbületi viszonyaira is: azon az intervallumon, ahol a második deriváltja pozitív, a függvény konvex, ahol negatív, ott a függvény konkáv, ahol a második derivált előjelet vált és a függvény folytonos ebben a pontban, inflexiós pontja van a függvénynek.

Pl.: $f: \mathbb{R}^+ \rightarrow \mathbb{R}, f(x) = x^3 - 3x \Rightarrow f'(x) = 3x^2 - 3 \Rightarrow f''(x) = 6x$.

$f'(x)$ zérushelye: $x = \pm 1$

$f''(x)$ előjele:

$f''(-1) = -6$, tehát lokális maximuma van az $x = -1$ helyen, értéke $f(-1) = 2$.

$f''(1) = 6$, tehát lokális minimuma van az $x = +1$ helyen, értéke $f(1) = -2$.

$f''(x) = 0$, ha $x = 0$, és ebben a pontban előjelet vált, negatívból pozitívba megy át, azaz a függvény konkávból konvexbe vált, vagyis inflexiós pontja van az $x = 0$ pontban.

V. Alkalmazások:

- *gazdasági problémák megoldása:*
 - Ha egy áru iránti kereslet függ a termék árától, akkor milyen ár esetén érhető el maximális összbevétel?
 - Ha egy termék előállítási költsége függ a termék reklámozására fordított összegtől, akkor mekkora reklámköltség esetén érhető el egy termék minimális előállítási költsége?

- *matematikai problémák megoldása:*
 - Adott térfogatú folyadéknak milyen méretekkel rendelkező hengeres dobozt tervezünk, hogy a felhasznált csomagolóanyag mennyisége minimális legyen?
 - Adott sugarú gömbbe írt hengerek közül melyiknek a térfogata maximális?
 - Adott alapkör sugarú és magasságú forgáskúpba olyan forgáshengert írunk, amelynek alapköre a kúp alapkörének része, fedőköre pedig illeszkedik a kúp palástjára. Milyen esetben lesz a henger térfogata maximális?

Matematikatörténeti vonatkozások:

- A XVII. században **Descartes** (1596–1650) francia matematikus foglalkozott először a függvényekkel: bevezette a változó fogalmát, a függvényt megfeleltetésnek tekintette. Ezután elkezdtek vizsgálni a matematikusok a függvénygörbék és érintők kapcsolatát. Az érintőket vizsgálva eljutottak a differenciálhányados fogalmához, módszert dolgoztak ki a függvények menetének vizsgálatára, szélsőértékeinek megállapítására.
- Az analízis alapvető fogalmait (pl. sorozat, konvergencia, határérték) **Cauchy** (1789–1857) francia matematikus definiálta. Ő az, aki pontosan leírta a differenciál- és integrálszámítást, előtte azonban pontosította a határérték fogalmát.

12. Derékszögű háromszögre vonatkozó tételek.

A hegyesszögek szögfüggvényei.

Összefüggések a hegyesszögek szögfüggvényei között.

A szögfüggvények általánosítása

Vázlat:

- I. Derékszögű háromszögek definíciója
- II. A Pitagorasz-tétel és megfordítása
A Thalész-tétel és megfordítása
Magasságtétel, befogótétel
Beírt kör sugarára vonatkozó tétel
- III. Hegyesszögek szögfüggvényeinek definíciója
- IV. Összefüggések a hegyesszögek szögfüggvényei között
- V. A szögfüggvények általános definíciója
- VI. Kapcsolatok egyazon szög szögfüggvényei közt
- VII. Alkalmazások, matematikatörténeti vonatkozások

Kidolgozás:

I. Derékszögű háromszögek

DEFINÍCIÓ: Azokat a háromszöget, amelyeknek valamely szöge 90° , azaz derékszög, **derékszögű háromszögeknek** nevezzük.

A derékszöget bezáró két oldalt befogónak, a derékszöggel szemközti, egyben a leghosszabb oldalt átfogónak nevezzük.

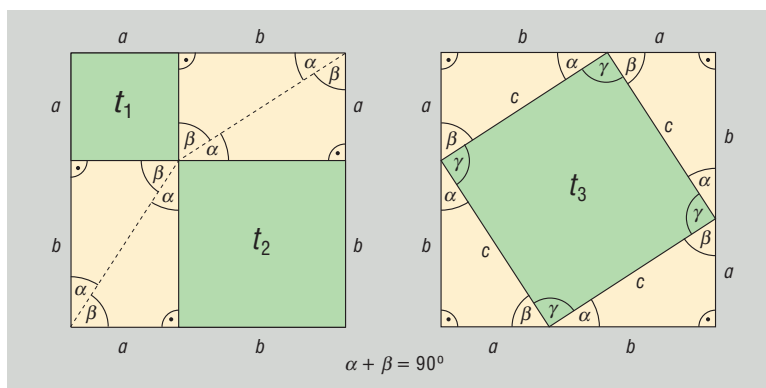
II. Derékszögű háromszögre vonatkozó tételek

A derékszögű háromszögre vonatkozó tételek közül a Pitagorasz-tétel teremt kapcsolatot a háromszög oldalai között.

TÉTEL: Pitagorasz-tétel: Ha egy háromszög derékszögű, akkor befogóinak négyzetösszege egyenlő az átfogó négyzetével.

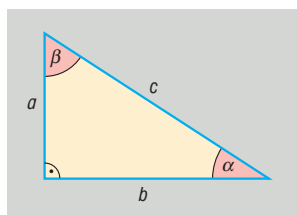
BIZONYÍTÁS I.: Bizonyítani kell: $a^2 + b^2 = c^2$.

Vegyünk fel két $a + b$ oldalú négyzetet. A két négyzet területe egyenlő.



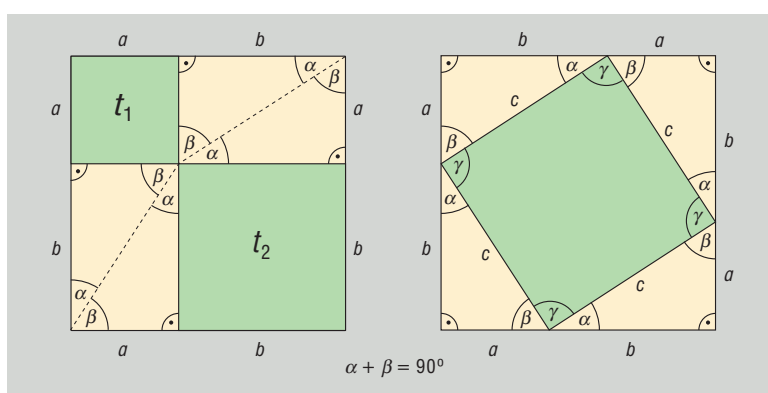
Az első négyzet felosztható egy $t_1 = a^2$ és egy $t_2 = b^2$ területű négyzetre (a felosztásából eredő párhuzamosság miatt), továbbá 4 olyan derékszögű háromszögre, amelynek befogói a , illetve b . Ez a 4 háromszög egybevágó egymással és az eredeti háromszöggel, tehát területük egyenlő.

A második négyzetben elhelyezkedő négyszög négyzet, mivel oldalai egyenlő hosszúak (egybevágó derékszögű háromszögek átfogói), szögei pedig 90° -osak (egybevágó derékszögű háromszögben $\alpha + \beta = 90^\circ$). Ha a derékszögű háromszögek átfogója c , akkor területe $t_3 = c^2$.



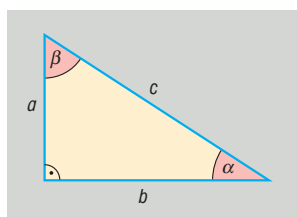
Mindkét nagy négyzet területéből kivonva a 4-4 egybevágó háromszög területét, a fennmaradó területek egyenlők lesznek.

BIZONYÍTÁS II.: Vegyünk fel egy derékszögű háromszöget, amelynek befogói a és b , és egy $a + b$ oldalú négyzetet. A négyzetben helyezzük el a háromszögeket:



$ABCD$ négyszög négyzet, mert oldalai egyenlők (c), és szögei 90° -osak ($\gamma = 180^\circ - (\alpha + \beta) = 180^\circ - 90^\circ = 90^\circ$), így az $a + b$ oldalú négyzet területe kétféleképpen: $t = (a + b)^2$, illetve $t = 4 \cdot \frac{a \cdot b}{2} + c^2$, azaz

$$(a + b)^2 = 4 \cdot \frac{a \cdot b}{2} + c^2 \Rightarrow a^2 + 2ab + b^2 = 2ab + c^2 \Rightarrow a^2 + b^2 = c^2.$$

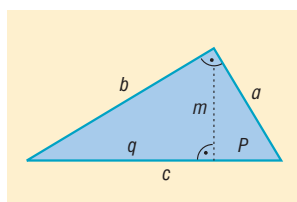


BIZONYÍTÁS III.: Befogótétellel

Befogótétel miatt:

$$a = \sqrt{p \cdot c}, \text{ illetve } b = \sqrt{q \cdot c} = \sqrt{(c - p) \cdot c}.$$

Ebből $a^2 = p \cdot c$, illetve $b^2 = (c - p) \cdot c = c^2 - p \cdot c$.



Összeadva az utolsó két egyenlőséget:

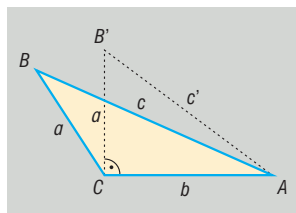
$$a^2 + b^2 = p \cdot c + c^2 - p \cdot c = c^2 \Rightarrow a^2 + b^2 = c^2.$$

BIZONYÍTÁS IV.: Koszinusztétellel

$$c^2 = a^2 + b^2 - 2ab \underbrace{\cos 90^\circ}_0 = a^2 + b^2 - 2ab \cdot 0 = a^2 + b^2 \Rightarrow c^2 = a^2 + b^2.$$

TÉTEL: A Pitagorasz-tétel megfordítása: ha egy háromszög két oldalhosszának négyzetösszege egyenlő a harmadik oldal hosszának négyzetével, akkor a háromszög derékszögű.

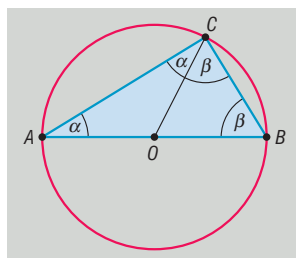
BIZONYÍTÁS:



Tudjuk, hogy az ABC háromszög oldalaira igaz: $a^2 + b^2 = c^2$. Az a, b befogókkal rajzolunk egy $AB'C$ derékszögű háromszöget, amelyre Pitagorasz tétele miatt $a^2 + b^2 = (c')^2 \Rightarrow c^2 = (c')^2 \Rightarrow c = c'$. Ekkor az ABC és $AB'C$ háromszög oldalai páronként megegyeznek \Rightarrow a két háromszög egybevágó \Rightarrow megfelelő szögek páronként egyenlők \Rightarrow C -nél ABC háromszögben derékszög van.

TÉTEL: Thalész-tétel: ha egy kör átmérőjének két végpontját összekötjük a kör bármely más pontjával, akkor derékszögű háromszöget kapunk.

BIZONYÍTÁS: O középpontú kör, AB átmérő, C tetszőleges pont a körvonalon.



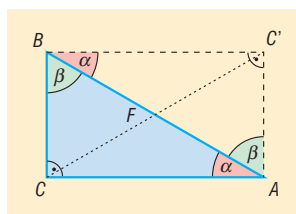
$OA = OC = r \Rightarrow$ Az OAC háromszög egyenlő szárú $\Rightarrow OAC\hat{x} = OCA\hat{x} = \alpha$.

$OC = OB = r \Rightarrow$ Az OBC háromszög egyenlő szárú $\Rightarrow OBC\hat{x} = BCO\hat{x} = \beta$.

Az ABC háromszög belső szögeinek összege $180^\circ \Rightarrow 2\alpha + 2\beta = 180^\circ \Rightarrow \alpha + \beta = 90^\circ \Rightarrow ACB\hat{x} = 90^\circ$.

TÉTEL: A Thalész-tétel megfordítása: ha egy háromszög derékszögű, akkor köré írható körének középpontja az átfogó felezőpontja.

BIZONYÍTÁS: Az ABC derékszögű háromszöget tükrözzük az átfogó F felezőpontjára. A tükrözés tulajdonságai miatt $BC = AC'$ és $CA = BC'$ és $AC' = BC'$ szögei 90° -osak. A téglalap átlói egyenlők és felezik egymást $\Rightarrow FA = FB = FC \Rightarrow F$ az ABC háromszög köré írt kör középpontjával egyenlő.

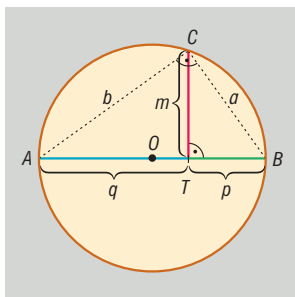


TÉTEL: A Thalész-tétel és megfordítása összefoglalva: a sík azon pontjainak halmaza, amelyekből egy megadott szakasz derékszögben látszik, a szakaszhoz mint átmérőhöz tartozó kör, elhagyva belőle a szakasz végpontjait.

TÉTEL: Magasságtétel: Derékszögű háromszögben az átfogóhoz tartozó magasság hossza mértani közepe azon két szakasz hosszának, amelyekre a magasság az átfogót osztja.

BIZONYÍTÁS: A tétel bizonyításánál a TBC és TAC háromszögek hasonlóságát használjuk.

$$\frac{m}{p} = \frac{q}{m} \Rightarrow m^2 = p \cdot q \Rightarrow m = \sqrt{p \cdot q}$$

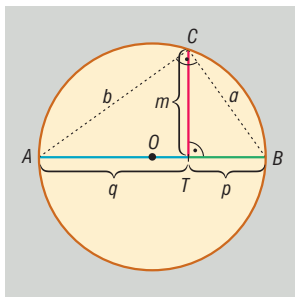


TÉTEL: Befogótétel: Derékszögű háromszög befogójának hossza mértani közepe az átfogó és a befogó átfogóra eső merőleges vetülete hosszának.

BIZONYÍTÁS: A tétel bizonyításánál a TBC és az ABC háromszögek hasonlóságát használjuk.

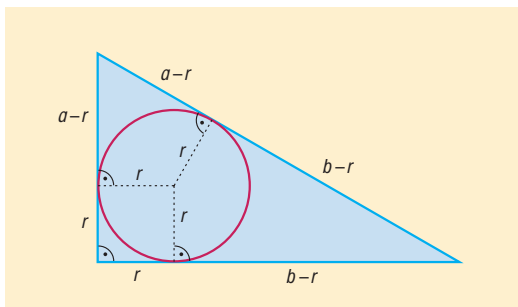
$$\frac{a}{p} = \frac{c}{a} \Rightarrow a^2 = p \cdot c \Rightarrow a = \sqrt{p \cdot c}$$

Hasonlóan a TCA és az ABC háromszögek hasonlóságából belátható: $b = \sqrt{q \cdot c}$.



TÉTEL: Beírt kör sugarára vonatkozó tétel: Derékszögű háromszög átfogója a két befogó összegével és a beírt kör sugarával kifejezve: $c = a + b - 2r$.

BIZONYÍTÁS: Körhöz húzott érintőszakaszok egyenlősége miatt $c = a - r + b - r = a + b - 2r$.



A Thalész-tétel miatt $c = 2R$, ahol R a háromszög köré írt kör sugara. Ebből és az előző tételből következik: $2R = a + b - 2r \Rightarrow R + r = \frac{a + b}{2}$.

III. Hegyesszögek szögfüggvényeinek definíciója

A hegyesszögek szögfüggvényeit derékszögű háromszögekkel is bevezethetjük. Kihaználjuk, hogy a két derékszögű háromszög hasonló, ha valamely hegyesszögük megegyezik. A hasonlóság következtében egy derékszögű háromszög oldalainak arányát a háromszög egyik hegyesszöge egyértelműen meghatározza. Erre a függvényszerű kapcsolatra vezetjük be a szögfüggvényeket:

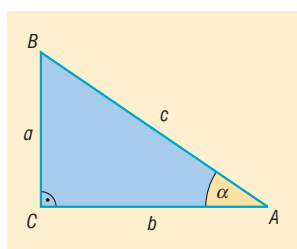
DEFINÍCIÓ: Az α hegyesszöget tartalmazó tetszőleges derékszögű háromszögben

$\sin \alpha =$ az α -val szemközti befogó hosszának és az átfogó hosszának hányadosa;

$\cos \alpha =$ az α melletti befogó hosszának és az átfogó hosszának a hányadosa;

$\operatorname{tg} \alpha =$ az α -val szemközti befogó hosszának és az α melletti befogó hosszának a hányadosa;

$\operatorname{ctg} \alpha =$ az α melletti befogó hosszának és az α -val szemköztes befogó hosszának a hányadosa.



$$\sin \alpha = \frac{a}{c}, \quad \cos \alpha = \frac{b}{c}, \quad \operatorname{tg} \alpha = \frac{a}{b}, \quad \operatorname{ctg} \alpha = \frac{b}{a}$$

IV. Összefüggések a hegyesszögek szögfüggvényei között

A definíciók alapján könnyen igazolhatók a következő **azonosságok**, ahol $0^\circ < \alpha < 90^\circ$:

$$\operatorname{tg} \alpha = \frac{\sin \alpha}{\cos \alpha}, \quad \operatorname{ctg} \alpha = \frac{\cos \alpha}{\sin \alpha}, \quad \operatorname{tg} \alpha = \frac{1}{\operatorname{ctg} \alpha}$$

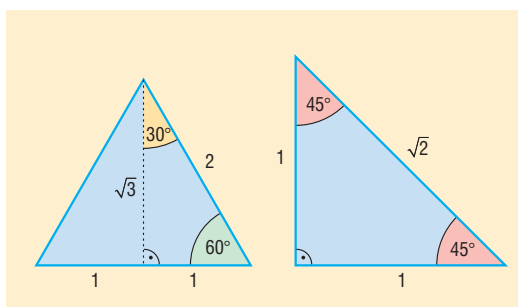
$$\sin \alpha = \cos(90^\circ - \alpha), \quad \cos \alpha = \sin(90^\circ - \alpha)$$

$$\operatorname{tg} \alpha = \operatorname{ctg}(90^\circ - \alpha), \quad \operatorname{ctg} \alpha = \operatorname{tg}(90^\circ - \alpha)$$

$$\sin^2 \alpha + \cos^2 \alpha = 1$$

Nevezetes szögek szögfüggvényei:

	sin	cos	tg	ctg
30°	$\frac{1}{2}$	$\frac{\sqrt{3}}{2}$	$\frac{\sqrt{3}}{3}$	$\sqrt{3}$
45°	$\frac{\sqrt{2}}{2}$	$\frac{\sqrt{2}}{2}$	1	1
60°	$\frac{\sqrt{3}}{2}$	$\frac{1}{2}$	$\sqrt{3}$	$\frac{\sqrt{3}}{3}$



V. Szögfüggvények általánosítása

DEFINÍCIÓ: A **koordináta-rendszerben** az $i(1; 0)$ bázisvektor origó körüli α szöggel való elforgatásával keletkező e egységvektor első koordinátája az α **szög koszinusza**, második koordinátája az α **szög szinusza**.

$\alpha \in \text{I.}$	$\alpha \in \text{II.}$	$\alpha \in \text{III.}$	$\alpha \in \text{IV.}$
$0 < \alpha < \frac{\pi}{2}$	$\frac{\pi}{2} < \alpha < \pi$	$\pi < \alpha < \frac{3\pi}{2}$	$\frac{3\pi}{2} < \alpha < 2\pi$
	$\cos \alpha = -\cos(\pi - \alpha)$ $\sin \alpha = \sin(\pi - \alpha)$	$\cos \alpha = -\cos(\alpha - \pi)$ $\sin \alpha = -\sin(\alpha - \pi)$	$\cos \alpha = \cos(2\pi - \alpha)$ $\sin \alpha = -\sin(2\pi - \alpha)$

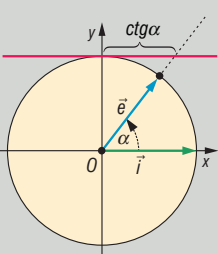
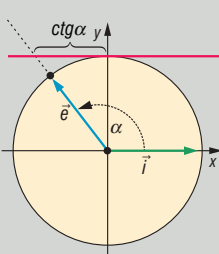
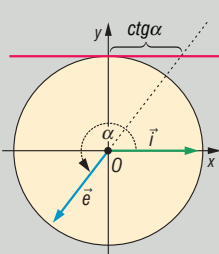
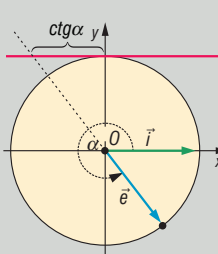
DEFINÍCIÓ: A $\frac{\sin \alpha}{\cos \alpha}$ hányadost, ha $\cos \alpha \neq 0$, vagyis ha $\alpha \neq \frac{\pi}{2} + k\pi$ ($k \in \mathbb{Z}$), az α szög tangensének nevezzük.

A **koordináta-rendszerben** az i vektortól α szöggel elforgatott e egységvektor egyenese által az origó középpontú, egységsugarú kör $(1; 0)$ pontjában húzott érintőből kimetszett pont 2. koordinátája az α **szög tangense**.

$\alpha \in \text{I.}$	$\alpha \in \text{II.}$	$\alpha \in \text{III.}$	$\alpha \in \text{IV.}$
$0 < \alpha < \frac{\pi}{2}$	$\frac{\pi}{2} < \alpha < \pi$	$\pi < \alpha < \frac{3\pi}{2}$	$\frac{3\pi}{2} < \alpha < 2\pi$
	$\text{tg } \alpha = -\text{tg}(\pi - \alpha)$	$\text{tg } \alpha = \text{tg}(\alpha - \pi)$	$\text{tg } \alpha = -\text{tg}(2\pi - \alpha)$

DEFINÍCIÓ: A $\frac{\cos\alpha}{\sin\alpha}$ hányadost, ha $\sin\alpha \neq 0$, vagyis ha $\alpha \neq k\pi$ ($k \in \mathbb{Z}$), az α szög kotangensének nevezzük.

A **koordináta-rendszerben** az i vektortól α szöggel elforgatott e egységvektor egyenese által az origó középpontú, egységsugarú kör $(0;1)$ pontjában húzott érintőből kimetszett pont 1. koordinátája az α szög **kotangense**.

$\alpha \in \text{I.}$	$\alpha \in \text{II.}$	$\alpha \in \text{III.}$	$\alpha \in \text{IV.}$
$0 < \alpha < \frac{\pi}{2}$	$\frac{\pi}{2} < \alpha < \pi$	$\pi < \alpha < \frac{3\pi}{2}$	$\frac{3\pi}{2} < \alpha < 2\pi$
			
	$\text{ctg } \alpha = -\text{ctg}(\pi - \alpha)$	$\text{ctg } \alpha = \text{ctg}(\alpha - \pi)$	$\text{ctg } \alpha = -\text{ctg}(2\pi - \alpha)$

VI. Kapcsolatok egyazon szög szögfüggvényei között

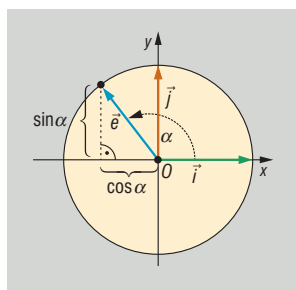
TÉTEL: $\text{ctg } \alpha = \frac{1}{\text{tg } \alpha}$, ha $\alpha \neq k\frac{\pi}{2}$ ($k \in \mathbb{Z}$)

$\text{tg } \alpha = \frac{1}{\text{ctg } \alpha}$, ha $\alpha \neq k\frac{\pi}{2}$ ($k \in \mathbb{Z}$)

$\Rightarrow \text{tg } \alpha \cdot \text{ctg } \alpha = 1$ ($\alpha \neq k\frac{\pi}{2}$)

TÉTEL: $\sin^2 \alpha + \cos^2 \alpha = 1$ minden valós α -ra (pitagoraszai összefüggés).

BIZONYÍTÁS: A szögfüggvények definíciója szerint az α irányszögű e egységvektor koordinátái: $(\cos \alpha; \sin \alpha)$.



Egyrészt az egységvektor hossza 1: ($|e| = 1$), másrészt az e vektor hossza: $|e| = \sqrt{e_1^2 + e_2^2} = \sqrt{\sin^2 \alpha + \cos^2 \alpha}$.

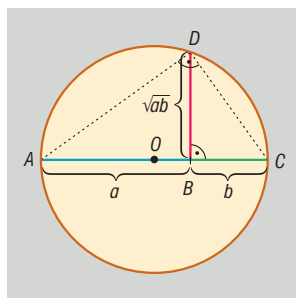
Ebből $1 = \sqrt{\sin^2 \alpha + \cos^2 \alpha}$. Mivel nemnegatív számok állnak a két oldalon, négyzetre emeléssel: $\sin^2 \alpha + \cos^2 \alpha = 1$.

KÖVETKEZMÉNY: tetszőleges α szög esetén:

$$|\sin \alpha| = \sqrt{1 - \cos^2 \alpha}, \text{ illetve } |\cos \alpha| = \sqrt{1 - \sin^2 \alpha}$$

VII. Alkalmazások:

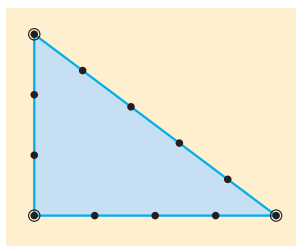
- Pitagorasz-tétel:
 - síkgeometria: háromszög, trapéz magasságának számolása
 - koordináta-geometria: két pont távolsága, vektor hossza
- Thalész-tétel:
 - síkgeometria: körhöz külső pontból húzott érintők szerkesztése
 - koordináta-geometria: érintők egyenlete
- Magasságtétel:
 - mértani közép szerkesztése



- Forgásszögek szögfüggvényei:
 - háromszög trigonometrikus területképlete
 - szinusztétel, koszinusztétel
 - négyzög területe: $t = \frac{e \cdot f \cdot \sin \alpha}{2}$ (e, f átlók, $\alpha =$ átlók szöge)
 - rezgőmozgás kitérés-idő, sebesség-idő, gyorsulás-idő függvénye trigonometrikus függvény

Matematikatörténeti vonatkozások:

- A derékszögű háromszögekről fennmaradt első írásos emlékek a **Rhind-papiruszon** találhatóak, amely Kr. e. 1750-ből származik: ismerték a 3, 4, 5 oldalú derékszögű háromszöget.
- Kr. e. 2000 körül az **egyiptomi papok** derékszögszerkesztésre csomózott kötelet használtak, amihez ismerniük kellett a Pitagorasz-tételt: terepen a derékszög kitűzését 12 csomós kötél és 3 karó segítségével végezték.



- **Kínában** Kr. e. 1200 és 1100 közötti naptárban olyan rajz látható, amely azt mutatja, hogy ismerték a Pitagorasz-tételt legalább a 3, 4, 5 oldalú derékszögű háromszög esetében. Ezen a rajzon egy 3+4 egység oldalú négyzet kerületén vannak a belső 5 egység hosszúságú négyzet csúcspontjai (a Pitagorasz-tétel I. bizonyításában szereplő ábrához hasonlóan).
- **Pitagorasz** a Kr. e. VI. században az ókori Görögországban élt, tételét viszont már a babilóniaiak 4000 évvel ezelőtt is ismerték, Pitagoraszhoz csak azért fűződik a tétel, mert rájött egy új bizonyításra.
- **Thalész** szintén a Kr. e. VI. században élt az ókori Görögországban, az első olyan matematikus volt, akinek bizonyítási igénye volt. Neki tulajdonítják a szög fogalmának kialakítását.

- **Ptolemaiosz** görög csillagász a Kr. u. II. században 30 percenkénti beosztással készített „húrtáblázatokat”, amelyek a később kialakult trigonometrikus függvények elődei voltak.
- A trigonometrikus függvények közti összefüggések és azonosságok felfedésében nagy érdemei vannak **Viète** (1540–1603) francia matematikusnak.

13. Háromszögek nevezetes vonalai, pontjai és körei

Vázlat:

- I. Oldalfelező merőlegesek, a háromszög köré írt kör középpontja
- II. Szögfelezők, háromszögbe, illetve háromszöghöz írt kör középpontja
- III. Magasságvonalak, a háromszög magasságpontja
- IV. Súlyvonalak, a háromszög súlypontja
- V. Középvonalak
- VI. Euler-egyenes, Feuerbach-kör
- VII. Alkalmazások, matematikatörténeti vonatkozások

Kidolgozás:

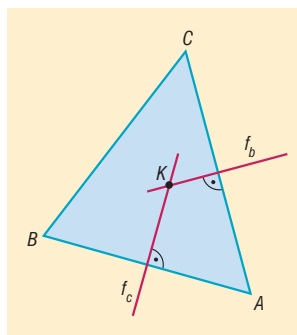
I. Oldalfelező merőlegesek, a háromszög köré írt kör középpontja

DEFINÍCIÓ: A síkon egy **szakasz felezőmerőlegese** az az egyenes, amely a szakasz felezőpontjára illeszkedik és merőleges a szakaszra.

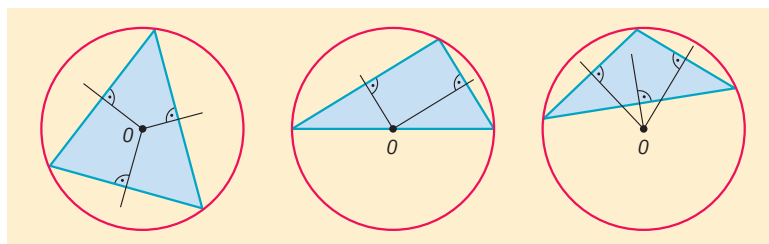
TÉTEL: A szakasz felezőmerőlegese a szakasz két végpontjától egyenlő távol lévő pontok halmaza.

TÉTEL: A háromszög három oldalfelező merőlegese egy pontban metszi egymást. Ez a pont a **háromszög köré írt kör középpontja**.

BIZONYÍTÁS: ABC háromszögben AB és AC oldalfelező merőlegeseit tekintsük. Ezek az egyenesek metszik egymást, mert a háromszög oldalai nem párhuzamosak egymással. Legyen a két oldalfelező merőleges metszéspontja K . Ekkor K egyenlő távolságra van A -tól és B -től (mert K illeszkedik f_c -re), illetve A -tól és C -től (mert K illeszkedik f_b -re) is. Következésképpen egyenlő távol van B -től és C -től is, azaz K illeszkedik BC szakaszfelező merőlegesére. $\Rightarrow KA = KB = KC$, azaz A, B és C egyenlő távolságra vannak K -tól \Rightarrow mindhárom pont illeszkedik egy K középpontú $KA = KB = KC = r$ sugarú körre.



K hegyesszögű háromszög esetén a háromszögön belül, derékszögű háromszögnél az átfogó felezőpontjába (Thalész tétele), tompaszögű háromszögnél a háromszögön kívül esik.



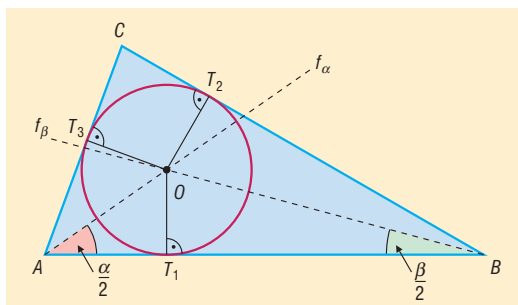
II. Szögfelezők, háromszögbe, illetve háromszöghöz írt kör középpontja

DEFINÍCIÓ: Egy konvex szög **szögfelezője** a szög csúcsából kiinduló, a szögtartományban haladó azon félegyenes, amely a szöget két egyenlő nagyságú szögre bontja.

TÉTEL: Egy konvex szögtartományban a száráktól egyenlő távolságra lévő pontok halmaza a szögfelező.

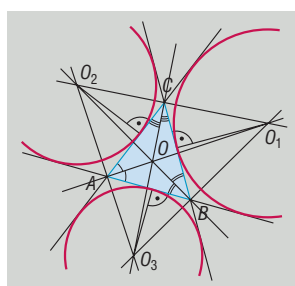
TÉTEL: A háromszög három belső szögfelezője egy pontban metszi egymást. Ez a pont a **háromszögbe írt kör középpontja**.

BIZONYÍTÁS:



Két belső szögfelező metszéspontjáról belátjuk, hogy rajta van a harmadikon. Vegyük fel az α és β szögfelezőjét: f_α és f_β . Ez a két félegyenes metszi egymást, mert $0^\circ < \frac{\alpha}{2} + \frac{\beta}{2} < 180^\circ$. Így f_α és f_β metszéspontja az O pont. A szögfelező a szög száraitól egyenlő távol lévő pontok halmaza a szögtartományban, így mivel O illeszkedik f_α -ra $\Rightarrow OT_1 = OT_3$, illetve O illeszkedik f_β -ra $\Rightarrow OT_1 = OT_2$, tehát $OT_2 = OT_3$, vagyis O egyenlő távol van az AC és a CB szögcsúcsától, így O illeszkedik f_γ -ra, azaz O az f_α, f_β és f_γ egyetlen közös pontja. A bizonyítás során kiderült, hogy O egyenlő távol van a háromszög oldalaitól, ezért köréje egy olyan kör írható, amely a háromszög oldalait érinti.

TÉTEL: A háromszög egy belső, és a másik két csúcshoz tartozó külső szögfelezője egy pontban metszi egymást, ez a pont a **háromszög hozzáírt körének középpontja**. A háromszögnek 3 hozzáírt köre van.



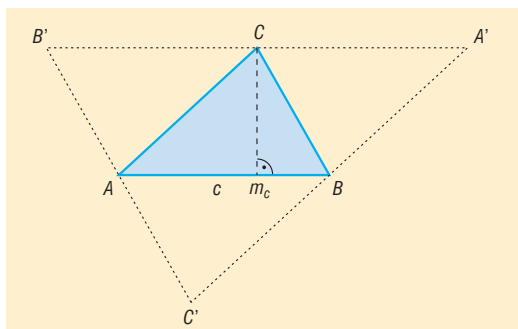
TÉTEL: A háromszög ugyanazon szögének külső és belső szögfelezője merőleges egymásra.

III. Magasságvonalak, a háromszög magasságpontja

DEFINÍCIÓ: A háromszög **magassága** az egyik csúcsból a szemközti oldal egyenesére bocsátott merőleges szakasz. A háromszög magasságának egyenese a háromszög **magasságvonala**.

TÉTEL: A háromszög magasságvonalai egy pontban metszik egymást. Ez a pont a háromszög **magasságpontja**.

BIZONYÍTÁS: Visszavezetjük a háromszög oldalfelező merőlegeseire vonatkozó tételre.

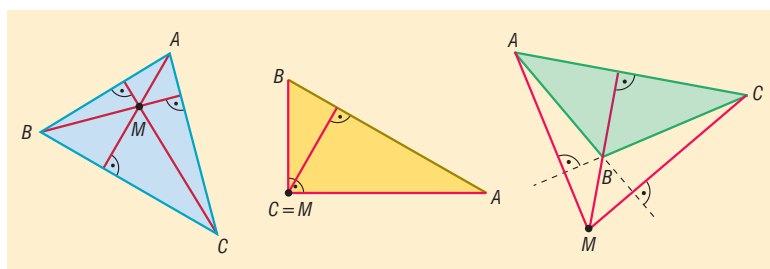


Vegyük fel az ABC háromszöget, és mindhárom csúcán keresztül húzzunk párhuzamos egyenest a szemközti oldallal. $\Rightarrow A'B'C'$ háromszög.

Belátjuk, hogy m_c az $A'B'$ oldalfelező merőlegese: m_c merőleges AB -re és $A'B'$ párhuzamos AB -vel $\Rightarrow m_c$ merőleges $A'B'$ -re. AB párhuzamos $A'B'$ -vel és BC párhuzamos $B'C'$ -vel $\Rightarrow ABCB'$ paralelogramma $\Rightarrow CB' = AB$, hasonlóan $ABA'C$ paralelogramma $\Rightarrow A'C = AB$, ebből $B'C = CA' \Rightarrow C$ felezőpontja $A'B'$ -nek $\Rightarrow m_c$ oldalfelező merőlegese $A'B'$ -nek.

Hasonlóan belátható, hogy m_a és m_b is az $A'B'C'$ háromszög oldalfelező merőlegesei. Az oldalfelező merőlegesekre vonatkozó tétel alapján tudjuk, hogy ezek egy pontban metszik egymást, tehát beláttuk, hogy az ABC háromszög magasságvonalai is egy pontban metszik egymást.

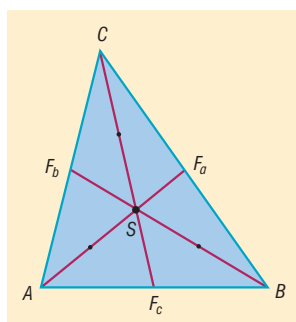
A magasságpont hegyesszögű háromszög esetén a háromszög belsejében, derékszögű háromszögnél a derékszögű csúcban, tompaszögű háromszögnél a háromszögon kívül helyezkedik el.



IV. Súlyvonalak, a háromszög súlypontja

DEFINÍCIÓ: A háromszög csúcsát a szemközti oldal felezőpontjával összekötő szakasz a **háromszög súlyvonala**.

TÉTEL: A háromszög súlyvonalai egy pontban metszik egymást, ezt a pontot a háromszög **súlypontjának** nevezzük. A súlypont harmadolja a súlyvonalakat úgy, hogy a csúcs felé eső szakasz úgy aránylik az oldal felé eső szakaszhoz, mint 2 : 1.

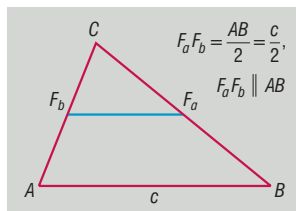


V. Középvonalak

DEFINÍCIÓ: A háromszög két oldalfelező pontját összekötő szakaszt a **háromszög középvonalá-**nak nevezzük.

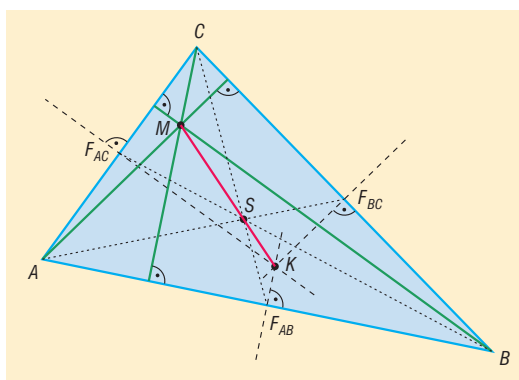
Minden háromszögnek 3 középvonala van.

TÉTEL: A háromszög középvonala párhuzamos a felezőpontokat nem tartalmazó oldallal, és fele-olyan hosszú.



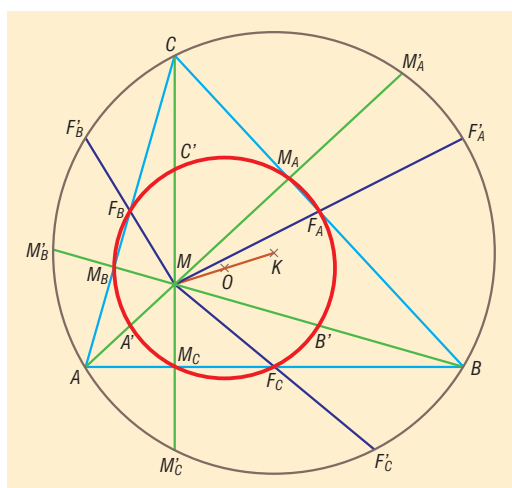
VI. Euler-egyenes, Feuerbach-kör

TÉTEL: A háromszög magasságpontja, súlypontja és a körülírt kör középpontja egy egyenesen van (**Euler-féle egyenes**). A súlypont a másik kettő távolságát harmadolja és a körülírt kör középpontjához van közelebb.



TÉTEL: Egy háromszög oldalainak felezőpontjai, magasságainak talppontjai és a magasságpontot a csúcsokkal összekötő szakaszok felezőpontjai egy körön vannak (**Feuerbach-kör**).

A Feuerbach-kör középpontja (O) felezi a magasságpontot (M) és a köré írt kör középpontját (K) összekötő szakaszt, sugara a háromszög köré írt kör sugarának a fele. Vagyis az M pontból a köré írt kör $\lambda = \frac{1}{2}$ -es arányú kicsinyített képe a Feuerbach-kör.



VII. Alkalmazások:

- Háromszögszerkesztési feladatok
- Koordináta-geometria: 3 ponton átmenő kör egyenlete, háromszög súlypontjának kiszámítása
- Súlyvonal, súlypont (homogén anyageloszlású háromszög esetén) fizikában: súlyvonal mentén, illetve súlypontban alátámasztva a háromszög egyensúlyban van
- Kör középpontjának szerkesztése
- Területszámítási feladatok a nevezetes körök sugarainak felhasználásával

$$R = \frac{abc}{4t}, \quad r = \frac{t}{s}, \quad \text{ahol } s = \frac{k}{2}$$

Matematikatörténeti vonatkozások:

- A geometria görög szó, eredeti jelentése földmérés. A geometria az ókori görög matematikusok tevékenysége által vált tudománnyá. **Thalész**en, a matematika atyján kívül a legnagyobb görög geométernek tartott **Apollóniusz** (Kr. e. III. századi görög matematikus) is sokat foglalkozott a háromszögekkel és a velük kapcsolatos összefüggésekkel. A tételben szereplő ismeretek nagy részét már ők is tudták.
- **Thalész** a Kr. e. VI. században élt az ókori Görögországban, az első olyan matematikus volt, akinek bizonyítási igénye volt, foglalkozott állításai megfordításával is: így jutott el a derékszögű háromszög köré írt kör középpontjához.
- **Eukleidész** Kr. e. 300 körül élt görög matematikus *Elemek* című művében meghatározta a geometriai alapszerkesztések axiómáit, szögletes síkidomok tulajdonságait, a Pitagorasz-tételt, a kör és vele kapcsolatos tételeket, a kerületi és középponti szögeket, a szabályos sokszögek szerkesztését.
- **Euler** (1707–1783) svájci matematikus a háromszög nevezetes vonalait, pontjait is vizsgálta, ismerte a Feuerbach-kört, de ez a tétel feledésbe merült.
- **Feuerbach** (1800–1834) német matematikus újra felfedezte az Euler által már megtalált kört, amit ezután Feuerbachról neveztek el.

14. Összefüggések az általános háromszögek oldalai között, szögei között, oldalai és szögei között

Vázlat:

- I. Háromszögek csoportosítása szögeik és oldalaiak szerint
- II. Összefüggések a háromszög oldalai között (háromszög-egyenlőtlenségek, Pitagorasz-tétel)
- III. Összefüggések a háromszög szögei között (belső, külső szögek)
- IV. Összefüggések a háromszög szögei és oldalai között (koszinusztétel, szinusz-tétel, szögfüggvények)
- V. Alkalmazások, matematikatörténeti vonatkozások

Kidolgozás:

I. Háromszögek csoportosítása szögeik és oldalaiak szerint

DEFINÍCIÓ: Háromszög az a zárt szögvonala, amelyeknek 3 oldala és 3 csúcsa van.

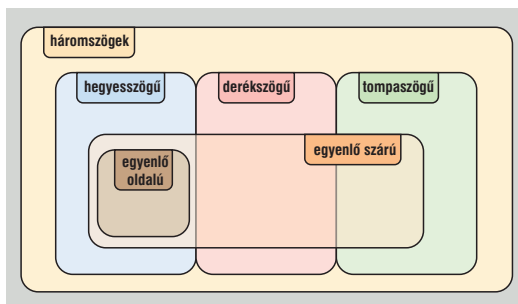
DEFINÍCIÓ: Egy háromszög **hegyesszögű**, ha minden szöge hegyesszög.

DEFINÍCIÓ: Egy háromszög **derékszögű**, ha van egy 90° -os szöge.

DEFINÍCIÓ: Egy háromszög **tompaszögű**, ha van egy tompaszöge.

DEFINÍCIÓ: Egy háromszög **szabályos** (vagy egyenlő oldalú), ha három oldala egyenlő hosszú.

DEFINÍCIÓ: Egy háromszög **egyenlő szárú** (vagy szimmetrikus), ha van két egyenlő oldala.



II. Összefüggések a háromszög oldalai közt

TÉTEL: Háromszög-egyenlőtlenségek: a háromszög bármely két oldalának összege nagyobb a harmadiknál: $a + b > c$, $a + c > b$, $b + c > a$.

TÉTEL: Egy háromszögben bármely két oldal különbségének abszolút értéke kisebb a harmadiknál: $|a - c| < b$, $|a - b| < c$, $|b - c| < a$.

TÉTEL: Pitagorasz-tétel: Bármely derékszögű háromszögben a két befogó négyzetének összege egyenlő az átfogó négyzetével.

III. Összefüggések a háromszög szögei közt

TÉTEL: A háromszög belső szögeinek összege 180° .

TÉTEL: A háromszög külső szögeinek összege 360° .

TÉTEL: A háromszög egy külső szöge egyenlő a nem mellette fekvő két belső szög összegével.

IV. Összefüggések a háromszög oldalai és szögei között

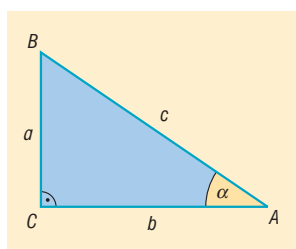
TÉTEL: Egy háromszögben egyenlő hosszúságú oldalakkal szemben egyenlő nagyságú szögek vannak, egyenlő nagyságú szögekkel szemben egyenlő hosszúságú oldalak vannak.

TÉTEL: Bármely háromszögben két oldal közül a hosszabbikkal szemben nagyobb belső szög van, mint a rövidebbikkel szemben, illetve két szög közül a nagyobbikkal szemben hosszabb oldal van, mint a kisebbikkel szemben.

DEFINÍCIÓ: Derékszögű háromszögben bevezetjük a **szögfüggvények** fogalmát a hasonló háromszögek tulajdonságait kihasználva:

- $\sin \alpha$ az α szöggel szemközti befogó és az átfogó hányadosa,
- $\cos \alpha$ az α szög melletti befogó és az átfogó hányadosa,
- $\operatorname{tg} \alpha$ az α szöggel szemközti befogó és az α szög melletti befogó hányadosa,
- $\operatorname{ctg} \alpha$ az α szög melletti befogó és az α szöggel szemközti befogó hányadosa.

$$\sin \alpha = \frac{a}{c}, \quad \cos \alpha = \frac{b}{c}, \quad \operatorname{tg} \alpha = \frac{a}{b}, \quad \operatorname{ctg} \alpha = \frac{b}{a}$$



TÉTEL: Szinusztétel: Egy háromszögben két oldal hosszának aránya egyenlő a velük szemközti szögek szinuszának arányával:

$$\frac{a}{b} = \frac{\sin \alpha}{\sin \beta}$$

A szinusztétel a háromszög három oldalára is felírható, ekkor $a : b : c = \sin \alpha : \sin \beta : \sin \gamma$.

BIZONYÍTÁS: A háromszög oldalainak és szögeinek szokásos jelölését alkalmazva írjuk fel a háromszög területét kétféleképpen:

$$T = \frac{b \cdot c \cdot \sin \alpha}{2} = \frac{a \cdot c \cdot \sin \beta}{2}$$

Az utóbbi egyenlőség mindkét oldalát szorozzuk meg 2-vel és osszuk el c -vel:

$$b \cdot \sin \alpha = a \cdot \sin \beta$$

Ezt keresztbeosztással rendezzük:

$$\frac{a}{b} = \frac{\sin \alpha}{\sin \beta}$$

Ezzel bebizonyítottuk az állítást.

Színusztétel alkalmazása:

- Ha adott a háromszög egy oldala és két szöge, akkor bármely oldal kiszámolható (mert ekkor kiszámolható a belső szögösszegeből a harmadik szög).
- Ha adott a háromszög két oldala és nem az általuk közbezárt szög ismert, akkor két eset lehetséges:
 - Ha a két oldal közül a nagyobbikkal szemköztes szög ismert, akkor kiszámolható a kisebbik oldallal szemköztes szög. Ebben az esetben a háromszög egyértelműen meghatározott.
 - Ha a háromszög két oldalát és a rövidebbel szemköztes szöget ismerjük, akkor kiszámolható a nagyobbik oldallal szemköztes szög, amire háromféle megoldás is lehet:
 1. ha a szög színuszára pozitív, de 1-nél kisebb értéket kapunk, akkor két megoldás van, a szög lehet hegyesszög és tompaszög is. Ekkor a háromszög nem egyértelműen meghatározott, két ilyen háromszög létezik.
 2. ha a szög színuszára 1-et kapunk, akkor egy megoldás van, a szög 90° , ez egy derékszögű háromszög.
 3. ha a szög színuszára 1-nél nagyobb számot kapunk, akkor nincs ilyen szög, azaz nincs az adatoknak megfelelő háromszög.

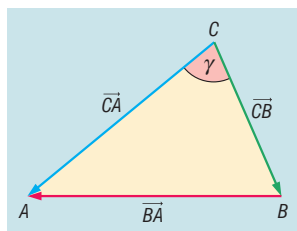
Ebben az esetben inkább a koszinusztételt alkalmazzuk, ekkor másodfokú egyenletet kapunk a harmadik oldalra, így viszont egyértelműen eldönthető az oldal hossza (a másodfokú egyenletnek 0, 1, 2 megoldása van, illetve feltétel, hogy az oldal hossza pozitív, vagy a háromszög-egyenlőtlenség is segíthet abban, hogy eldöntsük, hogy melyik eredmény megoldása a feladatnak).

TÉTEL: Koszinusztétel: egy háromszög egyik oldalhosszának négyzetét megkapjuk, ha a másik két oldal négyzetösszegéből kivonjuk a két oldal hosszának és a közbezárt szög koszinuszának kétszeres szorzatát: $c^2 = a^2 + b^2 - 2ab\cos\gamma$.

BIZONYÍTÁS: Vektorok skaláris szorzatának felhasználásával fogjuk bizonyítani, ezért a háromszög oldalait irányítjuk:

$$\vec{CB} = \underline{a}, \quad \vec{CA} = \underline{b}, \quad \vec{BA} = \underline{c}.$$

Jelölje $|\underline{a}| = a$, $|\underline{b}| = b$ és $|\underline{c}| = c$.



Ekkor $\underline{c} = \underline{a} - \underline{b}$. Az egyenlet mindkét oldalát önmagával skalárisan szorozva:

$$\underline{c}^2 = (\underline{a} - \underline{b})^2 \Rightarrow \underline{c}^2 = \underline{a}^2 - 2\underline{a}\underline{b} + \underline{b}^2.$$

$$\underline{c}^2 = |\underline{c}| \cdot |\underline{c}| \cdot \cos 0^\circ = c \cdot c \cdot 1 = c^2.$$

Hasonlóan $\underline{a}^2 = a^2$ és $\underline{b}^2 = b^2$.

$$\underline{a} \cdot \underline{b} = |\underline{a}| \cdot |\underline{b}| \cdot \cos \gamma = a \cdot b \cdot \cos \gamma.$$

Ezeket beírva a $\underline{c}^2 = \underline{a}^2 - 2\underline{a}\underline{b} + \underline{b}^2$ egyenletbe, kapjuk: $c^2 = a^2 + b^2 - 2ab\cos\gamma$.

Következmények:

- ha $\gamma = 90^\circ$, vagyis a háromszög derékszögű, akkor $c^2 = a^2 + b^2$, ami a Pitagorasz-tétel.
- ha $\gamma < 90^\circ$, akkor bármely két oldalának négyzetösszege nagyobb a harmadik oldal négyzeténél.
- ha $\gamma > 90^\circ$, akkor a két rövidebb oldal négyzetösszege kisebb a harmadik oldal négyzeténél.

A koszinusztétel alkalmazása:

- Ha adott a háromszög két oldala és az általuk közbezárt szög, akkor kiszámítható a szöggel szembeni oldal.
- Ha adott a háromszög három oldala, akkor kiszámítható a háromszög bármely szöge.
Ha keressük a háromszög szögeit, akkor ebben az esetben a háromszög legnagyobb szögét érdemes kiszámítani koszinusztétellel, ami a leghosszabb oldallal szemben van, mert az hegyes-, derék- és tompaszögre is egyértelmű megoldást ad.

V. Alkalmazások:

- Háromszögek szerkesztése, háromszög ismeretlen adatainak kiszámítása
- Sokszögekben oldalak, átlók, szögek kiszámítása háromszögekre bontással
- Földmérésben, térképészetben, csillagászatban mért adatokból távolságok és szögek kiszámítása
- Terepfeladatok megoldásánál: pl.: megközelíthetetlen pontok helyének meghatározása
- Modern helymeghatározás: GPS

Matematikatörténeti vonatkozások:

- **Thalész** a Kr. e. VI. században élt az ókori Görögországban, az első olyan matematikus volt, akinek bizonyítási igénye volt. Ő mondta ki, hogy a háromszög belső szögeinek összege 180° , megállapította, hogy egyenlő szárú háromszögben az egyenlő hosszúságú oldalakkal szemben egyenlő szögek vannak.
- A szinusztétel felfedezője **Abu Nasr** (1000 körül) arab matematikus.
- **Regiomontanus** (1436–1476) német matematikus részletes trigonometriai bevezetést írt a háromszögekről. Készített szinusztáblázatot is. A nagy humanista Vitéz János barátjaként éveket töltött Esztergomban, majd Mátyás király udvarában a Corvina könyvtár rendezésével foglalatoskodott.
- A legrégebb térképeket több mint 4000 évvel ezelőtt készítették. **Snellius** holland mérnök a XVII. században kidolgozott olyan, a háromszögek adatainak meghatározására épülő (trigonometriai) módszert, amelynek alkalmazásával a térképek pontosabbá váltak.

15. Egybevágósági transzformációk, alakzatok egybevágósága. Szimmetria. Hasonlósági transzformációk. Hasonló síkidomok kerülete, területe, hasonló testek felszíne, térfogata. A hasonlóság alkalmazásai síkgeometriai tételek bizonyításában

Vázlat:

- I. Egybevágósági transzformációk
 - Eltolás, tengelyes tükrözés, pontra vonatkozó tükrözés, pont körüli elforgatás
- II. Alakzatok egybevágósága (háromszögek, sokszögek)
- III. Szimmetria
- IV. Hasonlósági transzformáció:
 - Középpontos hasonlósági transzformáció
- V. Alakzatok hasonlósága (háromszögek, sokszögek)
- VI. Transzformációk tulajdonságai
- VII. Hasonló síkidomok kerülete, területe, hasonló testek felszíne, térfogata
- VIII. Hasonlóság alkalmazása síkgeometriai tételek bizonyításában: háromszögekre vonatkozó tételekben
 - a) középvonalra vonatkozó tétel
 - b) súlyvonalakra vonatkozó tétel
 - c) szögfelezőtétel
 - d) magasságtétel
 - e) befogótétel
- IX. Alkalmazások, matematikatörténeti vonatkozások

Kidolgozás:

I. Transzformációk

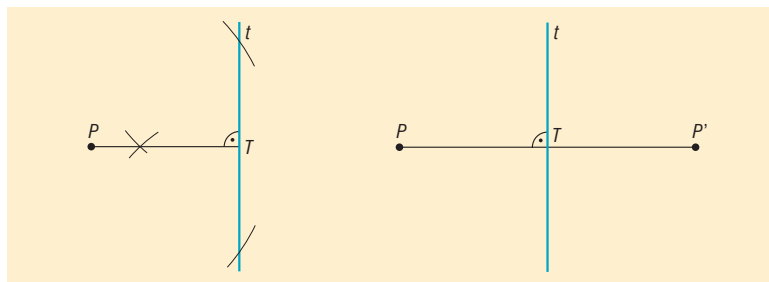
DEFINÍCIÓ: Geometriai transzformációk azok a függvények, amelyek egy ponthalmazt ponthalmazzá képeznek le. ($D_f = R_f =$ ponthalmaz)

DEFINÍCIÓ: A geometriai transzformációk közül a távolságtartó transzformációkat **egybevágósági transzformációknak** nevezzük.

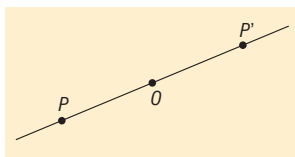
Távolságtartó leképezés: bármely két pont távolsága egyenlő képeik távolságával.

Síkbeli egybevágósági transzformációk: tengelyes tükrözés, pontra vonatkozó (középpontos) tükrözés, pont körüli elforgatás, eltolás, és ezek egymás utáni alkalmazása.

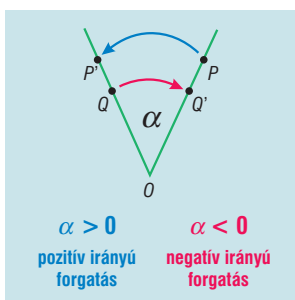
DEFINÍCIÓ: Tengelyes tükrözés: adott a sík egy t egyenese, ez a tengelyes tükrözés tengelye. A t tengelyre vonatkozó tengelyes tükrözés a sík tetszőleges t -re nem illeszkedő P pontjához azt a P' pontot rendeli, amelyre fennáll, hogy a PP' szakasz felezőmerőlegese a t tengely. A t egyenesen lévő minden pont képe önmaga.



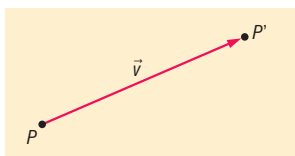
DEFINÍCIÓ: Középpontos tükrözés: adott a sík egy O pontja, a középpontos tükrözés középpontja. Az O pontra vonatkozó középpontos tükrözés a sík egy tetszőleges O -tól különböző P pontjához azt a P' pontot rendeli, amelyre az O pont a PP' szakasz felezőpontja. Az O pont képe önmaga.



DEFINÍCIÓ: Pont körüli forgatás: adott a sík egy O pontja és egy α irányított szög. Az O pont körüli α szögű, adott irányú forgatás a sík egy tetszőleges O -tól különböző P pontjához azt a P' pontot rendeli, amelyre teljesül, hogy POP' szög irány és nagyság szerint megegyezik α -val és $OP = OP'$. O pont képe önmaga.



DEFINÍCIÓ: Eltolás: adott egy \underline{v} vektor. A \underline{v} vektorral való eltolás a sík (tér) tetszőleges P pontjához azt a P' pontot rendeli, amelyre $\overrightarrow{PP'} = \underline{v}$.



II. Alakzatok egybevágósága (háromszögek, sokszögek)

DEFINÍCIÓ: Két alakzat egybevágó, ha van olyan egybevágósági transzformáció, amely az egyik alakzatot a másikba viszi. Jele: $A \cong B$.

TÉTEL: Két háromszög akkor és csak akkor egybevágó, ha:

- megfelelő oldaluk hossza páronként egyenlő,
- két-két oldaluk hossza páronként egyenlő és az ezek által közbezárt szögek nagysága egyenlő,
- két-két oldaluk hossza páronként egyenlő és e két-két oldal közül a hosszabbikkal szemközti szögük nagysága egyenlő,
- egy-egy oldaluk hossza páronként egyenlő és két-két szögük páronként egyenlő.

TÉTEL: Két sokszög akkor és csak akkor egybevágó, ha a következő feltételek egyike teljesül:

- megfelelő oldaluk hossza és a megfelelő átlóik hossza páronként egyenlő,
- megfelelő oldaluk hossza páronként egyenlő és megfelelő szögeik páronként egyenlők.

III. Szimmetria

DEFINÍCIÓ: Ha egy ponthalmazhoz található olyan t egyenes, amelyre vonatkozó tükörképe önmaga, akkor ez a ponthalmaz **tengelyesen szimmetrikus**, amelynek t a szimmetriatengelye.

Tengelyesen szimmetrikus síkidomok: egyenlő szárú háromszög, egyenlő oldalú háromszög, deltoid, húrtrapéz, rombusz, téglalap, négyzet, szabályos sokszögek, kör.

DEFINÍCIÓ: Ha egy ponthalmazhoz található olyan O pont, amelyre vonatkozó képe önmaga, akkor ez a ponthalmaz **középpontosan szimmetrikus**, amelynek O a szimmetria-középpontja. Középpontosan szimmetrikus síkidomok: paralelogramma, rombusz, téglalap, négyzet, páros oldalszámú szabályos sokszögek, kör, ellipszis. Középpontosan szimmetrikus háromszög nincs.

DEFINÍCIÓ: Ha egy ponthalmazhoz található egy olyan O pont és egy α ($0 < \alpha < 360^\circ$) szög úgy, hogy az alakzat O pont körüli α szögű elforgatása önmaga, akkor ez a ponthalmaz **forgásszimmetrikus**.

Forgásszimmetrikus síkidomok: a középpontosan szimmetrikus síkidomok ($\alpha = 180^\circ$), szabályos sokszögek ($\alpha = k \cdot \frac{360^\circ}{n}$), kör.

IV. Hasonlósági transzformáció: középpontos hasonlóság

DEFINÍCIÓ: Középpontos hasonlósági transzformáció: adott egy O pont és egy λ 0-tól különböző valós szám. A tér minden P pontjához rendeljük hozzá egy P' pontot a következőképpen:

1. ha $P = O$, akkor $P' = P$.
2. ha $P \neq O$, akkor P' az OP egyenes azon pontja, amelyre $OP' = |\lambda| \cdot OP$ és ha $\lambda > 0$, akkor P' az OP félegyenes pontja, ha $\lambda < 0$, akkor O elválasztja egymástól P -t és P' -t.

Az O pont a középpontos **hasonlósági transzformáció középpontja**, λ a középpontos **hasonlóság aránya**.

Ha $|\lambda| > 1$, akkor középpontos **nagyításról**, ha $|\lambda| < 1$, akkor **kicsinyítésről** beszélünk, ha pedig $|\lambda| = 1$, akkor a transzformáció egybevágósági transzformáció.

DEFINÍCIÓ: Véges sok középpontos hasonlósági transzformáció és véges sok egybevágósági transzformáció egymás utáni végrehajtásával kapott transzformációkat **hasonlósági transzformációnak** nevezzük.

V. Alakzatok hasonlósága (háromszögek, sokszögek)

DEFINÍCIÓ: **Két alakzat hasonló**, ha van olyan hasonlósági transzformáció, amely az egyik alakzatot a másikba viszi. Jele: $A \sim B$.

TÉTEL: **Két háromszög akkor és csak akkor hasonló**, ha:

1. megfelelő oldalaiak hosszának aránya páronként egyenlő, azaz $\frac{a}{a'} = \frac{b}{b'} = \frac{c}{c'} = \lambda$,
2. két-két oldalhosszuk aránya és az ezek által közbezárt szögek nagysága egyenlő, pl.: $\frac{a}{a'} = \frac{b}{b'} = \lambda$ és $\gamma = \gamma'$,
3. két-két oldalhosszuk aránya egyenlő, és e két-két oldal közül a hosszabbikkal szemközti szögük nagysága egyenlő, pl.: $\frac{a}{a'} = \frac{b}{b'} = \lambda$ és $\alpha = \alpha'$ (ha $a > b$),
4. két-két szögük páronként egyenlő, pl.: $\alpha = \alpha'$ és $\beta = \beta'$.

TÉTEL: **Két sokszög akkor és csak akkor hasonló**, ha megfelelő oldalhosszaik aránya és megfelelő szögeik nagysága páronként egyenlő nagyságú.

VI. Transzformációk főbb tulajdonságai

	Egybevágósági transzformációk				Hasonlóság: középpontos hasonlósági transzformáció
	tengelyes tükrözés	középpontos tükrözés	pont körüli elforgatás	eltolás	
fixpont (képe önmaga)	a t egyenes minden pontja	egyetlen fix- pont: O pont	egyetlen fix- pont: O pont (ha $\alpha \neq 0^\circ$)	nincs fix- pontja (ha $\underline{v} \neq \underline{0}$)	egyetlen fix- pont: O pont (ha $\lambda \neq 1$)
fixegyenes (minden pontja fixpont)	a t egyenes	nincs fixegyenes	nincs fixegyenes (ha $\alpha \neq 0^\circ$)	nincs fixegyenes	nincs fixegyenes (ha $\lambda \neq 1$)
invariáns egye- nes (képe önmaga, de pontonként nem fix)	a t -re merő- leges egye- nesek	minden O -ra illeszkedő egyenes in- variáns	nincs invari- áns egyenes (ha $\alpha \neq 0^\circ$, $\alpha \neq 180^\circ$)	az adott vektorral párhuzamos egyenesek	minden O -ra illeszkedő egyenes in- variáns (ha $\lambda \neq 1$)

VII. Hasonló síkidomok kerülete, területe, hasonló testek felszíne, térfogata

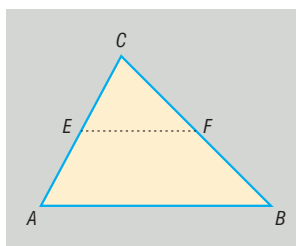
TÉTEL: Hasonló síkidomok kerületének aránya megegyezik a hasonlóság arányával, területének aránya a hasonlóság arányának négyzetével: $\frac{k_1}{k_2} = \lambda$ és $\frac{t_1}{t_2} = \lambda^2$.

TÉTEL: Hasonló testek felszínének aránya megegyezik a hasonlóság arányának négyzetével, térfogatának aránya a hasonlóság arányának köbével: $\frac{A_1}{A_2} = \lambda^2$ és $\frac{V_1}{V_2} = \lambda^3$.

VIII. Hasonlóság alkalmazása síkgeometriai tételek bizonyításában: háromszögre vonatkozó tételekben

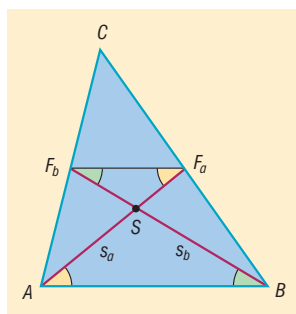
TÉTEL: A háromszög középvonalaira vonatkozó tétel: A háromszög középvonala párhuzamos a felezőpontokat nem tartalmazó oldalakkal, és feleolyan hosszú, mint a nem felezett oldal.

BIZONYÍTÁS: A tétel bizonyításakor az ABC és EFC háromszögek hasonlóságát használjuk.



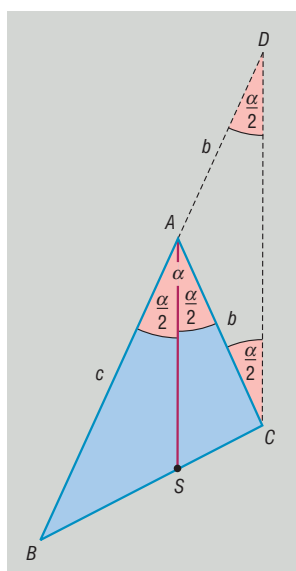
TÉTEL: A háromszög súlyvonalaira vonatkozó tétel: A háromszög súlyvonalai egy pontban metszik egymást. Ez a pont mindhárom súlyvonalnak a csúctól távolabbi harmadolópontja.

BIZONYÍTÁS: A tétel bizonyításakor az ASB és SF_aF_b háromszögek hasonlóságát használjuk.



TÉTEL: Szögfelezőtétel: Egy háromszög belső szögfelezője a szemközti oldalt a szomszédos oldalak arányában osztja.

BIZONYÍTÁS: Az ABC háromszög A csúcsából induló belső szögfelező BC oldalt az S pontban metszi.



A BA szakaszt hosszabbítsuk meg A -n túl és legyen $AD = b$. Ekkor $AD = AC = b$, ebből következik, hogy az ACD háromszög egyenlő szárú, a C -nél és a D -nél levő belső szögek egyenlők, az A -nál levő külső szög α .

Tudjuk, hogy a háromszög külső szöge egyenlő a vele nem szomszédos belső szögek összegével, tehát $\angle ACD = \angle ADC = \frac{\alpha}{2}$.

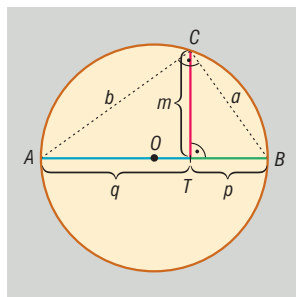
Ekkor viszont $\angle BAS = \angle ADC = \frac{\alpha}{2}$. Ebből következik, hogy az $AS \parallel CD$. A B csúcsnál levő

szögre alkalmazva a párhuzamos szelők tételét, kapjuk: $\frac{CS}{SB} = \frac{DA}{AB} = \frac{AC}{AB}$.

TÉTEL: Magasságtétel: Derékszögű háromszögben az átfogóhoz tartozó magasság hossza mértani közepe azon két szakasz hosszának, amelyekre a magasság az átfogót osztja.

BIZONYÍTÁS: A tétel bizonyításakor a TBC és TAC háromszögek hasonlóságát használjuk.

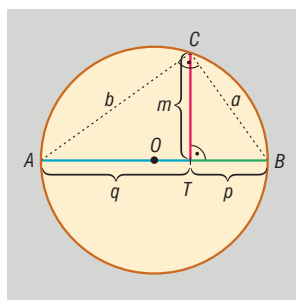
$$\frac{m}{p} = \frac{q}{m} \Rightarrow m^2 = p \cdot q \Rightarrow m = \sqrt{p \cdot q}$$



TÉTEL: Befogótétel: Derékszögű háromszög befogójának hossza mértani közepe az átfogó és a befogó átfogóra eső merőleges vetülete hosszának.

BIZONYÍTÁS: A tétel bizonyításakor a TBC és az ABC háromszögek hasonlóságát használjuk.

$$\frac{a}{p} = \frac{c}{a} \Rightarrow a^2 = p \cdot c \Rightarrow a = \sqrt{p \cdot c}$$



VII. Alkalmazások:

- A kör kerületének és területének meghatározását végezhetjük a körbe, illetve a kör köré írt szabályos sokszögek kerületének, illetve területének segítségével. Ez egyben π értékének közelítése.
- Az aranymetszés aránya = szabályos ötszög átlóinak osztásaránya.
- Hegyesszögek szögfüggvényeinek értelmezése derékszögű háromszögek hasonlóságán alapul.
- Hasonlóságot használnak a térképészetben, az építészetben (tervek, makettek), az optikai lencsék alkalmazásakor.
- Szakasz egyenlő részekre osztása párhuzamos szelők tételének segítségével történik.

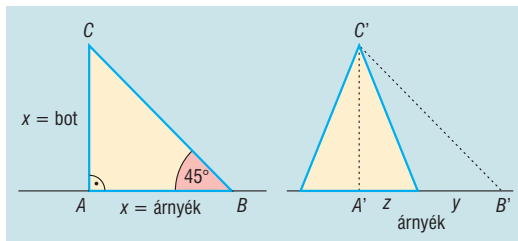
Matematikatörténeti vonatkozások:

- **Eukleidész**, Kr. e. 300 körül élt görög matematikus *Elemek* című művében meghatározta a geometriai alapszerkesztések axiómáit, az egybevágósággal és hasonlósággal kapcsolatos tételeket. Pl. hasonló körszeletek területei úgy aránylanak egymáshoz, mint húrjaik négyzetei.
- **Thalész** a Krisztus előtti VI. században élt az ókori Görögországban, kiszámolta az egyiptomi piramisok magasságát a hasonlóság segítségével:
Egy földbe szúrt bot segítségével mérte a piramisok magasságát: amikor a bot és az árnyéka egyenlő hosszú, akkor a piramis árnyéka is egyenlő a piramis magasságával, így elegendő

csak a piramis árnyékát és alapját megmérni, mert ezekből már számolható a piramis magassága:

$$\frac{AC}{A'C'} = \frac{AB}{A'B'} \Rightarrow \frac{AC}{AB} = \frac{A'C'}{A'B'} = 1$$

$$A'B' = A'C' = y + z$$



- Az egybevágóság jelét (\cong) **Leibniz** (1646–1716) német matematikus vezette be.

16. Konvex sokszögek tulajdonságai. Szabályos sokszögek. Gráfok

Vázlat:

- I. Konvex sokszögek tulajdonságai
- II. Szabályos sokszögek
- III. Gráfok
- IV. Alkalmazások, matematikatörténeti vonatkozások

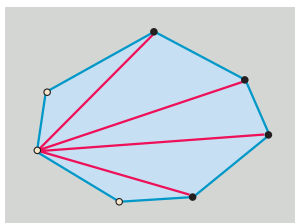
Kidolgozás

I. Konvex sokszögek tulajdonságai

DEFINÍCIÓ: Egy sokszög **konvex**, ha bármely két belső pontját összekötő szakasz minden pontja a sokszög belső pontja.

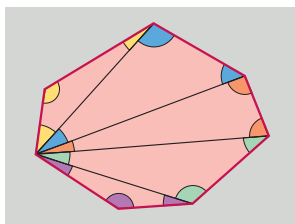
TÉTEL: Egy n oldalú konvex sokszög átlóinak száma: $\frac{n \cdot (n-3)}{2}$.

BIZONYÍTÁS: Az n oldalú, vagyis n csúcsú konvex sokszög minden csúcsából $n-3$ darab átló húzható (nem húzható átló a két szomszédos csúcsba és saját magába). Így n csúcsból $n \cdot (n-3)$ átló húzható. Ekkor viszont minden átlót kétszer számoltunk, mert figyelembe vettük a kezdőpontjánál és a végpontjánál is. Ezért az összes átló száma $\frac{n \cdot (n-3)}{2}$.



TÉTEL: Egy n oldalú konvex sokszög **belső szögeinek összege** $(n-2) \cdot 180^\circ$.

BIZONYÍTÁS: A konvex sokszög egy csúcsából $n-3$ átló húzható (nem húzható átló a két szomszédos csúcsba és saját magába). Ez az $n-3$ darab átló $n-2$ darab háromszögre bontja a sokszöget. Egy háromszög belső szögeinek összege 180° , így az $n-2$ darab háromszög belső szögeinek összege $(n-2) \cdot 180^\circ$, ami éppen a sokszög belső szögeinek összegét adja.



DEFINÍCIÓ: A konvex sokszög belső szögeinek mellékszögeit a sokszög **külső szögeinek** nevezük.

TÉTEL: Egy n oldalú konvex sokszög **külső szögeinek összege** 360° .

BIZONYÍTÁS: A konvex sokszög egy belső szögének és a hozzá tartozó külső szögnek az összege 180° , mert mellékszögpárt alkotnak. Így az n csúcsnál levő belső szög-külső szög párok összege $n \cdot 180^\circ$. Ebből levonva a belső szögek összegét, megkapjuk a külső szögek összegét: $n \cdot 180^\circ - (n - 2) \cdot 180^\circ = (n - (n - 2)) \cdot 180^\circ = 2 \cdot 180^\circ = 360^\circ$.

II. Szabályos sokszögek

DEFINIÍCIÓ: Egy sokszög **szabályos**, ha minden oldala egyenlő hosszú és minden szöge egyenlő.

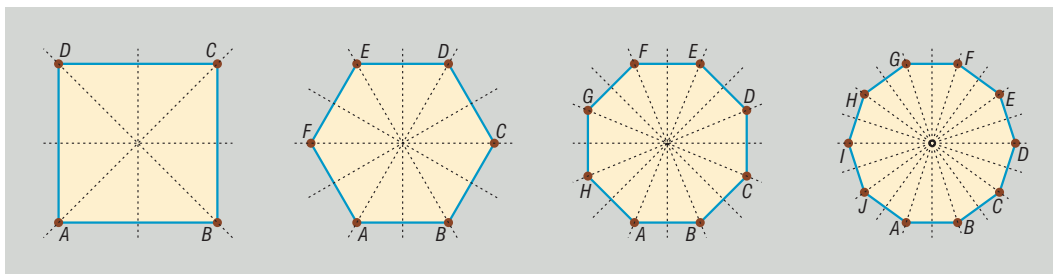
TÉTEL: Egy n oldalú szabályos sokszög **egy belső szöge** $\frac{(n-2) \cdot 180^\circ}{n}$.

BIZONYÍTÁS: A konvex sokszög belső szögeinek összege $(n - 2) \cdot 180^\circ$, ami éppen n darab egyenlő szög összege, mert a belső szögek egyenlők. Így egy belső szög nagysága ennek az n -ed része, azaz: $\frac{(n-2) \cdot 180^\circ}{n}$.

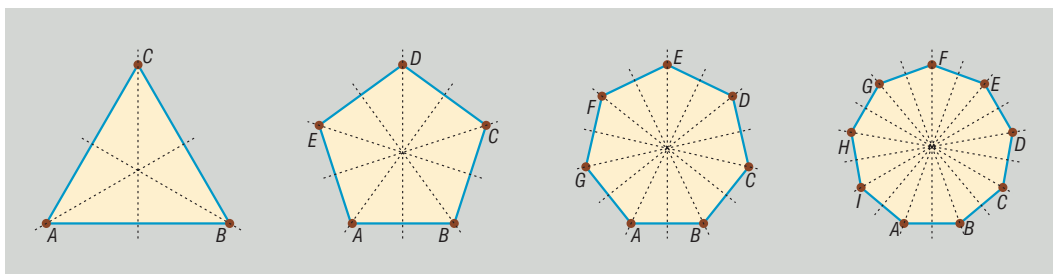
Szimmetriák szabályos sokszögekben:

Tengelyes szimmetria: egy szabályos n -szögnek n darab szimmetriatengelye van. Különbséget kell tennünk a szimmetriatengelyek milyensége között: szimmetriatengely lehet oldalfelező merőleges, illetve szögfelező.

Páros n esetén ezek elkülönülnek: a tengelyek fele, azaz $\frac{n}{2}$ darab tengely a szemköztes oldalak oldalfelező merőlegese; a tengelyek másik fele, azaz $\frac{n}{2}$ darab tengely a szemközti csúcsok szögfelező egyenese.

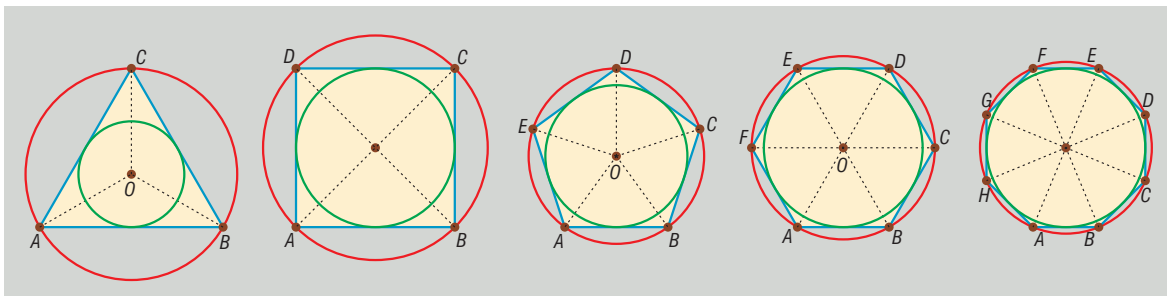


Páratlan n esetén bármely szimmetriatengely az egyik oldal oldalfelező merőlegese és a szemköztes szög szögfelezője is egyben.



A szimmetriatengelyek egy pontban metszik egymást, szabályos sokszögek esetében ez a pont a sokszög köré írható és a sokszögbe írható kör középpontja is. Mindezekből következik, hogy a szabályos sokszögek húrsokszögek és érintősokszögek is egyben. A körök középpontjából a szabályos

n -szög n darab egyenlő szárú háromszögre bontható, amelynek alapja a sokszög oldala, szára a sokszög köré írható kör sugara, alaphoz tartozó magassága a sokszögbe írható kör sugara.



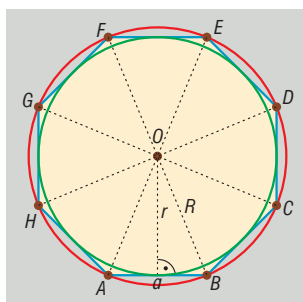
Középpontos szimmetria: a páros oldalszámú szabályos sokszögek középpontosan szimmetrikusak. A szimmetria-középpont két szimmetriatengely metszéspontja.

Forgásszimmetria: minden szabályos sokszög forgásszimmetrikus. A forgatás középpontja a sokszög középpontja (a szimmetriatengelyek metszéspontja, páros oldalszám esetén a középpontos szimmetria középpontja is), a forgatás szöge pedig lehet $k \cdot \frac{360^\circ}{n}$, ahol $k \in \mathbb{Z}$.

TÉTEL: Egy n oldalú szabályos sokszög **területe:** $T = n \cdot \frac{R^2 \cdot \sin\left(\frac{360^\circ}{n}\right)}{2}$, ahol R a sokszög köré írt kör sugara.

TÉTEL: Egy n oldalú szabályos sokszög **kerülete:** $K = 2 \cdot n \cdot R \cdot \sin\left(\frac{180^\circ}{n}\right)$, ahol R a sokszög köré írt kör sugara.

TÉTEL: Egy n oldalú szabályos sokszög **területe:** $T = \frac{r \cdot K}{2}$, ahol r a sokszögbe írt kör sugara, K a kerülete, ebből $T = \frac{r \cdot n \cdot a}{2}$, ahol r a sokszögbe írt kör sugara, a pedig az oldalhossza.



III. Gráfok

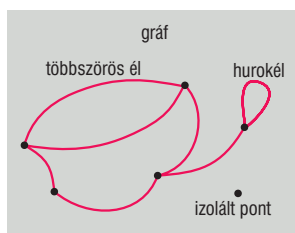
A gráfok nagyon jól szemléltetik egy halmaz elemei közti kapcsolatokat. Gráfokkal szemléltethetők pl. egy társaság ismeretségi viszonyai, vagy bármilyen hálózat kapcsolódási viszonyai.

DEFINÍCIÓ: A **gráf** pontokból és vonalokból áll. Minden vonal két (nem feltétlenül különböző) pontot köt össze. A pontok a **gráf pontjai**, a vonalak a **gráf élei**.

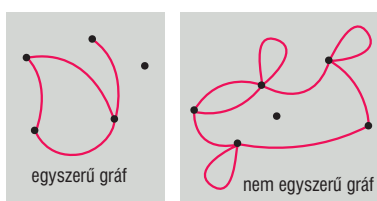
DEFINÍCIÓ: A gráf olyan pontját, amelyből nem vezet él, **izolált pontnak** nevezzük.

DEFINÍCIÓ: A gráfokban előfordulhat olyan él is, melynek mindkét végpontja ugyanaz a pont, az ilyen él neve **hurokél**.

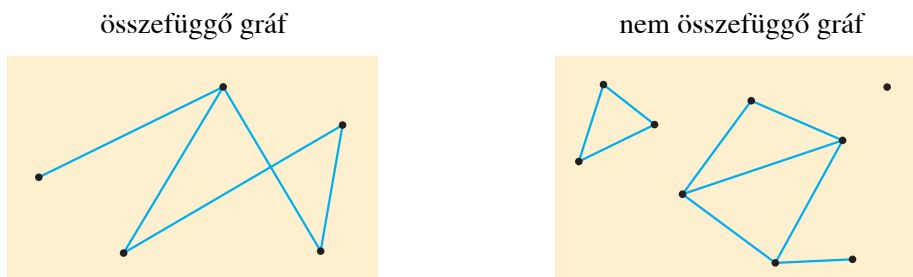
DEFINÍCIÓ: Két csúc között több él is húzhatunk, ezek a **többszörös élek**.



DEFINÍCIÓ: Egy gráfot **egyszerű gráfnak** nevezünk, ha nincs benne sem hurokél, sem többszörös él.



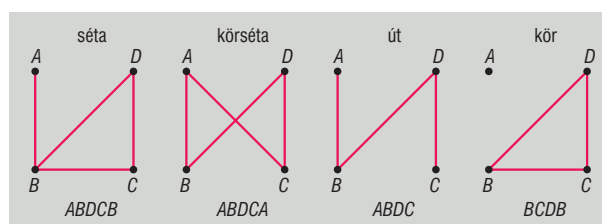
DEFINÍCIÓ: Egy gráf **összefüggő gráf**, ha bármely pontjából bármely másik pontjába élek mentén el lehet jutni.



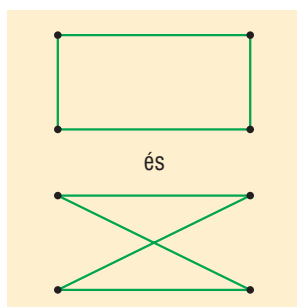
DEFINÍCIÓ: A **séta** a gráf csúcsainak és éleinek olyan sorozata, amelyben egy-egy csúc vagy él akár többször is szerepelhet. **Körséta** az olyan séta, amelyben az élsorozat kezdő és végpontja egybeesik.

DEFINÍCIÓ: Az **út** a gráf éleinek olyan egymáshoz csatlakozó sorozata, amelyben a csúcsok nem ismétlődnek.

DEFINÍCIÓ: A **kör** a gráf éleinek olyan egymáshoz csatlakozó sorozata, amelyben a kezdő és a végpont azonos, a többi csúc nem ismétlődik.

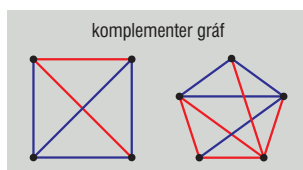


DEFINÍCIÓ: Két gráfot **izomorf**nak nevezünk, ha pontjaik és éleik kölcsönösen egyértelműen és illeszkedéstartóan megfeleltethetők egymásnak.



DEFINÍCIÓ: Egy egyszerű gráf **komplementer** gráfja az az egyszerű gráf, amely a gráfot a pontjaitól álló teljes gráffá egészíti ki.

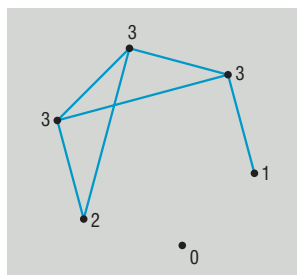
Azaz egy egyszerű gráf komplementer gráfjának csúcsai közt pontosan akkor vezet él, ha az eredeti gráf csúcsai között nem volt él.



Az ábrákon a kézzel rajzolt gráf komplementer gráfja a pirossal rajzolt gráf, és fordítva is igaz: a pirossal rajzolt gráf komplementer gráfja a kézzel rajzolt gráf.

DEFINÍCIÓ: Egy gráf egy pontjához illeszkedő élvégek számát a pont **fokszámának** (fokának) nevezzük.

TÉTEL: A legalább 2 csúcsú egyszerű gráfban van 2 azonos fokú csúcs.



BIZONYÍTÁS: Az n csúcsú gráf minden pontjának fokszáma legfeljebb $n - 1$. Így az n darab fokszám között a skatulyaelv miatt biztosan van kettő egyenlő.

TÉTEL: A pontok **fokszámösszege** az élek számának kétszerese.

TÉTEL: Minden gráfban a pontok fokszámának összege páros szám.

TÉTEL: A páratlan fokszámú pontok halmaza páros (hiszen a páros fokszámú pontok fokszámának az összege páros, és ehhez hozzáadva a páratlan fokszámú pontok összegét, páros számot kell kapnunk).

DEFINÍCIÓ: Ha egy gráfnak n pontja van ($n \in \mathbb{Z}^+$) és mindegyik pontból pontosan egy él vezet a többi ponthoz, akkor a gráfot n pontú **teljes gráfnak** nevezzük.

TÉTEL: n pontú teljes gráf éleinek a száma: $\frac{n \cdot (n-1)}{2}$.

TÉTEL: n pontú teljes gráfban a fokszámok összege: $n \cdot (n - 1)$.

1 pontú teljes gráf	2 pontú teljes gráf	3 pontú teljes gráf	4 pontú teljes gráf	5 pontú teljes gráf	6 pontú teljes gráf

DEFINIÓ: A **fagráf** olyan összefüggő gráf, amely nem tartalmaz kört.

TÉTEL: A fagráf maximális körmentes gráf (ha bármely két pontját összekötjük, amelyek között nem volt él, akkor a gráf már tartalmaz kört).

TÉTEL: A fagráf minimális összefüggő gráf (ha bármely élet elhagyjuk, akkor a gráf már nem összefüggő).

TÉTEL: A fagráf bármely két csúcsát egyetlen út köti össze

TÉTEL: Az n csúcsú fagráfnak $n - 1$ éle van.

1 pontú fagráf	2 pontú fagráf	3 pontú fagráf	4 pontú fagráf	5 pontú fagráf	6 pontú fagráf

TÉTEL: Minden egynél több csúcsú fagráfnak van legalább 2 elsőfokú csúcsa.

IV. Alkalmazások

Sokszögek:

- Görbült felületekkel határolt testek számítógépes ábrázolásakor a test felületét sokszöglapokból álló felületekkel közelítik meg.
- A kör kerületének és területének meghatározását végezhetjük a körbe, illetve a kör köré írt szabályos sokszögek kerületének, illetve területének segítségével. Ez egyben a π értékének közelítése.
- A kristályszerkezetekben jellemzően előfordulnak szabályos sokszögek (grafitban szabályos hatszög).
- Az aranymetszés aránya egyenlő a szabályos ötszög átlóinak osztásarányával.
- Az építészetben a szimmetriákat, a szabályos sokszögeket gyakran alkalmazzák statisztikai és esztétikai szempontból.

Gráfok:

- Minimális költségű hálózatok (elektromos hálózatok, közlekedési útvonalak) tervezése
- Szerencsejátékok nyerési esélyeinek meghatározása
- Gráfokat jól lehet alkalmazni szociológiai, pszichológiai vizsgálatokban a kapcsolati rendszerek ábrázolásához
- Informatikában algoritmusok tervezése

Matematikatörténeti vonatkozások:

- Az ókorban már ismerték a szabályos háromszög és a szabályos négyszög (négyzet) szerkesztési módszerét. **Hippaszosz** (Kr. e. V. században) kidolgozta a szabályos ötszög szerkesztési módját.
- **Gauss** 19 évesen (1796-ban) kidolgozta a szabályos sokszögek szerkesztési algoritmusát, a szabályos 17-szög szerkesztési eljárását meg is mutatta.
- A gráfokkal először **Euler** foglalkozott 1736-ban a königsbergi hidak néven ismertté vált feladatában (a gráf minden élén pontosan egyszer megyünk végig).
- 1835-ben **Hamilton** ír matematikus értekezést írt a gráfokról (Hamilton-kör néven vált ismertté: a gráf minden csúcsát pontosan egyszer érintjük).
- **Kőnig Dénes** magyar matematikus írta le először tudományos alapokra helyezve a gráfelméletet 1936-ban (*A véges és a végtelen gráfok elmélete* című művében).

17. A kör és részei. Kerületi szög, középponti szög, látószög. Húrnégyszögek, érintőnéyszögek

Vázlat:

- I. Kör és részei (kör, körlap, körcikk, körgyűrű, körgyűrűcikk, körszelet)
- II. Kerületi, középponti szög, látószög, látókörv, kerületi és középponti szögek tétele, radián
- III. Húrnégyszög: definíció, tétel, terület (Heron-képlet)
- IV. Érintőnéyszög: definíció, tétel, terület
- V. Alkalmazások, matematikatörténeti vonatkozások

Kidolgozás

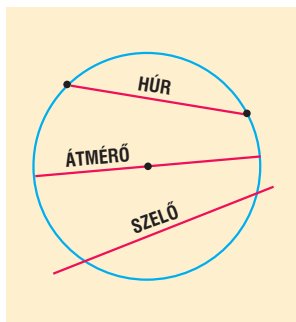
I. Kör és részei

DEFINÍCIÓ: Azoknak a pontoknak a halmaza a síkon, amelyeknek a sík egy adott O pontjától adott r távolságra (adott r távolságnál nem nagyobb / adott r távolságnál kisebb) vannak, O középpontú, r sugarú **körnek** (**zárt körlapnak** / **nyílt körlapnak**) nevezzük.

A kör területe $t = r^2\pi$, kerülete $k = 2r\pi$.

DEFINÍCIÓ: A körvonal két különböző pontját összekötő szakaszt **húrnak** nevezzük.

DEFINÍCIÓ: A húr egyenesét **szelőnek**, a középponton áthaladó húrt **átmérőnek** nevezzük. Az átmérő a kör leghosszabb húrja, hossza: $2r$.

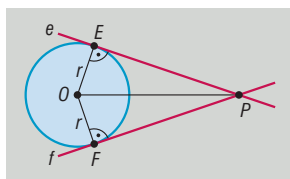


DEFINÍCIÓ: A **kör érintője** a kör síkjának olyan egyenese, amelynek pontosan egy közös pontja van a körrel.

TÉTEL: A kör minden egyes pontjába egyetlen érintő húzható és ez az érintő merőleges az érintési pontba húzott sugárra.

TÉTEL: A körhöz külső pontból húzott érintőszakaszok egyenlők.

BIZONYÍTÁS: Egy adott O középpontú körhöz adott külső P pontból húzzuk meg a két érintőt (e -t és f -et), az érintési pontok E és F . Tekintsük az OEP , illetve az FOP háromszögeket. A két háromszög egybevágó, mert két-két oldaluk és a nagyobbik oldallal szemköztes szögük egyenlő ($OE = OF = r$, OP mindkét háromszög oldala, $\sphericalangle OEP = \sphericalangle OFP = 90^\circ$). Az egybevágóságból következik, hogy a háromszögek harmadik oldala is egyenlő, azaz $PE = PF$, ez azt jelenti, hogy az érintőszakaszok egyenlő hosszúak.



TÉTEL: A kör

- a középpontján áthaladó tetszőleges egyenesre nézve tengelyesen szimmetrikus
- a középpontjára nézve középpontosan szimmetrikus
- a középpontja körüli forgatásra forgatásszimmetrikus

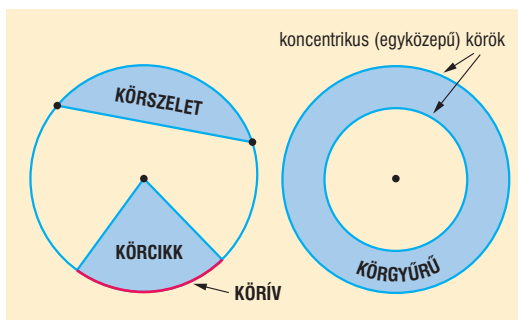
DEFINÍCIÓ: A körlapnak két sugár közé eső darabja a **körcikk**.

DEFINÍCIÓ: Egy szelő által a körlapból lemetszett rész a **körselet**.

DEFINÍCIÓ: Két kör **koncentrikus**, ha középpontjaik egybeesnek.

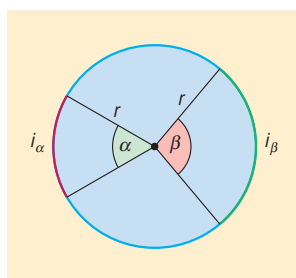
DEFINÍCIÓ: Két koncentrikus körvonal közé eső rész a **körgyűrű**.

DEFINÍCIÓ: Ha egy szög csúcsa a kör középpontja, akkor a szöget **középponti szögnek** nevezzük.



TÉTEL: Egy adott körben két középponti szöghöz tartozó **ívek hosszának aránya**, valamint a **körcikkek területének aránya** megegyezik a középponti szögek arányával.

$$\frac{\alpha}{\beta} = \frac{i_{\alpha}}{i_{\beta}} = \frac{t_{\alpha}}{t_{\beta}}$$



TÉTEL: Egy körben az α középponti szögű **körcikk területe**:

$$\frac{t_{\alpha}}{r^2\pi} = \frac{\alpha^{\circ}}{360^{\circ}} \Rightarrow t_{\alpha} = \frac{r^2\pi}{360^{\circ}} \cdot \alpha^{\circ}, \text{ illetve } \frac{t_{\alpha}}{r^2\pi} = \frac{\hat{\alpha}}{2\pi} \Rightarrow t_{\alpha} = \frac{r^2\hat{\alpha}}{2},$$

a hozzátartozó **ív hossza**:

$$\frac{i_{\alpha}}{2r\pi} = \frac{\alpha^{\circ}}{360^{\circ}} \Rightarrow i_{\alpha} = \frac{2r\pi}{360^{\circ}} \cdot \alpha^{\circ}, \text{ illetve } \frac{i_{\alpha}}{2r\pi} = \frac{\hat{\alpha}}{2\pi} \Rightarrow i_{\alpha} = r\hat{\alpha}.$$

TÉTEL: Egy körben az α középponti szögű **körcikk területe az ívhosszal** kifejezve $t_\alpha = \frac{r \cdot i_\alpha}{2}$.

TÉTEL: Az R és r határoló **körgyűrű területe** $t = R^2\pi - r^2\pi$.

TÉTEL: A **körselet területe** $t = \frac{r^2\tilde{\alpha}}{2} - \frac{r^2 \cdot \sin\alpha}{2} = \frac{r^2}{2}(\tilde{\alpha} - \sin\alpha)$.

II. Középponti és kerületi szögek

DEFINÍCIÓ: Ha egy szög csúcsa egy adott kör középpontja, akkor a szöget **középponti szögnek** nevezzük, a szög szárai két sugárra illeszkednek.

DEFINÍCIÓ: Ha egy szög csúcsa egy adott körvonal egy pontja és szárai a kör húrjai, akkor a szöget **kerületi szögnek** nevezzük.

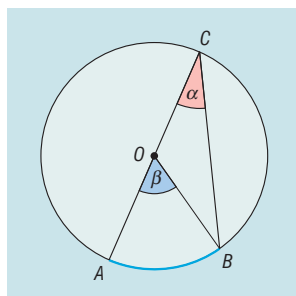
Speciális: **érintőszárú kerületi szög:** egyik szára a kör húrja, másik szára a kör érintője a húr egyik végpontjában.

A középponti szögek kapcsolatát egy körön belül már tárgyaltuk.

TÉTEL: Középponti és kerületi szögek tétele: Adott körben adott ívhez tartozó bármely kerületi szög nagysága fele az ugyanazon ívhez tartozó középponti szög nagyságának.

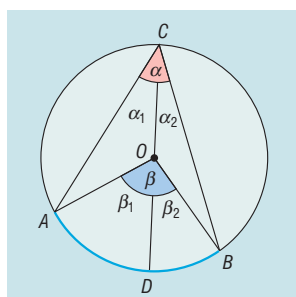
BIZONYÍTÁS: a középponti és a kerületi szögek helyzetének 4 esete van:

1. A középponti és a kerületi szög egy szára egy egyenesbe esik.



BOC háromszög egyenlő szárú $OB = OC = r \Rightarrow OCB\hat{=} = CBO\hat{=} = \alpha \Rightarrow \beta = OBC$ háromszög külső szöge, ami egyenlő a nem mellette lévő két belső szög összegével: $\beta = 2\alpha \Rightarrow \alpha = \frac{\beta}{2}$.

2. A középponti szög csúcsa a kerületi szög belsejébe esik: Húzzuk be az OC -re illeszkedő átmérőt, mely az α szöget α_1 és α_2 , β szöget β_1 és β_2 részekre osztja.

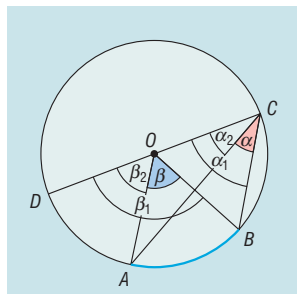


A BD , illetve AD ívekhez tartozó kerületi és középponti szögek elhelyezkedése az 1. esetnek megfelelő, tehát $\beta_1 = 2\alpha_1$ és $\beta_2 = 2\alpha_2$. Ebből következik, hogy

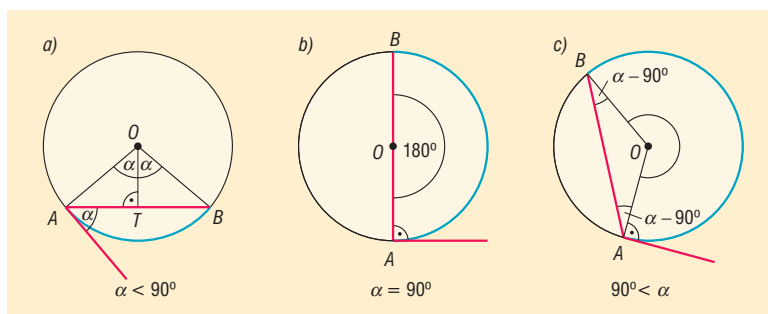
$$\beta = \beta_1 + \beta_2 = 2\alpha_1 + 2\alpha_2 = 2(\alpha_1 + \alpha_2) = 2\alpha \Rightarrow \alpha = \frac{\beta}{2}.$$

3. A középponti szög csúcса a kerületi szög szögtartományán kívül esik: Húzzuk be az OC -re illeszkedő átmérőt. Az $\alpha = \alpha_1 - \alpha_2$ és $\beta = \beta_1 - \beta_2$ összefüggések írhatók fel a DB és a DA ívekhez tartozó kerületi és középponti szögek elhelyezkedésére az 1. esetnek megfelelő, tehát $\beta_1 = 2\alpha_1$ és $\beta_2 = 2\alpha_2$. Ebből következik, hogy

$$\beta = \beta_1 - \beta_2 = 2\alpha_1 - 2\alpha_2 = 2(\alpha_1 - \alpha_2) = 2\alpha \Rightarrow \alpha = \frac{\beta}{2}.$$



4. Ha a kerületi szög érintőszárú, akkor 3 eset van:
Jelölje α az AB íven nyugvó érintőszárú kerületi szöget.



- a) $0^\circ < \alpha < 90^\circ$. Ekkor

$$\angle BAO = \angle ABO = 90^\circ - \alpha \Rightarrow \angle AOB = 2\alpha = \beta \Rightarrow \alpha = \frac{\beta}{2}.$$

- b) $\alpha = 90^\circ \Rightarrow \beta = 180^\circ \Rightarrow \alpha = \frac{\beta}{2}.$

- c) $90^\circ < \alpha < 180^\circ$. Ekkor

$$\begin{aligned} \angle BAO = \angle ABO = \alpha - 90^\circ \Rightarrow \angle AOB = 180^\circ - 2(\alpha - 90^\circ) = 360^\circ - 2\alpha \Rightarrow \\ \beta = 2\alpha \Rightarrow \alpha = \frac{\beta}{2}. \end{aligned}$$

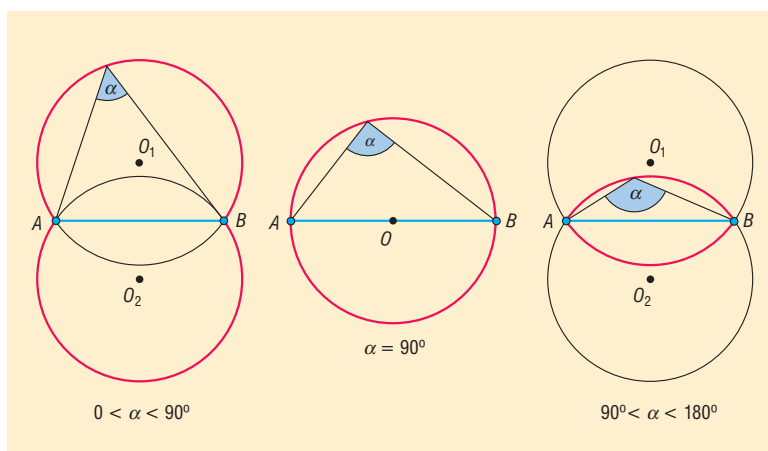
TÉTEL: Kerületi szögek tétele: adott kör adott ívéhez tartozó kerületi szögek egyenlő nagyságúak vagy adott kör adott AB húrja az AB ív belső pontjaiból ugyanakkora szögben látszik.

TÉTEL: Általánosan: egyenlő sugarú körökben az azonos hosszúságú ívekhez tartozó kerületi szögek egyenlő nagyságúak.

TÉTEL: Ebből megfogalmazható **Thalész tétele és annak megfordítása:** Azon pontok halmaza síkon, amelyekből a sík egy AB szakasza derékszögben látszik, az AB átmérőjű körvonal, kivéve az A és a B pontokat.

DEFINÍCIÓ: Tekintsünk a síkon egy AB szakaszt és egy P pontot. Legyen $\angle APB = \alpha$. Ekkor azt mondhatjuk, hogy a P pontból az AB szakasz α szög alatt látszik. Az α szöget **látószögnek** nevezzük.

DEFINÍCIÓ: Azon pontok halmaza, amelyekből a sík egy AB szakasza adott α ($0^\circ < \alpha < 180^\circ$) szög alatt látszik, két, az AB egyenesre szimmetrikusan elhelyezhető körív, melynek neve az AB szakasz α szögű **látóköri**v. A szakasz két végpontja nem tartozik a ponthalmazba.

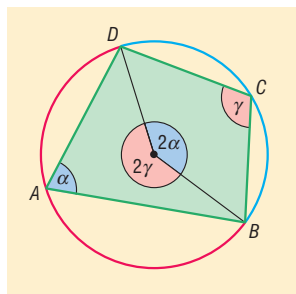


III. Húrnégyszög

DEFINÍCIÓ: Azokat a négyszögeket, amelyeknek van köré írható körük, **húrnégyszögek**nek nevezük. Ezzel ekvivalens: a húrnégyszög olyan négyszög, amelynek oldalai ugyanannak a körnek a húrjai.

TÉTEL: Ha egy négyszög húrnégyszög, akkor szemközti szögeinek összege 180° .

BIZONYÍTÁS: Vegyük fel egy $ABCD$ húrnégyszöget, és a köré írt kört. Legyen a négyszögben $\sphericalangle DAB = \alpha$, $\sphericalangle BCD = \gamma$.



Ekkor α a C csúcsot tartalmazó BD ívhez, γ pedig az A csúcsot tartalmazó DB ívhez tartozó kerületi szög. A kerületi és középponti szögek tételéből következően az ugyanezek az ívekhez tartozó középponti szögek nagysága 2α , illetve 2γ .

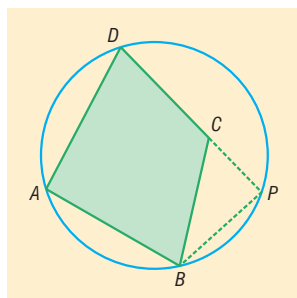
Ezek összegéről tudjuk, hogy $2\alpha + 2\gamma = 360^\circ$. Tehát $\alpha + \gamma = 180^\circ$. Mivel a négyszög belső szögeinek összege 360° , ezért a másik két szemközti szög összege is 180° .

TÉTEL: Ha egy négyszög szemközti szögeinek összege 180° , akkor az húrnégyszög.

BIZONYÍTÁS: indirekt

Tegyük fel, hogy a szemközti szögeinek összege 180° , és a négyszög nem húrnégyszög. Tehát az egyik csúcs (C) nem illeszkedik a másik három által meghatározott körre. Legyen P a DC egyenesének és a körnek a metszéspontja.

Legyen $\sphericalangle DAB = \alpha$, a feltétel szerint $\sphericalangle BCD = 180^\circ - \alpha \Rightarrow \sphericalangle BCP = \alpha$.



Ekkor az $ABPD$ négyszög húrnégyszög, amelyről már beláttuk, hogy szemközti szögeinek összege 180° , tehát $DPB\hat{=} = 180^\circ - \alpha$. Ebből viszont az következik, hogy a BPC háromszög egyik szöge ($BCP\hat{=}$) α , egy másik ($BPC\hat{=}$) pedig $180^\circ - \alpha$. Ezek összege a harmadik szög nélkül is 180° , ami ellentmond a belső szögek összegére vonatkozó tételnek. Mivel helyesen következtettünk, csak a kiindulási feltételben lehet a hiba, tehát nem igaz, hogy C nincs a körön $\Rightarrow C$ illeszkedik a körre. Ez viszont azt jelenti, hogy $ABCD$ mindegyik csúcsa ugyanazon körön van $\Rightarrow ABCD$ húrnégyszög.

TÉTEL: A húrnégyszögek tétele: egy négyszög akkor és csak akkor húrnégyszög, ha szemközti szögeinek összege 180° .

TÉTEL: A nevezetes négyszögek közül biztosan húrnégyszög a szimmetrikus trapéz (húrtrapéz), a téglalap és a négyzet.

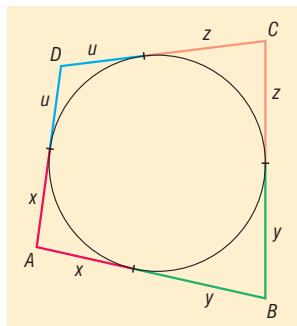
TÉTEL: A paralelogramma akkor és csak akkor húrnégyszög, ha téglalap.

TÉTEL: A húrnégyszög területe kifejezhető a négyszög kerületével és az oldalakkal: Ha $s = \frac{k}{2}$, akkor $t = \sqrt{(s-a)(s-b)(s-c)(s-d)}$. Ez a **Heron-képlet** húrnégyszögekre.

IV. Érintőnéyszög

DEFINÍCIÓ: Azokat a négyszögeket, amelyeknek van beírt körük, **érintőnéyszögeknek** nevezzük. Ezzel ekvivalens: az érintő négyszög olyan négyszög, amelynek az oldalai ugyanannak a körnek érintői.

TÉTEL: Ha egy konvex négyszög érintőnéyszög, akkor szemközti oldalainak összege egyenlő.



BIZONYÍTÁS: Az ábrán azonos színnel jelölt szakaszok egyenlők, mert körhöz külső pontból húzott érintőszakaszok egyenlők.

Így $AB + CD = x + y + u + v$, illetve $BC + DA = y + z + u + x$. Mivel az összeadás tagjai felcserélhetőek, a két jobb oldalon álló kifejezések egyenlők, ebből viszont következik, hogy a bal oldalak is egyenlők: $AB + CD = BC + DA$. Ezzel bebizonyítottuk az állítást.

TÉTEL: Ha egy konvex négyszög szemközti oldalainak összege egyenlő, akkor az érintőnéyszög.

TÉTEL: Az érintőnéyszögek tétele: Egy konvex négyszög akkor és csak akkor érintőnéyszög, ha szemközti oldalainak összege egyenlő.

TÉTEL: A nevezetes négyszögek közül biztosan érintőnéyszög a konvex deltoid, így a rombusz és a négyzet.

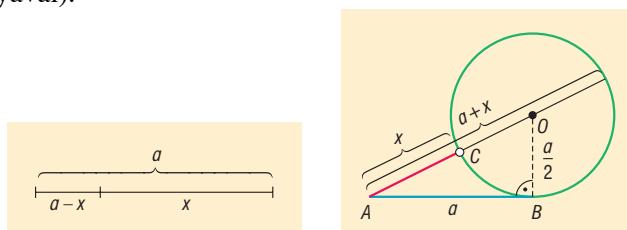
TÉTEL: A paralelogramma akkor és csak akkor érintőnéyszög, ha rombusz.

TÉTEL: Érintőnéyszög területe kifejezhető a négyszög kerületével, és a beírt kör sugarával:

$$t = \frac{k \cdot r}{2} = s \cdot r.$$

V. Alkalmazások:

- A körhöz húzott érintő- és szelőszakaszok tételével feloszthatunk egy szakaszt az aranymetzésnek megfelelően (a nagyobb rész és az egésznek az aránya egyenlő a kisebb rész és a nagyobb rész arányával).



- Körrel kapcsolatos ismeretek: körmozgás, forgómozgás, építészet (boltívek, román és gótikus stílusú ablakok tervezése)
- Látószög: háromszög szerkesztésében (pl.: adott a , α , m_a esetén háromszög szerkesztése), terepfeladatokban, csillagászatban, színházi nézőtéren a legjobb ülőhely kiválasztása, labdarúgásban és kézilabdában a legjobb szögből való kapuralövés helyének meghatározása
- A kör területe, kerülete: térgeometriai számítások
- Csonkakúp, illetve csonkagúla beírt gömbjének sugár meghatározása megfelelő síkmetszettel (pl. érintőtrapéz)
- Csonkakúp köré írt gömb sugarának meghatározása

Matematikatörténeti vonatkozások:

- A kör és részei közötti viszonyok feltárását már az ókori gondolkodóknál megtalálhatjuk. Számukra a kör a tökéletességet szimbolizálta, isteni eredetűnek tartották. Ma a matematika számos területe támaszkodik az idők folyamán felfedezett összefüggésekre.
- **Eukleidész** Kr. e. 300 körül élt görög matematikus *Elemek* című művében meghatározta a geometriai alapszekerestések axiómáit, a kerületi és a középponti szögekkel kapcsolatos tételeket, a hasonlósággal kapcsolatos tételeket. Pl. hasonló körszeletek területei úgy aránylanak egymáshoz, mint húrjaik négyzetei.
- **Heron** a Krisztus előtti I. században élt görög matematikus, síkidomok területének és testek térfogatának kiszámításával is foglalkozott. A háromszög területét számító Heron-képlet, amelynek geometriai bizonyítását adta, valószínűleg Arkhimédész felfedezése.
- **Leonardo da Vinci** (1452–1519) olasz festő, matematikus számos festményében használta az aranymetzést, pl. az egyik leghíresebb festményén, a Mona Lisá-n több mint száz arany-metszéses arány található.

18. Vektorok, vektorműveletek. Vektorfelbontási tétel. Vektorok koordinátái. Skaláris szorzat

Vázlat:


- I. Vektor, vektor hossza, vektorok egyenlősége, párhuzamossága
- II. Vektorműveletek, tulajdonságaik
- III. Vektorok felbontása
- IV. Vektorok koordinátái
- V. Skaláris szorzat
- VI. Alkalmazások, matematikatörténeti vonatkozások

Kidolgozás:

I. Vektor

Az eltolás mint egybevágósági transzformáció megadható az eltolás irányával és nagyságával, vagyis egy vektorral.

Az irányított szakaszt **vektornak** nevezzük. Jel: $\overline{AB} = \underline{v}$, A : kezdőpont, B : végpont (ez szemléletes megoldás, a vektor alapfogalom, nem definiáljuk).

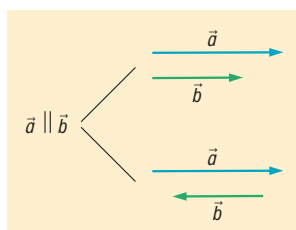


DEFINÍCIÓ: A **vektor abszolút értéke** a vektort meghatározó irányított szakasz hossza. Jele: $|\overline{AB}|$.

DEFINÍCIÓ: Az a vektor, amelynek abszolút értéke nulla, a **nullvektor**. Jele: $\underline{0}$. A nullvektor iránya tetszőleges, tehát minden vektorra merőleges, és minden vektorral párhuzamos.

DEFINÍCIÓ: Két vektor **egyirányú**, ha a két vektor párhuzamos, és azonos irányba mutat.

DEFINÍCIÓ: Két vektor **ellentétes irányú**, ha a két vektor párhuzamos, de ellentétes irányba mutat.



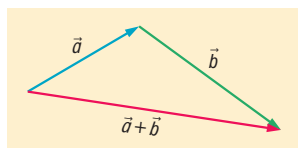
DEFINÍCIÓ: Két vektor **egyenlő**, ha egyirányúak és abszolút értékük egyenlő.

DEFINÍCIÓ: Két vektor egymás **ellentettje**, ha ellentétes irányúak és abszolút értékük egyenlő.

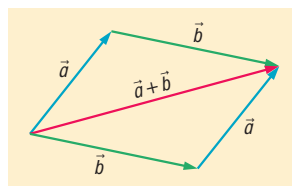
II. Vektorműveletek

DEFINÍCIÓ: Az \underline{a} és \underline{b} **vektorok összege** annak az eltolásnak a vektora, amellyel helyettesíthető az \underline{a} vektorral és a \underline{b} vektorral történő eltolások egymásutánja. Jele: $\underline{a} + \underline{b}$.

háromszögszabály



paralelogrammaszabály

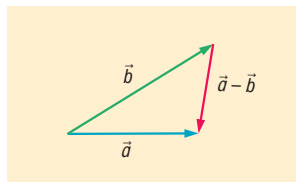


Ellentett vektorok összege a nullvektor: $\underline{a} + (-\underline{a}) = \underline{0}$.

A vektorösszeadás tulajdonságai:

1. **kommutatív:** $\underline{a} + \underline{b} = \underline{b} + \underline{a}$ (összeg nem függ az összeadandók sorrendjétől).
2. **asszociatív:** $(\underline{a} + \underline{b}) + \underline{c} = \underline{a} + (\underline{b} + \underline{c})$ (az összeg független az összeadandók csoportosításától).

DEFINÍCIÓ: Az $\underline{a} - \underline{b}$ **különbségvektor** az a vektor, amelyhez a \underline{b} vektort adva az \underline{a} vektort kapjuk. Jele: $\underline{a} - \underline{b}$.



Az $\underline{a} - \underline{b}$ és a $\underline{b} - \underline{a}$ egymás ellentettjei.

DEFINÍCIÓ: Egy nullvektortól különböző \underline{a} vektor tetszőleges λ valós számmal (**skalárral**) **vett szorzata** egy olyan vektor, amelynek abszolút értéke $|\lambda| \cdot |\underline{a}|$ és $\lambda > 0$ esetén \underline{a} -val egyirányú, $\lambda < 0$ esetén \underline{a} -val ellentétes irányú.

A nullvektort bármilyen valós számmal szorozva nullvektort kapunk.

A skalárral vett szorzás tulajdonságai:

1. **disztributív:**
$$\begin{cases} \alpha \cdot \underline{a} + \beta \cdot \underline{a} = (\alpha + \beta) \cdot \underline{a} \\ \alpha \cdot \underline{a} + \alpha \cdot \underline{b} = \alpha \cdot (\underline{a} + \underline{b}) \end{cases}$$
2. **asszociatív:** $\alpha \cdot (\beta \cdot \underline{a}) = (\alpha \cdot \beta) \cdot \underline{a}$

III. Vektorok felbontása

DEFINÍCIÓ: Tetszőleges \underline{a} , \underline{b} vektorokkal és α , β valós számokkal képzett $\underline{v} = \alpha \cdot \underline{a} + \beta \cdot \underline{b}$ vektort az \underline{a} és \underline{b} vektorok **lineáris kombinációjának** nevezzük.

TÉTEL: Ha \underline{a} és \underline{b} nullvektortól különböző párhuzamos vektorok, akkor pontosan egy olyan α valós szám létezik, amelyre $\underline{b} = \alpha \cdot \underline{a}$.

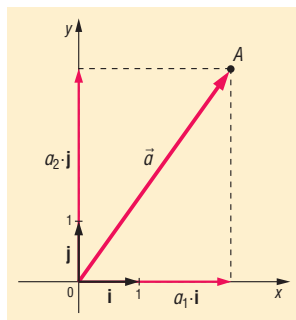
TÉTEL: Ha \underline{a} és \underline{b} nullvektortól különböző, nem párhuzamos vektorok, akkor a velük egy síkban levő minden \underline{c} vektor egyértelműen előáll \underline{a} és \underline{b} vektorok lineáris kombinációjaként, azaz $\underline{c} = \alpha \cdot \underline{a} + \beta \cdot \underline{b}$ alakban, ahol α és β egyértelműen meghatározott valós számok. Ez azt jelenti, hogy \underline{c} egyértelműen felbontható \underline{a} -val és \underline{b} -vel **párhuzamos összetevőkre**.

DEFINÍCIÓ: A lineáris kombinációban szereplő \underline{a} és \underline{b} vektorokat **bázisvektoroknak** nevezzük.

IV. Vektorok koordinátái

DEFINÍCIÓ: A síkbeli derékszögű $(x; y)$ koordináta-rendszer **bázisvektorai** az origóból az $(1; 0)$ pontba mutató \underline{i} és a $(0; 1)$ pontba mutató \underline{j} **egységvektorok**.

DEFINÍCIÓ: A derékszögű koordináta-rendszerben az $A(a_1, a_2)$ pont **helyvektora** az origóból az A pontba mutató vektor.



DEFINÍCIÓ: A derékszögű koordináta-rendszerben egy **vektor koordinátáinak** nevezzük az origó kezdőpontú, vele egyenlő helyvektor végpontjának koordinátáit. Jele: $\underline{a}(a_1, a_2)$.

TÉTEL: (Az előbbieket alapján) a koordináta-sík összes \underline{v} vektora egyértelműen előáll \underline{i} és \underline{j} vektorok lineáris kombinációjaként $\underline{v} = v_1 \cdot \underline{i} + v_2 \cdot \underline{j}$ alakban. Az így meghatározott (v_1, v_2) rendezett számpárt a \underline{v} **vektor koordinátáinak** nevezzük. Jele: $\underline{v}(v_1, v_2)$.

TÉTEL: Vektor koordinátáinak kiszámítása kezdő- és végpontjának segítségével: $A(a_1, a_2), B(b_1, b_2) \Rightarrow \overline{AB}(b_1 - a_1, b_2 - a_2)$.

TÉTEL: Ha a \underline{v} vektor koordinátái $\underline{v}(v_1, v_2)$, akkor a **vektor hossza** $|\underline{v}| = \sqrt{v_1^2 + v_2^2}$.

Vektorműveletek koordinátákkal:

Legyenek $\underline{a}(a_1, a_2)$ és $\underline{b}(b_1, b_2)$ adott vektorok.

TÉTEL: Két vektor összegének a koordinátái az egyes vektorok megfelelő koordinátáinak összegével egyenlők: $\underline{a} + \underline{b}(a_1 + b_1, a_2 + b_2)$.

TÉTEL: Két vektor különbségének koordinátái az egyes vektorok megfelelő koordinátáinak különbségével egyenlők: $\underline{a} - \underline{b}(a_1 - b_1, a_2 - b_2)$.

TÉTEL: Vektor szorzásának koordinátái: $\lambda \underline{a}(\lambda a_1, \lambda a_2)$.

TÉTEL: Vektor ellentettjének koordinátái: $-\underline{a}(-a_1, -a_2)$.

TÉTEL: Ha egy vektort 90° -kal elforgatunk, koordinátái felcserélődnek és az egyik előjelet vált:

Az $\underline{a}(a_1, a_2)$ vektor $+90^\circ$ -os elforgatottjának koordinátái: $\underline{a}'(-a_2, a_1)$.

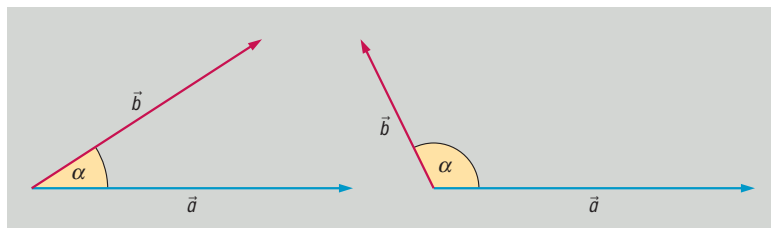
-90° -os elforgatottjának koordinátái: $\underline{a}''(a_2, -a_1)$.

V. Skaláris szorzat

DEFINÍCIÓ: Két vektor szöge:

- Egyállású vektorok szöge 0° , ha egyirányúak; vagy 180° , ha ellentétes irányúak.

- Nem egyállású vektorok esetén a vektorok hajlásszögén a közös pontból kiinduló vektorok félegyenesei által bezárt konvex szöveget értjük.



DEFINÍCIÓ: Tetszőleges két vektor **skaláris szorzata** a két vektor abszolút értékének és hajlásszögük koszinuszának szorzata: $\underline{a} \cdot \underline{b} = |\underline{a}| \cdot |\underline{b}| \cdot \cos \alpha$.

Skaláris szorzat tulajdonságai:

1. kommutatív: $\underline{a} \cdot \underline{b} = \underline{b} \cdot \underline{a}$.
2. skalárral való szorzásra asszociatív: $\lambda \cdot (\underline{a} \cdot \underline{b}) = (\lambda \cdot \underline{a}) \cdot \underline{b} = \underline{a} \cdot (\lambda \cdot \underline{b})$
3. disztributív: $(\underline{a} + \underline{b}) \cdot \underline{c} = \underline{a} \cdot \underline{c} + \underline{b} \cdot \underline{c}$

TÉTEL: Két vektor skaláris szorzata akkor és csak akkor 0, ha a két vektor merőleges egymásra:
 $\underline{a} \cdot \underline{b} = 0 \Leftrightarrow \underline{a} \perp \underline{b}$.

TÉTEL: Két vektor skaláris szorzata koordinátákkal: $\underline{a} \cdot \underline{b} = a_1 b_1 + a_2 b_2$, azaz a megfelelő koordináták szorzatának összege.

BIZONYÍTÁS:

$$\underline{a}(a_1, a_2) \Rightarrow \underline{a} = a_1 \underline{i} + a_2 \underline{j}$$

$$\underline{b}(b_1, b_2) \Rightarrow \underline{b} = b_1 \underline{i} + b_2 \underline{j}$$

$$\left. \begin{aligned} \underline{a} \cdot \underline{b} &= (a_1 \underline{i} + a_2 \underline{j}) \cdot (b_1 \underline{i} + b_2 \underline{j}) = a_1 b_1 \underline{i}^2 + a_1 b_2 \underline{i} \cdot \underline{j} + a_2 b_1 \underline{i} \cdot \underline{j} + a_2 b_2 \underline{j}^2 \\ \underline{i}^2 &= 1 \cdot 1 \cdot \cos 0^\circ = 1 \\ \underline{j}^2 &= 1 \cdot 1 \cdot \cos 0^\circ = 1 \\ \underline{i} \cdot \underline{j} &= \underline{j} \cdot \underline{i} = 1 \cdot 1 \cdot \cos 90^\circ = 0 \end{aligned} \right\} \Rightarrow \underline{a} \cdot \underline{b} = a_1 b_1 + a_2 b_2$$

VI. Alkalmazások:

- Vektorok bizonyításban: háromszög súlypontja harmadolja a súlyvonalakat; Euler-egyenes: a háromszög köré írható kör középpontja, súlypontja, magasságpontja egy egyenesen van és $\frac{KS}{SM} = \frac{1}{2}$.
- Szögfüggvények tetszőleges forgásszögre történő definiálása egységvektorok segítségével történik.
- Fizikában vektormennyiségek (erő, elmozdulás) összeadásában, felbontásában, a munka egyenlő az erő és az elmozdulás skaláris szorzatával.
- Skaláris szorzat: a koszinusztétel bizonyítása
- Koordináta-geometriában az egyenes normálvektora, illetve irányvektora segítségével az egyenes egyenletének felírása

Matematikatörténeti vonatkozások:

- A vektor fogalma absztrakció útján alakult ki, használata a matematikában és a fizikában végigkíséri tanulmányainkat. Először az eltolás, mint geometriai transzformáció, kapcsán ta-

nulmányozzuk, ezalatt tapasztaljuk, hogy a vektormodellben való gondolkodás segít a problémamegoldásban, fizikában a jelenségek értelmezésében, pl. elmozdulás, erő, sebesség leírásában, a vektorok skalárszorzata a munka jellemzésében.

- **Descartes** francia matematikus az 1600-as években alkotta meg a derékszögű **koordináta-rendszert**, geometriai problémák megoldásakor sokszor alkalmazott algebrai módszereket. Írt egy *Geometria* című könyvet, amelyben egy pont helyzetét két koordinátájával adjuk meg.
- **Hamilton** ír matematikus és csillagász használta először a vektor elnevezést az 1800-as években.

19. Szakaszok és egyenesek a koordinátasíkon. Párhuzamos és merőleges egyenesek. Elsőfokú egyenlőtlenségek, egyenletrendszerek grafikus megoldása

Vázlat:

- I. Szakaszok a koordinátasíkon: szakasz hossza, osztópontok
- II. Az egyenest meghatározó adatok
- III. Az egyenes egyenletei
- IV. Egyenesek párhuzamosságának és merőlegességének feltételei
- V. A lineáris függvény grafikonjának és az egyenesnek kapcsolata
- VI. Elsőfokú egyenlőtlenségek grafikus megoldása
- VII. Elsőfokú egyenletrendszerek grafikus megoldása
- VIII. Alkalmazások, matematikatörténeti vonatkozások

Kidolgozás:

I. Szakaszok a koordinátasíkon: szakasz hossza, osztópontok

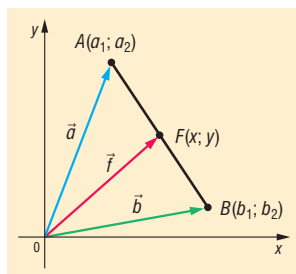
TÉTEL: A síkbeli derékszögű **koordináta-rendszerben** az $A(a_1, a_2)$ és $B(b_1, b_2)$ végpontokkal meghatározott szakasz hossza az \overline{AB} hossza: $|\overline{AB}| = \sqrt{(b_1 - a_1)^2 + (b_2 - a_2)^2}$, ami egyben az A és B pontok távolsága.

Szakasz osztópontjainak koordinátái, ahol $A(a_1, a_2)$ és $B(b_1, b_2)$:

A bizonyításokat helyvektorokkal végezzük: az A pontba mutató helyvektor $\underline{a}(a_1; a_2)$, a B pontba mutató helyvektor $\underline{b}(b_1; b_2)$, ...

TÉTEL: Szakasz felezőpontjának koordinátái $F\left(\frac{a_1 + b_1}{2}; \frac{a_2 + b_2}{2}\right)$.

BIZONYÍTÁS: $\overline{AF} = \frac{b-a}{2} \Rightarrow \underline{f} = \underline{a} + \frac{b-a}{2} = \frac{a+b}{2}$.

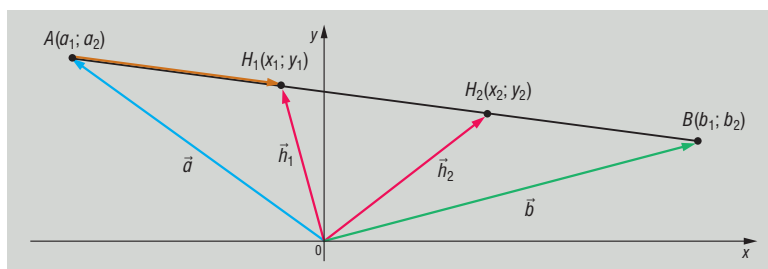


TÉTEL: Szakasz harmadolópontjainak koordinátái

$$\begin{cases} H\left(\frac{2a_1 + b_1}{3}, \frac{2a_2 + b_2}{3}\right) \\ G\left(\frac{a_1 + 2b_1}{3}, \frac{a_2 + 2b_2}{3}\right) \end{cases}$$

BIZONYÍTÁS:

$$\left. \begin{aligned} \underline{h} &= \underline{a} + \overline{AH_1} = \underline{a} + \frac{\overline{AB}}{3} = \underline{a} + \frac{b-a}{3} = \frac{2a+b}{3} \\ \underline{g} &= \underline{a} + \overline{AH_2} = \underline{a} + \frac{2\overline{AB}}{3} = \underline{a} + \frac{2(b-a)}{3} = \frac{a+2b}{3} \end{aligned} \right\}$$



TÉTEL: Az $A(a_1; a_2), B(b_1; b_2), C(c_1; c_2)$ háromszög súlypontjának koordinátái:

$$S\left(\frac{a_1 + b_1 + c_1}{3}, \frac{a_2 + b_2 + c_2}{3}\right)$$

BIZONYÍTÁS: A háromszög súlypontja a C csúcsból kiinduló súlyvonal C -től távolabbi harmadolópontja, vagyis a CF szakasz C -től távolabbi harmadolópontja.

$$\underline{s} = \frac{2f + c}{3} = \frac{2 \cdot \frac{a+b}{2} + c}{3} = \frac{a+b+c}{3}$$

II. Egyenest meghatározó adatok

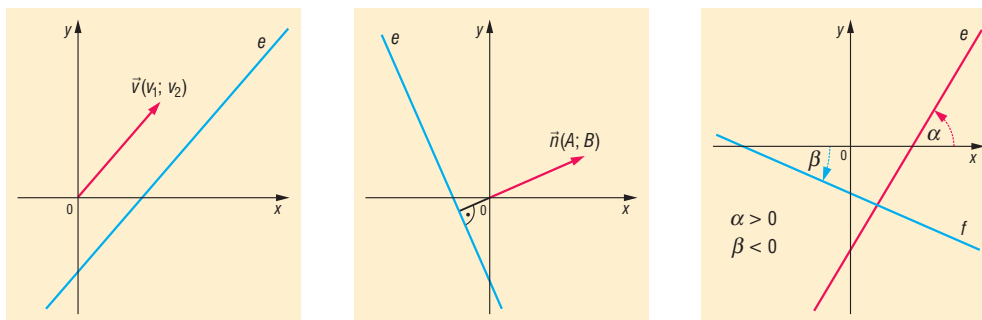
Egy egyenest a síkban egyértelműen meghatározhatunk 2 pontja, vagy egy pontja és egy, az állását jellemző adata segítségével. Ilyen, az egyenes állását jellemző adat: az egyenes irányvektora, normálvektora, irányszöge, iránytangense.

DEFINÍCIÓ: Az **egyes irányvektora** bármely, az egyenessel párhuzamos, nullvektortól különböző vektor. Jele: $\underline{v}(v_1; v_2)$.

DEFINÍCIÓ: Az **egyes normálvektora** bármely, az egyenesre merőleges, nullvektortól különböző vektor. Jele: $\underline{n}(A; B)$.

DEFINÍCIÓ: Az **egyes irányszögének** nevezzük azt a $-\frac{\pi}{2} < \alpha \leq \frac{\pi}{2}$ szöveget, amelyet az egyenes az x tengely pozitív irányával bezár.

DEFINÍCIÓ: Az egyenes irányszögének tangensét (amennyiben létezik) az **egyenes iránztangensének** (**iránytényezőjének** vagy **meredekségének**) nevezzük. Jele: $m = \operatorname{tg} \alpha$. Az $\alpha = \frac{\pi}{2} = 90^\circ$ irányszögű, vagyis az y tengellyel párhuzamos egyenesnek nincs iránztangense.



Összefüggések az egyenes állását meghatározó adatok között:

- ha az egyenes egy **irányvektora** $\underline{v}(v_1; v_2)$, akkor normálvektora lehet $\underline{n}(-v_2; v_1)$ vagy $\underline{n}(v_2; -v_1)$, illetve meredeksége $m = \frac{v_2}{v_1} = \operatorname{tg} \alpha$, ebből felírható az α irányszög is.
- ha az egyenes egy **normálvektora** $\underline{n}(A; B)$, akkor irányvektora lehet $\underline{v}(-B; A)$ vagy $\underline{v}(B; -A)$; illetve meredeksége $m = -\frac{A}{B}$ ($B \neq 0$) = $\operatorname{tg} \alpha$, ebből felírható az α irányszög is.
- ha az egyenes **meredeksége** m , akkor ebből irányszöge $\alpha = \operatorname{arctg} m$, irányvektora lehet: $\underline{v}(1; m)$, normálvektora $\underline{n}(-m; 1)$ vagy $\underline{n}(m; -1)$.
- ha az egyenes **irányszöge** α , akkor meredeksége $m = \operatorname{tg} \alpha$. Ebből irányvektor és normálvektor is meghatározható. Ha $\alpha = 90^\circ$, akkor m nem létezik, de $\underline{v}(0; 1)$, illetve $\underline{n}(1; 0)$.

Összefüggés az egyenes két adott pontja és az egyenes állását meghatározó adatok között:

Ha az egyenes két különböző pontja $A(a_1; a_2)$ és $B(b_1; b_2)$, akkor \overline{AB} lehet az egyenes egy irányvektora: $\underline{v}(b_1 - a_1; b_2 - a_2)$ egy normálvektora $\underline{n}(a_2 - b_2; b_1 - a_1)$ vagy $\underline{n}(b_2 - a_2; a_1 - b_1)$, meredeksége $m = \frac{b_2 - a_2}{b_1 - a_1}$; ebből felírható irányszöge is: $\alpha = \operatorname{arctg} m$.

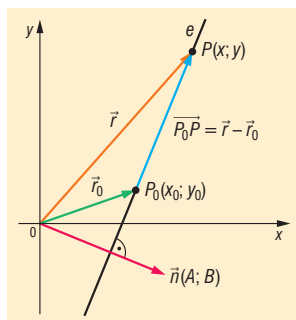
III. Az egyenes egyenletei

DEFINÍCIÓ: Egy **alakzat egyenletén** a síkbeli xy koordináta-rendszerben olyan egyenletet értünk, melyet az alakzat pontjainak koordinátái kielégítenek, de más síkbeli pontok nem.

TÉTEL: Ha egy egyenesnek adott a $P_0(x_0; y_0)$ pontja és egy $\underline{n}(A; B)$ normálvektora, akkor az egyenes **normálvektoros egyenlete**: $Ax + By = Ax_0 + By_0$.

BIZONYÍTÁS: Egy $P(x; y)$ pont akkor és csak akkor van rajta az e egyenesen, ha a $\overline{P_0P}$ vektor merőleges az egyenes $\underline{n}(A; B)$ normálvektorára.

Ha P_0 pont helyvektorát \underline{r}_0 , a P pont helyvektorát az \underline{r} jelöli, akkor $\overline{P_0P} = \underline{r} - \underline{r}_0$, koordinátákkal $\overline{P_0P} = (x - x_0; y - y_0)$.



$\overline{P_0P}$ akkor és csak akkor merőleges az egyenes normálvektorára, ha skaláris szorzatuk 0, azaz $\overline{P_0P} \cdot \underline{n} = 0$, vagyis $(x - x_0) \cdot A + (y - y_0) \cdot B = 0$, rendezve $Ax + By = Ax_0 + By_0$.

TÉTEL: Ha egy egyenesnek adott a $P_0(x_0; y_0)$ pontja és egy $\underline{v}(v_1; v_2)$ irányvektora, akkor az egyenes **irányvektoros egyenlete:** $v_2x - v_1y = v_2x_0 - v_1y_0$.

BIZONYÍTÁS: Ha $\underline{v}(v_1; v_2)$ irányvektor, akkor $\underline{n}(v_2; -v_1)$ egy normálvektor. Ezt helyettesítve ($A = v_2; B = -v_1$) a normálvektoros egyenletbe, kész a bizonyítás.

TÉTEL: Ha adott az y tengellyel nem párhuzamos egyenes egy $P_0(x_0; y_0)$ pontja és m irántangense, akkor **iránytényezőes egyenlete:** $y - y_0 = m \cdot (x - x_0)$.

BIZONYÍTÁS: Ha m irántényező, akkor $\underline{v}(1; m)$ irányvektor, vagyis $\underline{n}(m; -1)$ normálvektor. Ezt behelyettesítve ($A = m; B = -1$) a normálvektoros egyenletbe: $mx - y = mx_0 - y_0 \Leftrightarrow y - y_0 = mx - mx_0 \Leftrightarrow y - y_0 = m \cdot (x - x_0)$.

TÉTEL: Az y tengellyel párhuzamos, $P_0(x_0; y_0)$ ponton átmenő egyenes egyenlete: $x = x_0$.

DEFINÍCIÓ: Két egyenes metszéspontja (ha létezik) egy olyan pont, amely illeszkedik mindkét egyenesre.
A metszéspont koordinátái a két egyenes egyenletéből álló egyenletrendszer megoldásai.

DEFINÍCIÓ: Két egyenes hajlásszöge visszavezethető irányvektoraik vagy normálvektoraik szögére.

Két vektor szögét skaláris szorzattal számolhatjuk ki: $\cos\varphi = \frac{\underline{n}_e \cdot \underline{n}_f}{|\underline{n}_e| \cdot |\underline{n}_f|}$, vagy

$$\cos\varphi = \frac{\underline{v}_e \cdot \underline{v}_f}{|\underline{v}_e| \cdot |\underline{v}_f|}.$$

IV. Egyenesek párhuzamosságának és merőlegességének feltételei

Legyen két egyenes e és f , irányvektoraik \underline{v}_e és \underline{v}_f , normálvektoraik: \underline{n}_e és \underline{n}_f , irányszögeik α_e és α_f , irántangenseik m_e és m_f (ha léteznek)

- $e \parallel f \Leftrightarrow \underline{v}_e \parallel \underline{v}_f$, azaz van olyan $\lambda (\neq 0)$ valós szám, hogy $\underline{v}_e = \lambda \cdot \underline{v}_f$, vagy $\underline{n}_e \parallel \underline{n}_f$, azaz van olyan $\lambda (\neq 0)$ valós szám, hogy $\underline{n}_e = \lambda \cdot \underline{n}_f$, vagy $\alpha_e = \alpha_f$, vagy $m_e = m_f$.

- $e \perp f \Leftrightarrow v_e \perp v_f$, azaz $v_e \cdot v_f = 0$, vagy
 $n_e \perp n_f$, azaz $n_e \cdot n_f = 0$, vagy
 $n_e = \lambda \cdot v_f$ ($\lambda \neq 0$), vagy
 $v_e = \lambda \cdot n_f$ ($\lambda \neq 0$), vagy
 $m_e \cdot m_f = -1$.

V. Kapcsolat a lineáris függvények grafikonja és az egyenesek között

TÉTEL: Nem minden egyenes egy lineáris függvény képe.

BIZONYÍTÁS: A fenti egyenes egyenletekből látható, hogy a koordinátásík minden egyenese $Ax + By + C = 0$ alakba írható, ahol A és B közül legalább az egyik nem 0.

A megfordítás is igaz, azaz minden $Ax + By + C = 0$ egyenlet, ahol A és B közül legalább az egyik nem 0, a koordinátásík valamelyik egyenesének egyenlete.

Ha $B \neq 0$, akkor az egyenletből kifejezhetjük y -t: $y = -\frac{A}{B}x - \frac{C}{B}$, vagyis $y = ax + b$ alakú, ami a lineáris függvényt leíró képlet.

Ha $B = 0$, akkor az egyenlet $Ax + C = 0$, de ekkor $v_1 = 0$, azaz $e \parallel y \Rightarrow x = -\frac{C}{A}$, képe az y tengellyel párhuzamos egyenes.

Az y tengellyel párhuzamos egyenesek azonban nem lehetnek semmilyen függvénynek a grafikonjai. Az ilyen egyenesek egyenlete $x = c$, azaz konstans, vagyis egyetlen x értékhez több hozzárendelt y érték van, ezért ez nem lehet függvény.

Tehát nem minden egyenes lehet lineáris függvény grafikonja.

TÉTEL: Minden lineáris függvény képe egy egyenes.

BIZONYÍTÁS: A lineáris függvények $x \mapsto ax + b$ grafikonjának egyenlete $y = ax + b$. Az előbbiek alapján ez egyenes egyenlete.

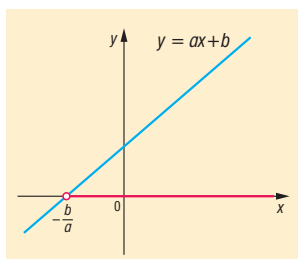
Ha $a = 0$, akkor $y = b$, ez az x tengellyel párhuzamos egyenes.

Ha $a \neq 0$, akkor olyan egyenes, amely sem az x tengellyel, sem az y tengellyel nem párhuzamos.

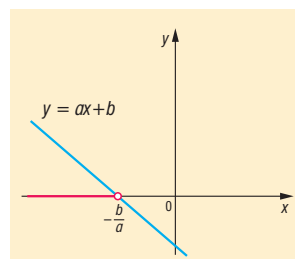
VI. Elsőfokú egyenlőtlenségek grafikus megoldása

DEFINÍCIÓ: Elsőfokú egyismeretlenes egyenlőtlenségek $ax + b > 0$ ($a \neq 0$) alakba hozhatóak.

Ha $a > 0$, akkor $x > -\frac{b}{a}$



Ha $a < 0$, akkor $x < -\frac{b}{a}$

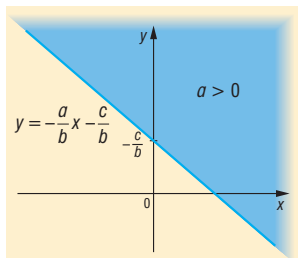


Megengedett az egyenlőség is, így természetesen a megoldásban is.

DEFINÍCIÓ: Elsőfokú kétismeretlenes egyenlőtlenségek $ax + by + c > 0$ ($a \neq 0$) alakba hozhatóak.

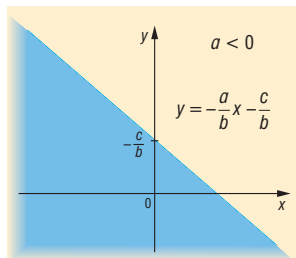
Ha $b > 0$, akkor

$$y > -\frac{a}{b}x - \frac{c}{b}$$



Ha $b < 0$, akkor

$$y < -\frac{a}{b}x - \frac{c}{b}$$



Ha $b = 0$, akkor

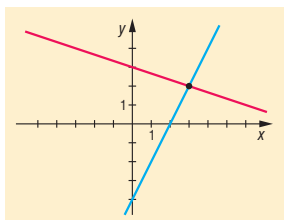
$$ax + c > 0. \text{ (egyismeretlenes)}$$

VII. Elsőfokú egyenletrendszerek grafikus megoldása

Az elsőfokú kétismeretlenes egyenletrendszer általános alakja: $\left. \begin{matrix} ax + by = c \\ dx + ey = f \end{matrix} \right\}$, ahol a, b, c, d, e, f

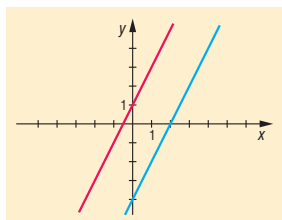
valós számok. Mindkét egyenlet egyenes egyenlete, így ezeket az egyeneseket közös koordináta-rendszerben ábrázolva megkapjuk az egyenletrendszer megoldáshalmazát:

- Ha a két egyenes metszi egymást, akkor a metszéspont két koordinátája az egyenletrendszer megoldáspárja.
- Ha a két egyenes párhuzamos egymással, akkor nincs metszéspontjuk, tehát az egyenletrendszernek nincs megoldása.
- Ha a két egyenes egybeesik, azaz a két egyenlet egymásnak számszorosa, vagyis ekvivalensek, akkor végtelen sok megoldáspár van: minden olyan pont két koordinátája kielégíti az egyenletrendszert, amely illeszkedik az egyenesre.



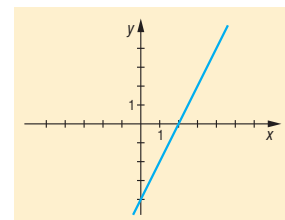
$$\begin{aligned} 2x - y = 4 &\Leftrightarrow y = 2x - 4 \\ x + 3y = 9 &\Leftrightarrow y = -\frac{1}{3}x + 3 \end{aligned}$$

Megoldás: $x = 3, y = 2$



$$\begin{aligned} 2x - y = 4 &\Leftrightarrow y = 2x - 4 \\ 6x - 3y = 3 &\Leftrightarrow y = 2x + 1 \end{aligned}$$

Nincs megoldás



$$2x - y = 4 \Leftrightarrow y = 2x - 4$$

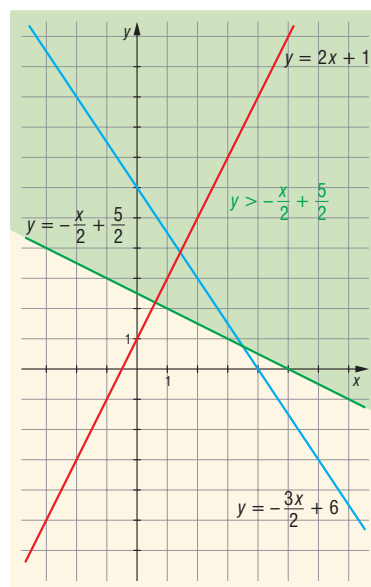
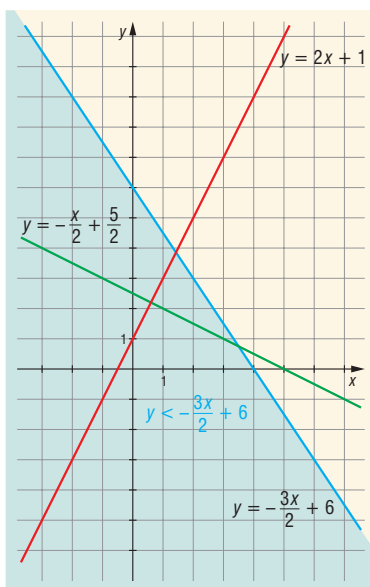
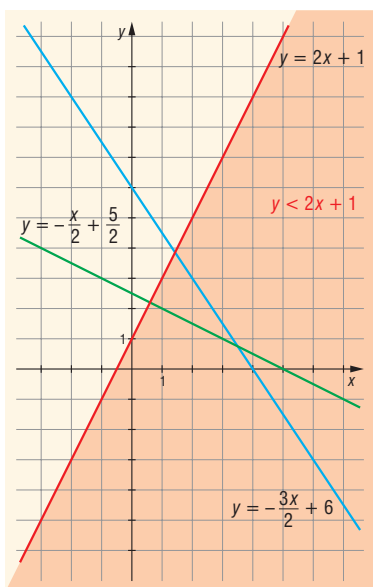
Minden $(x; 2x - 4)$ számpár megoldás.

VIII. Alkalmazások:

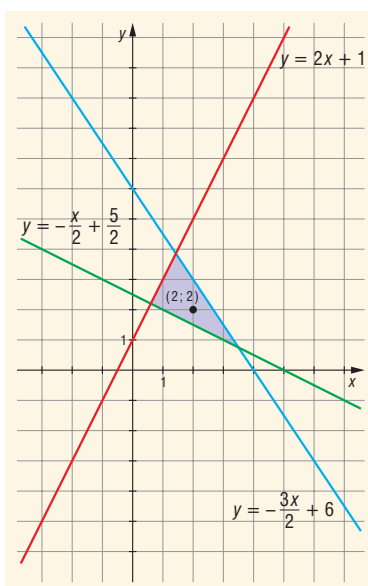
- Adott tulajdonságú ponthalmazok keresése, ha elemi módszerrel nem boldogulunk
- Kétismeretlenes egyenlőtlenség-rendszer megoldása

Pl.:

$$\left. \begin{array}{l} -2x + y < 1 \\ 3x + 2y < 12 \\ x + 2y > 5 \end{array} \right\} x, y \in \mathbb{Z} \Rightarrow \left. \begin{array}{l} y < 2x + 1 \\ y < -\frac{3}{2}x + 6 \\ y > -\frac{x}{2} + \frac{5}{2} \end{array} \right\} x, y \in \mathbb{Z}$$

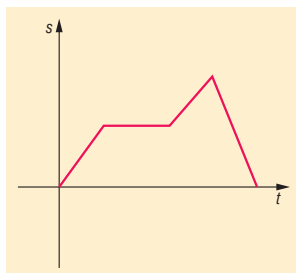


A három terület metszete:



$P(2; 2)$ az egyetlen megfelelő pont $\Rightarrow x = 2, y = 2$

- A lineáris programozás (egyres folyamatok leggazdaságosabb megszervezésének módszere) bizonyos lineáris egyenlőtlenség-rendszerek megoldásával és ennek feltételeivel foglalkozik
- Elemi geometriai problémák egyszerűbb megoldása. Pl.: a háromszög magasságvonalai egy pontban metszik egymást. Eddig ezt geometriai módon bizonyítottuk, koordináta-geometriai ismeretekkel beláthatjuk algebrai módszerekkel. Célszerű $A(a; 0)$, $B(b; 0)$, $C(c_1; c_2)$ helyzetbe illeszteni a háromszöget, azaz az x tengelyre felvenni a háromszög két csúcspontját.
- Egyenletes mozgások út-idő grafikonja mindig egyenes (szakasz); a mozgások vizsgálatakor a mozgás pályájának ismeretében információkat kaphatunk a mozgásról:



Matematikatörténeti vonatkozások:

- A koordináta-geometria (analitikus geometria) alapvető jellemzője, hogy geometriai problémákat, feladatokat algebrai módszerekkel, a koordináta-rendszer segítségével tárgyalja és oldja meg. A geometriának ez a megközelítése először **Apollóniusz** kúpszeletekről írt könyvében jelenik meg a Kr. e. III. században.
- **Ptolemaiosz** (Kr. e. kb. 150) a Föld egy pontjának helyét a mai földrajzi szélességnek és hosszúságnak megfelelő adatokkal határozta meg, tehát gömbi koordinátákat használt.
- **Descartes** 1637-ben megjelent *Geometria* c. könyvét tekintjük az első koordináta-geometriai műnek, ebben már következetesen használja az újkori matematikai jelöléseket. Ebben a könyvében aritmetizálta az euklideszi geometriát: Descartes középpontba állítja az origót, a centrumot és a belőle sugárzó alapirányokat, azaz a vertikális és a horizontális tengelyt. A descartes-i **koordináta-rendszer**nek köszönhetően a görbék leírhatók egyenlettel.
- A koordináta szó az 1700-as évek elejétől **Leibniz** német matematikustól származik.

20. A kör és a parabola elemi úton és a koordinátasíkon. Kör és egyenes, parabola és egyenes kölcsönös helyzete. Másodfokú egyenlőtlenségek grafikus megoldása

Vázlat:

- I. Kör definíciója, egyenlete
- II. Parabola definíciója, egyenletei
- III. Kör és egyenes kölcsönös helyzete
- IV. Parabola és egyenes kölcsönös helyzete
- V. Másodfokú egyenlőtlenségek
- VI. Alkalmazások, matematikatörténeti vonatkozások

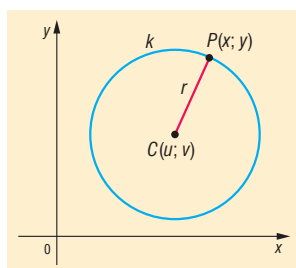
Kidolgozás

I. Kör és egyenlete

DEFINÍCIÓ: A **kör** azon pontok halmaza a síkon, amelyek egy adott ponttól adott távolságra vannak. Az adott pontot a kör **középpontjának**, az adott távolságot a kör **sugarának** nevezzük. Tehát a kört a síkon egyértelműen meghatározza a középpontja és sugara.

TÉTEL: A $C(u; v)$ középpontú, r sugarú **kör egyenlete** $(x - u)^2 + (y - v)^2 = r^2$.

BIZONYÍTÁS: A $P(x; y)$ pont akkor és csak akkor van a körön, ha CP távolság éppen r , azaz $CP = r$.



$CP = \sqrt{(x - u)^2 + (y - v)^2} = r \Rightarrow$ mivel mindkét oldal nemnegatív, négyzetre emeléssel ekvivalens kifejezéshez jutunk: $(x - u)^2 + (y - v)^2 = r^2$, amit a kör pontjai kielégítenek, de más pontok nem.

A kör egyenlete kétismeretlenes másodfokú egyenlet, hiszen az egyenlete:

$$x^2 + y^2 - 2ux - 2vy + u^2 + v^2 - r^2 = 0$$

alakra hozható, azaz átalakítható:

$$x^2 + y^2 + Ax + By + C = 0$$

alakúra, ahol A, B, C olyan valós számok, amelyekre $A^2 + B^2 - 4C > 0$.

Ekkor a kör középpontjának koordinátáira:

$$-2u = A \Rightarrow u = -\frac{A}{2}; \quad -2v = B \Rightarrow v = -\frac{B}{2};$$

illetve

$$u^2 + v^2 - r^2 = C \Rightarrow \frac{A^2}{4} + \frac{B^2}{4} - r^2 = C \Rightarrow r^2 = \frac{A^2 + B^2}{4} - C \Rightarrow r^2 = \frac{A^2 + B^2 - 4C}{4} \Rightarrow$$

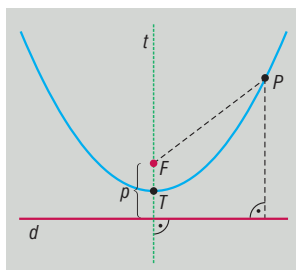
$$r = \sqrt{\frac{A^2 + B^2 - 4C}{4}} = \frac{\sqrt{A^2 + B^2 - 4C}}{2}.$$

Azaz a kör középpontja $C\left(-\frac{A}{2}; -\frac{B}{2}\right)$, sugara $r = \frac{\sqrt{A^2 + B^2 - 4C}}{2}$. Ebből láthatjuk, hogy nem minden $x^2 + y^2 + Ax + By + C = 0$ egyenlet kör egyenlete.

II. Parabola és egyenletei

DEFINÍCIÓ: A **parabola** azon pontok halmaza a síkon, amelyek a sík egy v egyenesétől és az egyenesre nem illeszkedő F ponttól egyenlő távolságra vannak.

Az adott egyenes a parabola **vezéregyenes**e (direktrix), az adott pont a parabola **fókuszpont**ja.



A vezéregyenes és a fókuszpont távolsága a parabola **paramétere** ($p > 0$).

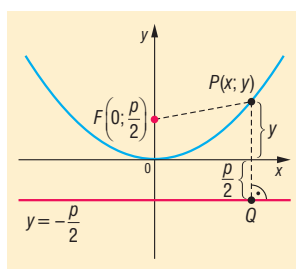
A fókuszpontra illeszkedő és a vezéregyenesre merőleges egyenes a parabola szimmetriatengelye, röviden **tengelye** (t).

A parabola tengelyen lévő pontja a parabola **tengelypont**ja (T). A tengelypont felezi a fókusz és a vezéregyenes távolságát.

TÉTEL: Az $F\left(0; \frac{p}{2}\right)$ fókuszpontú $y = -\frac{p}{2}$ vezéregyenesű **parabola egyenlete:** $y = \frac{1}{2p}x^2$.

Ez azt is jelenti, hogy a parabola tengelypontja $T(0; 0)$, paramétere p (és a fókusza a tengelypont felett van, azaz a parabola „pozitív” állású), ekkor a parabola egyenlete $y = \frac{1}{2p}x^2$.

BIZONYÍTÁS:



A vezéregyenes egyenlete: $y = -\frac{p}{2}$. Egy síkbeli P pont akkor és csak akkor illeszkedik a parabolára, ha a parabola fókuszától és vezéregyenesétől egyenlő távolságra van. A P pont és a vezéregyenes távolsága egyenlő a PQ távolsággal, ahol Q a P pont merőleges vetülete a v vezéregyenesen, ezért $Q\left(x; -\frac{p}{2}\right)$.

$$\left. \begin{aligned} PQ &= \sqrt{(x-x)^2 + \left(y + \frac{p}{2}\right)^2} = \sqrt{\left(y + \frac{p}{2}\right)^2} \\ PF &= \sqrt{(x-0)^2 + \left(y - \frac{p}{2}\right)^2} = \sqrt{x^2 + \left(y - \frac{p}{2}\right)^2} \end{aligned} \right\} PQ = PF,$$

azaz

$$\sqrt{\left(y + \frac{p}{2}\right)^2} = \sqrt{x^2 + \left(y - \frac{p}{2}\right)^2}.$$

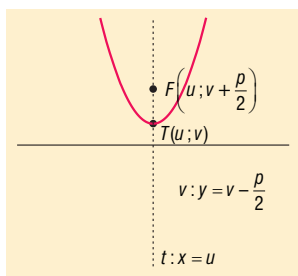
Mivel mindkét oldal nemnegatív, a négyzetre emelés ekvivalens egyenletet ad:

$$\begin{aligned} \left(y + \frac{p}{2}\right)^2 &= x^2 + \left(y - \frac{p}{2}\right)^2 \\ y^2 + py + \frac{p^2}{4} &= x^2 + y^2 - py + \frac{p^2}{4} \end{aligned}$$

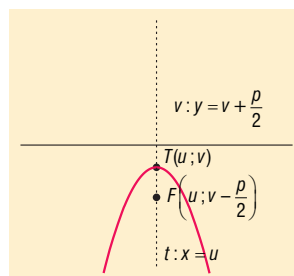
$2py = x^2 \Rightarrow$ (mivel $p > 0$): $y = \frac{1}{2p}x^2$ (origó tengelypontú $F\left(0; \frac{p}{2}\right)$ fókuszpontú parabola tengelyponti egyenlete).

TÉTEL: A p paraméterű $T(u, v)$ tengelypontú, y tengellyel párhuzamos szimmetriatengelyű parabolák tengelyponti egyenlete és jellemzőik:

$$y = \frac{1}{2p}(x-u)^2 + v$$



$$y = -\frac{1}{2p}(x-u)^2 + v$$



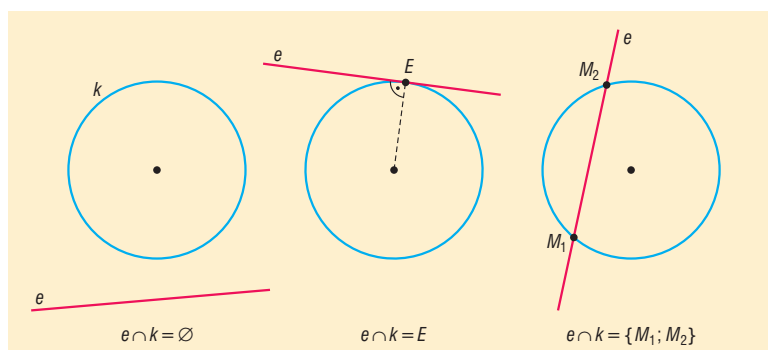
Minden másodfokú függvény grafikonja az y tengellyel párhuzamos tengelyű parabola, és minden y tengellyel párhuzamos tengelyű parabola valamelyik másodfokú függvény grafikonja.

$\Rightarrow f(x) = a \cdot x^2 + b \cdot x + c = y$ teljes négyzetté alakítva átalakítható $y = \pm \frac{1}{2p}(x-u)^2 + v$ alakba.

\Leftarrow Minden $y = \pm \frac{1}{2p}(x-u)^2 + v$ parabola esetén zárójelfelbontás, összevonás után megkapható az $y = a \cdot x^2 + b \cdot x + c$ alak.

III. Kör és egyenes kölcsönös helyzete

Egy síkban egy körnek és egy egyenesnek háromféle helyzete lehet: **nincs közös pontjuk**, egy közös pontjuk van (az egyenes **érinti** a kört), két közös pontjuk van (az egyenes **metszi** a kört).



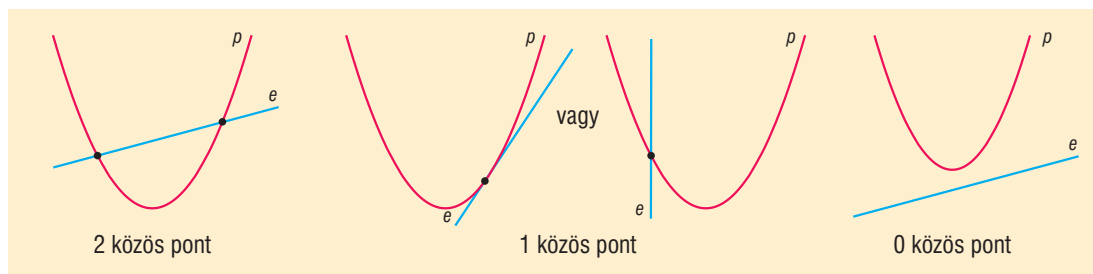
Egy kör és egy egyenes közös pontjainak a meghatározása az egyenleteiből álló egyenletrendszer megoldásával történik a következő módon:

Az egyenes egyenletéből kifejezzük az egyik ismeretlent, és azt a kör egyenletébe behelyettesítjük. Így egy másodfokú egyismeretlenes egyenletet kapunk.

Az egyenlet diszkriminánsa határozza meg a közös pontok számát. Ha $D > 0$, akkor az egyenletnek 2 megoldása van, vagyis az egyenes metszi a kört. Ha $D = 0$, akkor az egyenletnek egy megoldása van, vagyis az egyenes érinti a kört. Ha $D < 0$, akkor az egyenletnek nincs megoldása, vagyis az egyenesnek és a körnek nincs közös pontja.

IV. Parabola és egyenes kölcsönös helyzete

Parabola és egyenes közös pontjainak a száma lehet 2, 1, 0.



Az a tény, hogy a parabolának és az egyenesnek egy közös pontja van, nem jelenti azt, hogy az egyenes érintője a parabolának, mert az is lehetséges, hogy az egyenes párhuzamos a parabola tengelyével.

DEFINÍCIÓ: A **parabola érintője** olyan egyenes, melynek egy közös pontja van a parabolával és nem párhuzamos a parabola tengelyével.

Parabola és érintőjének meghatározása kétféle módon:

- Az egyenes egyenletét egy paraméterrel felírva (célszerű paraméternek az m meredekséget választani), ilyenkor is figyelni kell, hogy m ne a tengellyel párhuzamos egyenesre utaljon. Olyan m értéket keresünk, amely az egyenesre felírt elsőfokú, paraméteres, kétismeretlenes egyenletnek, vagyis egyenletrendszernek pontosan egy megoldáspárját adja. A megoldás módja pl. a parabola egyenletéből behelyettesítünk az egyenes egyenletébe (vagy fordítva), ekkor egy paraméteres, egyismeretlenes, másodfokú egyenletet kapunk. Az egyenes akkor és csak akkor érinti a parabolát, ha az egyenlet diszkriminánsa 0. Az így kapott (általában m -re nézve másodfokú) egyenlet valós megoldásai (ha léteznek) adják a kérdéses érintők meredekségét, amiből egyenletük már felírható.

- Az y tengellyel párhuzamos tengelyű parabola érintőjének meredeksége a parabola egyenletéből kapható másodfokú függvény deriváltjából határozható meg (ez jóval gyorsabb és egyszerűbb az előző módszernél).

Az y tengellyel nem párhuzamos tengelyű, vagyis az x tengellyel párhuzamos tengelyű parabola érintőjének meredeksége a parabola egyenletéből kapható gyökfüggvény (figyelni kell, hogy melyik ágát nézzük) deriváltjából határozható meg (ez bonyolultabb, nagyobb odafigyelést kíván az előző módszernél).

V. Másodfokú egyenlőtlenségek

DEFINIÇÃO: Egyenlőtlenségről beszélünk, ha algebrai kifejezéseket a $<$, $>$, \leq , \geq jelek valamelyikével kapcsoljuk össze. Ha ezek a kifejezések másodfokúak, akkor **másodfokú egyenlőtlenségről** beszélünk.

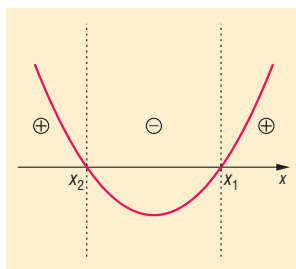
Az **egyenlőtlenségek megoldási módszerei** hasonlóak az egyenletek megoldási módszereihez:

1. A **mérlegelv** alkalmazásakor az egyik eltérés a negatív értékkel való szorzás, illetve osztás, mert ekkor az egyenlőtlenség iránya megváltozik. Ezért el kell kerülni az ismeretlen tartalmú kifejezéssel történő szorzást, osztást. Ehelyett 0-ra rendezés után előjelvizsgálatot kell végezni, amit célszerű grafikusán megoldani. Másik eltérés a két oldal reciprokának vételekor áll fenn. Mindkét oldal reciprokát véve, ha az egyenlőtlenség mindkét oldalán azonos előjelű kifejezés áll, akkor a reláció iránya megváltozik, ha különböző előjelű, akkor nem változik a relációs jel. (Pl. $2 < 3$ ekkor $\frac{1}{2} > \frac{1}{3}$, $-3 < -2$ ekkor $-\frac{1}{3} > -\frac{1}{2}$, de ha $-3 < 2$ ekkor $-\frac{1}{3} < \frac{1}{2}$.)

2. **Grafikus megoldás:** A másodfokú egyenlőtlenségek megoldásakor fontos szerepet játszik, hogy az egyenlőtlenségekben szereplő másodfokú kifejezések grafikonja a koordináta-rendszerben parabola. A másodfokú egyenlet megoldásához hasonlóan 0-ra rendezünk úgy, hogy a főegyüttható pozitív legyen, tehát $a > 0$. Ekkor $ax^2 + bx + c \geq 0$, $ax^2 + bx + c > 0$, $ax^2 + bx + c \leq 0$ vagy $ax^2 + bx + c < 0$ alakú minden másodfokú egyenlőtlenség.

Ha a bal oldalon álló kifejezés által meghatározott függvényt ($f(x) = ax^2 + bx + c$) ábrázoljuk, akkor, mivel a értéke pozitív, ezért felül nyitott, pozitív állású parabolát kapunk. Az egyenlőtlenség megoldása ekkor egyenértékű az $f(x) \geq 0$, $f(x) \leq 0$, $f(x) > 0$, illetve $f(x) < 0$ vizsgálattal. Ehhez először határozzuk meg az $f(x)$ függvény **zérushelyeit**:

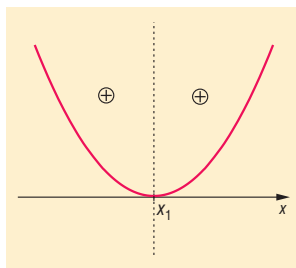
- Ha két zérushely van, x_1 és x_2 (ahol $x_2 < x_1$), akkor lehetőségeink az $f(x)$ függvény előjelére ($f(x_1) = f(x_2) = 0$):



Egyenlőtlenség	Megoldáshalmaz
$ax^2 + bx + c \geq 0$	$x \in]-\infty, x_2] \cup [x_1, \infty[$
$ax^2 + bx + c > 0$	$x \in]-\infty, x_2[\cup]x_1, \infty[$
$ax^2 + bx + c \leq 0$	$x \in [x_2, x_1]$
$ax^2 + bx + c < 0$	$x \in]x_2, x_1[$

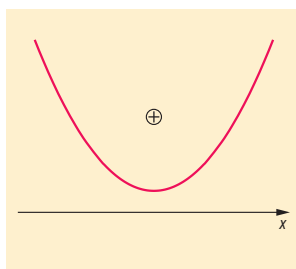
Azaz, ha \geq helyett $>$, \leq helyett $<$ szerepel csak, akkor megoldásunkban a zárt intervallumvégeket nyitottra cseréljük.

- Ha egy zérushely van, x_1 , akkor lehetőségeink az $f(x)$ függvény előjelére ($f(x_1) = 0$):



Egyenlőtlenség	Megoldáshalmaz
$ax^2 + bx + c \geq 0$	$x \in \mathbb{R}$
$ax^2 + bx + c > 0$	$x \in \mathbb{R} \setminus \{x_1\}$
$ax^2 + bx + c \leq 0$	$x = x_1$
$ax^2 + bx + c < 0$	$x \in \{ \}$

- Ha 0 zérushely van, akkor $f(x)$ mindenütt pozitív:

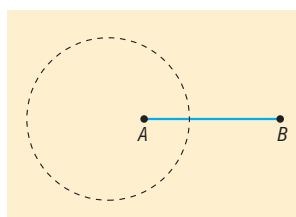


Egyenlőtlenség	Megoldáshalmaz
$ax^2 + bx + c \geq 0$	$x \in \mathbb{R}$
$ax^2 + bx + c > 0$	$x \in \mathbb{R}$
$ax^2 + bx + c \leq 0$	$x \in \{ \}$
$ax^2 + bx + c < 0$	$x \in \{ \}$

VI. Alkalmazások:

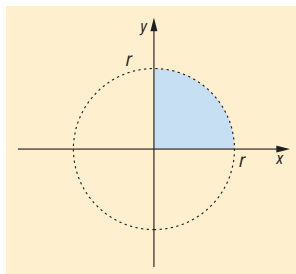
Koordináta-geometria segítségével elemi geometriai feladatok algebrai úton oldhatók meg:

- Adott tulajdonságú ponthalmaz keresése: Mi azon P pontok halmaza, amelyekre adott A, B esetén $\frac{PA}{PB} = \frac{1}{3}$?
(Apollóniosz-kör)

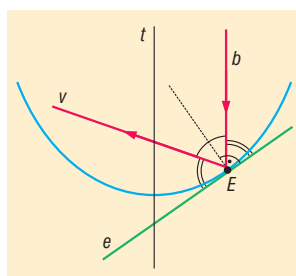


- Kör területének meghatározása integrálással (kell hozzá az integrálandó függvény)

$$x^2 + y^2 = r^2 \Rightarrow y = \sqrt{r^2 - x^2} \Rightarrow T = \int_0^r \sqrt{r^2 - x^2} dx = \frac{r^2 \pi}{4}$$



- A parabolaantenna működésének lényege a parabola és fókuszának tulajdonságával magyarázható: a tengellyel párhuzamosan beeső jel a fókuszon keresztül verődik vissza



- Mesterséges égitestek pályája az úgynevezett szökési sebesség esetén parabola
- Szélsőérték-feladatok megoldása

Matematikatörténeti vonatkozások:

- Már a Kr. e. III. században élt nagy görög matematikus, **Apollóniusz** is foglalkozott a kúpszeletekkel: a körrel, az ellipszissel, a parabolával és a hiperbolával. 8 kötetes művének óriási hatása volt a későbbi korok matematikusaira (**Arkhimédészre**, Descartes-ra, Fermat-ra). Apollóniusz munkásságától függetlenül először Euler írt a kúpszeletekről 1748-ban.
- **Fermat** (1601–1665) francia matematikus Descartes előtt megalkotta a koordináták módszerét, megkereste az egyenes és a kúpszeletek egyenletét. Viszont kutatása nem volt hatással az analitikus geometria fejlődésére, ugyanis gondolatait csak levelezőpartnereivel osztotta meg.
- **Descartes** 1637-ben megjelent *Geometria* c. könyvét tekintjük az első koordináta-geometriai műnek, ebben már következetesen használja az újkori matematikai jelöléseket. Ebben a könyvében aritmetizálta az **euklideszi** geometriát: Descartes középpontba állítja az origót, a centrumot, és a belőle sugárzó alapirányokat, azaz a vertikális és a horizontális tengelyt. A descartes-i **koordináta-rendszernek** köszönhetően a görbék leírhatók egyenlettel.
- **Euler** (1707–1783) svájci származású matematikus a kúpszeletekről végzett kutatásaiban elsőként haladta meg az Apollóniusz által megállapítottakat. Az analitikus geometria keretében szinte egymaga alkotta meg a ma használatos trigonometriát.

21. Térelemek távolsága és szöge. Térbeli alakzatok. Felszín- és térfogatszámítás

Vázlat:

- I. Térelemek, ezek illeszkedése, párhuzamossága, szöge, távolsága
- II. Térbeli alakzatok: testek csoportosítása
- III. Testek felszíne
- IV. Testek térfogata
- V. Testek felszíne, térfogata képletekkel
- VI. Alkalmazások, matematikatörténeti vonatkozások

Kidolgozás:

I. Térelemek

Pont, egyenes, sík – alapfogalmak, nem definiáljuk őket, hanem a szemléletből kialakult jelentésükre hagyatkozunk.

DEFINÍCIÓ: Két térelem **illeszkedő**, ha egyik részhalmaza a másiknak.

DEFINÍCIÓ: Két egyenes **párhuzamos**, ha egy síkban vannak és nem metszik egymást.

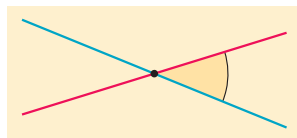
DEFINÍCIÓ: Egyenes és sík, illetve 2 sík párhuzamos, ha nincs közös pontjuk.

DEFINÍCIÓ: Egy egyenest egy rá illeszkedő pont két **félegyenesre** oszt, ez a pont mindkét félegyenes kezdőpontja.

DEFINÍCIÓ: Egy síkban két, azonos pontból kiinduló félegyenest és az általuk meghatározott bármelyik síkrészt **szögnek** nevezzük. A közös kezdőpont a szög csúcspontja, a két félegyenes a szög szárai, a síkrész a szögtartomány.

DEFINÍCIÓ: Illeszkedő vagy párhuzamos **térelemek szöge** 0° .

DEFINÍCIÓ: Két metsző egyenes 4 szöget alkot, ezek közül 2-2 egyenlő. Ha a két egyenes nem merőleges egymásra, akkor a **két egyenes hajlásszöge** a kétfajta szög közül a kisebbik. Ha a két egyenes merőleges egymásra, akkor a hajlásszögük derékszög. Eszerint két metsző egyenes hajlásszöge 90° -nál nem nagyobb.



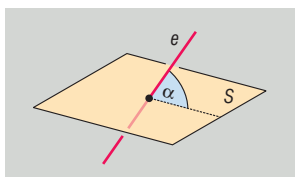
DEFINÍCIÓ: Két egyenes **kitérő**, ha nincsenek egy síkban.

DEFINÍCIÓ: Két **kitérő egyenes hajlásszöge** egyenlő a tér egy tetszőleges pontján átmenő és az adott egyenesekkel párhuzamos egyenesek hajlásszögével. Ez a szög a pont megválasztásától független.

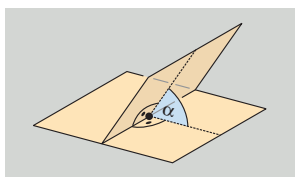
TÉTEL: Egy, a síkot metsző egyenes merőleges a síkra, ha merőleges a sík minden egyenesére (**síkra merőleges egyenes tétele**).

Definíció szerint egy egyenes merőleges a síkra, ha merőleges a sík minden olyan egyenesére, amely átmegy az egyenes és a sík metszéspontján.

DEFINÍCIÓ: Ha az e egyenes nem merőleges a síkra, akkor az egyenes merőleges vetülete a síkon szintén egyenes (e'). Ebben az esetben az **egyenes és a sík hajlásszögén** az egyenes és a vetülete hajlásszögét értjük. Ez a szög a legkisebb az egyenes és a sík egyenesei által bezárt szögek között.



DEFINÍCIÓ: Ha két sík nem párhuzamos egymással, akkor metszésvonaluk egy pontjában mindkét síkban merőlegest állítunk a metszésvonalra. A **két sík hajlásszöge** e két egyenes hajlásszögével egyenlő. Ez a szög a pont megválasztásától független.

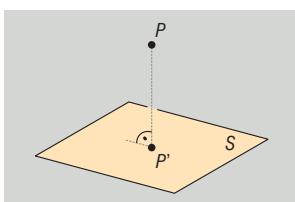


DEFINÍCIÓ: Két illeszkedő vagy metsző **térelem távolsága** 0.

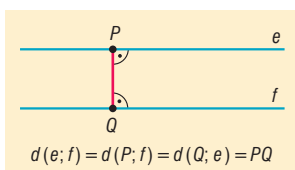
DEFINÍCIÓ: **Két pont távolsága** a pontokat összekötő szakasz hossza.

DEFINÍCIÓ: **Pont és egyenes távolsága** a pontból az egyenesre bocsátott merőleges szakasz hossza.

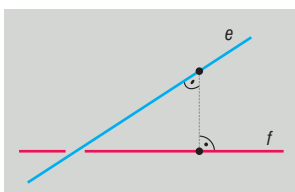
DEFINÍCIÓ: **Pont és sík távolsága** a pontból a síkra bocsátott merőleges szakasz hossza.



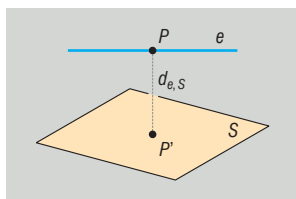
DEFINÍCIÓ: **Párhuzamos egyenesek távolsága:** bármelyik egyenes egy tetszőleges pontjának távolsága a másik egyenestől, azaz a két egyenest összekötő, mindkettőre merőleges szakasz hossza.



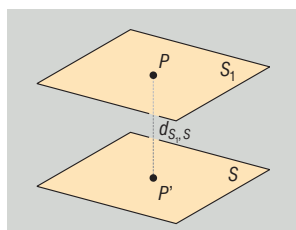
DEFINÍCIÓ: **Két kitérő egyenes távolsága** az őket összekötő, mindkettőre merőleges szakasz hossza. Azt az egyenest, amely mindig létezik, egyértelmű, és amely mindkét kitérő egyenesre merőleges, a két egyenes normáltranszverzálisának nevezzük. Így két kitérő egyenes távolsága normáltranszverzálisuk közéjük eső részének hossza.



DEFINÍCIÓ: Egyenes és vele párhuzamos sík távolsága az egyenes egy tetszőleges pontjának a síktól való távolságával egyenlő, azaz az egyenes bármely pontjából a síkra bocsátott merőleges szakasz hosszával egyenlő.



DEFINÍCIÓ: Két párhuzamos sík távolsága az egyik sík egy tetszőleges pontjának a másiktól vett távolsága, azaz bármelyik sík egy tetszőleges pontjából a másik síkra bocsátott merőleges szakasz hossza.

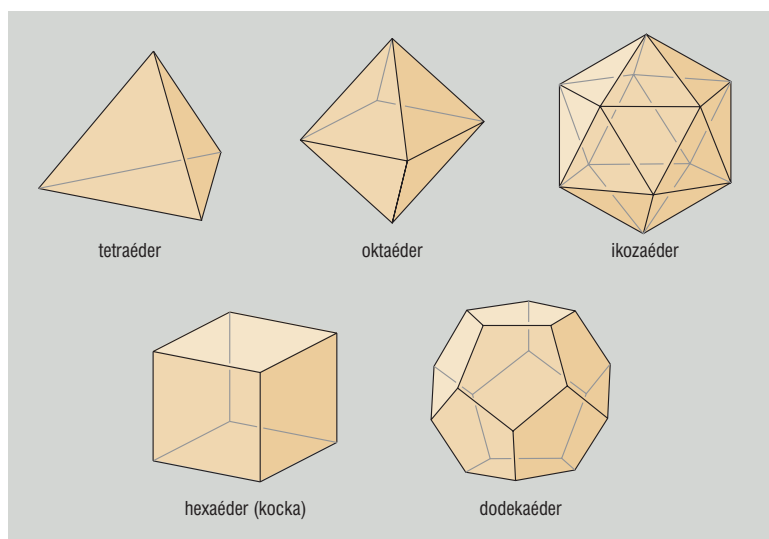


II. Térbeli alakzatok

DEFINÍCIÓ: A térnek véges felületekkel határolt részét **testnek** nevezzük.

DEFINÍCIÓ: A sokszöglapokkal határolt testek a **poliéderek**.

DEFINÍCIÓ: A **szabályos testek** olyan poliéderek, amelynek lapjai egybevágó szabályos sokszögek, valamennyi lapszögük és élszögük egyenlő.



DEFINÍCIÓ: Hengerszerű testek: egy síkidom kerületén levő pontokon keresztül párhuzamosokat húzunk egy, a síkidom síkjával nem párhuzamos egyenessel. Az így kapott palástfelületet az eredeti síkidom síkjával és egy vele párhuzamos síkkal elmetszünk. A kapott véges test a hengerszerű test. Ha a test alaplappja sokszög, akkor **hasábnak**, ha kör, **hengernek** nevezük.

Ha a párhuzamos egyenesek merőlegesek az alaplapp síkjára, akkor a testet **egyenes hengerszerű testnek**, különben **ferde hengerszerű testnek** nevezük.

DEFINÍCIÓ: Kúpszerű testek: egy síkidom kerületén levő pontokon keresztül egyeneseket húzunk egy, a síkidom síkjára nem illeszkedő ponton keresztül. A kapott véges test a kúpszerű test. Ha a test alaplapja sokszög, akkor **gúlának**, ha kör, **kúp**nak nevezzük.

Ha a kúp minden alkotója (az egyeneseknek az adott pont és a síkidom közti szakasza) egyenlő hosszú, akkor egyenes kúpszerű testnek, különben ferde kúpszerű testnek nevezzük.

Csonkakúp-szerű testek: ha egy kúpszerű testet az alaplapjával párhuzamos síkkal elmet-szünk, akkor a két párhuzamos sík közti testet csonkakúp-szerű testnek nevezzük. Ha a test alaplapja sokszög, akkor **csonka gúlának**, ha kör, **csonka kúp**nak nevezzük.

DEFINÍCIÓ: Gömbfelület: egy adott ponttól egyenlő távolságra levő pontok halmaza a térben. Gömböt kapunk, ha egy kört valamelyik átmérője mentén megforgatunk.

III. Testek felszíne

A felszín jele: A .

Poliéderek felszíne a poliédert határoló véges számú sokszöglap területének az összege.

Poliéderektől különböző testek felszíne:

- Ha a test felülete síkba kiteríthető, akkor ennek a kiterített felületnek a területe adja a test felszínét (pl. henger, kúp).
- Bármely nem poliéder felszíne a test által tartalmazott, illetve a testet tartalmazó poliéderek felszíneivel határozható meg a kétoldali közelítés módszerével. Ha egyetlen olyan pozitív valós szám van, amely az adott testet tartalmazó poliéderek felszíneinél nem nagyobb, valamint az adott test által tartalmazott poliéderek felszíneinél nem kisebb, akkor azt a test felszínének tekintjük.

Forgástestek felszíne:

TÉTEL: Ha $f(x)$ függvény az $[a; b]$ intervallumon folytonos és $f(x) \geq 0$, akkor az $f(x)$ függvény grafikonjának az x tengely körüli megforgatásával keletkezett forgástest palástjának felszíne:

$$A = 2\pi \int_a^b f(x) \cdot \sqrt{1 + (f'(x))^2} dx.$$

Ha a forgástest teljes felszínét akarjuk meghatározni, akkor a kapott palásthoz hozzá kell adni az alaplap és a fedőlap területét is.

TÉTEL: Hasonló testek felszínének aránya megegyezik a hasonlóság arányának négyzetével.

IV. Testek térfogata

A térfogat jele: V .

A **poliéder térfogata** az a poliéderre jellemző pozitív szám, amely rendelkezik a következő tulajdonságokkal

- Az egységkocka térfogata 1.
- Az egybevágó poliéderek térfogata egyenlő.
- Ha egy poliédert részpoliéderekre vágunk szét, akkor a részek térfogatának összege egyenlő az egész poliéder térfogatával.

Poliéderektől különböző testek térfogata:

A test által tartalmazott, illetve a testet tartalmazó poliéderek térfogataival a kétoldali közelítés módszerével határozható meg. Ha egyetlen olyan pozitív valós szám van, amely az adott testet tartalmazó poliéderek térfogatainál nem nagyobb, valamint az adott test által tartalmazott poliéderek térfogatánál nem kisebb, akkor azt a test térfogatának tekintjük.

Forgástestek térfogata:

TÉTEL: Ha $f(x)$ függvény az $[a; b]$ intervallumon folytonos és $f(x) \geq 0$, akkor az $f(x)$ függvény grafikonjának az x tengely körüli megforgatásával keletkezett forgástest térfogata:

$$V = \pi \int_a^b f^2(x) dx .$$

TÉTEL: Az r sugarú gömb térfogata: $V = \frac{4}{3}r^3\pi$.

BIZONYÍTÁS: A gömb származtatható egy félkör átmérő körüli megforgatásával, ezért térfogata

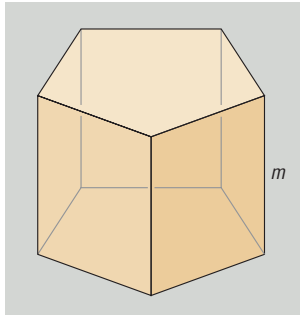
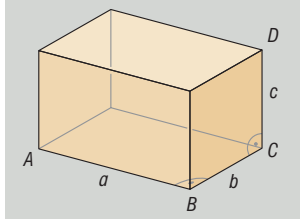
a $V = \pi \int_a^b f^2(x) dx$ összefüggéssel meghatározható.

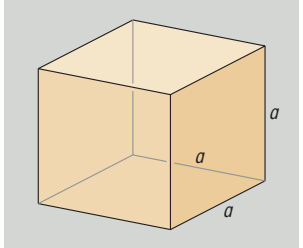
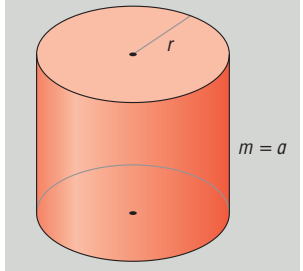
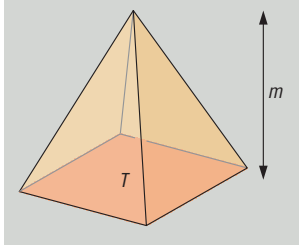
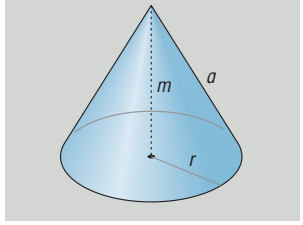
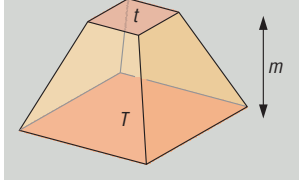
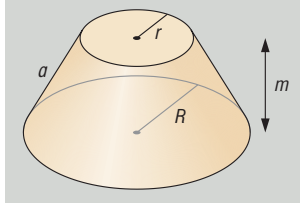
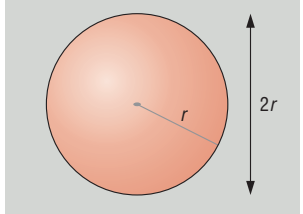
Az origó középpontú, r sugarú kör egyenlete $x^2 + y^2 = r^2$, ebből a $[-r; r]$ intervallumon értelmezett $f(x) = \sqrt{r^2 - x^2}$ függvény grafikonja egy félkör, melynek x tengely körüli megforgatásával származtatható az r sugarú gömb. Így a gömb térfogata:

$$\begin{aligned} V &= \pi \int_{-r}^r f^2(x) dx = \pi \int_{-r}^r (r^2 - x^2) dx = \pi \left[r^2 \cdot x - \frac{x^3}{3} \right]_{-r}^r dx = \\ &= \pi \left[\left(r^2 \cdot r - \frac{r^3}{3} \right) - \left(r^2 \cdot (-r) - \frac{(-r)^3}{3} \right) \right] = \pi \left[\frac{2}{3} \cdot r^3 - \left(-\frac{2}{3} \cdot r^3 \right) \right] = \pi \cdot \frac{4}{3} \cdot r^3 \end{aligned}$$

TÉTEL: Hasonló testek térfogatának aránya megegyezik a hasonlóság arányának köbével.

V. Testek felszíne és térfogata

Test	Felszín	Térfogat
<p>Hasáb</p> 	$A = 2T_{\text{aláp}} + T_{\text{palást}}$	$V = T_{\text{aláp}} \cdot m$
<p>Téglatest</p> 	$A = 2(ab + bc + ca)$	$V = abc$

Test	Felszín	Térfogat
Kocka 	$A = 6a^2$	$V = a^3$
Henger 	$A = 2r\pi(r + a)$	$V = r^2\pi m$
Gúla 	$A = T_{\text{alap}} + T_{\text{palást}}$	$V = \frac{T_{\text{alap}} \cdot m}{3}$
Kúp 	$A = r\pi(r + a)$	$V = \frac{r^2\pi m}{3}$
Csonka gúla 	$A = T + t + T_{\text{palást}}$	$V = \frac{m}{3} \cdot (T + \sqrt{T \cdot t} + t)$
Csonka kúp 	$A = \pi(R^2 + r^2 + (R + r)a)$	$V = \frac{m\pi}{3} \cdot (R^2 + Rr + r^2)$
Gömb 	$A = 4r^2\pi$	$V = \frac{4r^3\pi}{3}$

TÉTEL: A csonka kúp térfogata $V = \frac{m \cdot \pi}{3} \cdot (R^2 + R \cdot r + r^2)$.

BIZONYÍTÁS: Egészítsük ki a csonka kúpot egy x magasságú, r alapsugarú kis kúppal. Így a kapott nagy kúp magassága $m + x$, alapkörének sugara R , térfogata $V_{\text{nagy}} = \frac{m+x}{3} \cdot R^2 \cdot \pi$, a kis kúp térfogata $V_{\text{kicsi}} = \frac{x}{3} \cdot r^2 \cdot \pi$.

A csonka kúp térfogata a két kúp térfogatának különbsége: $V_{\text{csonka}} = \frac{m+x}{3} \cdot R^2 \cdot \pi - \frac{x}{3} \cdot r^2 \cdot \pi$.

A kis kúp hasonló a nagy kúphoz, a hasonlóság aránya $\lambda = \frac{x}{x+m} = \frac{r}{R}$, ebből $x + m = x \cdot \frac{R}{r} \Leftrightarrow$

$$\Leftrightarrow m = \left(\frac{R}{r} - 1\right) \cdot x \Leftrightarrow x = \frac{m}{\frac{R}{r} - 1} = \frac{m \cdot r}{R - r}.$$

Ezt behelyettesítjük a csonka kúp térfogatába:

$$\begin{aligned} V_{\text{csonka}} &= \frac{m+x}{3} \cdot R^2 \cdot \pi - \frac{x}{3} \cdot r^2 \cdot \pi = \frac{m}{3} \cdot R^2 \cdot \pi + x \cdot \frac{R^2 \cdot \pi - r^2 \cdot \pi}{3} = \\ &= \frac{m}{3} \cdot R^2 \cdot \pi + \frac{m \cdot r}{R-r} \cdot \frac{R^2 \cdot \pi - r^2 \cdot \pi}{3} = \frac{m \cdot \pi}{3} \cdot \left(R^2 + \frac{r}{R-r} \cdot (R^2 - r^2)\right) = \\ &= \frac{m \cdot \pi}{3} \cdot \left(R^2 + \frac{r}{R-r} \cdot (R+r) \cdot (R-r)\right) = \frac{m \cdot \pi}{3} \cdot (R^2 + r \cdot (R+r)) = \frac{m \cdot \pi}{3} \cdot (R^2 + R \cdot r + r^2) \end{aligned}$$

TÉTEL: A csonka gúla térfogata $V = \frac{m}{3} \cdot (T + \sqrt{T \cdot t} + t)$.

BIZONYÍTÁS: Egészítsük ki a csonka gúlát egy x magasságú, t alapterületű kis gúlával. Így a kapott nagy gúla magassága $m + x$, alapterülete T , térfogata $V_{\text{nagy}} = \frac{m+x}{3} \cdot T$, a kis gúla térfogata

$$V_{\text{kicsi}} = \frac{x}{3} \cdot t.$$

A csonka gúla térfogata a két gúla térfogatának különbsége: $V_{\text{csonka}} = \frac{m+x}{3} \cdot T - \frac{x}{3} \cdot t$.

A kis gúla hasonló a nagy gúlához, a hasonlóság aránya $\lambda = \frac{x}{x+m} = \sqrt{\frac{t}{T}}$, ebből $x + m =$

$$= x \cdot \sqrt{\frac{T}{t}} \Leftrightarrow m = \left(\sqrt{\frac{T}{t}} - 1\right) \cdot x \Leftrightarrow x = \frac{m}{\sqrt{\frac{T}{t}} - 1} = \frac{m \cdot \sqrt{t}}{\sqrt{T} - \sqrt{t}}.$$

Ezt behelyettesítjük a csonka gúla térfogatába:

$$\begin{aligned} V_{\text{csonka}} &= \frac{m+x}{3} \cdot T - \frac{x}{3} \cdot t = \frac{m}{3} \cdot T + x \cdot \frac{T-t}{3} = \frac{m}{3} \cdot T + \frac{m \cdot \sqrt{t}}{\sqrt{T} - \sqrt{t}} \cdot \frac{T-t}{3} = \\ &= \frac{m}{3} \cdot \left(T + \frac{\sqrt{t}}{\sqrt{T} - \sqrt{t}} \cdot (T-t)\right) = \frac{m}{3} \cdot \left(T + \frac{\sqrt{t}}{\sqrt{T} - \sqrt{t}} \cdot (\sqrt{T} + \sqrt{t}) \cdot (\sqrt{T} - \sqrt{t})\right) = \\ &= \frac{m}{3} \cdot (T + \sqrt{t} \cdot (\sqrt{T} + \sqrt{t})) = \frac{m}{3} \cdot (T + \sqrt{T \cdot t} + t) \end{aligned}$$

TÉTEL: Egy r sugarú, a alkotójú kúp felszíne $A = r\pi(r + a)$.

BIZONYÍTÁS: A kúp palástja kiteríthető síkba, alakja olyan körcikk, amelynek sugara a kúp alkotója, ívhossza az alapkör kerülete. Így a palást területe:

$$T_{\text{palást}} = \frac{\text{sugár} \cdot \text{ív}}{2} = \frac{a \cdot 2r\pi}{2} = ar\pi$$

Így a forgáskúp teljes felszíne $A = r^2\pi + ar\pi = r\pi(r + a)$.

VI. Alkalmazások

- Térképészetben, földmérésben: távolságmérés, szögmérés
- Építész-mérnöki munkában: távolságmérés, szögmérés, felszín-, térfogatszámítás
- Fizikában sűrűségszámításkor: térfogatszámítás
- Geometriai valószínűség számolásakor: ha az esemény bekövetkezésének valószínűsége arányos az eseményt szemléltető geometriai alakzat mértékével, akkor az esemény bekövetkezésének valószínűségét megkapjuk, ha az eseményt és az eseményteret szemléltető alakzatok mértékeit elosztjuk egymással (felszín, térfogat).

Matematikatörténeti vonatkozások:

- A legkorábbi írásos emlékek a hengerszerű testekről Kr. e. 2000 körül keletkeztek. Ezek szerint Egyiptomban henger alakú gabonatarályok térfogatát meg tudták határozni.
- Kr. e. 325 körül **Eukleidész** megírta *Elemek* című művét, amelyben a geometriát axiomatikusán építette fel, azaz a szemléletre hagyatkozva alapfogalmakat (axiómákat) határozott meg, és ezek segítségével bizonyított állításokat. A hasábok, gúla, gömb térfogatának vizsgálatára a kimerítés módszerét (beírt és körülírt hasábok térfogatával való közelítést) használta. Vizsgálta az öt szabályos testet, meghatározta térfogatukat, bebizonyította, hogy csak öt szabályos test létezik.
- **Arkhimédész** (Kr. e. III. sz.) bebizonyította, hogy a gömb felszíne megegyezik a köré írt hengerpalást területével, és a térfogata a köré írt henger térfogatának $2/3$ része. Egy másik nevezetes tétele szerint az egyenlő oldalú henger, a bele írható gömb és a hengerbe írható kúp térfogatainak aránya 3:2:1.
- **Heron** a Krisztus előtti I. században élt görög matematikus síkidomok területének és testek térfogatának kiszámításával is foglalkozott.
- **Janus Pannonius** (1434–1472) magyar költő szépen körülírta a térelemeket, amelyeket a matematikában nem definiálunk.
Janus Pannonius: A geometriai idomokról
„Pont az, melynek részét felfogni sem tudnád, megnyújtod, s karcsú egyenes fut bármely irányban. Sík felület születik, ha meg is duplázza futását: széltében terjed, nem nyílik meg soha mélye. Két-két sík a szilárd testet jellemzi, kiadja hosszúságát és szélességét, meg a mélyét. Kockának, köbnek hívják s négyzetlapú testnek, bárhogy esik, midig jól látni a részeit ennek; hat síkot foglal magába, a szöglete épp nyolc” (Kurcz Ágnes fordítása)
- **Császár Ákos** 1949-ben készített egy olyan testet, amelynek bármely két csúcspontja szomszédos. A Császár-poliédernek 7 csúcsa, 14 háromszöglapja és 21 éle van (ez nem egyszerű poliéder).
- **Szilassi Lajos** szegedi matematikus 1977-ben olyan testet készített, amelynek hét lapja van, és bármely két lapja szomszédos. A Szilassi-féle poliédert elkészítették rozsdamentes acélból, és Fermat francia matematikus szülőházában, születésének 400. évfordulóján avatták fel.

22. Területszámítás elemi úton és az integrálszámítás felhasználásával

Vázlat:

- I. Területszámítás
- II. Síkidomok területe: téglalap, paralelogramma, háromszög, trapéz, deltoid, négyszögek, sokszögek, kör
- III. Határozott integrál
- IV. Görbe alatti terület
- V. Alkalmazások, matematikatörténeti vonatkozások

Kidolgozás

I. Területszámítás

A **mérés** egy egységnyinek tekintett értékkel való összehasonlítást jelent. Ahhoz, hogy mérni tudjunk, rögzíteni kell a mérés szabályait.

DEFINIÓ: A **terület** mérése azt jelenti, hogy minden síkidomhoz hozzárendelünk egy pozitív valós számot, amelyet a síkidom területének nevezünk. Ez a hozzárendelés az alábbi tulajdonságokkal rendelkezik:

- Az egységnyi oldalhosszúságú négyzet területe egységnyi.
- Egybevágó sokszögek területe egyenlő.
- Ha egy sokszöget véges számú sokszögre darabolunk, akkor az egyes részek területének összege egyenlő az eredeti sokszög területével.

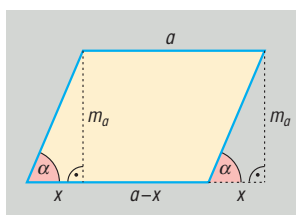
II. Síkidomok területe

Bebizonyítható, hogy ilyen területértelmezés mellett igazak a következő állítások:

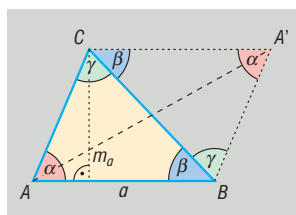
TÉTEL: A **téglalap területe** két szomszédos oldalának szorzatával egyenlő: $t = a \cdot b$.

Minden paralelogramma átdarabolható téglalappá, így

TÉTEL: a **paralelogramma területe:** $t = a \cdot m_a$.



Minden háromszöget valamely oldalának felezőpontjára tükrözve az eredeti háromszög és (az eredetivel egybevágó) képe együtt egy paralelogrammát alkot, így a paralelogramma területének a fele

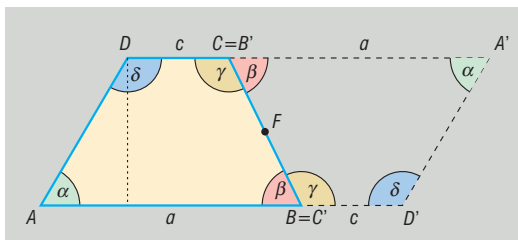


TÉTEL: a **háromszög területe:** $t = \frac{a \cdot m_a}{2}$.

Tükrözve bármely trapézt az egyik szárának felezőpontjára olyan paralelogrammát kapunk, amelynek területe kétszerese a trapéz területének.

TÉTEL: A **trapéz területe** az alapok számtani közepének és a trapéz magasságának szorzata:

$$t = \frac{a+c}{2} \cdot m.$$

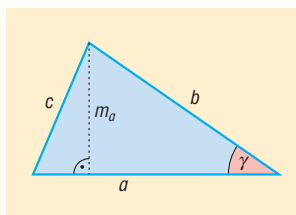


Minden sokszög véges számú háromszögre darabolható, így

TÉTEL: a **sokszög területe** egyenlő ezeknek a háromszögeknek a területösszegével.

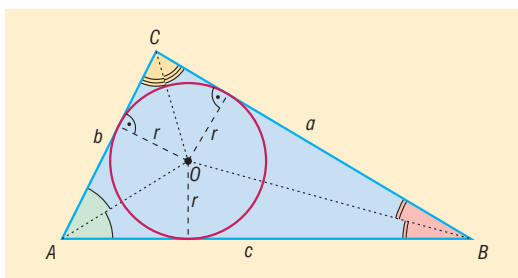
TÉTEL: Háromszög területei: $t = \frac{a \cdot m_a}{2} = \frac{a \cdot b \cdot \sin \gamma}{2} = r \cdot s = \frac{a \cdot b \cdot c}{4R} = \sqrt{s \cdot (s-a) \cdot (s-b) \cdot (s-c)}$,

ahol r a beírt kör sugara, R a körülírt kör sugara, s a félkerület.



TÉTEL: $t = r \cdot s$.

BIZONYÍTÁS: A háromszög beírt körének középpontja a szögfelezők metszéspontja.

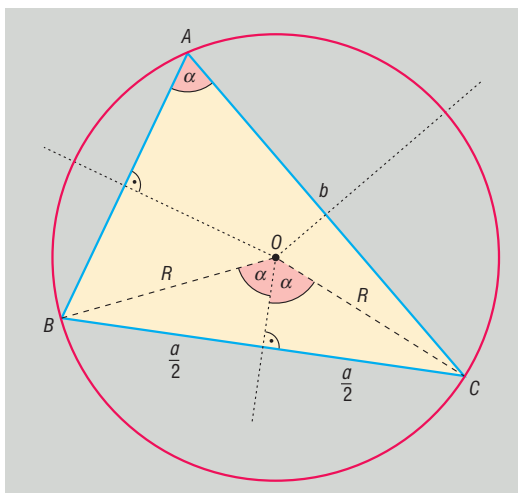


Berajzoljuk a szögfelezőket, így ABC háromszöget felbontjuk három háromszögre: az ABO , BCO és CAO háromszögekre, mindhárom háromszögben az egyik oldalhoz tartozó magasság r . Így felírható az eredeti háromszög területe a részháromszögek területének összegével.

$$t_{ABC\Delta} = t_{ABO\Delta} + t_{BCO\Delta} + t_{CAO\Delta} = \frac{c \cdot r}{2} + \frac{a \cdot r}{2} + \frac{b \cdot r}{2} = r \cdot \frac{a+b+c}{2} = r \cdot s.$$

TÉTEL: $t = \frac{a \cdot b \cdot c}{4R}$.

BIZONYÍTÁS: A háromszög körülírt körének középpontja az oldalfelező merőlegesek metszéspontja.



Ha CAB kerületi szög α , akkor COB középponti szög 2α (ugyanahhoz az ívhez tartoznak).

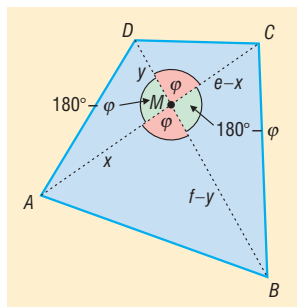
$$COB \text{ egyenlő szárú háromszög} \Rightarrow \sin \alpha = \frac{\frac{a}{2}}{R} = \frac{a}{2R}.$$

$$t = \frac{b \cdot c \cdot \sin \alpha}{2} = \frac{b \cdot c \cdot \frac{a}{2R}}{2} = \frac{a \cdot b \cdot c}{4R}.$$

TÉTEL: Négyzög területe: az átlói hossza és az átlók által bezárt szög szinuszánaak a szorzatának

fele: $t = \frac{e \cdot f \cdot \sin \varphi}{2}.$

BIZONYÍTÁS: Az $ABCD$ konvex négyszög, átlóinak metszéspontja M . M az átlókat $x, e - x$, illetve $y, f - y$ részekre osztja. A két átló 4 db háromszögre osztja a négyszöget, így a négyszög területe egyenlő a négy háromszög területének összegével:



$$t_{ABCD} = t_{ABM\Delta} + t_{BCM\Delta} + t_{CDM\Delta} + t_{DAM\Delta}$$

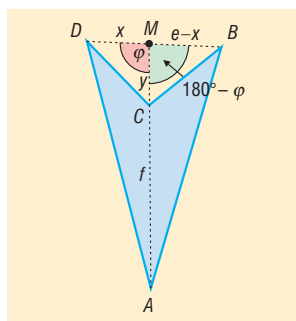
$$t = \frac{x \cdot (f - y) \cdot \sin \varphi}{2} + \frac{(e - x) \cdot (f - y) \cdot \sin(180^\circ - \varphi)}{2} + \frac{(e - x) \cdot y \cdot \sin \varphi}{2} + \frac{y \cdot x \cdot \sin(180^\circ - \varphi)}{2}$$

$\sin(180^\circ - \varphi) = \sin \varphi$, mert $0^\circ < \varphi < 180^\circ$, ekkor $\frac{\sin \varphi}{2}$ -t kiemelve:

$$t = \frac{\sin \varphi}{2} \cdot [x \cdot (f - y) + (e - x) \cdot (f - y) + (e - x) \cdot y + y \cdot x] = \frac{\sin \varphi}{2} \cdot [(f - y) \cdot e + y \cdot e] =$$

$$= \frac{\sin \varphi}{2} \cdot [f - y + y] \cdot e = \frac{\sin \varphi}{2} \cdot f \cdot e = \frac{e \cdot f \cdot \sin \varphi}{2}.$$

$ABCD$ konkáv négyszög, átlóinak metszéspontja M a virtuális átlót x , $e - x$ részekre osztja, míg a valódi átló: $CA = AM - CM$.



Az ABD háromszög területe egyenlő az $ABCD$ négyszög területének és a BCD háromszög területének összegével, így

$$t_{ABCD} = t_{ABD\Delta} - t_{BCD\Delta} = t_{ABM\Delta} + t_{AMD\Delta} - t_{CBM\Delta} - t_{CMD\Delta}.$$

TÉTEL: A deltoid területe az átlói szorzatának a fele.

TÉTEL: Szabályos sokszög területét úgy kapjuk, hogy középpontjukat összekötjük a csúcsokkal és így n db egyenlő szárú háromszögre bontjuk a sokszöget:

$$t = n \cdot \frac{a \cdot r}{2} = n \cdot \frac{R^2 \cdot \sin \frac{360^\circ}{n}}{2},$$

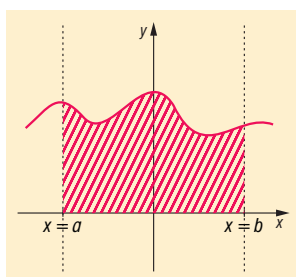
ahol r : a beírt kör sugara, R : a körülírt kör sugara.

TÉTEL: AZ r sugarú kör területe: $r^2\pi$ (sorozatok határértékével)

III. Határozott integrál

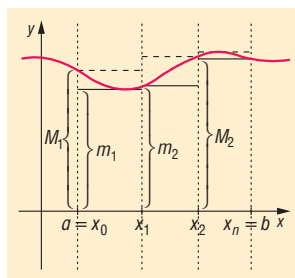
A határozott integrál segítségével függvénygörbe vonalával határolt síkidomok területét is meg tudjuk határozni. Ehhez először a **görbe alatti területet** kell vizsgálnunk.

DEFINÍCIÓ: Görbe alatti területnek nevezzük egy $[a; b]$ intervallumon folytonos, korlátos, pozitív értékű f függvény görbéjének az intervallumhoz tartozó íve, az $x = a$, az $x = b$ egyenesek és az x tengely által határolt területet.



DEFINÍCIÓ: A görbe alatti területet téglalapok egyesítésével létrejött sokszögekkel közelítjük. Ehhez az $[a; b]$ intervallumot az $a = x_0, x_1, x_2, \dots, x_n = b$ pontokkal n részre osztjuk. Ezt az intervallum egy **felosztásának** nevezzük.

Tekintsük ennek a felosztásnak egy intervallumát: $[x_{i-1}; x_i]$. Jelölje m_i az f függvénynek ebben az intervallumban felvett értékeinek **alsó határát** (az alsó korlátok közt a legnagyobb), M_i pedig a **felső határát** (a felső korlátok közt a legkisebb). Bizonyítható, hogy korlátos függvényeknél ezek az értékek léteznek.



Az $[x_{i-1}; x_i]$ intervallum fölé szerkesztünk olyan téglalapokat, amelyeknek másik oldala m_i , illetve M_i . Végezzük el a szerkesztést a felosztás minden intervallumában és egyesítsük a kisebb téglalapokat és a nagyobb téglalapokat külön két sokszögbe. Ekkor a vizsgált tartomány egy **beírt**, illetve egy **körülírt sokszög**ét kapjuk. Ezeknek a sokszögeknek a területét vizsgáljuk.

A beírt sokszög területe az **alsó közelítő összeg**:

$$s_n = m_1(x_1 - x_0) + m_2(x_2 - x_1) + \dots + m_n(x_n - x_{n-1}).$$

A körülírt sokszög területe a **felső közelítő összeg**:

$$S_n = M_1(x_1 - x_0) + M_2(x_2 - x_1) + \dots + M_n(x_n - x_{n-1}).$$

Ha további osztópontokat veszünk a meglévőkhöz, a felosztást finomítjuk. Ekkor s_n általában nő, S_n általában csökken, és a leghosszabb részintervallumok hossza is 0-hoz tart.

Így végtelen sok alsó és felső összeg keletkezik. Belátható, hogy bármely alsó összeg nem lehet nagyobb bármely felső összegnél.

DEFINÍCIÓ: Az $[a; b]$ intervallumon korlátos, f függvény integrálható, ha bármely, minden határon túl finomodó felosztáshoz tartozó alsó és felső összegei sorozatának közös határértéke van, azaz $\lim_{n \rightarrow \infty} s_n = \lim_{n \rightarrow \infty} S_n$. Ezt a közös határértéket nevezzük az f függvény $[a; b]$ inter-

vallumon vett **határozott integráljának**. Jelölés: $\int_a^b f(x) dx$.

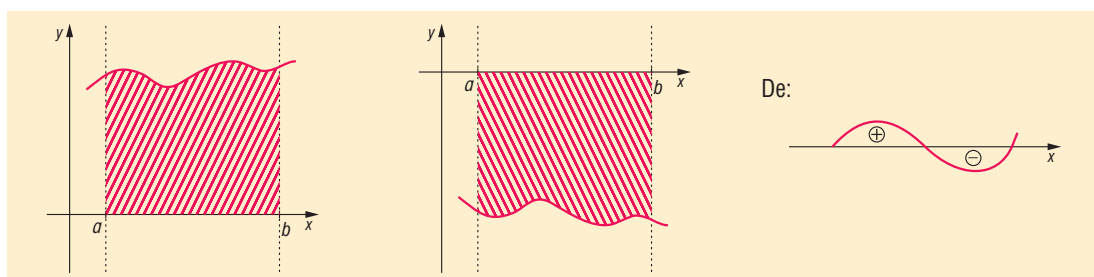
IV. Görbe alatti terület

Így tehát nemnegatív, integrálható függvények határozott integrálja megadja a **függvény alatti területet**.

Az integrál területszámítási alkalmazásánál figyelembe kell venni, hogy az x tengely alatti terület negatív előjellel adódik.

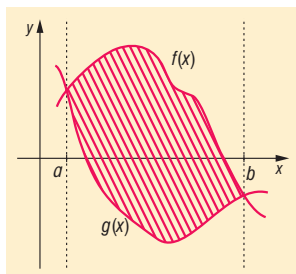
TÉTEL: Ha az $[a; b]$ -on folytonos f függvény nem vált előjelet, akkor $x = a$, $x = b$, és **az x tengely**

és a függvény grafikonja által közrezárt síkidom területe: $t = \left| \int_a^b f(x) dx \right|$.



TÉTEL: Két függvény által közrezárt síkidom területe:

$$t = \int_a^b (f(x) - g(x)) dx \quad (\text{ha } f(x) > g(x))$$



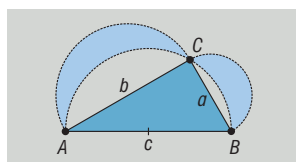
Ilyenkor általában a két függvény metszéspontját kell először meghatározni. Majd a két függvény különbségét kell integrálni, a legvégén pedig a Newton–Leibniz-formulával kiszámolni a határozott integrál értékét.

V. Alkalmazások:

- A Pitagorasz-tétel bizonyítása terület-összerakással
- Geometriai valószínűségek kiszámításakor szükség van geometriai alakzatok területének meghatározására
- Kör területe
- Síkidomokkal, illetve síkba kiteríthető felületekkel határolt testek felszínének meghatározása (hasáb, henger, kúp, gúla, csonka kúp, csonka gúla)

Matematikatörténeti vonatkozások:

- Síkidomok területével már az ókorban is foglalkoztak: **Hippokratész** Kr. e. 450 körül egy rendszerező matematikai művet írt, melyben sokat foglalkozott különböző egyenesek és körívek által meghatározott területek kiszámításával.
- **Hippokratész** „holdacskaí”: A derékszögű háromszög oldalai fölé rajzoljunk félköröket. Ekkor a két „holdacska” területének összege egyenlő a háromszög területével.



- Kb. 150 évvel később **Arkhimédész** műveiben is találunk a területszámításról említést: ő is a kimerítés módszerét használta (körülrírt és beírt téglalapok területével való közelítés).
- **Riemann** (1826–1866) német matematikus fejlesztette ki a róla elnevezett integrálást. A határozott integrál definíciója pontosítva: Riemann szerint integrálható...
- **Leibniz** (1646–1716) német és **Newton** (1642–1727) angol matematikusok egymástól függetlenül felfedezték a differenciál- és integrálszámítást. A mai jelölések többnyire Leibniztől származnak: a differenciálhányados $\left(\frac{dy}{dx}\right)$ és az integrál $\left(\int dx\right)$ jele. Ő használta először

a függvény, a differenciálszámítás, az integrálszámítás elnevezéseket. Newton Leibniz előtt dolgozta ki mindkét számítást, de nem tette közzé, jelölésrendszere is bonyolultabb volt, mint Leibnizé, így az utókor a Leibniz-féle elveket fogadta el. A határozott integrál kiszámításának képletét mindkettejük munkásságának elismeréseként nevezzük Newton–Leibniz-formulának.

23. Kombinációk. Binomiális tétel, a Pascal-háromszög. A valószínűség kiszámításának kombinatorikus modellje. A hipergeometrikus eloszlás

Vázlat:

- I. Kombinációk (ismétlés nélküli, ismétléses)
- II. Binomiális tétel, a Pascal-háromszög
- III. Események: elemi események, eseménytér, biztos, lehetetlen esemény
- IV. Műveletek eseményekkel ($A + B$, $A \cdot B$, \bar{A})
- V. Valószínűség definíciója, műveletek valószínűsége, axiómák
- VI. Hipergeometrikus eloszlás
- VII. Alkalmazások, matematikatörténeti vonatkozások

Kidolgozás

I. Kombinációk (ismétlés nélküli)

A **kombinatorika**, a valószínűségszámítás és a matematikai statisztika a véletlen tömegjelenségek törvényszerűségével foglalkozik. A kombinatorika tárgyát képezik a sorba rendezési és a részhal-maz-kiválasztási problémák, a kombinatorika rendszerint dolgok megszámlálásával foglalkozik.

DEFINÍCIÓ: Legyen n egymástól különböző elemünk. Ha ezekből k ($k \leq n$) db-ot kiválasztunk minden lehetséges módon úgy, hogy a kiválasztott elemek sorrendjére nem vagyunk tekintettel, azaz n elem k -ad osztályú **ismétlés nélküli kombinációját** kapjuk.

TÉTEL: Az n elem k -ad osztályú az ismétlés nélküli kombinációinak száma:

$$\frac{n \cdot (n-1) \cdot (n-2) \cdot \dots \cdot (n-k+1)}{k \cdot (k-1) \cdot \dots \cdot 2 \cdot 1} = \frac{n!}{k! \cdot (n-k)!} = \binom{n}{k}.$$

BIZONYÍTÁS: A kiválasztást úgy képzelhetjük el, mintha először sorba állítanánk a k db kiválasztott elemet. Az első helyre n db-ból, a második helyre $(n-1)$ db-ból, a k -edik helyre már csak a megmaradt $(n-k+1)$ db-ból választhatunk, ezzel a lehetőségek száma $n \cdot (n-1) \cdot (n-2) \cdot \dots \cdot (n-k+1)$. Majd a sorrendek számát a k elem összes sorrendjével, $k!$ -ral osztjuk, hiszen a sorrend nem számít.

$$\begin{aligned} & \frac{n \cdot (n-1) \cdot (n-2) \cdot \dots \cdot (n-k+1)}{k!} = \\ & = \frac{n \cdot (n-1) \cdot (n-2) \cdot \dots \cdot (n-k+1) \cdot (n-k) \cdot (n-k-1) \cdot \dots \cdot 2 \cdot 1}{k! \cdot (n-k) \cdot (n-k-1) \cdot \dots \cdot 2 \cdot 1} = \frac{n!}{k! \cdot (n-k)!} \end{aligned}$$

Erre pedig bevezetjük az $\binom{n}{k}$ szimbólumot.

DEFINÍCIÓ: Ha n különböző elemből kell k elemet kiválasztani úgy, hogy a kiválasztás sorrendje nem számít és a már kiválasztott elemeket újra kiválaszthatjuk, akkor az n elem k -ad osztályú **ismétléses kombinációját** kapjuk.

TÉTEL: Az n elem k -ad osztályú ismétléses kombinációjának száma: $\binom{n+k-1}{k}$.

II. Binomiális tétel

TÉTEL: $(a+b)^n = \binom{n}{0}a^n b^0 + \binom{n}{1}a^{n-1}b^1 + \binom{n}{2}a^{n-2}b^2 + \dots + \binom{n}{n-1}a^1b^{n-1} + \binom{n}{n}a^0b^n$.

A tételben szereplő $\binom{n}{k}$ együtthatókat binomiális együtthatóknak nevezzük.

BIZONYÍTÁS: $(a+b)^n = (a+b)(a+b)(a+b)\dots(a+b)$.

Bontsuk fel a jobb oldalon álló n darab zárójelet: mindegyik összegből ki kell választani az egyik tagot, ezeket a tagokat össze kell szorozni, majd a kapott szorzatokat össze kell adni.

Mindegyik kapott szorzat n tényezőből áll, mindegyikben szerepel a és b , mégpedig $a^{n-k} \cdot b^k$ alakban, mert a zárójelből vagy a -t, vagy b -t választunk, a -ból $n-k$ darabot, b -ből k darabot.

$\binom{n}{k}$ -féleképpen lehet az n darab tényezőből azt a k darabot kiválasztani, amelyikből a b

szorzótényezőt vesszük. Tehát az $a^{n-k} \cdot b^k$ tagból $\binom{n}{k}$ darab van, tehát ez a tag együtthatója.

Így a szorzat a tételbeli alakba írható.

A binomiális együtthatók tulajdonságai:

- $0!$ a definíció szerint 1, ezért $\binom{n}{n} = 1$ és $\binom{n}{0} = 1$.
- Az n elem közül ugyanannyiféleképpen lehet k elemet kiválasztani, mint $n-k$ elemet ott-hagyni, így $\binom{n}{k} = \binom{n}{n-k}$.

A binomiális tétel következménye:

Ha az összeg mindkét tagja 1, akkor

$$2^n = (1+1)^n = \binom{n}{0} + \binom{n}{1} + \binom{n}{2} + \dots + \binom{n}{n-1} + \binom{n}{n}$$

Pascal-háromszög:

A háromszögben a sorok számozása nullával kezdődik, a páratlan és a páros sorokban a számok elvannak csúsztatva egymáshoz képest. A háromszöget a következő egyszerű módon lehet felírni: A nulladik sorban csak egy darab 1-es van. A következő sorok felírásakor a szabály a következő: az új számot úgy kapjuk meg, ha összeadjuk a felette balra és felette jobbra található két számot. Ha az összeg valamelyik tagja hiányzik (sor széle), akkor nullának kell tekinteni. Például az 1-es sor első száma $0 + 1 = 1$, míg a 2-es sor középső száma $1 + 1 = 2$.

Ez a meghatározás Pascal képletén alapul, amely szerint az n -edik sor k -edik eleme a következő

képlettel számolható: $\binom{n}{k} = \binom{n-1}{k-1} + \binom{n-1}{k}$ bármely nemnegatív egész n és bármely 0 és n közötti

k egész esetében.

A Pascal-háromszög szimmetriája miatt is látható, hogy $\binom{n}{k} = \binom{n}{n-k}$.

A meghatározásból látszik, hogy az n -edik sorban a kéttagú összeg n -edik hatványának együtthatói, azaz a binomiális együtthatók állnak.

$(a+b)^0 = 1$	1	
$(a+b)^1 = 1 \cdot a + 1 \cdot b$	1 1	
$(a+b)^2 = 1 \cdot a^2 + 2 \cdot ab + 1 \cdot b^2$	1 2 1	
$(a+b)^3 = 1 \cdot a^3 + 3 \cdot a^2b + 3 \cdot ab^2 + 1 \cdot b^3$	1 3 3 1	
$(a+b)^4 = 1 \cdot a^4 + 4 \cdot a^3b + 6 \cdot a^2b^2 + 4 \cdot ab^3 + 1 \cdot b^4$	1 4 6 4 1	

III. Események

A valószínűségszámítás véletlen tömegjelenségek vizsgálatával foglalkozik.

DEFINÍCIÓ: Véletlen jelenségnek nevezünk azokat a jelenségeket, amelyeket a leírható körülmények nem határoznak meg egyértelműen.

Pl. egy dobókocka feldobása.

DEFINÍCIÓ: Kísérletnek nevezünk a véletlen jelenség megfigyelését.

DEFINÍCIÓ: Elemi eseménynek nevezünk a kísérlet során bekövetkező lehetséges kimeneteket.

Pl. a kocka dobásakor azt, hogy hányas számot dobunk.

DEFINÍCIÓ: Az eseménytér az elemi események halmaza.

Pl. a kocka dobásakor $\{1; 2; 3; 4; 5; 6\}$.

DEFINÍCIÓ: Az elemi események egy halmazát, azaz az eseménytér egy részhalmazát eseménynek nevezünk.

Pl. kockadobáskor eseménynek tekinthetjük a páros szám dobását.

Az eseményeket nagybetűvel jelöljük. Pl. $A = \{2; 4; 6\}$

DEFINÍCIÓ: Az eseménytérhez tartozó azon esemény, amely biztosan bekövetkezik, a biztos esemény, amely semmiképpen sem következhet be, a lehetetlen esemény.

A biztos esemény jele: H , a lehetetlen esemény jele: \emptyset .

Pl. a kockadobáskor biztos esemény: 7-nél kisebb számot dobunk, lehetetlen esemény: 8-nál nagyobbat dobunk.

IV. Műveletek eseményekkel

DEFINÍCIÓ: Az A esemény komplementere az az esemény, amely akkor következik be, amikor A nem következik be. Jele: \bar{A} .

DEFINÍCIÓ: Az A és B események összege az az esemény, amely akkor következik be, amikor A vagy B bekövetkezik. Jele: $A + B$.

DEFINÍCIÓ: Az A és B események szorzata az az esemény, amely akkor következik be, amikor A és B bekövetkezik. Jele: $A \cdot B$.

DEFINÍCIÓ: Az A és B események egymást kizárják, ha egyszerre nem következhetnek be.

Az eseményekkel kapcsolatos műveletek tulajdonságai, azonosságai a halmazműveletekre megismert tételekhez hasonlóan leírhatók, illetve bizonyíthatók.

V. A valószínűségszámítás alapjai

DEFINÍCIÓ: Ha elvégezzünk n -szer egy kísérletet, és ebből az A esemény k -szor következik be, akkor az A esemény relatív gyakorisága a $\frac{k}{n}$ hányados.

DEFINÍCIÓ: Ha sokszor elvégezzünk egy kísérletet, akkor megfigyelhetjük, hogy egy A esemény relatív gyakorisága egy szám körül ingadozik. Ezt a számot nevezzük **az A esemény valószínűségének**. Jele: $P(A)$.

DEFINÍCIÓ: A valószínűség kiszámításának klasszikus modelljét akkor alkalmazhatjuk, ha egy kísérletnek véges sok kimenetele van és ezek valószínűsége egyenlő. Ekkor az A esemény valószínűsége: $P(A) = \frac{\text{kedvező elemi események száma}}{\text{összes elemi esemény száma}}$.

A valószínűségszámítás axiómái:

- Tetszőleges A esemény esetén $0 \leq P(A) \leq 1$.
- Biztos esemény valószínűsége 1, lehetetlen eseményé 0.
- Ha A és B egymást kizáró események, akkor $P(A + B) = P(A) + P(B)$.
- Ha A és B tetszőleges esemény, akkor $P(A + B) = P(A) + P(B) - P(A \cdot B)$.
- $P(A) + P(\bar{A}) = 1$.

DEFINÍCIÓ: Az A esemény B -re vonatkozó **feltételes valószínűsége**: $P(A|B) = \frac{P(A \cdot B)}{P(B)}$.

Ez annak a valószínűsége, hogy az A esemény bekövetkezik, feltéve, hogy a B esemény bekövetkezik.

DEFINÍCIÓ: Az A és B események **egymástól függetlenek**, ha $P(A|B) = P(A)$.
Ekkor $P(A \cdot B) = P(A) \cdot P(B)$.

DEFINÍCIÓ: Ha egy esemény előfordulását geometriai alakzat (vonal, síkidom, test) mértékével jellemezzük, és az esemény bekövetkezésének valószínűségét ezek hányadosával fejezzük ki, akkor **geometriai valószínűségről** beszélünk.

VI. Diszkrét eloszlások

A kísérletek kimenetelei általában számokkal jellemezhetők. Ezekre a mennyiségekre jellemző, hogy értékük a véletlentől függ, és mindegyikük egy-egy eseményhez van hozzárendelve.

DEFINÍCIÓ: A **valószínűségi változó** az eseménytérén értelmezett valós értékű függvény. Jele: ξ .

DEFINÍCIÓ: Ha a valószínűségi változó lehetséges értékeinek száma véges vagy megszámlálhatóan végtelen, akkor **diszkrét valószínűségi változóról** beszélünk.

DEFINÍCIÓ: A visszatevés nélküli mintavétel eloszlását **hipergeometrikus eloszlásnak** nevezzük.

TÉTEL: Hipergeometrikus eloszlásnál legyen N db elemünk, amelyből M db elem rendelkezik egy adott A tulajdonsággal, $N - M$ db pedig nem. Kiválasztunk véletlenszerűen visszatevés nélkül n db-ot. Annak a valószínűsége, hogy a kihúzott n db elem közül k db rendelkezik az A tulajdonsággal:

$$P(\xi = k) = \frac{\binom{M}{k} \cdot \binom{N-M}{n-k}}{\binom{N}{n}}, \text{ ahol } k \leq n.$$

BIZONYÍTÁS: A kérdés az, hogy mennyi a valószínűsége annak, hogy a kihúzott n db elem között k db A tulajdonságú elem van.

A kombinatorikában tanultak szerint a kedvező esetek száma $\binom{M}{k} \cdot \binom{N-M}{n-k}$, mert M db-ből kell k db-ot kiválasztani, amit $\binom{M}{k}$ -féleképpen tehetünk meg, és a maradék $N-M$ db-ből $n-k$ db-ot kell kiválasztanunk, amit $\binom{N-M}{n-k}$ -féleképpen tehetünk meg.

Az összes esetek száma: $\binom{N}{n}$, mert N db-ből kell n db-ot választani.

Ezt felhasználva kapjuk:
$$P(\xi = k) = \frac{\binom{M}{k} \cdot \binom{N-M}{n-k}}{\binom{N}{n}}.$$

TÉTEL: A hipergeometrikus eloszlás esetén az A tulajdonságú elemek számának várható értéke:

$$M(\xi) = n \cdot p = n \cdot \frac{M}{N}$$

VII. Alkalmazások

Kiválasztási problémák:

- Hányféleképpen lehet kitölteni egy lottószelvényt?
- Egy n elemű halmaznak hány darab k elemű részhalmaza van?

Binomiális együtthatók, Pascal-háromszög:

- A **Galton**-deszka egy olyan egyenlő szárú háromszög alakú szerkezet, amelyben úgy vannak elhelyezve akadályok és útvonalak, hogy minden akadálnál egyenlő eséllyel (0,5) térhet el jobbra, illetve balra a lefele guruló golyó. A golyó a Galton-deszka egyes rekeszeibe a Pascal-háromszögben szereplő binomiális együtthatók alapján érkezik.

Klasszikus valószínűségi modell:

- Szerencsejátékok esetén a nyerési esély megállapítása.
- Mekkora a valószínűsége annak, hogy az ötös lottón, a hatos lottón telitalálatos szelvényünk lesz?

Matematikatörténeti vonatkozások:

- A Pascal-háromszöghöz hasonló háromszöget alkotott **Csu Si-csie** a XII. századi Kínában, hasonló háromszögeket készítettek indiai, perzsa, itáliai matematikusok.
- **Pascal** (1623–1662) francia matematikus a binomiális együtthatókat tanulmányozva módszerrel adta ki a kiszámításukat, és megalkotta a Pascal-háromszöget.
- Először **Leibniz** (1646–1716) német matematikus rendszerezte a kombinatorikai ismereteket.
- **Bernoulli** (1654–1705) svájci matematikus alkalmazta először a kombinatorikai ismereteket valószínűség kiszámítására, ezzel jelentősen hozzájárult a valószínűség-elmélet kifejlesztéséhez.

24. Permutációk, variációk. A binomiális eloszlás. A valószínűség kiszámításának geometriai modellje

Vázlat:

- I. Permutációk
- II. Variációk
- III. A valószínűség számítás alapjai
- IV. A binomiális eloszlás
- V. A valószínűség kiszámításának geometriai modellje
- VI. Alkalmazások, matematikatörténeti vonatkozások

Kidolgozás:

A **kombinatorika**, a valószínűség számítás és a matematikai statisztika a véletlen tömegjelenségek törvényszerűségével foglalkozik. A kombinatorika tárgyát képezik a sorba rendezési és a részhalmoz-kiválasztási problémák, a kombinatorika rendszerint dolgok megszámlálásával foglalkozik.

I. Permutációk

DEFINÍCIÓ: Egy adott n elemű halmaz elemeinek egy **ismétlés nélküli permutációján** az n különböző elem egy sorba rendezését (sorrendjét) értjük.

TÉTEL: Egy n elemű halmaz **ismétlés nélküli összes permutációjának száma:**

$$n \cdot (n - 1) \cdot (n - 2) \cdot \dots \cdot 2 \cdot 1 = n!.$$

DEFINÍCIÓ: Ha az n elem között van k_1, k_2, \dots, k_m egymással megegyező, akkor az elemek egy sorba rendezését **ismétléses permutációnak** nevezzük.

TÉTEL: Ha n elem között k_1, k_2, \dots, k_m db megegyező van, és $k + k_2 + \dots + k_m = n$, akkor ezeket az elemeket $\frac{n!}{k_1! \cdot k_2! \cdot \dots \cdot k_m!}$ különböző módon lehet sorba rendezni, ez az **ismétléses permutációk száma**.

II. Variációk

DEFINÍCIÓ: Legyen n db egymástól különböző elemünk. Ha ezekből k ($k \leq n$) db-ot kiválasztunk minden lehetséges módon úgy, hogy a kiválasztott elemek sorrendje is számít, akkor az n elem k -ad osztályú **ismétlés nélküli variációját** kapjuk.

TÉTEL: Az n elem k -ad osztályú **ismétlés nélküli variációk száma:** $\frac{n!}{(n-k)!}$.

BIZONYÍTÁS: Vegyünk egy k rekeszes dobozt. Ebben helyezzünk el az n elem közül k db elemet minden lehetséges módon.

Az első rekeszbe az n elem bármelyike tehető. A második rekeszbe már csak $(n - 1)$ elem közül választhatunk. Ez $(n - 1)$ -féle kitöltést ad a 2. rekesz számára. Az első két rekeszbe $n(n - 1)$ -féleképpen tehető az elemek. Minden rekeszbe 1-gyel kevesebb elem közül vá-

laszthatunk, mint az előzőbe. A k -adik rekeszbe $n - (k - 1) = n - k + 1$ elem közül választ-hatunk.

A doboz teljes kitöltésére összesen $n \cdot (n - 1) \cdot \dots \cdot (n - k + 1)$ lehetőség adódik. Ha az ered-ményt $(n - k)!$ -ral bővítjük, akkor

$$n \cdot (n - 1) \cdot \dots \cdot (n - k + 1) = \frac{n \cdot (n - 1) \cdot \dots \cdot (n - k + 1) \cdot (n - k) \cdot (n - k - 1) \cdot \dots \cdot 2 \cdot 1}{(n - k)!} = \frac{n!}{(n - k)!}$$

DEFINÍCIÓ: Legyen n db egymástól különböző elemünk. Ha ezekből kiválasztunk k db-ot minden lehetséges módon úgy, hogy a kiválasztott elemek sorrendje is számít és ugyanazt az elemet többször is választhatjuk, akkor az n elem k -ad osztályú **ismétléses variációját** kapjuk.

TÉTEL: Az n elem k -ad osztályú ismétléses variációk száma: n^k .

III. A valószínűségszámítás alapjai

A valószínűségszámítás a véletlen tömegjelenségek bekövetkezésének esélyének vizsgálatával fog-lalkozik.

DEFINÍCIÓ: Véletlen jelenségnek nevezzük azokat a jelenségeket, amelyeket a leírható körülmé-nyek nem határoznak meg egyértelműen.
Pl. egy dobókocka feldobása.

DEFINÍCIÓ: Kísérletnek nevezzük a véletlen jelenség megfigyelését.

DEFINÍCIÓ: Elemi eseménynek nevezzük a kísérlet során bekövetkező lehetséges kimeneteleket.
Pl. a kocka dobása esetén azt, hogy hányas számot dobunk.

DEFINÍCIÓ: Az eseménytér az elemi események halmaza.
Pl. a kocka dobása esetén $\{1; 2; 3; 4; 5; 6\}$.

DEFINÍCIÓ: Az elemi események egy halmazát, azaz az eseménytér egy részhalmazát eseménynek nevezzük.
Pl. kockadobáskor esemény a páros szám dobása.
Az eseményeket nagybetűvel jelöljük. Pl. $A = \{2; 4; 6\}$

DEFINÍCIÓ: Az eseménytérhez tartozó azon esemény, amely biztosan bekövetkezik, a biztos ese-mény, amely semmiképpen sem következhet be, a **lehetetlen esemény**.
A biztos esemény jele: H , a lehetetlen esemény jele: \emptyset .
Pl. a kockadobás esetén biztos esemény: 7-nél kisebb számot dobunk, lehetetlen esemény: 8-nál nagyobbat dobunk.

DEFINÍCIÓ: Ha elvégzünk n -szer egy kísérletet, és ebből az A esemény k -szor következik be, akkor az A esemény relatív gyakorisága a $\frac{k}{n}$ hányados.

DEFINÍCIÓ: Ha sokszor elvégzünk egy kísérletet, akkor megfigyelhetjük, hogy egy A esemény relatív gyakorisága egy szám körül ingadozik. Ezt a számot nevezzük az A esemény való-színűségének. Jele: $P(A)$.

DEFINÍCIÓ: A valószínűség kiszámításának klasszikus modelljét akkor alkalmazhatjuk, ha egy kísérletnek véges sok kimenetele van és ezek valószínűsége egyenlő. Ekkor az A esemény valószínűsége: $P(A) = \frac{\text{kedvező elemi események száma}}{\text{összes elemi esemény száma}}$.

A valószínűségszámítás axiómái:

- Tetszőleges A esemény esetén $0 \leq P(A) \leq 1$.
- Biztos esemény valószínűsége 1, lehetetlen eseményé 0.
- Ha A és B egymást kizáró események, akkor $P(A + B) = P(A) + P(B)$.
- Ha A és B tetszőleges esemény, akkor $P(A + B) = P(A) + P(B) - P(A \cdot B)$.
- $P(A) + P(\bar{A}) = 1$.

DEFINÍCIÓ: Az A esemény B -re vonatkozó **feltételes valószínűsége**: $P(A|B) = \frac{P(A \cdot B)}{P(B)}$.

Ez annak a valószínűsége, hogy az A esemény bekövetkezik, feltéve, hogy a B esemény bekövetkezik.

DEFINÍCIÓ: Az A és B események **egymástól függetlenek**, ha $P(A|B) = P(A)$.

Ekkor $P(A \cdot B) = P(A) \cdot P(B)$.

IV. Diszkrét eloszlások

A kísérletek kimenetelei általában számokkal jellemezhetők. Ezekre a mennyiségekre jellemző, hogy értékük a véletlentől függ, és mindegyikük egy-egy eseményhez van hozzárendelve.

DEFINÍCIÓ: A **valószínűségi változó** az eseménytéren értelmezett valós értékű függvény. Jele: ξ .

DEFINÍCIÓ: Ha a valószínűségi változó lehetséges értékeinek száma véges vagy megszámlálhatóan végtelen, akkor **diszkrét valószínűségi változóról** beszélünk.

DEFINÍCIÓ: A **binomiális eloszlás** olyan kísérletnél fordul elő, amelynek csak két kimenetele lehetséges: az A esemény p valószínűséggel bekövetkezik, vagy $1 - p$ valószínűséggel nem következik be.

TÉTEL: Binomiális eloszlás esetén ha a kísérletet n -szer ismétljük, akkor annak valószínűsége, hogy az A esemény k -szor következik be, éppen

$$P(\xi = k) = \binom{n}{k} \cdot p^k \cdot (1-p)^{n-k}, \text{ ahol } k \leq n.$$

(Binomiális eloszlásra vezetnek a visszatevéses mintavétel esetei, ahol n elem közül p valószínűséggel választunk valamilyen tulajdonsággal rendelkezőt oly módon, hogy a kivett elemet az újabb húzás előtt visszatesszük.)

BIZONYÍTÁS: Tegyük fel, hogy a visszatevéses mintavételek során N db elem közül választunk ki n db-ot. Legyen M db elem A tulajdonságú, $N - M$ db elem \bar{A} tulajdonságú.

A visszatevéses mintavétel azt jelenti, hogy minden egyes húzás után visszatesszük a kihúzott elemet, így a húzások egymástól függetlenek lesznek. A kérdés az, hogy mennyi a valószínűsége annak, hogy a kihúzott n db elem között k db A tulajdonságú elem van.

A kombinatorikában tanultak szerint a kedvező esetek száma $\binom{n}{k} \cdot M^k \cdot (N - M)^{n-k}$, mert

k -szor kell M db golyóból választanunk, $n - k$ -szor kell $N - M$ db golyó közül, és ez $\binom{n}{k}$ -

féleképpen fordulhat elő aszerint, hogy hányadik húzás az A tulajdonságú.

Az összes esetek száma N^n , mert n -szer húzunk N elemből.

Így

$$P = \frac{\binom{n}{k} \cdot M^k \cdot (N - M)^{n-k}}{N^n} = \binom{n}{k} \cdot \frac{M^k}{N^k} \cdot \frac{(N - M)^{n-k}}{N^{n-k}} = \binom{n}{k} \cdot \left(\frac{M}{N}\right)^k \cdot \left(\frac{N - M}{N}\right)^{n-k}.$$

Tudjuk, hogy annak az esélye, hogy A tulajdonságút húzunk: $P(A) = \frac{M}{N} = p$, hogy nem

A tulajdonságút húzunk: $P(\bar{A}) = 1 - p = 1 - \frac{M}{N} = \frac{N - M}{N}$.

Ezt felhasználva kapjuk: $P(\xi = k) = \binom{n}{k} \cdot p^k \cdot (1 - p)^{n-k}$.

TÉTEL: A binomiális eloszlás esetén az A tulajdonságú elemek számának várható értéke:

$$M(\xi) = n \cdot p = n \cdot \frac{M}{N}$$

V. A valószínűség kiszámításának geometriai modellje

Adott egy pontok alkotta geometriai alakzat. Ekkor elemi eseménynek az adott ponthalmazból az egyik pont kiválasztása, vagyis az elemi eseménynek pontokat feleltetünk meg. Egy esemény azt jelenti, hogy a kiválasztott pont beletartozik egy bizonyos kijelölt részponthalmazba, résztartományba, vagyis az események ponthalmazok, tartományok. Ekkor az eseménytér egy geometriai alakzat, az esemény ezen pontok egy bizonyos tulajdonsággal rendelkező részhalmaza, az elemi esemény a geometriai alakzat egy pontja.

DEFINÍCIÓ: Ha az esemény bekövetkezésének valószínűsége arányos a részhalmaz mértékszámával, akkor geometriai valószínűségről beszélünk.

Ekkor az A esemény valószínűsége:

$$P(A) = \frac{\text{az } A \text{ eseménynek megfelelő részalakzat mértéke}}{\text{a kísérlettel kapcsolatos teljes alakzat mértéke}} = \frac{m}{M}$$

Ekkor a mérték lehet pl. hosszúság, terület, térfogat.

Példák:

- egy adott méretű dartstáblán egy bizonyos részbe eső találat valószínűsége
- két ember találkozásának valószínűsége egy bizonyos órában, ha egyikük sem vár 15 percnél többet
- meteor szárazföldre való becsapódásának valószínűsége

VI. Alkalmazások

Sorbarendezési problémák:

- Hányféleképpen lehet kitölteni egy totószelvényt?
- Sorsolások, versenyek eredményei sorrendjének lehetőségei

Binomiális eloszlás:

- Meteorológiai előrejelzés
- Szerencsejátékok esetén a nyerési esély megállapítása: mekkora a valószínűsége annak, hogy a totón telitalálatos szelvényünk lesz?
- Mintavételek a minőség-ellenőrzés során: a gyártósorokon elkészült termékek közül a selejtek számának közelítő meghatározása várható érték segítségével
- A Galton-deszka egy függőleges, egyenlő szárú háromszög alakú szerkezet, amelyben úgy vannak elhelyezve akadályok és útvonalak, hogy a lefelé guruló golyó minden akadálnál egyenlő eséllyel ($\frac{1}{2}$ valószínűséggel) vagy balra, vagy jobbra térhet ki. A továbbgördülő golyó a következő szinten újabb akadályba ütközik, ahol szintén balra vagy jobbra térhet ki, és így tovább, egészen addig, amíg az utolsó akadály utáni legalsó sorban meg nem áll. Ha a Galton-deszka n sorban tartalmaz akadályokat, az első sorban 1, a második sorban 2, ..., az n -edik sorban n db akadályt tartalmaz. Így az utolsó sorba $n + 1$ lehetséges helyre ér-

kezhet a golyó. Annak a valószínűsége, hogy az utolsó sorban a balról számított k -adik

$$(k = 0, 1, 2, \dots, n) \text{ rekeszben áll meg a golyó: } P = \binom{n}{k} \left(\frac{1}{2}\right)^k \cdot \left(\frac{1}{2}\right)^{n-k} = \binom{n}{k} \left(\frac{1}{2}\right)^n.$$

Geometriai eloszlás:

- Kvantumfizikában a részecske helyének meghatározása: azt lehet megmondani a részecske sebességétől függően, hogy hol tartózkodik legnagyobb valószínűséggel a részecske.

Matematikatörténeti vonatkozások:

- Az első ismert valószínűségszámítási feladat az 1400-as évekből Itáliából származik.
- **Pascal** (1623–1662) francia matematikus a binomiális együtthatókat tanulmányozva módszerrel adott a kiszámításukra, a valószínűségszámítás egyik megalapozója volt.
- Először **Leibniz** (1646–1716) német matematikus rendszerezte a kombinatorikai ismereteket, sokat foglalkozott az elemek sorbarendezésével, szimbólumokkal írta le a folyamatokat.
- **Bernoulli** (1654–1705) svájci matematikus alkalmazta először a kombinatorikai ismereteket valószínűség kiszámítására, jelentősen hozzájárult a valószínűségelmélet kifejlesztéséhez. Kidolgozta a valószínűségszámítás kombinatorikus modelljét. Két testvére és édesapja is matematikus volt.
- **Buffon** (1707–1788) francia természettudós tűproblémájával bevezette a geometriai valószínűség fogalmát.
- A valószínűségszámítással a XIX. század végén több orosz matematikus is foglalkozott: többek között **Csebisev** (1821–1894), **Markov** (1856–1922), **Kolmogorov** (1903–1987).
- A valószínűségszámítás legfiatalabb ága, amely a számítógépek területén kapott alkalmazást, az információelmélet, melynek megalapozója **Shannon** (1916–2001) amerikai matematikus.

25. Bizonyítási módszerek és bemutatásuk tételek bizonyításában

Vázlat:

- I. Bizonyítások a matematikában
- II. Direkt bizonyítás
- III. Indirekt bizonyítás
- IV. Teljes indukció
- V. Skatulyaelv
- VI. Alkalmazások

Kidolgozás

I. Bizonyítások a matematikában

A matematika különböző ágai hasonlóan épülnek fel. Meghatározunk **alapfogalmakat**, majd ezek segítségével további **fogalmakat** definiálunk. Kimondunk **alaptételeket** (axiómákat), amelyek igazságtartalmát bizonyítás nélkül, a szemlélet alapján elfogadjuk. Az axiómákból elindulva a matematikai logika eszközeivel, helyes következtéseken keresztül további **tételeket** bizonyítunk be. A bizonyítás olyan eljárási mód egy állítás helyességének indoklására, amely során a matematikai logika műveleteit használjuk fel. A matematikai tételek általában implikációk vagy ekvivalenciák. Az implikációk bizonyítása során a feltételből helyes matematikai következtetésekkel kell eljutni a következményhez. Bizonyítás közben a definíciókat, axiómákat, és a már bizonyított tételeket használhatjuk fel. Így belátjuk, hogy a feltétel valóban elégséges feltétele a következménynek. Ekvivalenciák bizonyítása során két implikációt bizonyítunk be: be kell látni, hogy mindkét állításból következik a másik.

II. Direkt bizonyítás

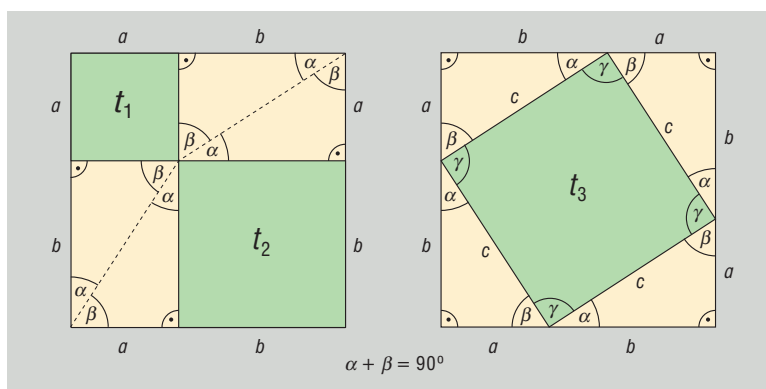
DEFINÍCIÓ: A direkt bizonyítás során igaz állításokból (a feltételekből) kiindulva matematikailag helyes következtetésekkel jutunk el a bizonyítandó állításhoz. A legtöbb matematikai tétel (geometriai, algebrai) bizonyítása direkt úton történik.

TÉTEL: Pitagorasz-tétel: derékszögű háromszögben a befogók négyzetének összege egyenlő az átfogó négyzetével.

BIZONYÍTÁS: (részletesen lásd a 12. tételben)

$$a^2 + b^2 + 4t = c^2 + 4t$$

$$a^2 + b^2 = c^2.$$



III. Indirekt bizonyítás

DEFINÍCIÓ: Az indirekt bizonyítás olyan eljárás, melynek során feltesszük, hogy a bizonyítandó állítás nem igaz, és ebből kiindulva helyes következtetésekkel lehetetlen következményekhez jutunk el. Így a kiinduló feltevés volt téves, vagyis a bizonyítandó állítás valójában igaz.

Ha egy állítás ellenkezőjéről (tagadásáról) helyes gondolatmenettel belátjuk, hogy hamis (ellentmondásra vezet), akkor a kijelentés ellentétének ellentéte, azaz maga az állítás igaz.

Az indirekt módszer két logikai törvényen alapul:

- Minden kijelentés igaz, vagy hamis.
- Egy igaz állítás tagadása hamis, és fordítva, hamis kijelentés tagadása igaz.

Indirekt bizonyítási módot akkor érdemes választani, ha az állítás tagadása könnyebben kezelhető, mint maga az állítás.

TÉTEL: Pitagorasz-tétel megfordítása: ha egy háromszög két oldalhosszának négyzetének összege egyenlő a harmadik oldal négyzetével, akkor a háromszög derékszögű.

BIZONYÍTÁS: (részletesen lásd a 12. tételben)

Tudjuk, hogy $a^2 + b^2 = c^2$.

Tegyük fel, hogy a háromszög nem derékszögű. Ekkor tudunk szerkeszteni olyan derékszögű háromszöget, amelynek a befogói a és b , átfogója legyen c' . Mivel ez derékszögű háromszög, a Pitagorasz-tétel miatt: $a^2 + b^2 = (c')^2$. Az eredeti feltétellel összevetve $c^2 = (c')^2$, amiből pozitív mennyiségekről lévén szó, következik, hogy $c = c'$.

Ez ellentmond a kiinduló feltételnek, így a háromszög derékszögű.

TÉTEL: $\sqrt{2}$ irracionális

BIZONYÍTÁS: (részletesen lásd a 2. tételben)

Tegyük fel, hogy $\sqrt{2}$ racionális:

$$\sqrt{2} = \frac{p}{q} \quad (\text{ahol } p, q \in \mathbb{Z}, (p, q) = 1) \quad |()^2$$

$$2 = \frac{p^2}{q^2} \Rightarrow 2q^2 = p^2$$

A négyzetszámokban minden prímtényező páros sokszor fordul elő, ebből következik, hogy a bal oldalon páratlan sok db 2-es van, a jobb oldalon páros sok db 2-es van. A számelmélet alaptétele miatt ez nem lehet, mert egy szám csak egyféleképpen bontható fel prímszámok szorzatára. Mivel ez ellentmondás, rossz volt a feltevés, vagyis $\sqrt{2}$ irracionális.

IV. Bizonyítás teljes indukcióval

DEFINÍCIÓ: A teljes indukció olyan állítások bizonyítására alkalmas, melyek n pozitív egész számtól függenek. A teljes indukciós eljárás során először bebizonyítjuk az állítást $n = 1$ -re (vagy valamilyen konkrét értékre), majd feltételezzük, hogy az állítás igaz $n = k$ -ra (indukciós feltevés), és ennek felhasználásával bebizonyítjuk, hogy az állítás igaz $n = (k + 1)$ -re. Ezzel az állítást minden n pozitív egész számra belátjuk.

A teljes indukciót gyakran hasonlítják egy olyan végtelen sok dominóból álló sorhoz, amelyben azt tudjuk, hogy ha bármelyik dominó feldől, akkor feldönti a sorban utána következőt is. Ez azt jelenti, hogy ha meglökjük az első dominót, akkor az összes fel fog borulni.

A teljes indukciós bizonyítást egész számokkal kapcsolatos problémák, oszthatósági szabályok megoldására, tételek bizonyítására használhatjuk.

TÉTEL: Az első n pozitív egész szám összege: $\frac{n \cdot (n+1)}{2}$.

BIZONYÍTÁS:

$$n = 1$$

$$\left. \begin{array}{l} 1 \\ \frac{1 \cdot 2}{2} = 1 \end{array} \right\} =$$

$$n = 2$$

$$\left. \begin{array}{l} 1 + 2 = 3 \\ \frac{2 \cdot 3}{2} = 3 \end{array} \right\} =$$

Tegyük fel, hogy $n = k$ -ra igaz, tehát $1 + 2 + \dots + k = \frac{k \cdot (k+1)}{2}$.

Bizonyítani kell: $1 + 2 + \dots + k + (k+1) = \frac{(k+1) \cdot (k+2)}{2}$.

$$1 + 2 + \dots + k + (k+1) = \frac{k \cdot (k+1)}{2} + (k+1) = (k+1) \cdot \left(\frac{k}{2} + 1\right) = (k+1) \cdot \frac{(k+2)}{2} = \frac{(k+1) \cdot (k+2)}{2}.$$

Vagyis az állítás teljesül.

TÉTEL: Az első n pozitív páratlan szám összege: $1 + 3 + 5 + \dots + (2n-1) = n^2$.

BIZONYÍTÁS:

$$n = 1$$

Ekkor a bal oldalon csak egy tagja van az összeadásnak, az 1, a jobb oldalon pedig $1^2 = 1$ áll, így igaz az állítás.

Tegyük fel, hogy $n = k$ -ra igaz, tehát $1 + 3 + 5 + \dots + (2k-1) = k^2$.

Bizonyítani kell: $1 + 3 + 5 + \dots + (2k-1) + (2k+1) = (k+1)^2$.

$1 + 3 + 5 + \dots + (2k-1) + (2k+1) = k^2 + (2k+1) = (k+1)^2$.
Vagyis az állítás teljesül.

TÉTEL: Az első n pozitív egész szám négyzetének összege: $\frac{n(n+1)(2n+1)}{6}$.

BIZONYÍTÁS:

$$n = 1$$

$$\left. \begin{array}{l} 1^2 = 1 \\ \frac{1 \cdot 2 \cdot 3}{6} = 1 \end{array} \right\} =$$

$$n = 2$$

$$\left. \begin{array}{l} 1^2 + 2^2 = 5 \\ \frac{2 \cdot 3 \cdot 5}{6} = 5 \end{array} \right\} =$$

Tegyük fel, hogy $n = k$ -ra igaz, tehát $1^2 + 2^2 + 3^2 + \dots + k^2 = \frac{k \cdot (k+1) \cdot (2k+1)}{6}$.

Be kellene látni, hogy $1^2 + 2^2 + 3^2 + \dots + k^2 + (k+1)^2 = \frac{(k+1) \cdot (k+2) \cdot (2k+3)}{6}$.

$$1^2 + 2^2 + 3^2 + \dots + k^2 + (k+1)^2 = \frac{k \cdot (k+1) \cdot (2k+1)}{6} + (k+1)^2 =$$

$$\begin{aligned}
 &= (k+1) \cdot \frac{k \cdot (2k+1) + 6 \cdot (k+1)}{6} = (k+1) \cdot \frac{2k^2 + k + 6k + 6}{6} = \frac{(k+1) \cdot (2k^2 + 7k + 6)}{6} = \\
 &= \frac{(k+1) \cdot (2k+3) \cdot (k+2)}{6}.
 \end{aligned}$$

Vagyis az állítás teljesül.

V. Bizonyítás skatulyaelvel

TÉTEL: Skatulyaelv: a skatulyaelv értelmében ha n skatulyába kell n -nél több elemet szétosztani, akkor a skatulyák valamelyikébe szükségképpen legalább 2 elem kerül. Ha n skatulyába $k \cdot n$ -nél több elemet kell szétosztani, akkor a skatulyák valamelyikébe legalább $k+1$ elem kerül ($n, k \in \mathbb{Z}^+$).

BIZONYÍTÁS: Indirekt módon: ha az elv nem igaz, akkor minden skatulyába legfeljebb 1 elem kerül. Ekkor legfeljebb annyi elem van, ahány skatulya. Ez ellentmondás, mert az elemek száma a skatulyák számánál több.

Az elv végtelen halmazokra is alkalmazható, csak ilyenkor elemszám helyett számosságot kell használni.

Skatulyaelvvel általában oszthatósági problémákat, csoportosítással kapcsolatos feladatokat oldhatunk meg.

TÉTEL: Ha adott $n+1$ darab pozitív egész szám, akkor ezek között biztosan van kettő olyan, amelyek különbsége osztható n -nel.

BIZONYÍTÁS: Készítsünk n db skatulyát, felcímkézve őket $0, 1, \dots, (n-1)$ -ig. A számokat aszerint helyezük el az n db skatulyában, hogy mennyi maradékot adnak n -nel osztva. Ekkor biztosan van olyan skatulya, amelybe legalább 2 szám kerül, hiszen $n+1$ számot kell n skatulyába szétosztani. Ennek a két számnak a különbsége biztosan osztható lesz n -nel.

Speciálisan: bizonyítsuk be, hogy öt pozitív egész szám között biztosan van kettő, amelyek különbsége osztható négyvel.

FELADAT: Bizonyítsuk be, hogy egy 37 fős társaságban biztosan van 4 olyan ember, akik ugyanabban a csillagjegyben születtek.

BIZONYÍTÁS: 36 főnél előfordulhat az, hogy minden csillagjegyhez csak 3 ember tartozik, de a 37. ember biztosan valamelyik csillagjegynél a negyedik lesz.

VI. Alkalmazások

Direkt bizonyítás:

- $a \mid b$ és $a \mid c \Rightarrow a \mid b \pm c$
- $9 \mid a \Leftrightarrow$ számjegyek összege osztható 9-cel

Indirekt bizonyítás:

- Végtelen sok prímszám van

Skatulyaelv:

- 25 fős társaságban biztosan van 3 fő, akik azonos csillagjegyben születtek
- 5 pozitív egész szám között van 2, melyek különbsége osztható 4-gyel

Teljes indukció:

$$\bullet \frac{1}{1 \cdot 2} + \frac{1}{2 \cdot 3} + \dots + \frac{1}{n \cdot (n+1)} = \frac{n}{n+1}$$

Matematikatörténeti vonatkozások:

- Az ókori Egyiptomban, Mezopotámiában, Kínában, Indiában a matematika gyakorlati jellegű volt: lehetővé tette a pontos idő- és helymeghatározást, az adószedéssel és a közmunkákkal kapcsolatos számításokat. Nem jegyezték fel, hogyan jöttek rá a matematikai igazságokra, módszerekre, csak rögzítették a módszereket, eljárásokat.
- A Kr. e. VII–VI. században keletkezett a matematika mint tudomány: ekkor már igény volt az okok kutatására.
- A legkorábbi görög matematikai mű **Hippokratész** Kr. e. 450 körül született félholdacskákkal foglalkozó munkája. Ez a mű megmutatja, hogy a görögöknél olyan fejlett volt a geometria, hogy egy állítást már bizonyított tényekkel kellett igazolni. A tételeket logikai úton, más tételekből vezették le. Ez a módszer alapigazságokra, axiómákra épült, ezeket a természetből absztrahálták.
- Kr. e. 300 körül **Euklidész** megalkotta a geometria axiómarendszerét, bevezette a deduktív (levezető) bizonyításmódot. Tőle származik a $\sqrt{2}$ irracionális tétel előbb ismertett indirekt bizonyítása.
- A teljes indukció első írásos emléke 1575-ből származik: Ekkor bizonyította be a fenti módon **Maurolico** olasz matematikus az első n páratlan szám összegére vonatkozó tételt.
- A skatulyaelvet **Dirichlet** (1805–1859) francia matematikus bizonyította be a fenti módon.

Minden jog fenntartva, beleértve a sokszorosítás, a mű bővített, illetve rövidített változata kiadásának jogát is. A kiadó írásbeli hozzájárulása nélkül sem a teljes mű, sem annak része semmiféle formában nem sokszorosítható.

Copyright Mozaik Kiadó, 2025

Kiadja a Mozaik Kiadó, Szeged • Telefon: (62) 470-101, (62) 554-660
E-mail: kiado@mozaik.info.hu • Honlap: www.mozaik.info.hu • Felelős kiadó: Török Zoltán